

桃園市立大有國民中學 107 學年度第二學期第三次評量試卷

年級	八年級	考試科目	地理			命題範圍	第二篇第2課 第二篇第3課	作答時間	45分
班級		姓名		座號		分數			

單選題(每題 2.5 分，共 40 題)

1. 我國的超馬好手 - 林義傑將前往南亞地區參加馬拉松比賽，其比賽路徑沿途將經過三個不同的地形區，依照先後次序為高原→平原→高山。請根據此敘述推判，林義傑選手的前進路徑方向應為下列何者？

- (A)由北向南 (B)由東向西 (C)由南向北 (D)由西向東

2. 有人形容馬爾地夫是上帝抖落的一串珍珠，以優美的海景風光吸引不少觀光客前來造訪。請問若依照島嶼成因來區分，下列四位對於馬爾地夫的形成，何者的說法最正確？

- (A)小育：由沙洲堆積而成 (B)阿偉：由丘陵沉水所形成 (C)小潔：由火山噴發所形成 (D)大明：由珊瑚礁所形成

3.CNN 報導指出：『每年的乾季時期，印度教徒有個別具特色的祈雨儀式，會將僧侶下全身埋入沙中直到降下甘霖。希望能藉此解除連續幾個月乾燥炎熱的景象。若想看到此種宗教儀式，必須在何時造訪印度？』(A)1~2 月 (B)3~5 月 (C)6~10 月 (D)11~2 月

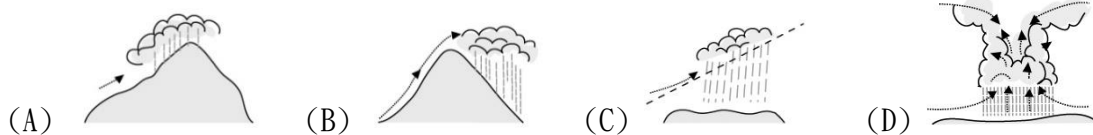
4.承上題，印度半島的降雨主要是受到何種季風風向的影響？(A)東北季風 (B)西南季風 (C)東南季風 (D)西北季風

5.阿勇整理了中南半島與南洋群島兩大地區的資料要做一番比較，但不小心抄錯了一小段。試問：在下列表格的敘述內容當中何者有誤？

- (A)甲 (B)乙 (C)丙 (D)丁

	甲、地形	乙、氣候	丙、主要宗教信仰	丁、農作生產
中南半島	北高南低	熱帶雨林	佛教	多種植稻米
南洋群島	多火山	熱帶季風	伊斯蘭教	熱帶栽培業

6. 印度東北部的乞拉朋吉是世界年雨量最豐沛的地區，此區的降雨類型應為下列何者？



7. 印度電影『貧民百萬富翁』看出印度仍普遍存在著貧富差距與教育資源分布不均的現象，全國有將近四億的貧民對印度的經濟造成很大的負擔。請問：印度會有如此現象曾與下列何者關係密切？

- (A)種族族系複雜 (B)階級制度嚴明 (C)宗教派別對立 (D)印巴對峙結果

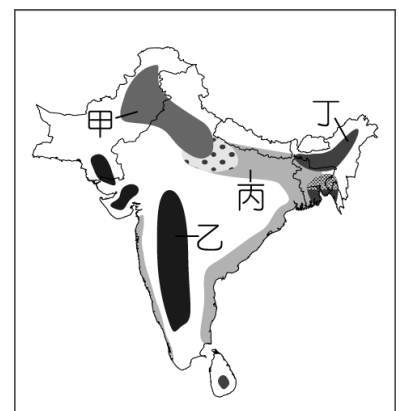
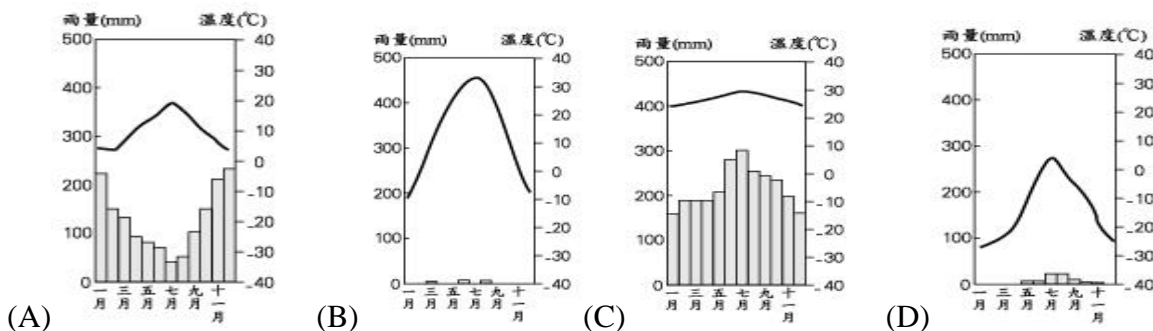
8. 長久以來，東南亞一直是歐美強權的殖民地，也因此造成了東南亞文化滿是殖民色彩。請問：下列哪一個東南亞人文特徵與其殖民歷史較無關連？(A)人口密度高 (B)礦產輸出興盛 (C)多港埠型都市 (D)熱帶栽培業發達

9.印度的邦加羅爾向來有「印度矽谷」之稱，而當地之所以能吸引高科技工業來此投資的主要優勢為下列幾項？

- (甲)海運交通方便、(乙)英語人口眾多、(丙)能源礦產豐富、(丁)科技人員薪資低廉。(A)一項(B)二項(C)三項(D)四項

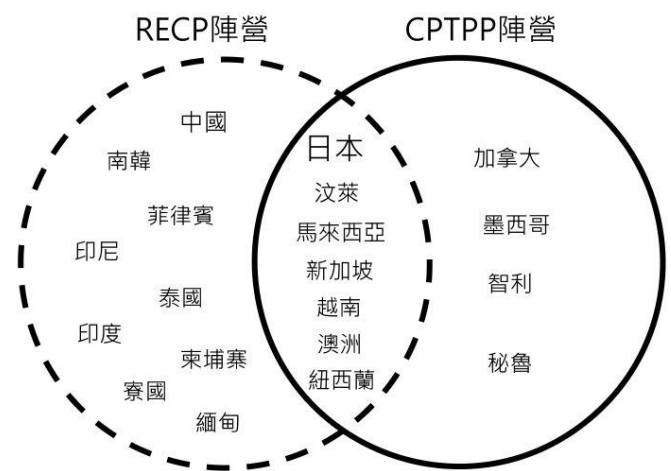
10.右圖的哪一地區最可能是南亞棉花的主要產區？(A)甲 (B)乙 (C)丙 (D)丁。

11. 下列哪一種氣候為發展熱帶栽培業最主要的氣候類型？



12.承上題，該地區適合發展熱帶栽培業的主要因素，不包括下列何者？(A)海運便利 (B)氣候溼熱 (C)勞力充足 (D)資金充裕

【題組】亞洲近年經濟版圖角力不斷，兩個新興起的跨國區域組織互相競爭，右圖為兩大陣營的會員國示意圖，一者是由日本主導的CPTPP(跨太平洋夥伴全面進展協定，實線圓圈內國家)，以及東協國家為主的 RECP(區域全面經濟夥伴協定，虛線圓圈內國家)，兩大陣營有些國家壁壘分明，有些則腳踏兩條船(虛線與實線圓圈重疊部分)，各國都期望獲得最大的經濟利益，請參考右圖回答下列問題



13.針對 RECP 與 CPTPP 兩大經濟組織的描述何者有誤？

- (A)兩者都有東北亞的國家加入 (B)兩者都有東南亞的國家加入
(C)RECP 有東亞的國家加入 (D)CPTPP 有南亞的國家加入

14. RECP 的發展源起 2005 年兩個國家展開貿易的合作，其中一個是亞洲四小龍之一，以位置優勢發展轉口貿易為經濟基礎，請問是哪個國家？(A)南韓 (B)泰國 (C)新加坡 (D)汶萊

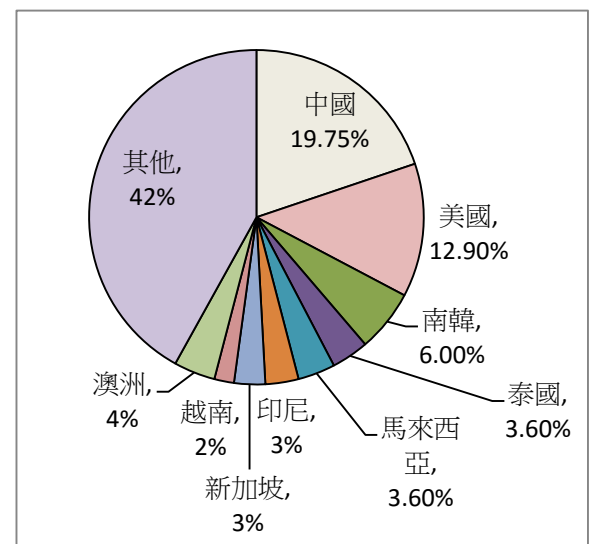
15.承上題，另一個國家以石油資源成為亞洲富有國家，請問是哪個國家？(A)汶萊 (B)緬甸 (C)寮國 (D)新加坡

16.「日本」在兩大經濟組織都扮演重要角色，請問日本有何經濟上的優勢？(A)勞力充足且低廉 (B)技術優越、資金多 (C)礦產能源豐富 (D)政府扶植大型財團

17.右圖是 2012 年日本主要貿易國家的貿易比重(%)，請依據右圖與兩大陣營會員國選出下列正確的敘述？

- (A)日本最大的貿易夥伴國家是美國 (B)因中國加入 RECP，對日本貿易成長較有幫助 (C)因中國加入 CPTPP，對日本貿易成長較有幫助 (D)兩者皆不加入對日本較有好處

18. 承上題，下表為日本由四個貿易國家輸入的產品，下列哪個國家輸入品項正確？



(A)南韓	石油、天然氣
(B)新加坡	高科技產品、文化娛樂
(C)泰國	鐵礦、茶葉
(D)馬來西亞	橡膠、石油

19.右方「表一」是 RECP 中「新加坡、柬埔寨、日本、印度」四個國家的人口數、GDP(國內生產總值)、人均 GDP 的資料表，請問哪個國家是日本？(A)甲 (B)乙 (C)丙 (D)丁

20.針對「表一」中「甲國」的敘述，何者有誤？

- (A)英語是官方語言 (B)人口數位居世界第二
(C)宗教戒律不吃豬 (D)電影工業發達

21.右下方「圖一」是某國的人口金字塔圖，請問可能是右側「表一」中哪個國家？(A)甲 (B)乙 (C)丁 (D)戊

國家	人口數 (百萬人)	GDP (百億美元)	人均 GDP (美元)
甲	1360	259	1820
乙	126	487	38550
丙	5.6	36	64041
丁	16.4	2.4	1390
台灣	23.5	60	25447

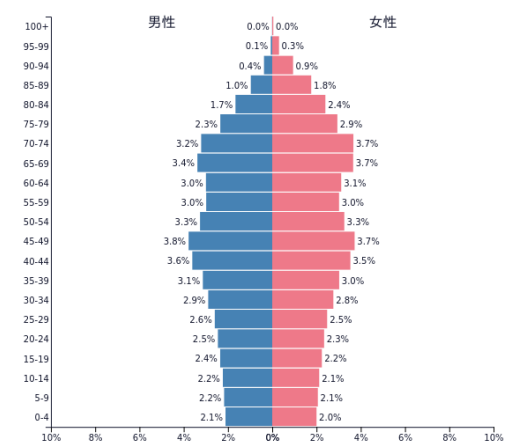
《表一》

22.台灣受到許多阻力無法加入兩大組織，但政府積極推動新南向政策，許多台商企業紛紛前往東南亞投資，請問某台商欲前往東南亞人口最多、島嶼最多的國家投資，請問針對此國描述何者有誤？

- (A)盛產石油與天然氣 (B)主要信奉伊斯蘭教 (C)夏雨冬乾，終年高溫
(D)位於火山地震帶

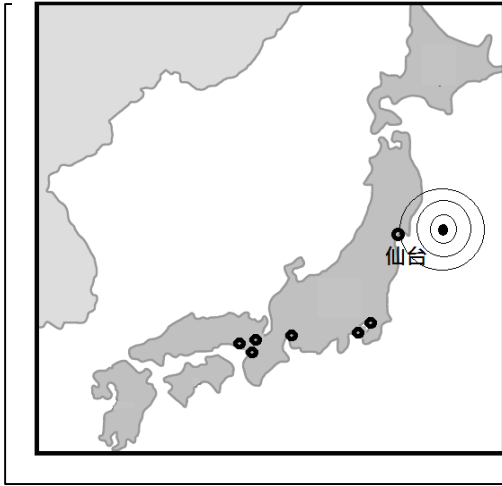
23.鴻海企業董事長郭台銘經過多年的努力，於 2016 年收購日本電子公司夏普(Sharp)。夏普過去是日本的跨國大型電子企業，在 2008 年後陷入長期虧損，請問日本跨國企業近年面臨衰退，請問主要原因何者正確？

- (A)礦產資源耗竭 (B)大型天災 (C)勞動力不足 (D)中美貿易戰



《圖一》

【題組】2011年3月11日，日本東北部發生大地震，閱讀以下文章內容並參考地圖，回答下列問題：



2011年3月11日14時46分（當地時間）發生於日本東北地方外海規模9.0大型地震。震央位於宮城縣首府仙台市以東的太平洋海域，並引發最高38.9米的海嘯。此次地震是日本有觀測紀錄以來規模最大的地震，引起的海嘯也是最為嚴重的，加上其引發的火災和核洩漏事故，導致全國性的地方機能癱瘓和經濟活動停止，東北地方部份城市更遭受毀滅性破壞。

（資料來源：維基百科）

24. 依照圖中震央的位置可以判斷，若震央所在地附近核電廠輻射外洩汙染海洋，受影響最大的兩個島為？
(A)九州；本州 (B)四國；九州 (C)北海道；九州 (D)北海道；本州。
25. 此次地震中，許多城市交通中斷、還引發部分地區火災及停電。請問哪座城市相較之下因與震央距離較近故災害較嚴重？(A)東京 (B)名古屋 (C)大阪 (D)神戶。
26. 日本發生東北大地震、地質不穩定的因素，與下列哪一項最有關係？ (A)地質古老，歷經長期侵蝕 (B)位於季風氣候區，多颱風雨侵蝕劇烈 (C)位於陸板塊與海洋板塊的接觸帶 (D)多溶蝕性的石灰岩，海底火山容易爆發。
27. 臺灣與日本均位於東亞島弧上，在環境上有其相似性。看到日本受災，台灣也該引以為戒。有關台灣與日本環境相似之處，下列何項說明錯誤？ (A)高山眾多，平原狹小 (B)坡陡流急，富含水力 (C)冬夏季風，方向一致 (D)地震頻繁，溫泉林立。
28. 災後數天，大雪侵襲日本，嚴重影響救災進度，災民生活也雪上加霜。請問日本冬季主要降雪來源，下列哪一個說法最正確？ (A)越過太平洋的東南季風所致 (B)因為有旺盛對流 (C)越過日本海的西北季風所致 (D)南下流經的親潮所造成。
29. 近年九州也不平靜，2015年鹿兒島火山爆發，若火山爆發時正逢冬季季風盛行時節，爆發後火山灰將受季風吹送至許多國家，哪個國家較有可能受火山灰之影響？ (A)南韓 (B)中國 (C)印尼 (D)台灣

【題組】印度洋周邊的國家動盪不安，民族、宗教複雜造成了許多的衝突與對立。令人訝異的是2004年的南亞大海嘯後，災難造成的毀滅，反而讓人們放下仇恨，攜手重建家園，請回答下列問題：

30. 2016年羅興亞人難民潮成為國際人權團體關注的對象，這群少數民族分布在中南半島的邊陲，與印度半島的交界處，受西方殖民勢力的影響埋下了種族衝突的肇因。羅興亞人所在的國家多數人信仰佛教，而羅興亞人則是伊斯蘭教徒，兩方爆發流血衝突，使得弱勢的羅興亞人成為難民遠走他鄉，請問上述的「國家」指的是？(A)越南 (B)巴基斯坦 (C)緬甸 (D)菲律賓
31. 承上題，該國的族群異常複雜，也與自然環境息息相關，其主要的山脈走向為何？
(A)東西走向 (B)南北走向 (C)東北—西南走向 (D)西北—東南走向
32. 若信奉伊斯蘭教的羅興亞人要前往宗教相同的國家避難，請問哪個國家非他們考慮的去處？
(A)印度 (B)印尼 (C)馬來西亞 (D)孟加拉
33. 印度與巴基斯坦兩國近日也發生了空中交火的事件，這兩個國家這半世紀來衝突不斷，請問印巴糾紛的原因有下列幾項？(甲)宗教 (乙)領土 (丙)水源 (丁)礦產
(A)一項 (B)兩項 (C)三項 (D)四項
34. 印度洋周邊的國家因南亞大海嘯傷亡慘重，右圖哪個南亞國家因位於河口三角洲，地勢低窪，人口密度高，在海嘯中受到重創？(A)甲 (B)乙 (C)丙 (D)丁
35. 南亞某國有「印度洋中的一滴眼淚」之稱，過去是世外桃源，紅茶王國，但不幸的是這20年來爆發的內戰讓人民不聊生，請問位於右圖中何處？
(A)丙 (B)丁 (C)戊 (D)己



【題組】電影北逃中描寫男主角金勇修由北韓逃出，最後抵達南韓的故事，影片中呈現了人的生死別離，賺人熱淚。導演改編其自身過去逃出北韓的經驗，希望讓世人了解北韓人的處境以及「脫北者」的艱辛，請回答下列問題：

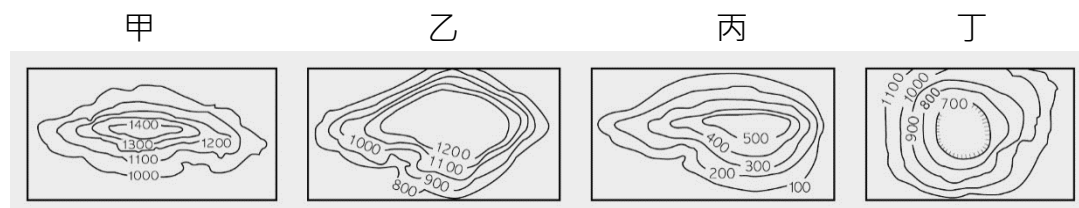
36.主角想要由北韓逃離到中國，以下逃亡路線何者正確？

- (A)越過 38 度停戰線 (B)渡過東海(日本海) (C)翻過太白山脈 (D)越過圖們江

37.片中許多北韓的場景皆仿照北韓的真實情景打造，請問針對北韓的描述何者正確？

- (A)一年收穫一次 (B)國民所得高 (C)地形西高東低 (D) 首都為首爾市

38.片中主角由中國搭飛機前往南韓，若在飛機上鳥瞰整個朝鮮半島，其主要的地形主體為下列何者？



- (A)甲乙 (B)甲丙 (C)乙丁 (D)丙丁

39.主角抵達了南韓後，發現南北韓有極大的差異，對北韓人的命運有極大的感慨。請問底下表格中比較何者有誤？

國家	(A)地勢	(B)礦產	(C)工業	(D)政治體制
北韓	較高	少	國防工業	共產主義
南韓	較低	多	高科技	民主政治

40.他在影片中主角父親與他的孩子分隔兩地，父親身在南韓，孩子留在北韓，只能以寫信表達思念之情，底下是父親在寒冬中寫給孩子的一封信。信中的敘述何者正確？ (A)孩子你晚上冷嗎，爸爸在這裡比你溫暖，很擔心你是否受涼 (B)最近爸爸這裡吹起了東北風，寒風刺骨、心如刀割 (C)爸爸在南韓的生活過得很好，國產的 SONY 手機很好用，TOYOTA 汽車很好開 (D)今天是國慶日，爸爸看到街頭上掛著許多「朝鮮民主主義人民共和國」的國旗

《The End》

寫完別忘了仔細檢查，祝同學們暑假 Happy~