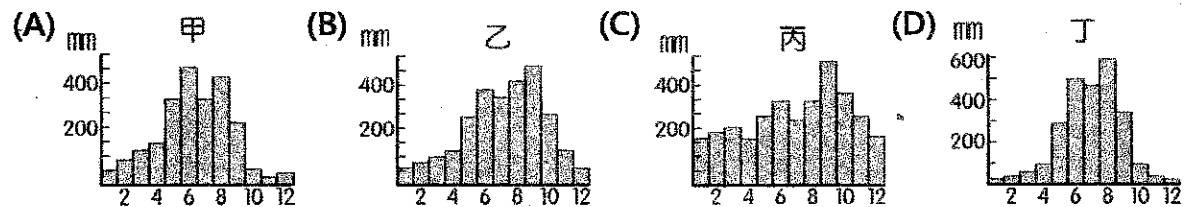

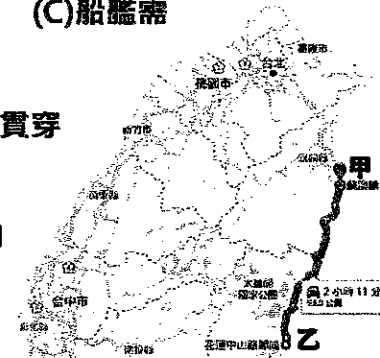


桃園市立大有國民中學 107 學年度第一學期第二次評量試卷

年級	七	考試科目	地理科		命題範圍	L2-4 ~ L4	作答時間	45分
班級		姓名		座號	分數			

一、單選題 (共 35 題，每題 2.5 分，共計 87.5 分)

- () 下列關於臺灣地形的描述，何者與臺灣位在板塊交界處較不相關？ (A)地震頻繁 (B)擁有許多火山島 (C)山多平原少，地勢高聳陡峻 (D)西南部多沖積平原
- () 西元 1661 年 4 月，鄭成功率領船艦自鹿耳門(今日臺南市)登陸。請問下列何者最可能是鄭成功在當年遇到的狀況？ (A)鄭氏軍隊將看到陡直的斷層海岸 (B)船艦有極高機率遭受強颱帶來的暴雨侵襲 (C)船艦需留意因海水太淺而產生的擱淺問題 (D)船艦需留意海底是否有珊瑚暗礁，以免撞毀船底
- () 右圖從甲點到乙點的路段為蘇花公路。在該段路線中有諸多隧道，請問這些隧道主要是貫穿了臺灣的何座山脈？ (A)雪山山脈 (B)中央山脈 (C)玉山山脈 (D)海岸山脈
- () 臺灣擁有諸多離島，其中大多數的離島成因為何？ (A)因海底火山噴發出的岩漿冷卻而形成 (B)因海底珊瑚礁露出海面而形成 (C)因海底泥沙堆積而後高於海平面所形成 (D)大陸沿岸丘陵因海面上升，地勢較低處沒入海底，而較地勢較高的山頭露出海面而形成
- () 宜蘭縣為近十年全臺降水量最高的縣市，因雨日較多而被稱作「雨縣」。關於宜蘭縣降水的描述何者有誤？ (A)5、6 月易有梅雨 (B)夏、秋兩季常有颱風帶來豐沛降雨 (C)冬季迎東北季風而有降雨 (D)東北季風從海上帶來的水氣，主要是被海岸山脈所攔截
- () 臺灣南部的曬鹽產業與海岸地形的條件息息相關。請問何種海岸較適合發展曬鹽產業？ (A)沙岸 (B)岬灣海岸 (C)斷層海岸 (D)珊瑚礁海岸
- () 承上題，曬鹽亦需氣候條件的配合，「連日陽光普照、降水極少」的乾旱時段是最為理想的。請問依南部的降水特徵，下列哪個時段的鹽產量最高？ (A)3、4 月 (B)5、6 月 (C)7、8 月 (D)9、10 月
- () 宸易趁暑假時至屏東山區欣賞日出，當時季風由海上吹來，則右圖中的何處可能降下最多的雨？ (A)A 點 (B)B 點 (C)C 點 (D)D 點
- () 關於臺灣降水特徵的描述，何者正確？ (A)離島地區降水量普遍多於本島山區 (B)南部降水量多於其他地區 (C)東北部地區冬雨較多，無明顯乾季 (D)南部地區受西南季風影響，有夏乾冬雨的特徵
- () 位於臺東池上的伯朗大道是臺灣知名的旅遊景點，每年都吸引了許多觀光客前往朝聖。請問伯朗大道位在臺灣的哪一個平原？ (A)嘉南平原 (B)宜蘭平原 (C)屏東平原 (D)花東縱谷平原
- () 承上題，印瑜一家人在暑假時開車自花蓮前往伯朗大道，則在車輛行駛的過程中，左側車窗外的山巒屬於何座山脈？ (A)中央山脈 (B)雪山山脈 (C)海岸山脈 (D)玉山山脈
- () 揚昇預計在下學期搬家至高雄市，為了瞭解當地氣候，他應該參考下列哪張氣候圖？

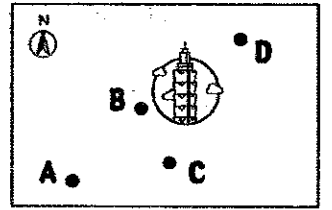


13.() 右表為台電公司所公告的 106 年基隆市、臺東縣、高雄市、臺南市的太陽能發電總量表，這四個縣市因為氣候差異而發電量懸殊。根據太陽能「需充足日照，時常陰雨處不利發電」的發電特性，基隆市最可能是甲、乙、丙、丁中的何者？ (A)甲 (B)乙 (C)丙 (D)丁

縣市	發電量(度)
甲	10,954
乙	264,108,806
丙	201,734,052
丁	12,398,885

14. ()俊佑和岳博打算在今年年底相約去臺北 101 看跨年煙火。每年釋放煙火時總是會產生大量濃煙，若考量盛行季風的影響，他們應該選擇哪一個地點，才能避免視線被濃煙阻擋？

- (A)A 地點 (B)B 地點 (C)C 地點 (D)D 地點



15. ()鴻宇在暑假時到蘭嶼體驗浮潛，飽覽蘭嶼珊瑚礁海岸多樣的生態景觀。下列關於蘭嶼的敘述，何者正確？

- (A)位在南海 (B)隸屬於宜蘭縣 (C)是因火山活動而形成的島嶼 (D)島上原住民以泰雅族為主

16. ()住在金門的涵宇向朋友介紹家鄉：「我的家鄉金門位在臺灣本島的(甲)西北方，也是(乙)全臺最北的島嶼。金門主要是由於(丙)海水面下降，島嶼露出水面所形成的大陸島。在歷史上，這裡曾是(丁)國防前線，具有重要歷史意義，又因為島上完整保留了許多的(戊)閩南聚落而成立了金門國家公園。」關於涵宇的介紹，只有哪兩處是正確的？

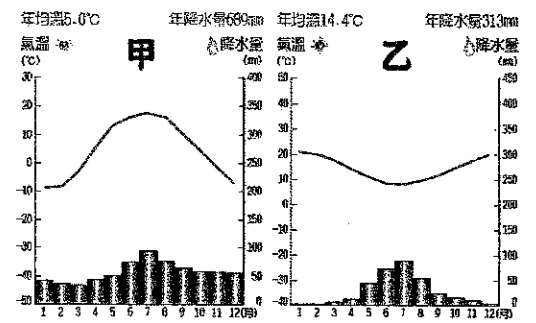
- (A)甲丙 (B)甲丁 (C)丁戊 (D)乙丁

17. ()炎炎夏日，錦純想要選擇一個較為涼爽的地點旅遊，請問哪個地點最為理想？

- (A)西門町 (B)鶯歌老街 (C)野柳地質公園 (D)拉拉山森林遊樂區

18. ()右圖為甲、乙兩地的氣候圖，關於甲、乙兩地氣候的描述，何者正確？

- (A)甲地應位於南半球 (B)甲地的年溫差較乙地小 (C)乙地呈現出夏雨冬乾的特徵 (D)根據年均溫判斷，甲地的緯度應比乙地更高



19. ()承上題，甲地的年溫差約為幾度？

- (A)8°C (B)10°C (C)15°C (D)30°C

20. ()臺灣大致可以北回歸線作為基準，劃分為熱帶氣候與副熱帶氣候。請問下列哪座離島與其他三者屬於不同種氣候？

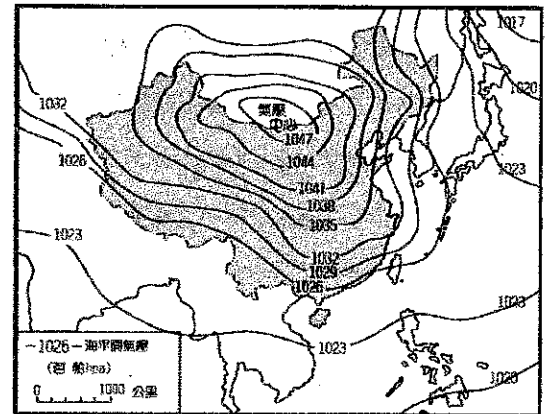
- (A)蘭嶼 (B)綠島 (C)龜山島 (D)太平島

21. ()帛諺在某日收看了氣象預報，根據當時帛諺所看到的地面天氣圖(右圖)，帛諺最可能是哪個季節收看預報的？

- (A)春季 (B)夏季 (C)秋季 (D)冬季

22. ()彥珩預計在明年 6 月前往嘉南平原欣賞稻浪景觀，請問他可能需留意下列何種狀況？

- (A)強烈冷氣團南下，須留意保暖 (B)連日陰雨綿綿，應攜帶雨具以防萬一 (C)此時易有強颱侵襲，應盡量避免出遊 (D)當地常有地形雨，應攜帶雨具以防萬一



23. ()承上題，育希隨後也在 7 月時前往嘉南平原欣賞美麗的稻浪。此時隨著季風的吹拂，稻田中的稻穗應該會朝哪個方向傾倒？


- (A)東北方 (B)東南方 (C)西北方 (D)西南方

24. ()下列關於颱風的描述，何者正確？

- (A)常發源於溫帶海洋 (B)屬於太平洋地區獨有的現象 (C)屬於熱帶性低氣壓系統 (D)颱風眼中心為風雨最強的地區

25. ()右圖為鋒面雨的示意圖，請問下列描述何者正確？

- (A)甲氣團氣溫較高；重量較輕 (B)此種降雨類型雨區較小、雨時較短 (B)季風帶來的降雨多屬於此類 (D)此類降雨主要是因為乙氣團收縮下沉而成雲致雨的

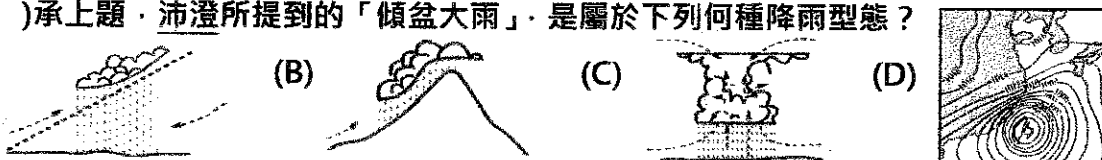


26. ()沛澄在作文裡寫道：「我的家鄉是個(甲)四季如春的好地方，今天早晨依舊(乙)陽光普照！雖然午後突然下起了(丙)傾盆大雨，但比起埃及那樣(丁)終年酷熱乾旱的地方，我還是喜歡這裡。」請問，哪些描述是屬於氣候的範疇？

- (A)甲丙 (B)甲丁 (C)甲丙丁 (D)甲乙丙丁

27. ()承上題，沛澄所提到的「傾盆大雨」，是屬於下列何種降雨型態？

- (A) (B) (C) (D)



28. ()老師在上課時抽問各班同學關於氣壓的內容，下列哪一位同學的說明是錯誤的？

- (A)語容：「海拔較高的地區，空氣較稀疏，氣壓也較低。」 (B)宇成：「若海拔高度一樣，則氣溫較高的地方，氣壓通常較低。」 (C)糧昀：「低氣壓所在的地方，因氣流上升，空氣中的水氣遇冷凝結，而容易成雲致雨。」 (D)佑觀：「風是空氣水平流動的現象，主要是由低壓處向高壓處流動。」

29. ()恩齊在暑假時分別到了臺北和高雄遊玩，卻意外地發現位在北部的臺北，居然比位在南部的高雄還要悶熱，請問這是什麼原因造成的？ (A)緯度高低 (B)盆地地形 (C)季風風向 (D)降水多寡
30. ()下表為臺灣梅雨、颱風、旱災、寒害主要的好發時間表。某日新聞播報：「南部地區已經連續缺水高達一週，不僅民生用水必須限制，農業用水也出現危機。」請問此段新聞內容是在說明哪一種氣象災害？
(A)甲 (B)乙 (C)丙 (D)丁

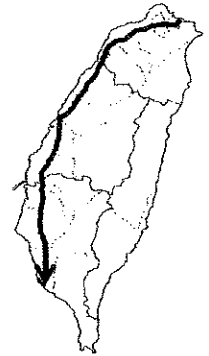
1月	2月	3月	4月	5月	6月	7月	8月	9月	10月	11月	12月
甲											甲
乙											
					丙		丁				

31. ()住在基隆的偉豪趁著春節連假時，跟家人一同到高雄遊玩，右圖是他行經的路線。

在移動的過程中，他發現沿路的天氣出現了轉變，關於此種轉變的說明，何者正確？

- (甲)由於是往低緯度地區移動，因此氣溫大致上會逐漸上升
(乙)由於是往海拔較高的地方移動，因此氣溫將逐漸下降
(丙)從季風背風側前往季風迎風側，天氣將由晴轉陰
(丁)從季風迎風側前往季風背風側，天氣將逐漸晴朗

- (A)甲丙 (B)甲丁 (C)乙丙 (D)乙丁



32. ()臺灣稻作的種植深受氣候因素的影響。請問臺灣何處的農田，因降水季節分布最不均，而極需仰賴灌溉技術？ (A)宜蘭平原 (B)桃園臺地 (C)嘉南平原 (D)花東縱谷平原

33. ()即將結婚的佑隆正在選擇拍攝婚紗照的地點。他希望這個地點能有一片美麗的沙灘，並且能看見夕陽緩緩落下直到消失在海平面。下列哪個縣市的海邊不可能是他的選擇？ (A)雲林縣 (B)臺南市 (C)嘉義縣 (D)宜蘭縣

34. ()立華預計在暑假時和朋友到某座離島遊玩，右圖為該離島的照片。請問關於這次的旅遊地點，哪些描述是正確的？

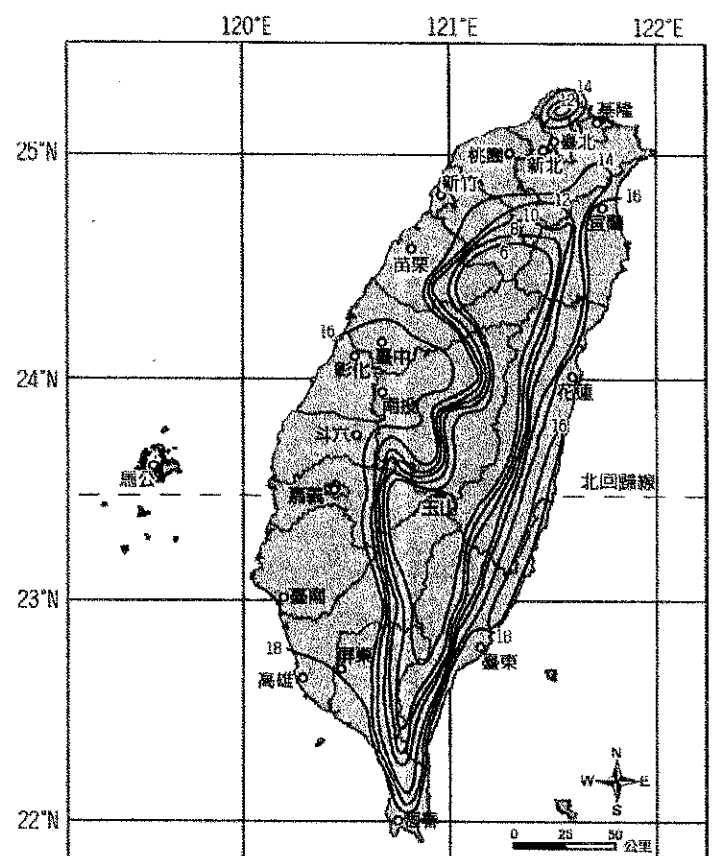
- (甲)此座島嶼位在巴士海峽 (乙)此座島嶼的成因與東沙島、太平島相似
(丙)右圖照片中的景點主要是由外營力造成的 (丁)北回歸線經過此島嶼所在的縣市
(戊)此島嶼降雨量偏低，是因為缺乏高山阻攔水氣

- (A)甲乙丁 (B)乙丙戊 (C)丙戊 (D)丁戊



35. ()右下圖為臺灣一月月均溫等溫線圖。請問一月時彰化的溫度約為幾度？

- (A)12~14°C (B)14~16°C (C)16~18°C (D)18~20°C

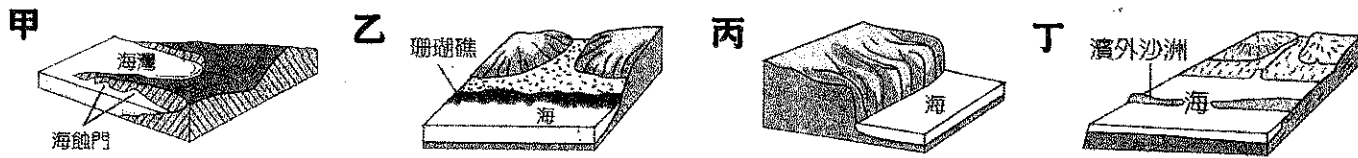


請注意!
考試尚未結束，背面仍有試題。

二、題組題（共 5 題，每題 2.5 分，共計 12.5 分）

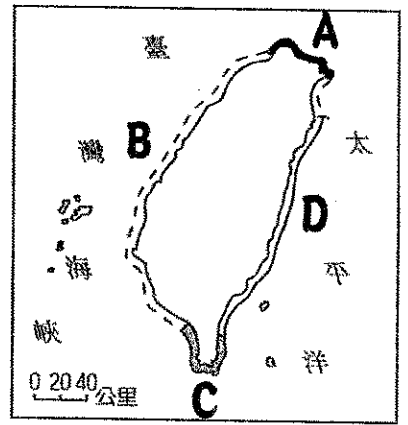
暑假時，地理老師帶著同學到全臺各地進行海岸的考察...

36.()若同學由桃園出發，逆時針繞行臺灣一圈，則他們所看見的海岸景觀將依序如何變化？



(A)甲乙丙丁 (B)甲丙乙丁 (C)丁乙丙甲 (D)丁甲丙乙

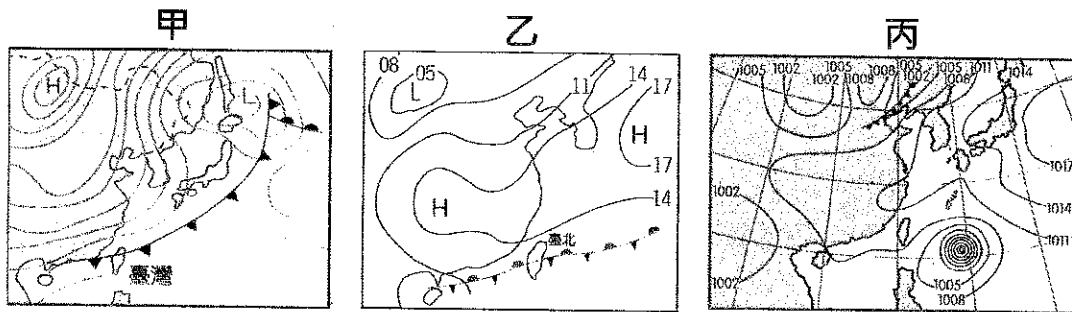
37.()祺展在考察時寫下了筆記：「中午時，我們吃了當地的特產——新鮮的虱目魚羹、蝦餅、蚵仔煎。之後還到附近的『南鯤鯓代天府』參拜，祈禱考察順利。」請問，此時祺展可能位在右圖的哪一段海岸？ (A)A 段 (B)B 段 (C)C 段 (D)D 段



38.()當團隊在 A 段海岸時，下列何者最可能是當時的紀錄內容？

- (A)「此處有一天然良港，此港海水較深，故漁業、航運都算發達。而風化和侵蝕產生的奇岩怪石，也成為了當地的觀光資源。」
- (B)「此處有一潟湖改建的港口，附近尚有許多魚塢，養殖漁業十分發達。」
- (C)「此處海水較淺，航運不利，但豐富的熱帶海洋生態常成為當地的觀光資源。」
- (D)「此處的海岸陡直，港口較少，但內營力產生的壯麗斷崖吸引了許多的觀光客。」

請根據下列三張地面天氣圖回答 39~40 題。



39.()凱崑在小記裡寫道：「已經連續下雨下了整整一週了，我原本是陽光型男的，現在只好待在家當居家好男孩了！」請問哪一張地面天氣圖最符合上述的天氣情形？ (A)甲圖 (B)乙圖 (C)丙圖

40.()昱承在小記裡寫道：「最近天氣十分濕冷，新聞說又有一波寒流要報到了，每天出門前都要把自己包成一顆肉粽。」請問哪一張地面天氣圖最符合這樣的天气情形？ (A)甲圖 (B)乙圖 (C)丙圖

~ 試題結束，交卷前請檢查畫卡是否正確 ~