

桃園市立大有國民中學 108 學年度第二學期第二次評量試卷

年級	九	考試科目	歷史			命題範圍	第一~五冊、 第六冊單元一~二	作答時間	45分
班級		姓名		座號		分數			

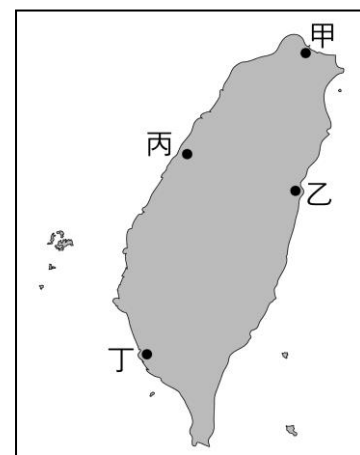
※歷史科以電腦閱卷，請將答案用 2B 鉛筆畫在答案卡上，題目卷共 50 題。

一、選擇題(每題兩分，共八十二分)

- ( ) 此人子承父業，曾參與三藩之亂但壯志未酬，但在其治理期間，設立機構培養官員，奠下了漢人文化在臺灣的基礎；另外，為籌措財源，開啟與英國的貿易。請問以上所敘述者為何人？  
(A)吳三桂 (B)鄭成功 (C)鄭經 (D)康熙。
  - ( ) 在十九世紀後期，清廷為保護越南而和一國家發生戰爭，戰爭還曾波及臺灣，戰爭結束後，清廷放棄越南的保護權，而不久越南就成為該國的殖民地。請問和清朝作戰的是哪一個國家？  
(A)日本 (B)英國 (C)法國 (D)俄羅斯。
  - ( ) 中國的商朝、埃及和西亞古文明有類似的發展。請問以下何者是三者的共同點？  
(A)都有發明文字 (B)都有永生的觀念 (C)都有成文法律 (D)都有祭祖的觀念。
  - ( ) 自強運動是中國近代史上的第一次現代化改革，而這樣的改革是受到外來刺激所引發。請問下列何者是引發自強運動的原因？  
(A)甲午戰爭 (B)英法聯軍 (C)鴉片戰爭 (D)八國聯軍。
  - ( ) 早期臺灣有許多的傳染病，但在此時期推行許多措施改善公共衛生，鼠疫、天花、霍亂、瘧疾的威脅大大降低，臺灣社會死亡率降低，人口大幅成長。請問這是臺灣史上的什麼時期？  
(A)鄭氏時期 (B)清領時期 (C)日治時期 (D)戰後臺灣。
  - ( ) 中共曾推動一大型的煉鋼活動，民眾在各地興建小型煉鋼爐，將所能拿到的鋼鐵碎片都拿來煉鋼，但所生產出來的鋼鐵卻無法使用。請問以上敘述的是什麼事件？  
(A)大躍進 (B)工業革命 (C)文化大革命 (D)一面倒。
  - ( ) 西亞古文明留下許多影響後世的發明和觀念。請問以下何者不屬於西亞古文明的特色？  
(A)六十進位法 (B)種姓制度 (C)一週七天 (D)法律觀念。
  - ( ) 十九世紀末期，當時在臺成立一政權，以「永清」為年號，旗幟為「藍地黃虎旗」，設立三府、一直隸州、十一縣、三廳，另設議院和總統府，希望能排拒外來勢力，還曾發行「官銀票」、「股份票」和「郵票」來籌措財源，後來此政權還是不敵外來勢力而結束。請問以上敘述的是什麼事？  
(A)朱一貴事件 (B)鄭氏抗清 (C)臺灣民主國 (D)西來庵事件。
  - ( ) 〈長恨歌〉描述了中國在西元八世紀的一場大動亂，皇帝與妃子出逃的景象：「……漁陽鼙鼓動地來，驚破霓裳羽衣曲。九重城闕煙塵生，千乘萬騎西南行。翠華搖搖行復止，西出都門百餘里；六軍不發無奈何？宛轉蛾眉馬前死。」這一場動亂讓該朝代元氣大傷。下列有關此詩的敘述，何者符合史實？  
(A)「漁陽鼙鼓動地來」是指匈奴人起兵攻打 (B)「九重城闕煙塵生」是指首都北京被攻破  
(C)因首都失陷，造成該朝代的滅亡 (D)此事件之後經濟、文化重心南移。
  - ( ) 小美到博物館看到一封展示的舊信件，信封上寫的地址有「新竹州」的地名。請問這封信的主人可能生活在哪個年代？  
(A)鄭氏時期 (B)清領前期 (C)清領後期 (D)日治時期。
  - ( ) 阿偉在複習歷史的時候整理了右方表格，請根據表格內容判斷阿偉在讀什麼主題？  
(A)甲午戰爭 (B)牡丹社事件  
(C)朱一貴事件 (D)中法戰爭。
- |           |
|-----------|
| 設立恆春城     |
| 清朝轉而積極治臺  |
| 清朝喪失琉球保護權 |
| 開山撫番      |
- ( ) 此一臺灣史前文化大約在距今三千五百年到兩千年前，在遺址中有挖掘到玉玦、陶罐、石板棺等文物。請問這個遺址是在哪個地區發現的？  
(A)北部 (B)中部 (C)南部 (D)東部。
  - ( ) 帝國主義是一個國家以優異的心態，強勢的去壓迫其他地區。因為不同的原因和時間，可以分為舊帝國主義和新帝國主義。請問下列有關新、舊帝國主義的敘述，何者正確？  
(A)新帝國主義的起因是地理大發現，舊帝國主義是科學革命 (B)新帝國主義的侵略國都是歐美國家  
(C)亞洲和拉丁美洲皆是新、舊帝國主義的受害者 (D)清朝末年受到列強的侵略是屬於舊帝國主義。

(背面仍有試題)

14. ( ) 明太祖和明成祖是明朝初期的君主，其治理的政策為明朝政治奠下基礎。請問下列有關兩人的敘述，何者正確？  
 (A)明太祖以廷杖、文字獄摧殘士人 (B)明太祖修築運河，打通帝國南北交通  
 (C)明成祖廢除宰相制度，重用宦官 (D)明太祖定都北京，建立紫禁城。
15. ( ) 第一次世界大戰是人類史上前所未見的大型戰爭，影響層面很廣也帶來許多觀念的改變。請問下列何事不是第一次世界大戰所帶來的影響？  
 (A)婦女開始取得投票權，女性地位提升  
 (B)戰後成立國際聯盟，希望維護世界和平  
 (C)民族自決風潮在世界各地興起，許多新興國家成立  
 (D)許多歐洲國家主動放棄占領殖民地。
16. ( ) 這個港口在十七世紀是西班牙人在臺灣的根據地，清領時期是開港通商後的對外港口，也是中法戰爭的戰場，到了日治時期進行擴建，讓其成為可以容納一萬噸級船舶出入的港口，連結臺日之間的交通和經濟，而此港口至今也是臺灣對外貿易的重要大港。請問此港口在圖(一)中何處？



圖(一)

17. ( ) 大眾交通工具是現代人不可或缺生活必需工具，有了這些交通工具才能長距離的旅行或是擴展商業貿易。臺灣鐵路的發展是許多時代的共同累積，以下關於臺灣鐵路的敘述，何者正確？  
 (A)日治時期完成了臺灣最早的環島鐵路 (B)清朝發展鐵路以便運送物產對外國通商  
 (C)按照發展時間，高雄比基隆還早有鐵路 (D)臺灣的鐵路建設始於建省以後。
18. ( ) 西周和東周是兩個社會秩序截然不同的時代，社會生活具有完全不同的風貌。請問下列何者是西周才有可能出現的情況？  
 (A)農夫使用鐵製農具耕種 (B)學生拜師學習治國之術 (C)嫡長子繼承父親的職位 (D)買賣土地獲取商業資金。
19. ( ) 這個朝代因為大量的官俸和戰爭支出造成財政問題，宰相著手進行改革，但是基於一些原因，原來立意良善的改革，卻引發朝中不同意見的政爭，之後竟演變成朝臣長期的兩派對立。請問以上敘述指的是什麼？  
 (A)戊戌變法 (B)牛李黨爭 (C)新舊黨爭 (D)東林黨爭。

20. ( ) 1920年代，臺灣人發起了許多政治社會運動，希望能爭取自己的權益，而此時總督府對於臺灣的管理也較有彈性，派遣文官總督，標榜「日臺融合」、「一視同仁」的政策。請問出現這樣的轉變是因為受到什麼影響？  
 (A)明治維新 (B)拉丁美洲獨立運動 (C)民族自決風潮 (D)孫中山革命運動。
21. ( ) 民國 39 年，因某個區域戰爭爆發，美國派遣第七艦隊協防臺灣海峽，戰爭結束後，又簽訂〈中美共同防禦條約〉，鞏固雙方的聯盟關係。請問這是哪一場戰爭？  
 (A)古寧頭戰役 (B)韓戰 (C)珍珠港事件 (D)盧溝橋事件。



圖(二)

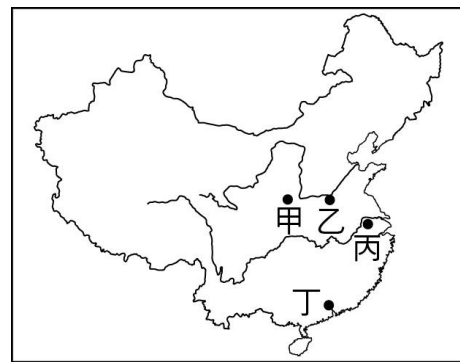
22. ( ) 在中國近現代史上，此地有著重要的地位，許多大事在此爆發，它是日俄戰爭的戰場，也是北伐的關鍵人物張學良的根據地，也是九一八事件的發生地。請問以上敘述的是圖(二)中的何地？  
 (A)甲 (B)乙 (C)丁 (D)戊。
23. ( ) 婷婷在書中看到一個歷史上的政策，她將此政策的相關重點摘錄於下表，請依下表判斷此政策為何？  
 (A)海禁政策 (B)鎖國政策  
 (C)渡臺禁令 (D)戒嚴令。

需向官府申請證照
禁止入山開墾
禁止攜帶家眷

24. ( ) 「在此政策下，郡、縣的首長皆由中央直接派任，地方的徭役、賦稅和兵權也由政府直接控管，由此建立一個由中央到地方的行政官僚體系。」請問以上敘述的政策最早出現於中國史的哪個時代？  
 (A)周朝 (B)秦朝 (C)漢朝 (D)唐朝。
25. ( ) 民國 49 年，政府公布〈獎勵投資條例〉，以減免租稅的方式，吸引外資。民國 54 年起，後來又在高雄、楠梓、臺中設立加工出口區，以吸引僑資、外資投資。請問上述是哪一個經濟發展時期的內容？  
 (A)進口替代 (B)出口導向 (C)土地改革 (D)產業升級。
26. ( ) 約翰為中世紀居住在莊園的農民，平日忙著耕種，每個星期要為莊園主義務服務幾天，以此換得莊園主的保護。在此動盪不安的時代，只能靠著到教會虔誠的祈禱，來安定自己的心。請問約翰可能是哪一個國家的人？  
 (A)拜占庭帝國 (B)鄂圖曼土耳其帝國 (C)法蘭克王國 (D)羅馬帝國。
27. ( ) 「新文化運動」與「五四運動」皆是在民國初年所發起的重要活動。請問下列有關敘述，何者錯誤？  
 (A)新文化運動和五四運動皆和北京大學有關 (B)新文化運動是受到第一次世界大戰的影響  
 (C)新文化運動的白話文對五四運動產生助力 (D)五四運動擴及工商階層。
28. ( ) 十八世紀中葉，英國率先展開工業革命，之後傳到各洲，對之後的經濟和社會文化產生重大影響。請問下列何者是工業革命所帶來的影響？  
 (A)工業革命讓市民階級崛起，進而影響政治事務 (B)工業革命強化君主的權利，讓王權更集中  
 (C)工業革命以理性開啟人的智慧，帶動新政治思想的出現 (D)工業革命使貧富差距擴大，出現社會主義。

(第三頁仍有試題)

29. ( ) 清末曾經簽下許多不平等條約，以下條約和其喪失權益的配對，何者正確？  
 (A)馬關條約---各國可在北京使館區駐軍 (B)南京條約---各國可在中國通商口岸設廠製造  
 (C)中英法天津條約---外人可至內地遊歷傳教 (D)辛丑和約---開放五口通商。
30. ( ) 這座城市是一個非常繁榮的大都市，有「東方巴黎」之稱，因為是早期就已開放對外通商的城市，這裡有著英法的租界區，有來自世界各地的不同人士，是投資者們認為充滿機會的地方，所以當此處在 1932 年發生戰爭時，引發了當時世界各國的關注。請問這是哪一座城市？  
 (A)瀋陽 (B)廣州 (C)北京 (D)上海。
31. ( ) 西元前 27 年到西元 180 年是羅馬帝國最繁盛的時期，國力強盛，和東方的漢朝相互輝映，稱為「羅馬和平」。請問「羅馬和平」的展開是以哪一位皇帝開始？  
 (A)凱撒 (B)查士丁尼 (C)君士坦丁 (D)屋大維。
32. ( ) 這個城市因為它的地理位置良好，常被歷朝歷代作為首都，在歷史上也有許多不同的名稱，如「建康」、「建業」、「應天」、「天京」……等。請問這是圖(三)中的哪一座城市？  
 (A)甲 (B)乙 (C)丙 (D)丁。
33. ( ) 這是臺灣歷史記載中最早有文字的原住民，有在「公廨」中祭祀祖靈的習俗，因為和歐洲人接觸較早，所以在東印度公司的紀錄中也可看到有關他們的資料。請問這是哪一族？  
 (A)西拉雅族 (B)凱達格蘭族 (C)泰雅族 (D)排灣族。
34. ( ) 圖(四)深色部分是十六世紀宗教改革之後，某一教派的分布區域。請問這個教派的特色是什麼？  
 (A)政教合一 (B)講求因信得救  
 (C)耶穌會為其支派 (D)相信預選說。
35. ( ) 「政府是由大選中獲得下議院多數席次的政黨來組閣執政，此多數黨的領袖出任首相，首相領導內閣需向國會負責。」請問以上敘述的制度，最早出現在哪個國家？  
 (A)英國 (B)德國 (C)義大利 (D)美國。
36. ( ) 小威的歷史作業是要參觀清領時期所興建的古蹟寫參觀心得。請問下面哪一個景點是他可以選擇的地方？  
 (A)臺南孔廟 (B)億載金城 (C)安平古堡 (D)臺南州廳。
37. ( ) 文藝復興是近代西方思想轉變的重要活動，下列有關文藝復興的敘述，何者錯誤？  
 (A)市民階級是推動文藝復興的主要力量 (B)文藝復興的著名畫家有達文西、拉斐爾  
 (C)文藝復興的重要精神是「以人為本」 (D)文藝復興的興起和地理大發現有關。
38. ( ) 宗教自古文明時期就是人類生活的一部分，許多宗教都有悠長的歷史。請問基督教、佛教、伊斯蘭教有哪項共同點？  
 (A)都發源自亞洲地區 (B)都屬於一神信仰 (C)都有輪迴的觀念 (D)都曾在唐代時傳入中國。
39. ( ) 清末簽訂了許多不平等條約，對清朝的主權影響甚鉅，但是隨著後來政局的轉變，許多權力也一一收回，其中較早收回的是關稅自主權。請問這個權利是何時喪失，何時收回？  
 (A)喪失：英法聯軍後、收回：第二次世界大戰時 (B)喪失：鴉片戰爭後、收回：第二次世界大戰時  
 (C)喪失：英法聯軍後、收回：民國成立時 (D)喪失：鴉片戰爭後、收回：十年建設時。
40. ( ) 在中國的歷史發展中農業民族和草原民族間會因生活方式不同而產生衝突，但後來又因為共同生活後而產生文化的融合，誕生兼具多元特色的文化面貌。請問下列哪件事可以說明中國的文化融合？  
 (A)宋朝的歲幣外交 (B)北魏的漢化政策 (C)元代的種族政策 (D)清朝的薙髮留辮。
41. ( ) 中國的四大發明傳入歐洲，直接或間接的影響西方的歷史。請問下列發明傳入者和其影響的事件配對，何者正確？  
 (A)火藥：阿拉伯人傳入，影響地理大發現 (B)造紙術：蒙古人傳入，影響文藝復興  
 (C)印刷術：蒙古人傳入，影響文藝復興 (D)指南針：蒙古人傳入，影響地理大發現。



圖(三)



圖(四)

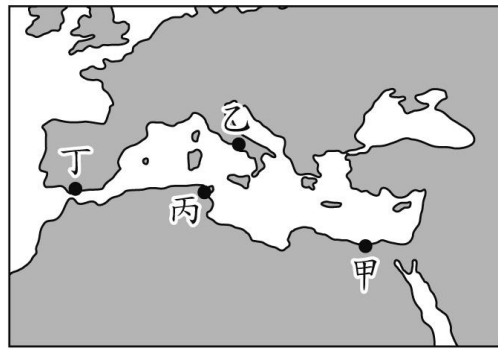
## 二、題組(每題兩分，共十八分)

- 歷史上有許多跨洲際的大帝國，這些帝國的統治，帶來區域之間的交流，也激盪出不同的文化火花。請回答下列相關問題：

42. ( ) 此帝國的建國者有著「天下一家」的概念，積極獎勵商人從事東西貿易，也鼓勵不同族群聯姻，打破區域間的隔閡，並且融合所統治地區的文化和制度，形成獨特文化。請問以上敘述的是哪一個帝國？  
 (A)羅馬帝國 (B)亞歷山大帝國 (C)鄂圖曼土耳其帝國 (D)神聖羅馬帝國。

(背面仍有試題)

43. ( ) 此地位置重要，許多橫跨歐、亞、非的大帝國像是波斯帝國、亞歷山大帝國、羅馬帝國、鄂圖曼土耳其帝國都有占領此地。請問此為圖(五)中何地？  
 (A)甲 (B)乙 (C)丙 (D)丁。



圖(五)

44. ( ) 元朝是古代中國版圖最遼闊的時期，跨越洲際，統治著許多不同種族，促進中西之間不同文化的交流。請問以下關於元朝「種族政策」的敘述，何者錯誤？  
 (A)來自義大利的商人被稱為色目人  
 (B)種族政策穩固了元朝的統治基礎  
 (C)科舉和法律因不同階級有不同規定  
 (D)南人為社會階層的最底層。



圖(六)

45. ( ) 圖(六)是一個橫跨歐、亞、非，在政治上建立廣大領土的國家，在經濟上也很繁榮，首都的市場可以買到中國的絲綢、瓷器，印度和東南亞的香料，非洲的黃金、象牙和各種歐洲商品。請問圖(六)是下列哪一個國家？  
 (A)阿拉伯帝國 (B)鄂圖曼土耳其帝國  
 (C)元帝國 (D)拜占庭帝國。

● 西元 15、16 世紀，歐洲進入大航海時代，各國找尋新航路向海外發展，世界的連結變得更緊密，各地的交互影響也更深。請回答下列有關此時期的問題：

46. ( ) 地理大發現後，西班牙人和荷蘭人都在亞洲建立商業貿易據點並統治臺灣，以下附表列出有關兩者在亞洲發展的比較，何者正確？

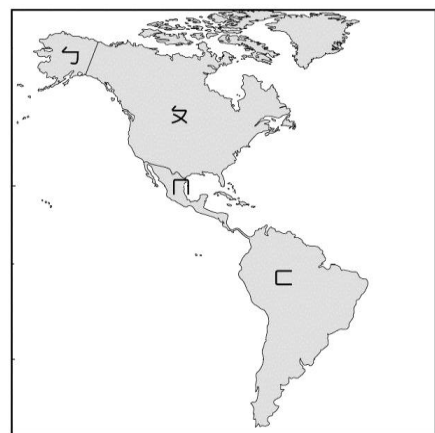
		荷蘭	西班牙
(A)	在臺傳教	天主教	基督教
(B)	亞洲貿易中心	澳門	巴達維亞
(C)	在臺城堡	聖多明哥城	熱蘭遮城
(D)	貿易地點	中國、日本、東南亞	中國、東南亞

47. ( ) 西元 15、16 世紀，不僅是商人，許多傳教士也往海外發展、傳教。請問下列敘述，何者錯誤？  
 (A)耶穌會馬偕在臺灣北部傳教 (B)傳教士利瑪竇和徐光啟合譯《幾何原本》  
 (C)部分傳教士精通科學，帶來文化交流 (D)傳教士不僅帶來西方文化，也學習中國文化。

48. ( ) 清朝原本不禁止西方傳教士的活動，但後來以傳教士介入政爭為由，實施禁教，也因此中斷中西文化交流。請問是哪一位皇帝實施禁教？  
 (A)康熙 (B)雍正 (C)乾隆 (D)道光。

49. ( ) 承上題，在此之後，清朝對於和外國的貿易有許多限制，為了方便管理，僅開放一港口通商。請問是哪一個港口？  
 (A)廣州 (B)廈門 (C)上海 (D)天津。

50. ( ) 在歐洲人來之前，美洲有許多古文明，其所留下來的文化遺跡，都被後人讚嘆不已，像是被西班牙入侵而滅亡的印加古文明，有著被稱為空中城市的馬丘比丘，現已被列為世界遺產。請問要看馬丘比丘，要到圖(七)的何處？  
 (A)ㄅ (B)ㄆ (C)ㄇ (D)ㄊ。



圖(七)

(恭喜你寫完了，要再檢查一下喔！)