

年級	七年級	考試科目	歷史科			命題範圍	第二冊 L1-L2	作答時間	45 分
班級		姓名		座號		分數			

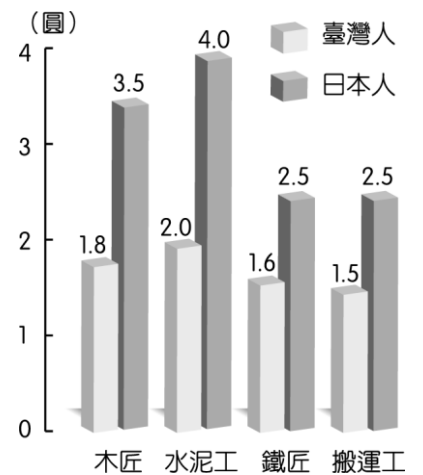
一、單選題（每題兩分，共七十二分）

- () 1. 1930 年代以後，臺灣總督府在臺灣積極推動工業化，下列何者是其主要目的？(A) 使臺灣成為日本國內工業零組件的供應地 (B) 使臺灣成為南進的補給基地 (C) 有效利用臺灣的資源，促進臺灣工業的發展 (D) 改善臺灣的經濟，提升人民的生活水準。
- () 2. 日本發布的「六三法」對於當時臺灣代表的意義是什麼？(A) 臺灣總督須具備司法背景 (B) 視臺灣為日本內地的延長 (C) 形成總督專制的統治體制 (D) 從此臺灣人可以自主管理。
- () 3. 「1895 年是決定臺灣命運的一年。4 月分的臺灣，春天降臨，然而卻充滿了惶恐與不安，因為對岸的祖國，在戰敗後，已將臺灣拋棄……」上文中的時間應是下列哪一時期的開始？(A) 皇民化運動時期 (B) 大明慈悲國時期 (C) 內地延長主義時期 (D) 殖民地特殊統治時期。
- () 4. 曾任臺灣總督的田健治郎說：「臺灣是內地的延長，對臺灣人民要一視同仁。」他說這句話的背景為何？(A) 第一次世界大戰爆發 (B) 第一次世界大戰結束 (C) 第二次世界大戰爆發 (D) 第二次世界大戰結束。
- () 5. 臺灣總督兒玉源太郎來臺後，深知要解決「土匪」問題必須善用警察，臺灣儼然成為日本殖民地之「警察國家」。請問：兒玉總督想用警察解決的「土匪」，最有可能是指下列何者？(A) 伺機抗日的臺民 (B) 居無定所的羅漢腳 (C) 來臺的日本流浪漢 (D) 大陸來臺的抗日義軍。
- () 6. 日治時期，總督府實施哪一政策將無主山林地收歸國有，以利開發森林資源，但也造成原住民傳統領域的流失？(A) 舊慣調查 (B) 戶口調查 (C) 林野調查 (D) 土地調查。
- () 7. 右圖是某一文件的部分內容，此文件最可能是下列何者？(A) 法軍將領給清廷的戰帖 (B) 日本給牡丹社原住民的公告 (C) 臺灣民主國給日本總督的警告 (D) 日本給臺灣民主國的勸降書。
- () 8. 「此時政府一方面以武力鎮壓各地的武裝抗日行動，一方面尊重臺灣人民的風俗習慣與社會組織，以拉攏臺灣人民，消除反抗。」以上敘述屬於哪一階段的日本治臺政策？(A) 明治維新時期 (B) 皇民化運動時期 (C) 內地延長主義時期 (D) 殖民地特殊統治時期。
- () 9. 日軍登陸臺灣後，在臺北舉行始政典禮，正式開始在臺灣的統治。請問：日人在臺灣設立的最高行政首長是下列何者？(A) 警察 (B) 甲長 (C) 保正 (D) 總督。
- () 10. 日治時期，在霧社事件中領導抗日的英雄是何人？(A) 丘逢甲 (B) 余清芳 (C) 唐景崧 (D) 莫那魯道。
- () 11. 日本對臺灣的統治被視為「典型的警察政治」，其原因應為下列何者？(A) 警察是地方上最高行政首長 (B) 警察可以自行處理地方行政工作 (C) 地方行政以警察為中心，不少事務都有警察介入 (D) 警察掌管行政、立法、司法和軍事大權。
- () 12. 日本統治臺灣 50 年間，政策可分成三個時期，若依時間順序將以上的總督官職排列出來，下列何者正確？(A) 武官、文官、武官 (B) 武官、武官、文官 (C) 文官、武官、武官 (D) 文官、武官、文官。
- () 13. 日本對臺灣的殖民統治達 50 年之久，其統治政策依序有三個階段的演變。由第一階段改變為第二階段的原因為何？(A) 臺人武裝抗日不斷 (B) 民族自決思潮興起 (C) 臺灣總督頒布「六三法」 (D) 臺灣總督推行皇民化運動。
- () 14. 小貞在某篇人物傳記的關鍵詞看到「日治時期」、「臺灣民政長官」與「基礎建設」等，這篇文章應該是下列何人的傳記？(A) 磯永吉 (B) 莫那魯道 (C) 八田與一 (D) 後藤新平。
- () 15. 某一布告中提到：「……國際公法規定，若割讓土地無法被當地人民所接受，則該約便無法成立，

大清皇帝已割讓臺灣及澎湖群島，並派欽差大臣與本總督完成授受之約。故本總督乃坐鎮臺北，安撫民眾，遂行統治。今得知您占據臺南，外無援兵，孤軍頑抗，……您若能體察大清皇帝聖旨，應立即停止抵抗，讓民眾免於戰火之苦。

外國已有前例可循。若各國能仗義執言，使臺灣歸還大清，臺民願以所有利益回報。」此布告最早可能出現於下列何時？(A) 馬關條約簽訂後 (B) 清法戰爭發生時 (C) 中日戰爭爆發後 (D) 第一次世界大戰爆發後。

- () 16. 右圖是 1927 年上半年臺北市臺、日人每天工資比較表，從表中的數據看來，可知下列何事？(A) 工業臺灣，農業南洋 (B) 工業日本，農業臺灣 (C) 臺灣人在就業上受到不平等待遇 (D) 臺灣人在就業上多以勞工階級為主。



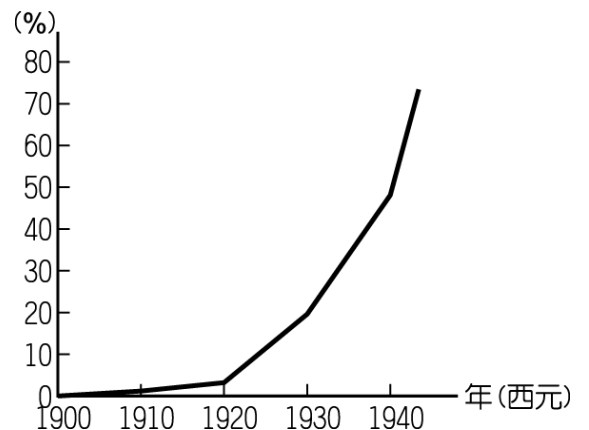
- () 17. 歷史老師請同學以「霧社事件」為題，進行分組討論。以下是該組四位同學的意見，其中共有幾位同學的看法是錯誤的？
甲生：「事件爆發於西元 1940 年。」
乙生：「領導人為噶瑪蘭族頭目。」
丙生：「爆發地點位於今南投縣仁愛鄉。」
丁生：「事件過後，日人重新檢討統治原住民的政策。」
(A) 一位 (B) 二位 (C) 三位 (D) 四位。
- () 18. 臺灣總督府利用哪三個環節，在臺灣建立起堅實的統治基礎？(A) 警察、保甲、壯丁團 (B) 警察、軍人、壯丁團 (C) 軍人、警察、保甲 (D) 軍人、保甲、壯丁團。
- () 19. (甲) 皇民化運動 (乙) 內地延長主義 (丙) 殖民地特殊統治。上述日本治臺政策依時間先後順序排列，下列何者正確？(A) 甲乙丙 (B) 丙乙甲 (C) 甲丙乙 (D) 乙甲丙。
- () 20. 臺灣總督府為了獲取臺灣山林資源，但又受限於原住民不服管理，所以最後制定下列哪一項政策，確保原住民歸順臣服？(A) 開啟五年理蕃計畫 (B) 貫徹日臺合一政策 (C) 執行皇民化運動政策 (D) 首次在臺推動保甲制度。
- () 21. 1908 年，小羚想從臺北搭火車到恆春探望好友。她最遠只能搭火車到何處下車，再轉搭汽車到達目的地？(A) 臺南 (B) 高雄 (C) 新竹 (D) 屏東。
- () 22. 附表是某人在臺灣旅遊的部分行程，依內容判斷，此人最可能是下列何者？(A) 荷蘭聯合東印度公司的駐臺牧師 (B) 清代開港時來臺的外國商人 (C) 跟隨鄭成功來臺的明朝文人 (D) 日本統治下訪臺的國會議員。
- | 時間 | 地點 | 參觀行程 |
|-----------|----|---------------|
| 2/22~2/23 | 臺南 | 孔廟、赤崁樓、嘉南大圳 |
| 2/23~2/24 | 高雄 | 西子灣海水浴場、臺糖製糖廠 |
| 2/24 | 屏東 | 鵝鑾鼻燈塔 |
| 2/27 | 臺北 | 紅毛城、英國領事領 |
- () 23. 「第一次世界大戰結束後，帝國主義國家多遭逢殖民統治的困境，包括如何面對殖民地蓬勃發展的民族運動，及如何繼續利用殖民地的資源以擴張經濟。」針對上述局勢，當時的統治者在臺灣採取下列何項措施？(A) 頒布「六三法」(B) 實行內地延長主義 (C) 開始建造縱貫鐵路 (D) 派兵征討臺灣民主國。
- () 24. 老師請同學討論，「1935 年時臺灣地區電力總產能是 1931 年的 3 倍，產量也增加一倍。」以下是四位同學的看法，請問：何者的看法最符合史實？(A) 王同學：是因總督府為了推廣閱讀，所以推動在每個家庭普遍裝設電燈 (B) 張同學：當時的總督府為了要發展鐵路電氣化，所以需要大量用電 (C) 李同學：總督府判斷現有設施不足以應付日益成長的電力需求，故新建電廠因應 (D) 陳同學：王同學說法不對，電燈耗電量小，是日本為了滿足臺灣所有人民的用電需要。
- () 25. 日本推動「南進政策」時，臺灣因而改採為「工業臺灣」政策。當時臺灣工業的發展重點是指下列何者？(A) 民生工業 (B) 化學工業 (C) 交通工業 (D) 國防軍需工業。
- () 26. 2002 年，南投縣某位年過 80 歲的原住民長老回憶：「小時候，日人為了進一步開發山區森林與樟腦資源，經常用很少的薪水雇用部落成員到深山負責砍伐或搬運，也常派出警察到部落巡視、駐紮。這些高壓統治政策，逼迫我們只好武裝起來反抗。」請問：這位原住民長老回憶的抗日事件，最有可能是下列何者？(A) 臺灣民主國 (B) 西來庵事件 (C) 牡丹社事件 (D) 霧社事件。
- () 27. 在內地延長主義時期，殖民政府強調將臺灣視為「內地」的一部分，標榜哪一觀念？(A) 民族自決 (B) 臺人優越 (C) 日臺合一 (D) 日尊臺卑。

- () 28. 附圖是日治時期保正、甲長職務圖，根據圖中事項來看，當時保正、甲長工作主要目的為何？(A) 發起抗日活動 (B) 推翻總督專制 (C) 維持地方安寧 (D) 結束殖民統治。
- () 29. 日治初期臺灣對日抗爭不斷，加上每年需對臺灣補助七百萬日圓，日本逐漸認為臺灣殖民地對日本而言是負擔，法國政府亦表明願以一億日圓買下臺灣。請問：總督府採取了哪些措施，直接造成財政收入提高，減少日本的經濟負擔？甲、廣設郵電通訊 乙、樟腦專賣 丙、鴉片專賣 丁、修築縱貫鐵路 戊、土地與林野調查 (A) 甲乙丙 (B) 乙丙戊 (C) 甲丁戊 (D) 乙丙丁。



- () 30. 下列為日本殖民統治臺灣五十年中，臺灣所發生的重要事件，若按照先後順序排列，何者正確？(甲) 第二次世界大戰結束 (乙) 中日戰爭爆發 (丙) 甲午戰爭 (丁) 第一次世界大戰結束 (A) 丁甲乙丙 (B) 丙乙丁甲 (C) 丙丁甲乙 (D) 丙丁乙甲。

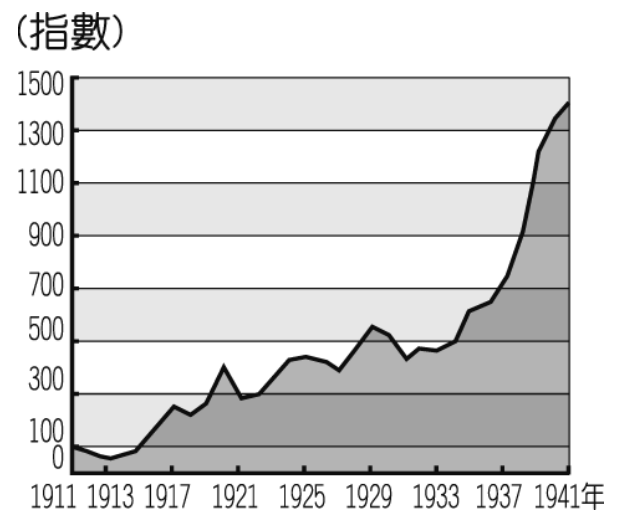
- () 31. 右圖為日治時期日語普及率曲線圖。請問：1940年代日語普及率迅速增高與政府推動何項政策有密切關係？(A) 推動皇民化運動 (B) 執行五年理蕃計畫 (C) 開始內地延長主義時期 (D) 殖民地特殊統治時期結束。



- () 32. 日治時期，殖民政府設立哪一家銀行整頓金融，統一發行貨幣？(A) 臺灣銀行 (B) 日本銀行 (C) 中央銀行 (D) 臺北銀行。

- () 33. 某本日治時期的地方志記載：「首任文官總督抵臺後，希望軍民分治，改革地方制度……。」上述資料說明了日本統治臺灣的哪一時期？(A) 臺灣民主國時期 (B) 皇民化運動時期 (C) 內地延長主義時期 (D) 殖民地特殊統治時期。

- () 34. 小琪在做段考複習時，看到課本上有一張「臺灣輕工業生產指數圖」(如附圖)。請問：圖中在 1930 年代以後，生產指數大幅上升的原因為何？(A) 西部縱貫鐵路完工通車 (B) 日月潭水力發電所的完工 (C) 新型稻種的培植成功 (D) 日本政府推行皇民化運動。



- () 35. 連橫的《臺灣通史》中有記錄下這段話：「朝廷保兵恤民，遣使行成，日本要索臺灣，竟有割臺之款，事出意外。聞信之日，紳民憤恨，哭聲震天。」以上史料中所敘述之事，是哪一戰爭失敗後的結果？(A) 甲午戰爭 (B) 中日戰爭 (C) 牡丹社事件 (D) 英法聯軍之役。

- () 36. 資料一：諺語：第一憨，種甘蔗予會社磅(稱重量)。

資料二：1905年6月臺灣總督府規定：為制止各製糖工廠間的原料爭奪，避免擾亂蔗價，各蔗作區畫定一定範圍的區域。此區域內的甘蔗未經許可，不得運出區域之外，或供作砂糖以外成品的製作原料。

根據以上資料，下列敘述何者適當？(A) 保障新式糖廠，使其降低收購甘蔗原料的價格 (B) 保障臺灣蔗農，使蔗農有固定買主與穩定的銷路 (C) 使臺灣舊糖廠在政府補助下轉型為臺人投資的新式糖廠，奠定工業的基礎 (D) 政府照顧臺人生活，引進製糖業，糖從此成為重要輸出物資。

二、題組 (每一小題兩分，共二十八分)

題組一：日治時期，總督府曾經在臺灣實行過很多的農業改革措施，而使得農產量大增，進而帶動各項產業的發展。請問：

- () 37. 1922年，哪一種稻米培育成功，為臺灣的農業生產帶來新的進步？(A) 香米 (B) 在來米 (C) 蓬萊米 (D) 越光米。
- () 38. 日治時期規模最大的水利工程，灌溉面積達 15 萬公頃，是由何人所設計建造的？(A) 磯永吉 (B)

八田與一 (C) 後藤新平 (D) 兒玉源太郎。

題組二：「小春在日治時期改名為春子，並且定期要去參拜日本神社，她的丈夫也因為戰爭的緣故，被日本政府徵調到南洋去當軍伕。」請回答下列問題：

- () 39. 根據上文，小春所處的時期有可能為何？(A) 民族自決時期 (B) 皇民化運動時期 (C) 內地延長主義時期 (D) 殖民地特殊統治時期。
- () 40. 小春的丈夫因為哪一場戰爭的緣故，被日本政府徵調到南洋去當軍伕？(A) 甲午戰爭 (B) 中法戰爭 (C) 第一次世界大戰 (D) 第二次世界大戰。

題組三：丘逢甲率領臺北士紳一百多人，以鼓號樂隊為前導，浩浩蕩蕩地恭送「臺灣民主國」的總統印章與國旗到巡撫衙門。臺灣巡撫接了總統官印、升上了國旗，眾人忍不住哭泣起來，「臺灣民主國」的成立典禮，就在悲慘的氣氛中結束。請問：

- () 41. 丘逢甲等人打算將「臺灣民主國」的總統印章獻給何人？(A) 唐景崧 (B) 邵友濂 (C) 劉銘傳 (D) 沈葆楨。
- () 42. 文中所指的「國旗」是下列哪一種樣式？(A) 五色旗 (B) 五星旗 (C) 藍地黃虎旗 (D) 青天白日滿地紅旗。

題組四：圖(一)、(二)為描繪臺灣日治初期的歷史漫畫，請由圖中內容回答下列問題：

農曆七月七日西來庵，密謀起事。



圖(一)

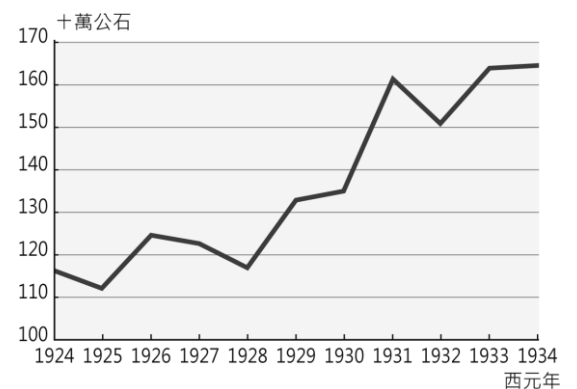


圖(二)

- () 43. 漫畫中提及的「密謀起事」，指的是下列哪一事件？(A) 霧社事件 (B) 噶吧嘍事件 (C) 臺灣民主國 (D) 郭懷一事件。
- () 44. 漫畫中，主要策畫起事的是哪一歷史人物？(A) 丘逢甲 (B) 余清芳 (C) 唐景崧 (D) 莫那魯道。
- () 45. 漫畫中這起事件的最後結局為何？(A) 領導人先後返回中國而宣告失敗 (B) 起事者受到民眾大力支持而成功 (C) 該族被屠殺殆盡，促使日人重新審視理番計畫 (D) 主事者被捕後，漢人武裝抗日行動大致停止。

題組五：附表是 20 世紀上半葉，臺灣南部某項物產的生產趨勢

- () 46. 附表中的這項物產應該是下列何者？(A) 樟腦 (B) 香蕉 (C) 茶葉 (D) 稻米。
- () 47. 1930 年後的產量上升幅度提高的原因可能為何？(A) 耕地面積擴大 (B) 中日戰爭爆發 (C) 政策推廣種植 (D) 大型發電廠完工。



題組六：以下是彭老師針對日治時期臺灣蔗糖產業的簡報數據：

1. 蔗作面積十六萬七千餘甲、占耕地總面積的 19%
2. 蔗農十四萬六千餘戶，占全農家戶數的 30%，等於臺灣總戶口 15%
3. 產糖量達一百四十萬公噸，等於領臺當初產量的 50 倍
4. 產糖總值一億九千萬元，占工業總生產的 48%
5. 砂糖輸出達二億六千萬元，占總輸出的 43%

- () 48. 蔗農主要居住於臺灣何處？(A) 北部 (B) 中部 (C) 南部 (D) 東部。
- () 49. 請就簡報數據進行判斷，此產量數據最有可能出於下列哪個時間段內？(A) 1895~1900 年 (B) 1905~1910 年 (C) 1930~1935 年 (D) 1940~1945 年。
- () 50. 蔗糖產量是領臺時產量的 50 倍。請問：下列何者並非當時蔗糖產量大增的因素？(A) 種植甘蔗獲利豐厚 (B) 新式工廠提升效率 (C) 開放日本企業進駐 (D) 興建大型水利設施。