

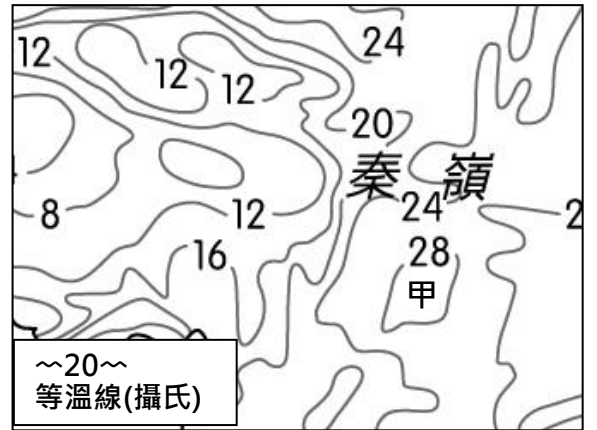
桃園市立大有國民中學 108 學年度第一學期第二次評量試卷

年級	八	考試科目	地理			命題範圍	L3-L4	作答時間	45分
班級		姓名		座號		分數			

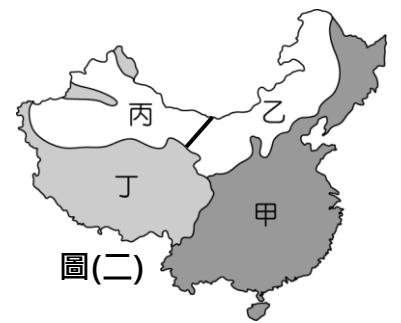
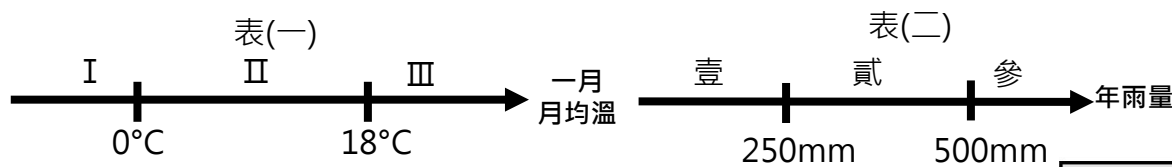
選擇題 50 題，一題 2 分，共 100 分。

小叮嚀：作答以答案卡為主，但是題目卷仍須寫上答案，以利檢討。

- () 1. 圖(一)為中國七月月均溫等溫線圖，甲地的七月均溫最可能為攝氏幾度？
 (A)20度 (B)25度 (C)29度 (D)32度。
- () 2. 中國幅員廣大，各地雖氣候條件差異很大，但夏季時各地普遍高溫，主要的原因為何？(A)夏季高壓影響 (B)海洋水氣影響 (C)中國緯度偏低 (D)太陽直射北半球。
- () 3. 承上題，四川盆地與柴達木盆地的夏溫卻有差異，最主要的影響因素為何？(A)地勢高低 (B)海陸性質 (C)緯度高低 (D)距海遠近。
- () 4. 大有國中利用暑假進行國際交流，配合天氣變化，參與哪一個地區教育旅行的學生最需要準備大衣以防低溫？(A)海口 (B)拉薩 (C)上海 (D)北京。
- () 5. 豬血糕曾被英國旅遊網評為全球十大怪食之首，在中國也很常將豬血製成食材，如豬血湯、豬血年糕。因各區域飲食文化不同的緣故，在中國哪一區域旅遊時，最能**避免**遇到上述食物？(A)貴州省 (B)新疆維吾爾自治區 (C)北京市 (D)香港特別行政區。
- () 6. 就氣候類型而言，圖(二)中的乙地，大致上能相對應到表(一)與表(二)中的哪兩代號呢？
 (A) I, 壹 (B) I, 貳 (C) II, 壹 (D) II, 貳。

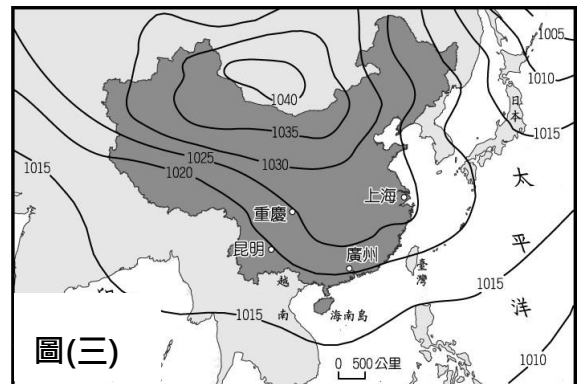


圖(一)



圖(二)

- () 7. 下列哪一首詩詞所描述的季节與圖(三)地面天氣圖的季节最為符合？
 (A)月黑雁飛高，單于夜遁逃。欲將輕騎逐，大雪滿弓刀
 (B)遲日江山麗，春風花草香。泥融飛燕子，沙暖睡鴛鴦。
 (C)綠樹陰濃夏日長，樓臺倒影入池塘。水晶簾動微風起，滿架薔薇一院香
 (D)銀燭秋光冷畫屏，輕羅小扇撲流螢。天階夜色涼如水，臥看牽牛織女星
- () 8. 中國第二級階梯的北半部氣候乾燥，乾燥地表在風力吹蝕下形成沙塵暴，下列哪一張圖最符合「沙塵暴影響臺灣時期的盛行風風向」？



圖(三)

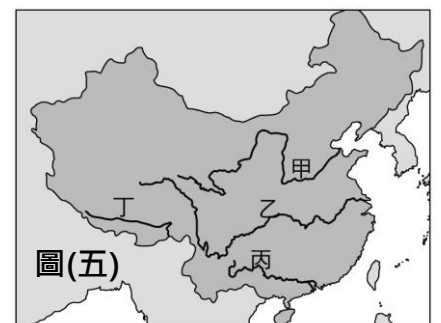
- (A) (B) (C) (D)

- () 9. 棉花是一種喜好高溫與光照、不耐澇的植物，生長發育最適合的溫度是攝氏 25-30 度，在每日 12 小時光照條件下發育最快，對水的需求度低，土壤做好排水工作方能生長。根據氣候條件分析，附圖(四)中哪一區域最適合種植棉花？(A)甲 (B)乙 (C)丙 (D)丁。
- () 10. 東漢末年，張陵創五斗米道，凡入教者每年必須納米五斗，當時的五斗米對老百姓來說一大筆數字，若就氣候與飲食文化的影響來說，圖(四)中哪一區域因主要種植作物為稻米而相對較容易納米五斗？(A)甲 (B)乙 (C)丙 (D)丁。



圖(四)

- () 11. 為了適應多樣的氣候，中國各地居民的生活方式有所不同。關於分布在長江流域下游的河姆渡文化，其生活特色說明，何者正確？(A)主要作物為小米 (B)住屋型態多為高腳屋 (C)以駱駝為交通工具 (D)以蒙古包為居所。
- () 12. 侑恆希望沿著河川的發源地到出海口走一遍，就能體驗中國三大氣候(季風、乾燥、高地氣候)，他應該去圖(五)的哪一條河川？(A)甲 (B)乙 (C)丙 (D)丁。



圖(五)

()13. 中國三大外流區中以太平洋外流區所占面積最大，其原因為何？

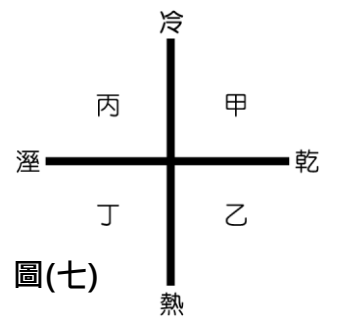
- (A)海陸性質差異 (B)地勢西高東低 (C)西半部氣候乾燥 (D)太平洋面積最大。

()14. 下列有關中國境內淡水湖的說明，何者正確？ (A)分布在高地氣候區 (B)多位於外流區 (C)鹽分濃度較高 (D)可生產湖鹽。

()15. 位於甘肅敦煌的莫高窟(圖六)以壁畫和彩塑雕像聞名，因當地氣候條件配合使壁畫經歷千年而保存情況較佳。根據氣候要素畫分出圖(七)四大象限，莫高窟的氣候類型最可能位於圖中哪一象限？(A)甲 (B)乙 (C)丙 (D)丁。



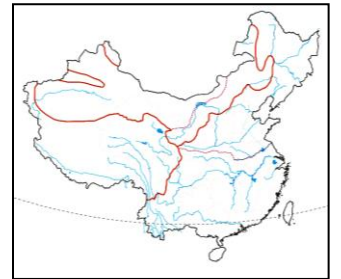
圖(六)



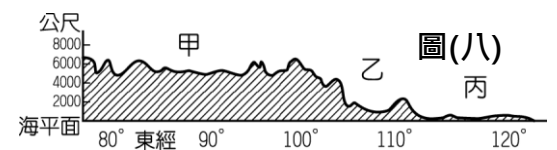
圖(七)

註：冷/熱以一月 0°C 區分；乾/溼以年降水量 500mm 區分

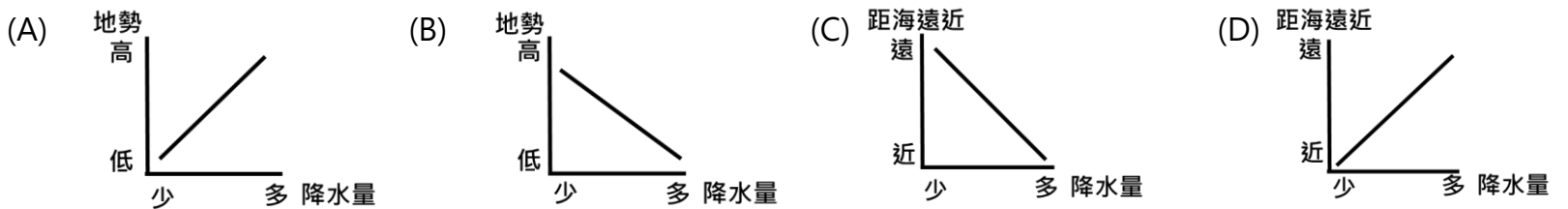
()16. 選項中哪兩條河流在中國境內所流經的主要氣候區最為相同？(右圖為參考資料)(甲)珠江 (乙)塔里木河 (丙)雅魯藏布江 (丁)額爾濟斯河 (A)甲乙 (B)乙丙 (C)丙丁 (D)甲丁。



()17. 圖(八)為中國沿著北緯 36 度線所繪製的剖面圖，由圖中資料判斷，夏季時從丙地向甲地前進，其變化大致呈現何種狀況？(A)草原面積越來越廣 (B)水稻田越來越多 (C)降水量越來越多 (D)日均溫越來越低。

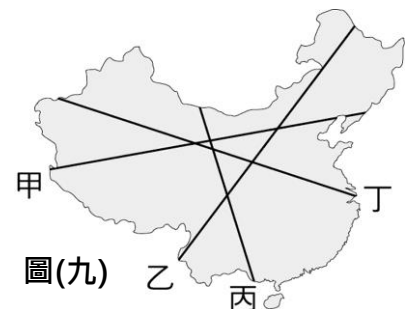


()18. 關於中國降水量的主要趨勢變化，何者最正確？



()19. 中國各地自然環境差異大，從黑河到騰衝為分界，呈現人口分布不均的狀態。下表中關於黑河-騰衝一線的比較，何者正確？

	(A)主要地形	(B)氣候類型	(C)環境負載力	(D)人口密度
以東	高原、山地	季風為主	較低	較低
以西	平原、丘陵	乾燥、高地氣候	較高	較高



圖(九)

()20. 承上題，黑河-騰衝連線最接近圖(九)中哪一條線？(A)甲 (B)乙 (C)丙 (D)丁。

()21. 根據中國氣候區分標準，下表中應為哪一氣候類型？(A)溫帶草原 (B)溫帶季風 (C)溫帶沙漠 (D)高地氣候。

	1月	2月	3月	4月	5月	6月	7月	8月	9月	10月	11月	12月	年均溫
月均溫 (°C)	-1.6	1.5	5.2	8.4	12.3	15.7	15.9	14.7	12.9	8.7	2.9	-1.2	7.95
月雨量 (mm)	0.8	1.2	2.9	6.1	27.7	71.2	112.6	118.5	62.3	8.8	1.3	1.0	414.4

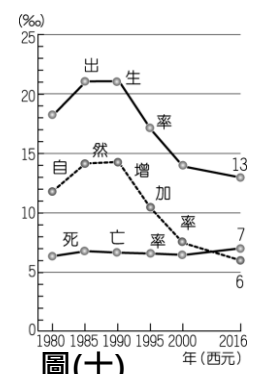
()22. 右表為中國民族數量前四名統計，其中甲最有可能為哪個民族？ (A)

民族	甲	乙	丙	丁
比例	91.5%	1.275%	0.765%	0.765%

- 壯族 (B)藏族 (C)滿族 (D)漢族。

()23. 中國傳統社會因儒家體系男尊女卑核心價值觀作祟，歷史上多次溺女風潮，嚴重造成性別比失衡。在這樣的背景底下，性別比最可能為何？(A)90 (B)98 (C)101 (D)110。

()24. 圖(十)為中國出生率、死亡率、自然增加率統計圖，由圖中可得知中國哪一項人口特徵？(A)老年人口比例增加 (B)人口成長受死亡率影響 (C)性別比嚴重失衡 (D)人口總數持續增加。



圖(十)

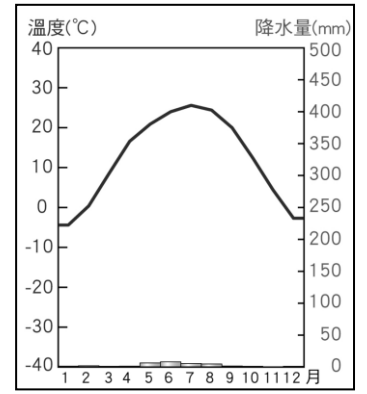
()25. 中國境內各地區的發展差異極大，若單就都市化的程度而言，中國哪一個區域都市化程度最高？(A)第一級階梯 (B)第二級階梯 (C)第三級階梯 (D)第四級階梯。

()26. 中國人口眾多，對社會與經濟的發展有其正面與負面之影響，所造成的正面影響包括哪些？(甲)市場廣大 (乙)勞力豐沛 (丙)資金充足 (丁)民族多元 (A)甲乙 (B)乙丙 (C)甲丁 (D)乙丁。

- ()27. 如果地理課分組的依據是「相同的宗教信仰」，以下哪些族群的同學可以組成一組(僅考慮該族群的主要宗教)? (甲)滿族的毓婷(乙)哈薩克族的乃翔 (丙)藏族的宜萱 (丁)回族的楷程
(A)甲乙 (B)乙丙 (C)丙丁 (D)乙丁。

【地理在讀，氣候圖要會】根據圖(十一)回答以下問題

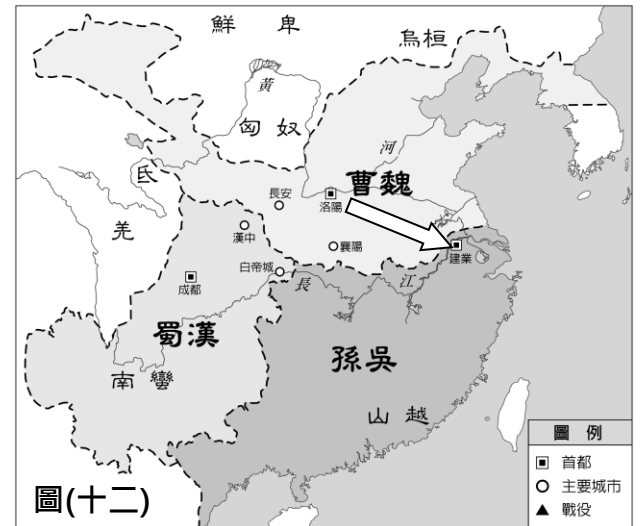
- ()28. 步驟一_判讀一月均溫範圍：(A)0度以下、(B)0~18度之間、(C)18度以上。
()29. 步驟二_年雨量計算：將每個月的雨量加總得出年雨量範圍為(A)250mm 以下 (B)250mm~500mm 之間 (C)500mm 以上。
()30. 步驟三_一月均溫+年雨量判斷氣候帶：圖(十一)為什麼氣候?(A)高地氣候 (B)溫帶沙漠 (C)溫帶草原 (D)溫帶季風。
()31. 因應該地氣候特徵，人類活動最可能有以下哪一特色?(A)以高腳屋為傳統住宅 (B)禦寒衣物輕薄 (C)傳統交通工具為犛牛 (D)飲食以肉、乳為主。



圖(十一)

三國中蜀漢最先被魏所滅，不久，曹魏大臣司馬炎篡魏，改國號為晉，定都洛陽。太康元年滅吳，中國歸於統一。依據內文及圖(十二)三國鼎立示意圖回答問題：

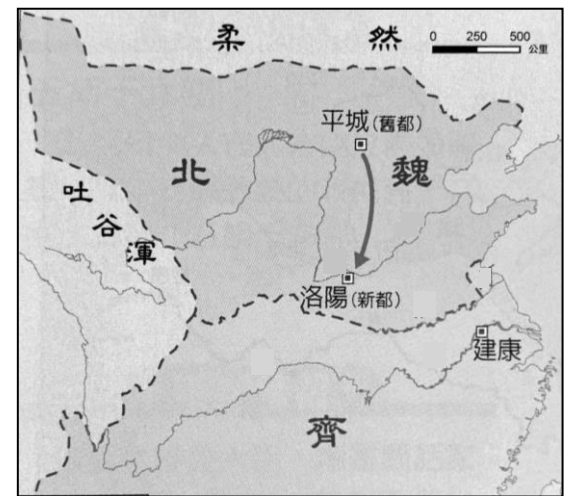
- ()32. 中國是一個多元民族的國家，因各地自然環境的不同，而發展出不同語言與生活方式的民族。根據地形阻隔而民族多元的規律，三國中哪一國家的少數民族最多元?(A)曹魏 (B)孫吳 (C)蜀漢。
()33. 這三個國家有哪個共同的氣候類型?(A)季風氣候區 (B)乾燥氣候 (C)高地氣候 (D)溫帶草原。
()34. 某年11月，晉軍從洛陽至建業(長江中下游一帶)滅吳的征戰過程中(圖十二箭頭方向)，其環境變化為何?(A)日均溫越來越高 (B)盛行風轉成南風 (C)針葉林越來越多 (D)日溫差越來越大。



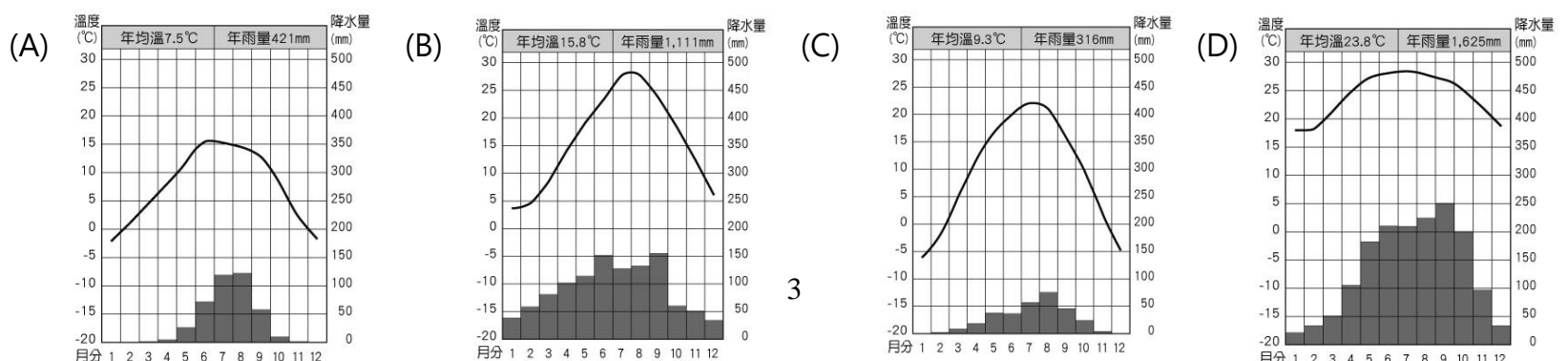
圖(十二)

鮮卑人是繼匈奴人後在北方興起的古代游牧民族，他們建立了北魏統一北方，開啟了「北朝」歷史。北魏孝文帝將首都從平城(山西省大同市)南遷到洛陽(河南省洛陽市)，並積極展開漢化生活，隨著漢化運動之後，鮮卑語及其風俗文化逐漸消失。請依文與圖(十三)北魏孝文帝遷都形勢圖，回答問題：

- ()35. 對孝文帝及其部屬來說，遷都後的生活會有什麼轉變呢?(A)主要作物從小麥變為稻米 (B)從畜牧生活轉為農業生活 (C)從黃河流域變成珠江流域 (D)傳統建築從窯洞變成蒙古包。
()36. 冬季的強風總是讓人冷得直打哆嗦，對住在平城的鮮卑人來說，主要冬季風向為何?(A)↙ (B)↘ (C)↗ (D)↖。
()37. 根據圖(十三)判斷，當時北魏與齊的國界最可能為以下何者?(A)長城 (B)南嶺 (C)淮河 (D)京杭大運河。
()38. 根據鮮卑人的發源地點與生活方式判斷，漢化運動前的鮮卑人最接近現今中國哪一少數民族的生活方式?(A)蒙古族 (B)壯族 (C)藏族 (D)維吾爾族。
()39. 為了方便騎馬，北魏保留褲腳用錦帶捆紮的習慣，根據北魏原首都平城位置及內文判斷，平城應為以下哪一氣候類型？



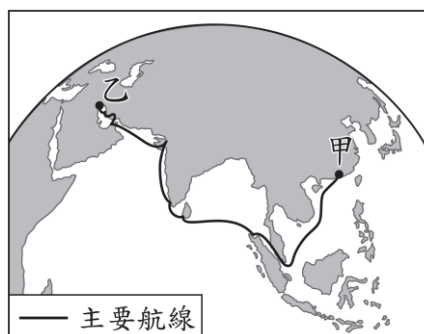
圖(十三)



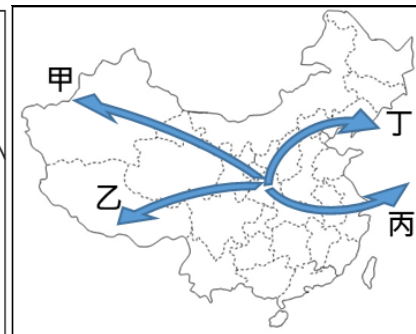
隋唐經濟繁榮，社會上也因容納各種文化而呈現兼容並蓄的風貌，經濟方面有胡商經絲路到長安的貿易，也有阿拉伯商人經海路到廣州的貿易；文化方面胡漢融合；宗教方面宗派林立，整個社會呈現一種「天下國家」的世界性。根據本文回答40-43題。

()40. 阿拉伯商人打算利用盛行風把中國蠶絲、紙張運回大食，依據圖(十四)示意圖，關於此艘船班航行的描述何者正確？

- (A)夏季出發，從甲地到乙地
- (B)夏季出發，從乙地到甲地
- (C)冬季出發，從甲地到乙地
- (D)冬季出發，從乙地到甲地



圖(十四)



圖(十五)

()41. 唐太宗時，文成公主下嫁吐蕃君主松贊干布，將佛

教與農業技術傳入吐蕃，也促進哪兩大族群的交流？(A)漢族與藏族 (B)藏族與回族 (C)漢族與回族 (D)滿族與藏族。

()42. 承上題，文成公主的出嫁隊伍路線最接近圖(十五)中哪一條路線？(A)甲 (B)乙 (C)丙 (D)丁。

()43. 中國某地因地處邊境與鄰國往來頻繁而族群多元，有如唐朝胡漢融合再現，文中是指哪一行政區？(A)雲南省 (B)黑龍江省 (C)蒙古自治區 (D)新疆維吾爾自治區。

表(三)：四個國家人口結構表 單位:萬人

表(三)為四個國家的人口結構，依表回答下列問題：

	幼年人口	壯年人口	老年人口
甲國	2,000	4,000	2,000
乙國	5,000	12,000	1,000
丙國	1,000	7,000	4,000
丁國	5,000	15,000	4,000

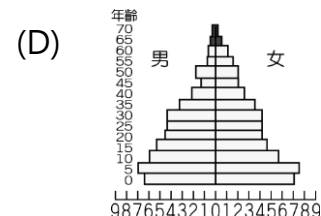
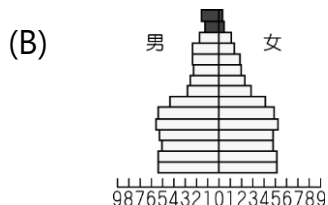
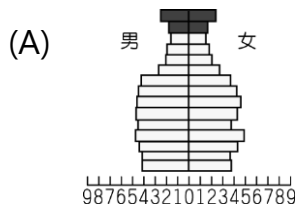
()44. 若四個國家皆未曾發生過飢荒、皆能供養生物及分解穢物的情況之下，表中哪一個國家的環境負載力最高？(A)甲國 (B)乙國 (C)丙國 (D)丁國。

()45. 表(三)中的哪一個國家，其老年人口比例未達到高齡化社會的標準？(A)甲國 (B)乙國 (C)丙國 (D)丁國。

()46. 乙國的扶養比為何？(A)9.1% (B)41% (C)50% (D)200%。

中國為控制人口數量而於1979年起實施計畫生育政策，規定每一位夫妻只能生一胎，此一政策延緩了某部分的人口問題，卻也衍伸出更多的人口問題。

()47. 中國在實施計畫生育之前的人口金字塔最接近哪一個？



()48. 以下哪一個是計畫生育政策所導致的影響？(A)人口總數增加 (B)性別比失衡 (C)重男輕女觀念 (D)人口素質不均。

()49. 由人口金字塔圖中較無法看出下列哪一項人口特色？(A)幼年人口性別比 (B)扶養人口比例 (C)勞動人口比例 (D)總人口數。

()50. 2015年時，中國宣布「結束一胎化政策，開放生育二胎」，兩孩政策的宣布可以緩解目前中國哪一項人口問題？(A)人口呈現負成長 (B)城鄉人口流動 (C)人口結構高齡化 (D)重男輕女觀念。