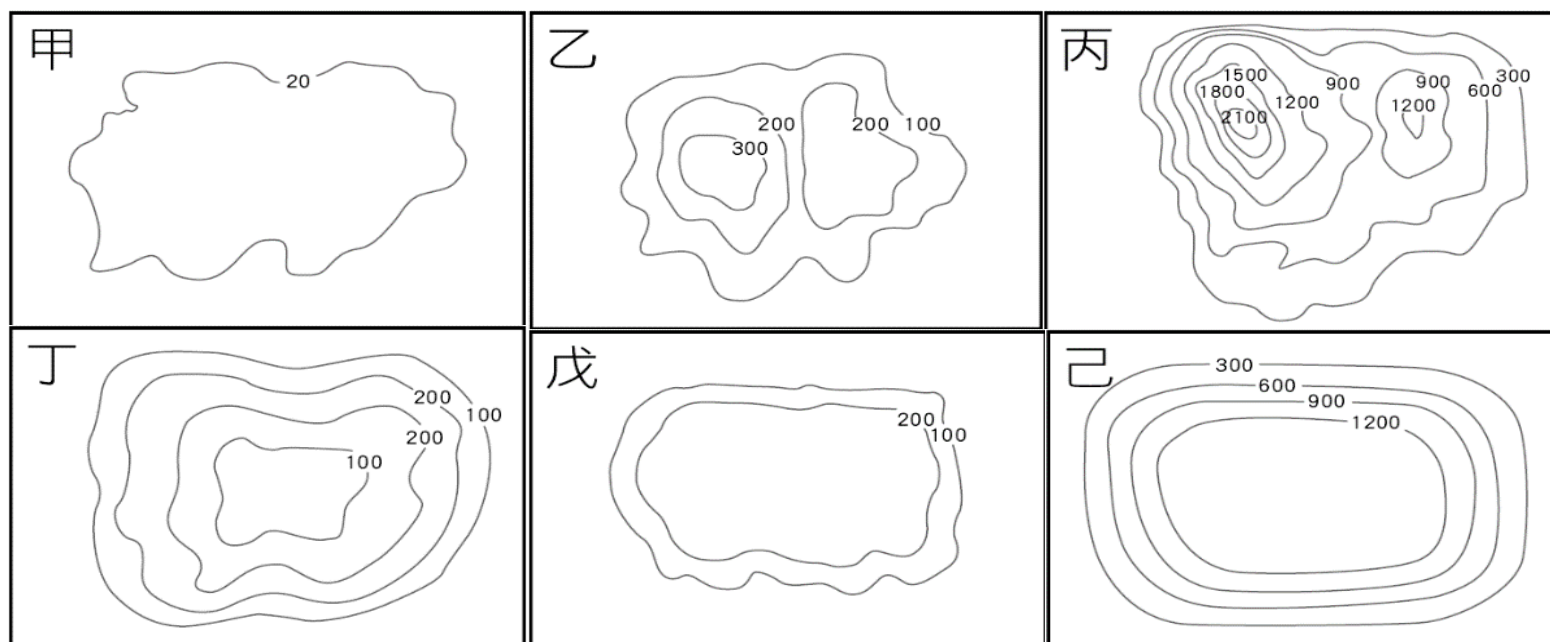


年級	七年級	考試科目	地 理		命題範圍	L3 ~ L4	作答時間	45 分
班級		姓名		座號	分數			

 選擇題，共 45 題，第 1~10 題，每題三分；第 11~45 題，每題兩分，計 100 分

 題目卷，共兩張四面，請仔細作答 第一頁

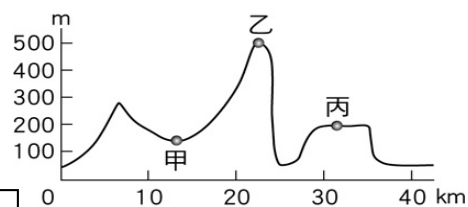
 地表形貌各具特色，請依題目所述，選出符合題意的地形種類，依序回答下列 1~5 題：



- ( ) 台灣的彰化、雲林等縣市素有『臺灣穀倉』之稱，近年來更以蔬果、花卉聞名全台，該地區能有此農業發展的優勢，主要是因為這些縣市擁有何種地形條件？(A) 甲 (B) 乙 (C) 戊 (D) 己。
- ( ) 喜歡親近大自然的心育，對於台灣豐富的自然美景十分嚮往，若他想要體會台灣高山之美，下列哪種地形種類最能滿足心育的心願？(A) 乙 (B) 丙 (C) 戊 (D) 己。
- ( ) 下列哪些地形因具有適合人們居住與發展的自然條件，因此今日成為台灣人口的主要集中區？(A) 甲乙 (B) 乙戊 (C) 甲丁 (D) 丁己。
- ( ) 日本觀光客熱愛來臺，行程中若規劃前往桃園、新竹、苗栗一帶進行深度旅行，沿途所見的地形會以下列哪兩種為主？(A) 甲乙 (B) 乙丙 (C) 乙戊 (D) 戊己。
- ( ) 台灣地形種類多元，但唯獨下列何種地形在台灣無法看到？(A) 甲 (B) 丁 (C) 戊 (D) 己。

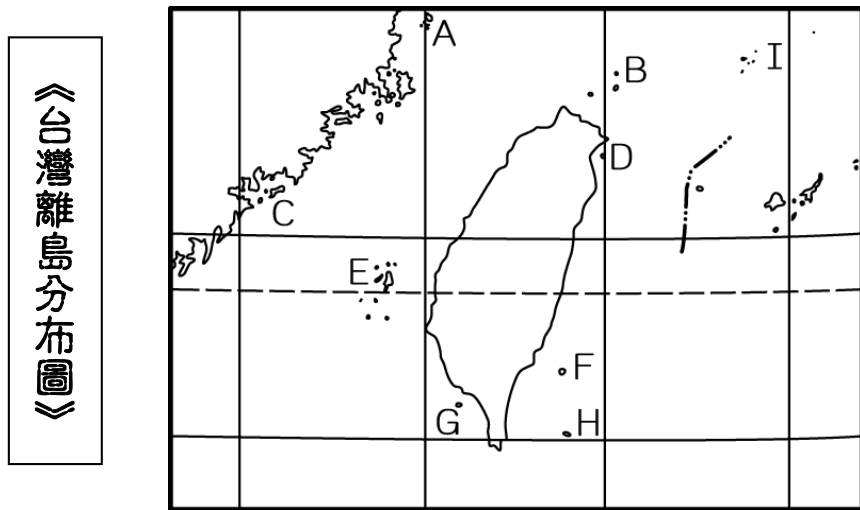
 地形表示方法日新月異，每種地圖呈現皆有其重要性與獨特性，請依序回答下列 6~10 題：

- ( ) 若想要繪製一張臺灣島的『地形分層設色圖』，應以下列哪種地圖為底圖最為適合？(A) 地形剖面圖 (B) 等高線地形圖 (C) 衛星影像圖 (D) 經緯線圖。
- ( ) 若要仔細觀察大有國中校區周遭的景物及土地利用概況，應使用下列哪種地圖最為適當？(A) 地形剖面圖 (B) 行政區圖 (C) 分層設色圖 (D) 航空照片圖。
- ( ) 每逢夏秋兩季，颱風總能帶來充沛的雨量，有時卻因為瞬間降雨量驚人，往往重創臺灣中、南部山區。倘若相關單位要進行災區重建或災後復原時，應參考或使用下列哪種地圖，最能快速了解當地受損的情形？(A) 等高線地形圖 (B) 立體模型 (C) 地形剖面圖 (D) 衛星影像圖。
- ( ) 等高線地形圖是一種常用的地形表示方法，下列有關等高線地形圖的敘述，何者正確？(A) 在地圖上將地表坡度相同的各點，連成一條條的閉合曲線，稱為等高線 (B) 等高線地形圖可以完整呈現地表的概況與土地利用情形 (C) 在等高線地形圖上，等高線之間的疏密程度可顯示出地面坡度的不同 (D) 在等高線地形圖上，等高線的水平間距愈密集，表示坡面愈平緩。
- ( ) 《附圖一》為某地的地形剖面圖。請問：『丙地』應屬於哪種地形？(A) 丘陵 (B) 盆地 (C) 山地 (D) 台地。



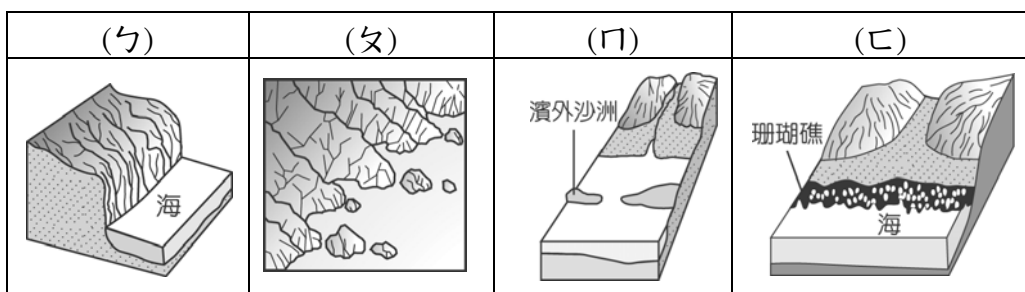
附圖一

台灣四周海岸線綿延，呈現四處不同的海岸景觀，加上周圍散布眾多離島，各有形成條件與人文特色，無疑是個海洋王國。請依《台灣島嶼分布圖》&《台灣海岸類型圖》，請依序回答下列 11~20 題：



11. ( ) 若依《台灣海岸類型圖》中甲乙丙丁的順序繞台一圈，配合右表會看到的海岸景觀依序為何？

- (A) ㄉㄉㄐㄐ (B) ㄅㄅㄐㄐ  
(C) ㄅㄅㄐㄐ (D) ㄅㄅㄐㄐ。



12. ( ) 在《台灣海岸類型圖》，若依各段海岸特徵，下列敘述何者正確？

- (A) 『甲海岸』：岬灣遍布、魚塭眾多 (B) 『乙海岸』：海岸寬廣、平原廣大  
(C) 『丙海岸』：礁石眾多、生態豐富 (D) 『丁海岸』：懸崖峭壁、緊鄰深海。

13. ( ) 右表中關於《台灣海岸類型圖》中『乙處』與『丁處』做出海岸特色的比較，何項有誤？

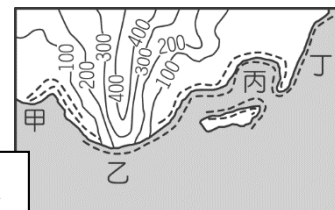
類型	(A)海底深度	(B)成因	(C)沿海平原	(D)經濟產業
乙處	深	板塊交界	狹窄	曬鹽業、養殖漁業
丁處	淺	河流沖積	寬廣	海洋漁業、航運

14. ( ) 『蛤』與『蚵』，是臺灣常見的養殖貝類，最適合生長在河川入海的海岸地形，依據《台灣海岸類型圖》，哪段海岸最適合成為『蛤』與『蚵』的生長環境？

- (A) 甲 (B) 乙 (C) 丙 (D) 丁。


15. ( ) 承上題，水產養殖往往選擇水域平淺、風浪較小的海岸地形，若依此條件，右側《附圖二》中的何處最有可能出現養殖『蛤』與『蚵』的設施？

- (A) 甲 (B) 乙 (C) 丙 (D) 丁。



16. ( ) 豈禾利用暑假期間，曾進行一趟臺灣離島之旅，『第一站』來到金門參觀戰地坑道，『第二站』則來到琉球嶼看花瓶岩，『第三站』在綠島泡溫泉，『最後一站』登上龜山島高地。依照《台灣離島分布圖》，豈禾的旅程依序經過哪些島嶼？ (A) C→G→F→D (B) C→E→F→D (C) A→G→H→D (D) A→E→H→D。

17. ( ) 承上題，旅程結束後，豈禾意猶未盡的想再探訪其他離島，試問豈禾若想要看到《附圖三》的難得景色，他應該前往《台灣離島分布圖》的何地？ (A) C (B) E (C) G (D) H。



18. ( ) 《台灣離島分布圖》中未能呈現的東沙島與太平島

，都是地勢低矮、面積狹小、人煙稀少的島嶼，但對臺灣來說，在哪方面卻極具有重要價值？

- (A) 太陽能發電的最佳地區 (B) 領海與經濟海域範圍的延伸  
(C) 大陸棚的範圍廣大 (D) 海洋生態的觀光資源。

19. ( ) 若對『A』、『C』、與『E』三大離島做一比較，下列何者正確？

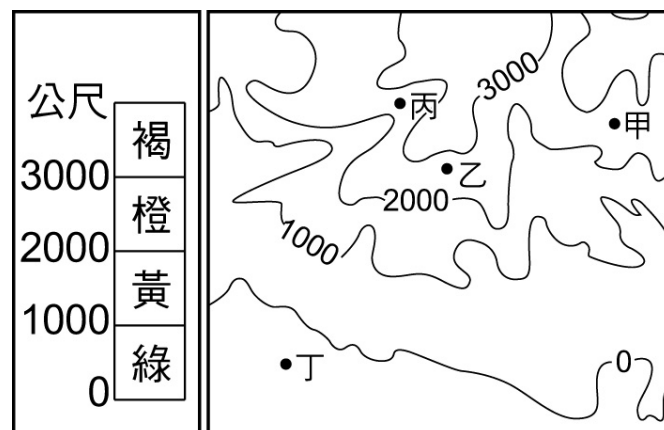
- (A) 三地皆具有地勢平坦的特徵 (B) 三地皆具有熱帶海域的觀光資源  
(C) 以『E』地的地形成因最為不同 (D) 『C』與『E』兩地緊鄰台灣，昔日皆為軍事國防要地。

20. ( ) 《台灣離島分布圖》中，哪座離島位於屏東外海、且成因特殊，憑藉著當地豐富的海洋生態，近年來吸引大批的浮潛遊客不遠而來？(A) 『E』 (B) 『F』 (C) 『G』 (D) 『H』。

📖 等高線地形圖，是瞭解地表起伏的基本工具

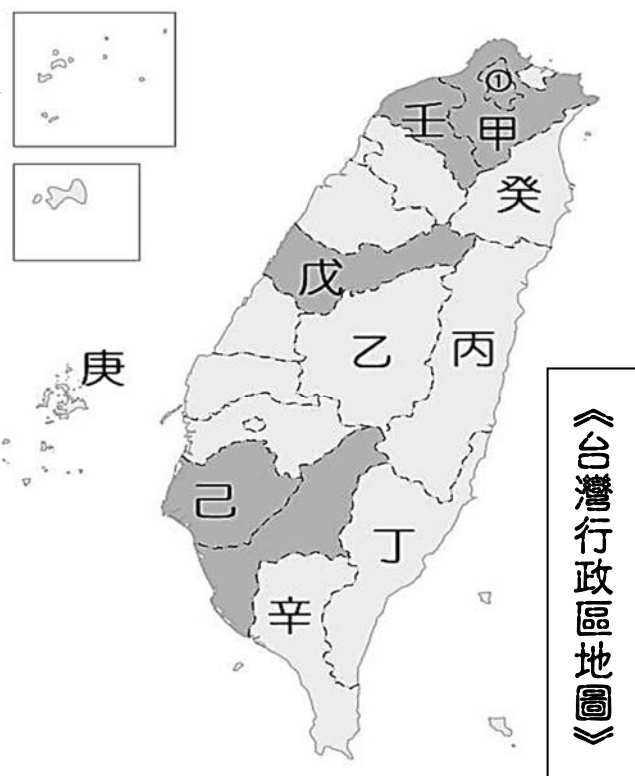
，請依右圖中所提供的訊息，依序回答下列 21~24 題：

21. ( ) 按照附圖中的高度表繪製分層設色圖時，『乙地』應塗上哪種顏色？  
(A) 褐色 (B) 橙色 (C) 黃色 (D) 綠色。
22. ( ) 依圖中的高度與坡度判斷，圖中所呈現的地形屬於下列何者？  
(A) 高原 (B) 丘陵 (C) 盆地 (D) 山地。
23. ( ) 哪個地點最可能是河谷所在？  
(A) 甲 (B) 乙 (C) 丙 (D) 丁。
24. ( ) 依圖中等高線的數值判斷，『甲地』所在的高度可能為多少？  
(A) 500 公尺 (B) 1500 公尺 (C) 2500 公尺 (D) 3500 公尺。

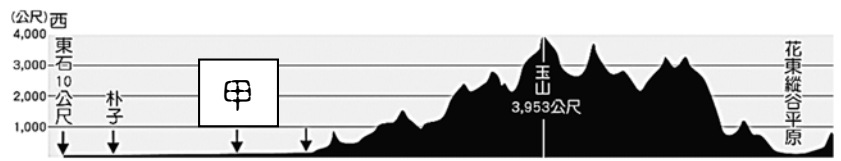


📖 自然環境的豐富性讓小小的台灣，從陸地到海洋、從海岸到島嶼，處處皆有大大驚喜，跟著《台灣行政區地圖》，讓我們一起來認識台灣的環境之美！請依序回答下列25~30題：

25. ( ) 圖中的①地能成為全台商業最繁榮、交通最方便的首善之都，與其所在的地形條件有著密切的關係，若依前文所述特性，《台灣行政區地圖》中的何地也有與①地相同的地形條件，同樣也發展成為台灣重要的人口聚集地？  
(A) 乙 (B) 戊 (C) 己 (D) 壬。
26. ( ) 圖中『丙』&『丁』兩縣境內因板塊擠壓的影響，被哪兩座南北走向的山脈夾在東西兩側？  
(A) 雪山山脈、中央山脈 (B) 雪山山脈、海岸山脈  
(C) 中央山脈、海岸山脈 (D) 玉山山脈、海岸山脈。
27. ( ) 山地是架構台灣豐富地形的骨架，圖中何地能同時被台灣的四座山脈所圍繞，在群山之間座落著埔里盆地，以好山好水好風光吸引觀光客的目光？  
(A) 乙 (B) 癸 (C) 丙 (D) 丁。
28. ( ) 臺灣位處兩大板塊的擠壓帶上，獨特的地理位置，在各方面影響了當地人們的生活。在下列地區中，提到了四種不同的生活方式，請問何項和『板塊擠壓』最沒有相關性呢？  
(A) 『己地』，利用瀉湖地形，從事養殖漁業  
(B) 『丁地』，喜愛泡溫泉，離島更以罕見的海底溫泉為其特色  
(C) 『庚地』，漁產豐富，還可在海面上欣賞到獨有的柱狀玄武岩  
(D) 『乙地』，熱愛爬山，隨處可見群山圍繞的壯闊景觀。
29. ( ) 伊淇與家人趁著假期，由爸爸開車帶著全家人從壬地到己地遊玩，沿著高速公路南下，沿途會依序經過下列哪些地形區附近？(a) 林口臺地 (b) 苗栗丘陵 (c) 埔里盆地 (d) 台中盆地 (e) 彰化平原。正確的是下列何者？  
(A) a→d→e (B) a→c→e (C) b→c→d (D) b→d→e。
30. ( ) 承上題，回程時爸爸依逆時針方向從臺灣東部沿岸一路開車北上回到北部，沿途所見多是高陡峭壁直逼海岸的景觀，僅只一地有寬闊平原的分布。請問：此『平原』最可能出現在何地？  
(A) 甲 (B) 癸 (C) 丙 (D) 丁。
31. ( ) 下列關於台灣地形特徵的描述，何者有誤？  
(A) 縱貫南北的中央山脈成為脊樑山脈 (B) 台灣地處太平洋板塊與歐亞大陸板塊交界之處  
(C) 因山脈偏東，故平原主要分布於西部 (D) 盆地亦是今日聚集台灣主要人口的重要地形。
32. ( ) 島嶼是指四面環海的陸塊，各有其形成條件，台灣周圍的島嶼，以何種類型的島嶼數量最多？  
(A) 由海底珊瑚礁露出海面而形成 (B) 陸上河川與海浪帶來大量泥沙共同堆積而成  
(C) 沿海丘陵遇海水上升，以致沒入海中而形成 (D) 海底火山噴出岩漿堆積而形成。
33. ( ) 就臺灣開發歷史判斷，早期漢人自中國大陸渡海來到臺灣本島，上岸時最有可能看見下列何種海岸景觀？  
(A) 岬角、灣澳相間 (B) 高山深海相鄰 (C) 沙洲、沙灘滿布 (D) 珊瑚礁石遍布。
34. ( ) 承上題，此類型的海岸景觀最有可能出現在台灣何地？  
(A) 新北市瑞芳區 (B) 臺南市北門區 (C) 花蓮縣秀林鄉 (D) 屏東縣恆春鎮。



35. ( ) 參考《附圖四 台灣地形剖面圖》，判斷圖中甲區是哪一地形區？  
 (A) 宜蘭平原 (B) 彰化平原  
 (C) 嘉南平原 (D) 屏東平原。



附圖四

36. ( ) 臺灣離島眾多且分散四處，其中下列哪兩個離島分別位處東北側與西南側，且有主權上的紛爭？  
 (A) 澎湖群島 & 東沙島 (B) 馬祖列嶼 & 太平島  
 (C) 金門列嶼 & 東沙島 (D) 釣魚台列嶼 & 太平島。

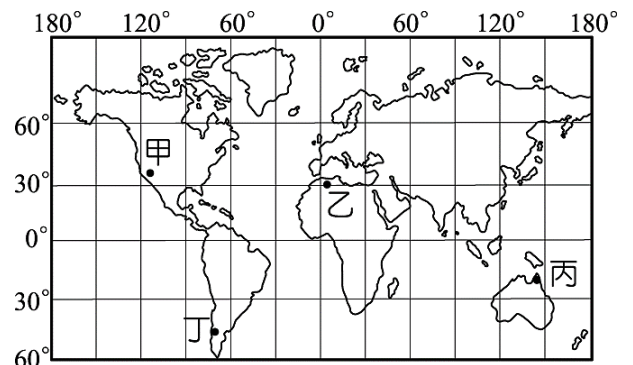
37. ( ) 台灣四面環海，各地海岸成因各有特色，所形成的發展條件也大不相同，右表為台灣各處沙岸、岩岸及珊瑚礁等海岸的特色比較表，表格中哪項資料全部正確？

	甲、成因	乙、海水深度	丙、沿海平原	丁、產業發展
岩岸	河水堆積	淺	狹窄	養殖漁業
沙岸	差異侵蝕	深	廣闊	海運
珊瑚礁海岸	氣候條件	深	狹窄	觀光業

- (A) 甲 (B) 乙 (C) 丙 (D) 丁。  
 38. ( ) 地形作用能形塑地表各種面貌，下列哪種地形景觀能在最短時間內形成？  
 (A) 花蓮的太魯閣峽谷 (B) 南投集集的地殼隆起  
 (C) 台中的佳陽沖積扇 (D) 新北萬里的女王頭景。

39. ( ) 「這是個原始而美麗的島嶼，當地居民八成以上是原住民，除了種植作物當作主食。每到魚季，族人會有一系列的儀式，並且搭乘自己製作的拼板船出海捕魚。1982年，台電運來第一批核廢料後，當地成為核廢料的儲存場，也開啟了當地居民與核廢料抗爭的序曲」，請問文中所敘述的是下列那個島嶼？(A) 隸屬台東縣，屬於火山島 (B) 隸屬台東縣，屬於珊瑚礁島 (C) 隸屬宜蘭縣，屬於火山島 (D) 隸屬宜蘭縣，屬於珊瑚礁島。

40. ( ) 以下是晏丞在課堂上對馬祖列嶼、澎湖群島、與琉球嶼三大離島的比較，何者最為正確？  
 (A) 澎湖群島的地形起伏最為明顯  
 (B) 馬祖列嶼與澎湖群島的形成原因最為相似  
 (C) 馬祖列嶼多柱狀玄武岩，起伏平緩  
 (D) 由北而南依序為馬祖列嶼、澎湖群島、琉球嶼。

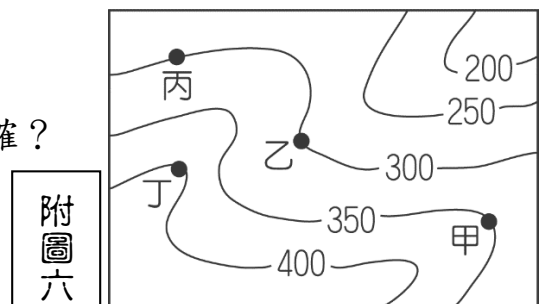


41. ( ) 曉樂利用假期前往國外知名的珊瑚礁海域參加浮潛活動，請問：依據珊瑚礁海域的分布特性判斷，曉樂最可能前往《附圖五》中的哪一個地方？  
 (A) 甲 (B) 乙 (C) 丙 (D) 丁。

附圖五

42. ( ) 地形順口溜如下「地形變化，內外力加；滄海桑田，內部力大；(I) 板塊運動，拉伸擠壓；(II) 斷層褶皺，出現高窪；(III) 火山地震，板塊緣發；(IV) 風浪水冰，侵蝕變化；(V) 天長日久，削高填窪。」，根據上文所述，代表內營力作用的有幾項？  
 (A) I、II、III、IV (B) II、III、IV  
 (C) I、II、IV (D) I、II、III。

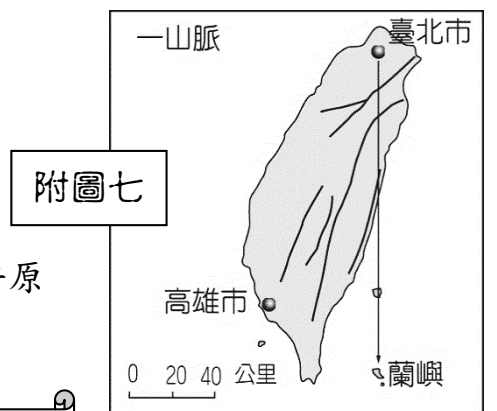
43. ( ) 《附圖六》為某地區的等高線地形圖。請問：下列描述何者正確？  
 (A) 圖中最高處不超過 400m (B) 圖中乙地可能有河川經過  
 (C) 此圖等高線間距為 100m (D) 這是臺地地形的等高線圖。



附圖六

44. ( ) 下列臺灣各地形區與環境特色的配對說明中，何者正確？  
 (A) 埔里盆地 — 位於彰化縣境內，水質優良、農業發達  
 (B) 中央山脈 — 位處臺灣本島正中央，成為東西河流的分水嶺  
 (C) 嘉南平原 — 是臺灣面積最大、緯度最低的平原  
 (D) 恆春臺地 — 沿海形成珊瑚礁海域，生態豐富多樣。

45. ( ) 參考《附圖七》，晉安全家由臺北松山機場搭飛機到蘭嶼度假，飛機若直線飛行，沿途將會飛越下列地區的上空，包括：  
 (甲) 中央山脈 (乙) 海岸山脈 (丙) 雪山山脈 (丁) 花東縱谷平原  
 請問：如依飛越的先後順序排列，何者正確？  
 (A) 甲丙乙丁 (B) 丙丁甲乙 (C) 丙甲丁乙 (D) 甲丙丁乙。



附圖七

試題到此結束，請仔細檢查，並小心作答！