

桃園市立大有國民中學 108 學年度第一學期第一次評量試卷

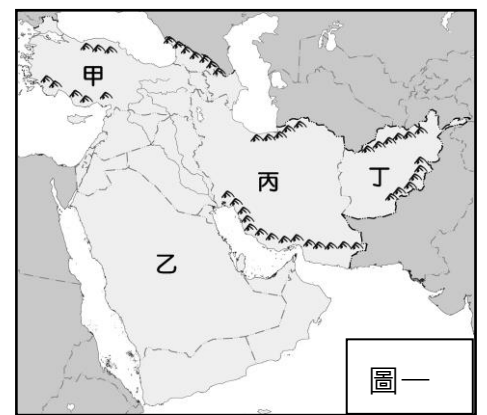
年級	九年級	考試科目	地理			命題範圍	第 1 章西亞與中亞 第 2 章歐洲概說與南歐	作答時間	45 分
班級		姓名		座號		分數			

◆請將正確答案，塗在答案卡上，並確認答案卡上班級、座號是否塗寫正確。

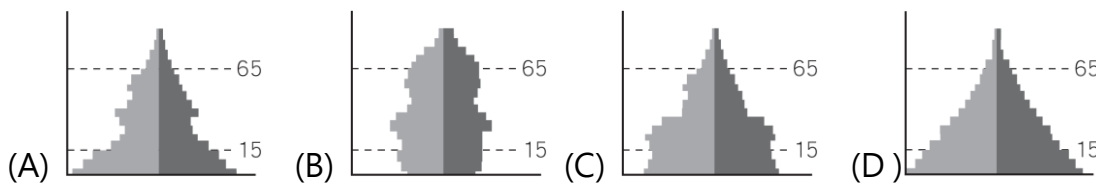
◆單選題，每題2分，共50題，總分100分

第一頁，共四頁

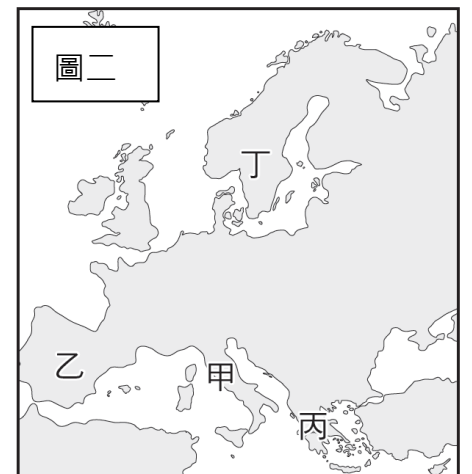
- 西亞的美索不達米亞平原是古文明發源地，也是人類最早有定居農業的區域之一，這個區域的灌溉水源主要為何？  
(A)雨水 (B)地下水 (C)河水 (D)海水淡化
- 歐洲是世界人口分布最平均的一洲，這種現象與下列哪項因素關係最密切？  
(A)地形和氣候 (B)位置和資源 (C)氣候和經濟發展 (D)地形和農業發展
- 南歐地區的居民早期為了配合當地特有的氣候特色，農民普遍種植耐旱的作物。請問：下列何者是當地常見的作物？  
(甲)青稞 (乙)葡萄 (丙)橄欖 (丁)棗椰樹 (A)甲乙 (B)甲丁 (C)乙丙 (D)丙丁
- 2018 年伊朗邊境發生規模 6.3 強震，造成逾 600 人受傷。伊朗因處於板塊擠壓的高原上，因而地震頻傳。攤開如附圖所示的西亞地圖，伊朗應位於圖一中何處？  
(A)甲 (B)乙 (C)丙 (D)丁
- 「麥加」之於伊斯蘭教徒，就像「教廷」之於天主教教徒一樣神聖。請問：教廷國位於哪個城市內？ (A)羅馬 (B)耶路撒冷 (C)倫敦 (D)雅典
- 歐洲全境沒有沙漠氣候，是因為下列何種走向的山脈最多，不至於阻擋西風帶來的水氣？ (A)東北—西南向 (B)東—西向 (C)南—北向 (D)西北—東南向
- 歐洲大部分國家經濟發達，福利政策完善，其人口金字塔與下列哪種類型較為相似？



圖一



- 附圖二為歐洲四大半島分布圖。圖中哪個地區有冰蝕形成的峽灣地形，利於航運與漁業的發展？ (A)甲 (B)乙 (C)丙 (D)丁。
- 中亞近年來從牧業為主轉向農、礦業的發展。目前當地哪個國家與中國合作開發石油和天然氣，並有油管通往中國新疆，成為主要的石油生產國？  
(A)哈薩克 (B)烏茲別克 (C)吉爾吉斯 (D)塔吉克。



圖二

- 下列何者與西亞乾燥的氣候無關？  
(A)興建坎井設施 (B)傳統遊牧生活 (C)石油資源豐富 (D)發展滴灌技術
- 以色列境內某城市是世界三大宗教的聖地。2018 年美國將駐以大使館遷往此地，引發巴勒斯坦人的不滿，請問上述所指的城市為何？  
(A)麥加(B)耶路撒冷(C)羅馬(D)伊斯坦堡。



圖三

- 西亞的衛星照片上發現了抽用地下深井水噴灑灌溉，形成一個個圓形農田分布的現象，此時觀測的地點最可能為下列何處？(見附圖三)  
(A)地中海沿岸 (B)兩河流域 (C)阿拉伯高原 (D)伊朗高原

- 下列對於西亞與中亞的自然環境比較，何者正確？

地區	(A)氣候	(B)河川	(C)地形	(D)乾燥成因
西亞	熱帶沙漠	多內流河	盆地為主	副熱帶高氣壓籠罩
中亞	熱帶沙漠	多外流河	高原為主	地處內陸距海遠近

- 附圖四是歐洲地區氣壓和風帶圖，此時南歐主要的氣候狀況為何？

- (A)為冬季 (B)為南歐雨季  
(C)天氣乾燥 (D)處於西風帶中



圖四

15、附圖五中的斜線區域為歐洲某年每人平均 GDP 超過 40000 美元的國家分布圖。由圖中分布狀態判斷，這些歐洲國家多位於下列哪個分區？

(A)西歐、北歐 (B)北歐、東歐 (C)西歐、南歐 (D)東歐、歐俄。

16、(甲)V型谷 (乙)U型谷 (丙)峽灣 (丁)谷灣，以上四種地形中，主要受冰河作用影響而形成的是哪兩種？

(A)甲丙 (B)甲丁 (C)乙丙 (D)乙丁。

17、歐洲高緯地區的港口擁有終年不結凍的特色，使得歐洲的航運十分發達。請問：造成上述港口終年不結凍的主因為何？

(A)北大西洋暖流由本區進入北極海  
(B)黑潮北上，帶來溫暖洋流，水溫提高  
(C)西風吹拂，帶來豐富的水氣，並調節氣溫  
(D)大西洋海水鹽度較高。



18、2020 年奧林匹克運動會將在日本東京舉行。追溯奧運起源，始於附圖六中歐洲某國，該國擁有相當豐富的歷史遺跡。

請問該國位於附圖中哪個地區？(A)甲 (B)乙 (C)丙 (D)丁。

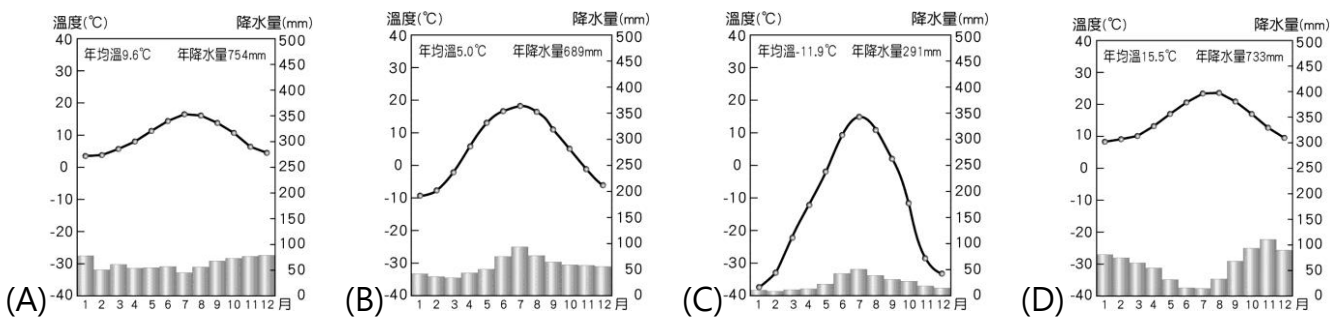
19、2001 年發生 911 事件後，美國出兵西亞阿富汗至今長達 18 年。進入該地的軍人需要適應下列何種環境？

(A)單調平坦的寒漠 (B)高大濃密的雨林 (C)崎嶇乾燥的高原 (D)星羅棋布的島嶼。

20、長久以來以色列和巴勒斯坦不斷發生暴力衝突，下列對當地衝突原因的敘述何者正確？

(A)以色列當地石油蘊藏豐富，各國都想要爭奪 (B)巴勒斯坦面臨印度洋，自古為交通要衝  
(C)雙方信仰不同，爭奪土地引發了許多仇恨 (D)民主國家與共產國家的差異

21、橄欖油被譽為「地中海的液體黃金」。依橄欖油產地氣候條件判斷，其原料主要產自下列哪張氣候圖所代表之氣候？



22、西亞地區的紛爭與戰火不斷。若新聞節目欲對此地區做相關報導，下列哪個戰爭或衝突事件不在此處？

(A)以阿戰爭 (B)印巴衝突 (C)庫德族獨立建國 (D)波斯灣戰爭

23、到歐洲各國旅行，應使用哪種錢幣最方便？(A)€ (B)¥ (C)\$ (D)₣。

24、右圖七為義大利平均每人國內生產毛額分布圖。由圖可看出義大利北部經濟狀況較佳。義大利北部波河平原有利於工業發展的主要條件為何？

(A)鐵礦充足 (B)交通便利 (C)石油充足 (D)水力豐富

25、「某國的氣候乾熱，有許多的葡萄園和柑橘園，最特別的是搭火車經過鐵橋，或坐汽車經過海底隧道，就可以到歐洲了。」請問：上述最有可能是哪個國家？

(A)以色列 (B)土耳其 (C)伊朗 (D)阿拉伯聯合大公國

26、中國新疆居民利用地下自然湧出的泉水或人工挖掘的坎井發展農業，下列四個國家中，哪個也以這種農業類型著稱？

(A)沙烏地阿拉伯 (B)伊朗 (C)伊拉克 (D)西班牙

27、「麥當當」在沙烏地阿拉伯開設連鎖店，在當地下列哪種食品受到宗教影響，銷售量可能最小？

(A)牛肉捲餅 (B)可樂 (C)雞塊 (D)豬肉漢堡

28、在阿爾卑斯山發現山上有許多漂亮的湖泊與寬平谷地，這些湖泊與谷地是由哪種作用所形成？

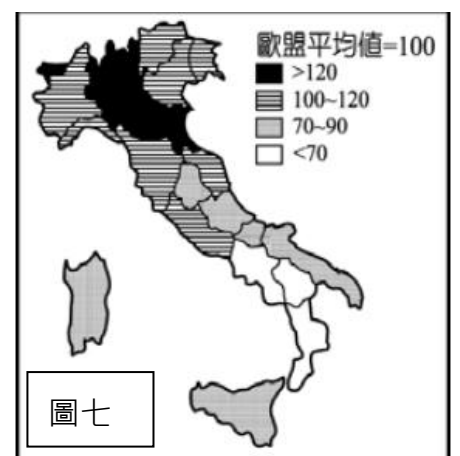
(A)冰河作用 (B)風蝕作用 (C)溶蝕作用 (D)斷層作用

29、對於歐洲各區地形概述，下列何者錯誤？

(A)南歐地形較為崎嶇 (B)東歐以斯堪地那維亞半島為主  
(C)北歐冰河地形發達 (D)平原多分布於西歐及東歐


30、南歐在加入歐盟後，提供大量的蔬果給西北歐國家食用。南歐的農業條件比西北歐優越，主要是什麼原因？

(A)技術 (B)土壤 (C)地形 (D)氣溫





31、歐洲在第二次世界大戰後，透過某個區域組織整合整個歐洲，期望減少貿易衝突，以提升整體歐洲的競爭力。  
下列哪個圖示是這個區域組織的旗幟？



32、附表為東歐、西歐氣候比較，表格中哪項資料正確？  
(A)甲 (B)乙 (C)丙 (D)丁

地區	(甲)氣候類型	(乙)年溫差	(丙)降雨季節	(丁)冬溫
東歐	溫帶海洋性	較小	集中夏季	較高
西歐	溫帶季風	較大	四季有雨	較低

33、位於西亞的耶路撒冷是一座宗教聖城。  
請問：哪些宗教將此地視為聖地？

(甲)佛教(乙)印度教(丙)伊斯蘭教(丁)基督教(戊)猶太教  
(A)甲、丙、丁、戊 (B)甲、乙、丙 (C)乙、丙、丁 (D)丙、丁、戊




34、「此種作物生長在沙漠地區，果實產量多，營養價值高，被稱為『沙漠麵包』，是西亞國家的重要出口農作物。」  
請問上述最可能是哪種作物？ (A)椰棗 (B)橄欖 (C)棉花 (D)橡膠。

35、「登上了頂峰，放眼望去，北邊是瑞士、南邊是義大利...」文中攀爬的可能是下列哪座山？  
(A)烏拉山 (B)阿爾卑斯山 (C)庇里牛斯山 (D)喜馬拉雅山

36、貝都因人一般生活在沙漠邊緣的草原地帶，按照季節和固定路線進行規律的移動。請問：依照貝都因人的生活型態，他們最可能出沒在下列何處？(A)東南亞 (B)西亞 (C)北歐 (D)南歐

37、中國「新絲綢之路」串聯亞洲和歐洲，從新疆進入號稱「亞洲心臟，世界邊緣」的區域，該區域指的是何處？  
(A)中亞 (B)西亞 (C)南亞 (D)北亞。

38、下列哪張景像**不是**在西亞旅程中常見的？



【題組】美國於 2019 年 3 月底取消了多年來禁止購買中亞**乙國**棉花的禁令。允許任何美國政府機構在不需要任何認證的情況下採購該國棉花，但進口的棉花必須是在不使用兒童和強迫勞動的情況下生產的。但是，該國棉花仍然在棉花運動國際聯盟的「黑名單」上，他們聲稱取消抵制還為時過早，因為該國坦仍有強迫勞工的情況。目前抵制該國棉花的品牌已有 313 家，包括：Adidas, Amazon, Burberry, Disney, Gucci, Forever 21, Gap, Ikea, Lacoste, Nike, Puma, Uniqlo, Zara 等。

39、文中**乙國**(見附圖八)所指稱的應該是下列哪個國家？  
(A)哈薩克 (B)約旦 (C)伊朗 (D)烏茲別克

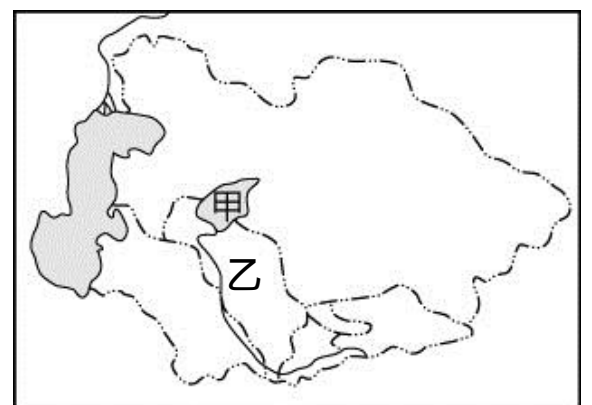
40、當地氣候乾燥，在發展農業時，因過度開發常產生許多環境問題。  
下列哪種現象**不是**當地所遇到的環境問題？

(A)水資源枯竭 (B)土地沙漠化 (C)土壤鹽鹼化 (D)地層下陷

41、乙國因過度引水種植棉花，造成附圖八中甲處湖泊面積大量縮減，  
請問甲處湖泊為何？

(A)死海 (B)黑海 (C)裏海 (D)鹹海

圖八



【題組】2022 年 1 月世界盃足球賽在卡達舉辦，卡達過去從沒參與過世足賽，是個與以往全然不同的世足主辦國。

42、卡達是位於波斯灣地區的一個小型王國，請於附圖九中找出它的位置？

(A)甲 (B)乙 (C)丙 (D)丁

43、卡達特別選在 1 月份舉辦世足賽，是因為考量該國夏季氣候過於乾熱，造成此區域普遍乾燥的主要原因為何？

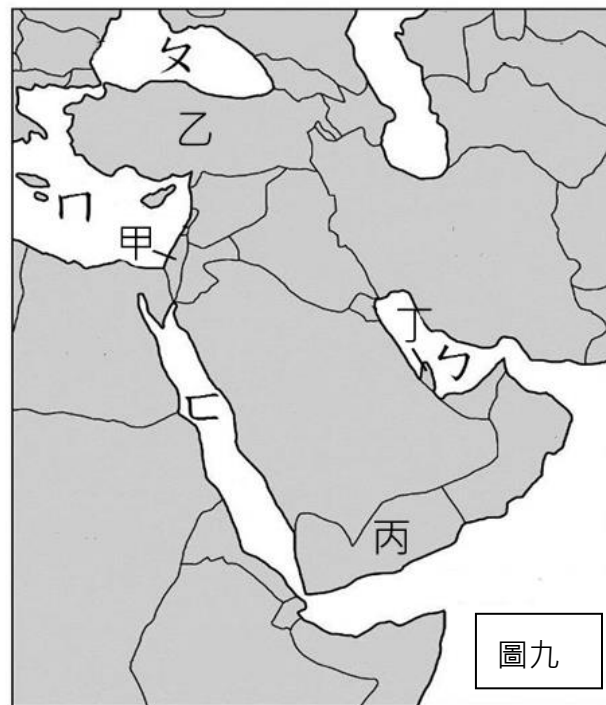
(A)季風吹拂 (B)對流旺盛 (C)高壓籠罩 (D)距海遙遠

44、2017 年 8 個國家宣布與卡達斷交，他們指控卡達資助極端分子團體，且與伊朗走得太近。他們關閉與卡達的陸海空交通，並對卡達實施經濟制裁。遭受鄰邦一波斷交潮孤立，可能延宕建材取得，造成世足賽場館建設進度落後。更有人擔心卡達在經濟受限的情況下會退出某組織的減產協議，導致全球油價和天然氣價格的猛烈震盪。請問上述的某組織應該指的是下列何者？(A)EU (B)APEC (C)ASEAN (D)OPEC

45、和鄰國相比，卡達有著相對開放的社會風氣：婦女出門時大多只穿黑袍，不會嚴格遮擋；即使在 2006 年舉辦的亞運會上，也沒有砍掉游泳、跳水等頗具爭議的項目。但在卡達，公共場所飲酒屬犯罪行為，為了世足賽卡達首都杜哈 (Doha) 同意為球迷設置可以飲用啤酒的「特定區域」。上述游泳、跳水的爭議與禁止飲酒的規範，與波斯灣地區的何種宗教信仰有關？

(A)基督教 (B)伊斯蘭教 (C)猶太教 (D)佛教

46、因為興建體育場館的移民工人受到不合理待遇，卡達正面臨人權和非政府組織的高分貝批評。卡達人口少，為了維持經濟持續成長，必須依賴大量外籍移工，以滿足勞力需求，因而成為人口移入的地區。從右表推測何者為卡達的資料？(A)甲 (B)乙 (C)丙 (D)丁



項目 國家	自然增加率(‰)	社會增加率(‰)
甲	11.8	11.5
乙	-1.1	0
丙	10.3	-3.6
丁	17.8	-0.2

【題組】2016 年歐盟－土耳其特別峰會上，歐盟 28 國領導人與土耳其就解決難民危機達成協議。所有通過非正常渠道從土耳其入境希臘的難民，無論何種國籍，都將被遣返回土耳其，促使難民放棄危險的偷渡方式。

47、協議裡從土耳其入境希臘的難民，行進的路線應該是附圖十中哪一條路線？

(A)A 路線 (B) B 路線 (C)C 路線 (D) D 路線

48、此協議切斷了難民由哪一個半島進入歐洲的機會？

(A)義大利半島 (B)巴爾幹半島  
(C)伊比利半島 (D) 斯堪地那維亞半島

49、此路線被切斷後，難民遂轉由其他三條路線，但都須經過哪個海域，同樣充滿危險？

(A)黑海 (B)地中海 (C)愛琴海 (D)紅海

50、作為交換條件，歐盟將向土耳其提供 30 億歐元的難民安置費用，同時接收部分居住在土耳其的敘利亞難民。此外，歐盟還承諾加快推進土耳其的入歐盟談判。若土耳其如願進入歐盟，透過歐盟無法享受到下列哪項好處？

(A)商品免除關稅 (B)開放原料流通 (C)同盟國共享利潤 (D)勞工自由流通

