

桃園市立大有國民中學 108 學年度第一學期第一次評量試卷

年級	八	考試科目	地理			命題範圍	L1 疆域與區域劃分 L2 地形	作答時間	45 分
班級		姓名		座號		分數			

選擇題 50 題，一題 2 分，共 100 分

※小叮嚀：作答以答案卡為主，但是題目卷仍須寫上答案，以利檢討。

- () 1. 瀾滄江(見圖一)發源自中國青海省，流經西藏自治區與雲南省之後流入其他國家，河流名稱也改為湄公河。依據瀾滄江流經的中國省份判斷，瀾滄江離開中國後第一個流經的國家為何？(A)緬甸 (B)蒙古 (C)尼泊爾 (D)哈薩克。
- () 2. 尖沙咀是世界著名的商業中心之一，此商業中心在英國殖民期間逐漸發展起來，雖然在 1997 年時回歸中國，但卻因其歷史背景而成了新興的外國人住宅區。從文中判斷，尖沙咀在中國的哪一行政區之內？(A)上海市 (B)北京市 (C)香港特別行政區 (D)澳門特別行政區。
- () 3. 關於中國相對位置的敘述，何者正確？(A)位於太平洋東側、歐亞大陸東南側 (B)位於太平洋東側、歐亞大陸西南側 (C)位於太平洋西側、歐亞大陸東南側 (D)位於太平洋西側、歐亞大陸西南側。
- () 4. 位在中國的紀綸與冠元守在電腦前，等著晚上八點準時發放的寶物，在滑鼠即將點下去的前一刻，紀綸與冠元窗外的天空卻有不同景象，一樣是晚上八點，紀綸在的地方天色昏暗，但冠元所在地卻是夕陽西下，這樣的差異是源於中國的哪一特徵？(A)面海背陸 (B)疆域遼闊 (C)鄰國眾多 (D)位居溫帶。
- () 5. 「熱帶栽培業」多分布在早期被歐洲殖民的熱帶國家，主要作物為咖啡、可可、油棕、橡膠、甘蔗等。僅從「熱帶」條件來看，根據中國各地的緯度分布來看，哪一個行政區最適合發展熱帶栽培業？(A)山東省 (B)海南省 (C)黑龍江省 (D)內蒙古自治區。
- () 6. 宗翰打卡地點位於「中國南部地區與第三級階梯」上，依提示推論，宗翰的打卡地點應該在哪一個地理區？(A)青藏高原 (B)四川盆地 (C)東北平原 (D)珠江三角洲。
- () 7. 108 年全國運動會在桃園，如果文燦市長要邀請全世界面積前四大的國家來賓，下列哪一位不會在他的來賓名單中？(A)美國歌手立城(B)加拿大演員崇恩(C)巴西足球選手丞竣(D)俄羅斯體操健將智翔。
- () 8. 為了替桃園市進行宣傳，在下列的資訊中，何者最精準說明了桃園市的位置呢？(A)桃園市在上海市南方 700 公里處 (B)桃園市在東經 121 度，北緯 25 度 (C)桃園市在新北市的南方 (D)桃園市與台北市之間隔著林口台地。
- () 9. 如果 2020 年的亞洲越野車拉力賽要在中國舉辦，主辦方請大家提議比賽路線，這場比賽規定要從「最早日出之地，一路向西奔馳」，下列哪一條路線會雀屏中選？
- (A)

澳門→北京

 (B)

黑龍江→新疆

 (C)

西藏→上海

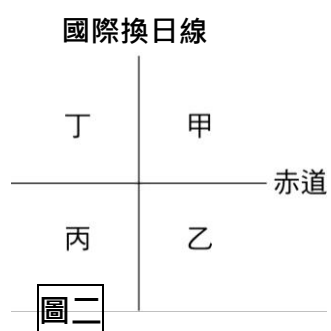
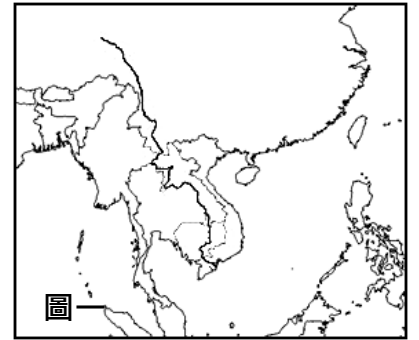
 (D)

內蒙古→廣東

- () 10. 在悠悠的歲月下，板塊用它強大的力量不停的塑造著地表，造就了不同的山脈走向。下列四座山脈中，哪一座山脈方向與其他山脈走向最差異最大？(A)巫山 (B)秦嶺 (C)武夷山 (D)大興安嶺。
- () 11. 「有沒有可能讓我回到前一天」，想讓「時間倒退」理論上是可以做到的，只要快速的從圖一中的哪一地飛往哪一地，時間就會回到前一天了呢？(A)甲飛向乙 (B)乙飛向丙 (C)丙飛向丁 (D)丁飛向甲。
- () 12. 東海有一組無人居住的島嶼，因島嶼附近水域蘊藏著大量的石油資源，周圍還有豐富的漁場，引起中國與鄰近國家的爭奪。根據地緣位置判斷，文中所指的鄰近國家最可能是哪一國？(A)

圖二

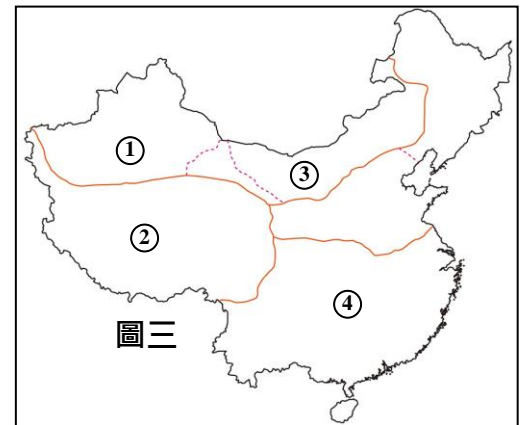
 (B)越南 (C)俄羅斯 (D)菲律賓。
- () 13. 關於中國與周邊地理位置的敘述，何者正確？(A)東方有越南等鄰國(B)西可進入蒙古國 (C)北為哈薩克 (D)南接寮國。



()14. 以下是印瑜在規劃旅遊時所做的事：「我會先查詢 google map，在電子地圖上標出所要去的地點，看看這個城市的 (甲)經度來推測當地該月分地的氣候特性，再看(乙)緯度得知與臺灣的時差。接著捲動滑鼠查詢(丙)大比例尺的當地街道圖，利用地圖上的(丁)方向標找出哪裡有旅館。最後以車站或地鐵轉運站為中心，依據預定的行程時間，來規畫旅遊景點。」關於印瑜的規劃，哪一段敘述是正確的？ (A)甲 (B)乙 (C)丙 (D)丁。

()15. 大有旅行社正在販賣 2020 年春節旅遊票券，慧晴購買「中國最南的城市 - 三亞市風帆、浮潛行程」，宜辰買了「中國最北的村鎮 - 漠河賞雪行程」，同一時間的中國，卻能有如此大的景觀差異原因為何？(A)地形起伏大 (B)經度跨度大 (C)緯度跨度大 (D)雨量變化大。

()16. 相較於其他五個世界面積排名前六大的國家，中國的人口密度相對較高，但中國的人口分布並不平均，在地形與氣候的影響之下，中國的人口密集度最高的區域應該在圖(三)中的何處？(A)①(B)②(C)③(D)④。



()17. 「位置適中、氣候溫和的中國，在經濟活動及文化發展上，具有先天的良好基礎。」以上敘述與中國疆域何項優越性有關？ (A)疆域形狀完整 (B)國土深入歐亞大陸 (C)大部分領土位居中緯度 (D)面海背陸的位置。

()18. 截至目前為止，人類已開發出 19 條攀登珠穆朗瑪峰(喜馬拉雅山主峰)的路線，但比較成熟完善的一條是由中國進入，另一條則由喜馬拉雅山南側出發。文中所指的南側國家最可能是哪一國？(A)北韓 (B)緬甸 (C)尼泊爾 (D)俄羅斯。

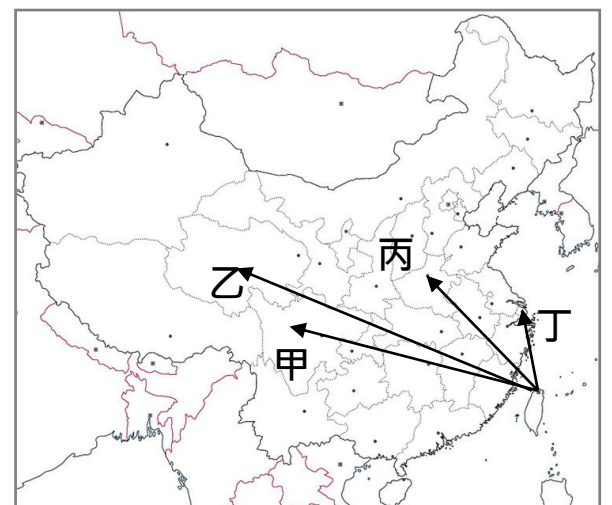
()19. 參考圖(四)，在北京工作的廷維與在倫敦留學的宥騰，兩人約好要給住在拉薩的媽媽生日祝福(生日為 10 月 14 日)，廷維與宥騰約定好在媽媽生日當天早上 6 點傳送簡訊，關於他們傳送簡訊的時間，何者正確？



- (A)甲丙(B)乙丙(C)甲丁(D)乙丁。
- (甲)廷維：10 月 14 日早上 6 點 (乙)廷維：10 月 14 日早上 8 點
- (丙)宥騰：10 月 14 日早上 6 點 (丁)宥騰：10 月 13 日晚上 10 點。

()20. 因地軸傾斜的關係，緯度越高的地區在夏季時白晝時間相對較長，為了爭取更多白晝時間以拍攝影片，你會推薦大有電影劇組夏季時到哪一個地理區取景呢？(A)東北平原 (B)青藏高原 (C)雲貴高原 (D)山東丘陵。

()21. 大有國中將在 2020 年 4 月到四川省成都市的西川中學進行交流，從桃園機場出發的他們，應該選擇圖五中哪一路線，才是飛往成都的雙流機場的航線呢？(A)甲 (B)乙 (C)丙 (D)丁。



()22. 呈上題，西川中學預計進行施放煙火歡迎大有國中師生，若當天吹著西南風，這些煙火的煙最可能往哪個地區的方向飛？(A)青海省 (B)北京市 (C)廣西壯族自治區 (D)澳門特別行政區。

()23. 三藏一行人在新疆維吾爾自治區的火燄山遇到了難關，古書上記載著「欲熄終年不斷火燄山之火，需以熱帶植物芭蕉葉搗滅」，悟空立刻請他的徒子徒孫到熱帶地區尋找芭蕉葉。請問，下列哪一自治區最可能得到此寶物？(A)西藏自治區 (B)內蒙古自治區 (C)廣西壯族自治區 (D)寧夏回族自治區。

()24. 關於中國地形特徵的說明，何者正確？(A)整體來說是中國是個多山的國家 (B)第二級階梯以丘陵地形為主 (C)第三級階梯地勢最高 (D)第一級階梯是人口稠密的精華區。



()25. 柄耀：「老師你像風兒也像沙，我就是那因你而成的黃土高原♥。」根據以上這段譬喻，柄耀是圖六的哪一地理區？(A)甲 (B)乙 (C)丙 (D)丁。

()26. 在畫分國界或縣界時，以山脈與河流等自然實體劃分是最明確的界線。關於中國的省界或區域界線說明，何者正確？(A)中國與蒙古以喜馬拉雅山為國界 (B)秦嶺為北部與西部地區的分界線 (C)大興安嶺是華北平原和內蒙古高原的分界線 (D)天山分隔準噶爾盆地與塔里木盆地。

()27. 下列關於地形對中國的影響，何者正確？(A)中國西半部因面積最大，故人口密集 (B)中國山地面積比例高，人們廣闢梯田以增加耕地面積 (C)中國河川受到地形影響，多呈南北向 (D)因地勢平坦，中國較無法進行水力發電。

()28. 見圖(七)，下列哪一個區域可以同時找到省、自治區、直轄市、特別行政區等四種行政區劃？ (A)甲 (B)乙 (C)丙 (D)丁。

()29. 中國大致以杭州灣為界，以北多適合發展養殖漁業或曬鹽，以南多適合發展航運或捕撈漁業。根據文中海岸地形利用方式推論，中國杭州灣以南沿岸比例較高的是哪一海岸類型？



圖七

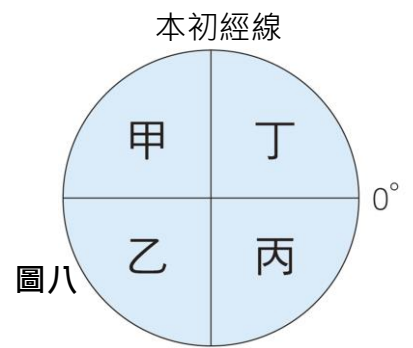


()30. 中國的行政區劃分中，「自治區」的設置原因為何？

(A)為保護境內少數民族的文化故設置之 (B)讓偏遠少數民族獨立，自行治理國家
(C)在少數民族未獨立前設置自治區過渡 (D)自治區境內人數太多，以自治區稱之

()31. 中國的山川地貌是經過地殼活動、河川、雨水、風等內外營力所形塑而成。請問：以下哪一項的地質活動的作用力不同於其他三者？ (A)板塊運動 (B)河流堆積 (C)風力侵蝕 (D)雨水溶蝕。

()32. 若要繪製中國區域圖，應該要將中國繪製在圖(八)中的哪一區域？ (A)甲 (B)乙 (C)丙 (D)丁。



圖八

()33. 在堆積作用下，「滄海」會逐漸變成「桑田」。下列哪一地理區最能說明「滄海桑田」中的河流堆積作用呢？ (A)黃土高原 (B)嶺南丘陵 (C)柴達木盆地 (D)珠江三角洲。

()34. 若將中國依「大興安嶺、太行山、巫山」一線切開，劃分成東半部及西半部，西半部多為下列哪幾種地形？(甲)山地(乙)高原(丙)盆地(丁)丘陵(戊)平原 (A)甲乙丙(B)乙丙丁(C)甲乙丁(D)乙丙戊。

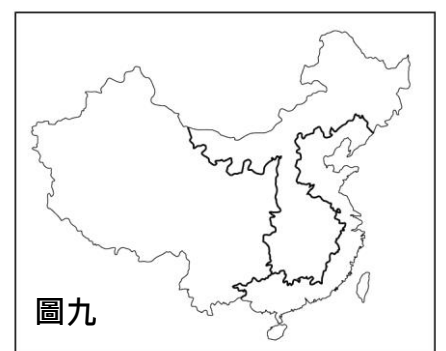
()35. 承上題，下列哪一個行政區位於此線以西？(A)黑龍江省 (B)上海市 (C)青海省 (D)廣東省。

()36. 中國境內因為面積廣大，會將相似性、均質性的區域劃分成不同地理區。圖(九)最可能是依何種條件所畫分的地理區？(A)地勢高低 (B)行政區域 (C)經濟發展 (D)溫度高低。

()37. 若一台汽車由杭州出發，沿著京杭大運河穿過長江、淮河、黃河等大橋運送貨物，最後一批貨物將送達北京，完成貨物運送之後，這台車上的導航系統所呈現的路徑方向大致上為何？(A)由東向西 (B)由西向東 (C)由南向北 (D)由北向南。

()38. 承上題，這台汽車所運送物資的地區，主要位於哪兩大地理區之間？(A)東北平原、華北平原 (B)東南丘陵、珠江三角洲 (C)長江中下游平原、四川盆地 (D)華北平原、長江中下游平原。

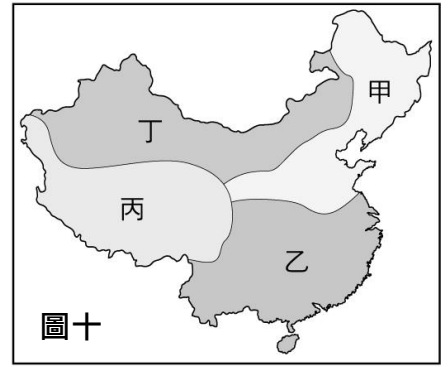
()39. 中國地勢西高東低呈現三級階梯，其所產生的影響「不」包括下列何者？ (A)具備熱帶、副熱帶、溫帶氣候 (B)自古東西向水運發達 (C)人口多分布在中國東半部 (D)有利於暖溼海洋氣流吹入內陸。



圖九

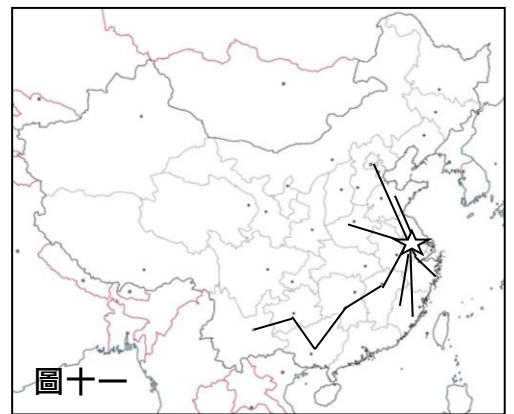
題組 1：圖(十)為中國分區圖，請依圖回答問題：

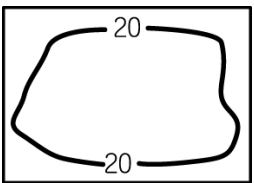
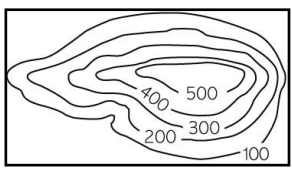
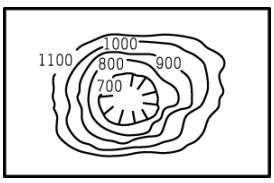
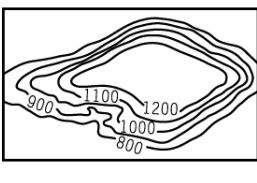
- () 40. 下列哪一個地理區位於「丁區」的範圍內？(A)橫斷山脈 (B)雲貴高原 (C)珠江三角洲 (D)內蒙古高原。
- () 41. 圖中「丙區」的山脈因受到哪兩大板塊擠壓的影響，方向多為東西向？(A)歐亞—菲律賓海 (B)歐亞—印澳 (C)印澳—太平洋 (D)印澳—菲律賓海 板塊。
- () 42. 中國的直轄市主要分布在圖中的哪兩個區域？(A)甲乙 (B)乙丙 (C)甲丙。
- () 43. 在 2009 年的人口普查中，中國境內的朝鮮族將近有 250 萬人，中國朝鮮族多住在與北韓一江之隔的東北地區。若要將中國朝鮮族的分布繪製呈點子圖，圖(十)中的哪一個區域的點會最密集？(A)甲 (B)乙 (C)丙 (D)丁。
- () 44. 中國一帶一路的區域經濟發展策略之一，是以過去漢代的陸上絲綢之路為主軸，強化與他國的貿易往來。中國打算在某地設立農業製造中心，透過絲綢之路將農產品就近出口到國外，依此目標來看，此農業製造中心最可能在圖中何區設立？(A)甲 (B)乙 (C)丙 (D)丁。



題組 2：某日，禹睿收到「公眾人物-徐霞客」的交友邀請…

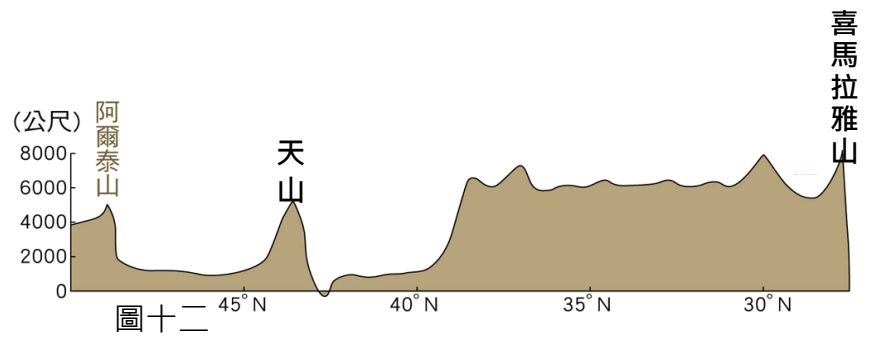
- () 45. 禹睿將徐霞客的旅遊地圖路線畫了出來，右圖(十一)的☆為徐霞客的家，請問，霞客家位於中國哪一階梯？(A)第一級 (B)第二級 (C)第三級 (D)第四級。
- () 46. 見右圖，徐霞客的打卡地點並未觸及哪一地區？(A)華北平原 (B)雲貴高原(C)東南丘陵 (D)塔里木盆地。
- () 47. 歷史上的徐霞客是明代著名的地理學家、文學作家與旅行家，歷史上記載徐霞客對雲南省的石灰岩地形有深刻的研究和紀錄，依據你對中國地理區的認識，霞客所記錄的石灰岩景觀所在地形為何？



- (A) 
- (B) 
- (C) 
- (D) 

題組 3：地圖可以展現出一地的自然或經濟現象的特徵，在一張標準地圖上需要有四大要素，分別為圖名、圖例、比例尺、方向標。你對地圖的認識有多少呢？請回答 48-50 題。

- () 48. 若要替圖(十二)能呈現地表地勢的圖表命名，這類型的圖名會是什麼？(A)等高線圖 (B)立體模型圖 (C)地形剖面圖 (D)分層設色圖。



- () 49. 呈上題，如果要在圖(十二)畫出方向標，應如何標誌才正確？

- (A) 
- (B) 
- (C) 
- (D) 

- () 50. 若要將長 5500km、寬 5200km 的中國繪製在長 100cm、寬 150cm 的地圖上，應該要使用以下哪比例尺才能將中國完整輪廓都繪製進地圖內？(A)1：3000000 (B)1：3500000 (C)1：4000000(D)1：5600000。