

年級	七年級	考試科目	歷史科			命題範圍	第一冊 L1-L2	作答時間	45 分
班級		姓名		座號		分數			

一、單選題（每題兩分，共七十二分）

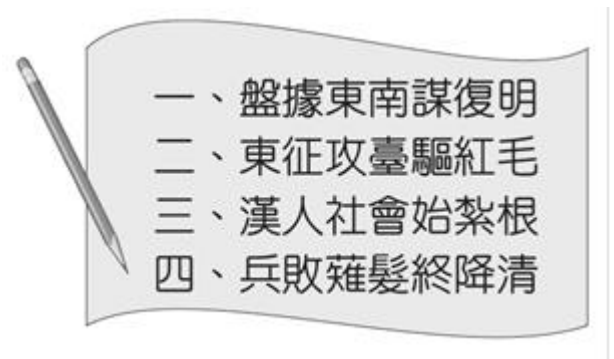
- () 1. 所謂「史前時代」一般是指沒有文字記載以前的時代；而有文字以後，則稱為「歷史時代」。因為史前時代沒有文字的記錄，我們只能透過哪些東西去客觀地認識史前時代的面貌？(A) 經驗、藝術與史書 (B) 書籍、資料和考古 (C) 遺物、遺跡和化石 (D) 史實、經典與文學。
- () 2. 請問：從舊石器時代進入新石器時代，其判斷的標準為何？(A) 可以用火 (B) 使用磨製石器 (C) 使用鐵製工具 (D) 過著漁獵生活。
- () 3. 從臺灣金屬器時代遺址中所發現的外來物品，可以顯示當時臺灣先民與那些地區已有貿易往來？(A) 歐洲或印度 (B) 東南亞或印度 (C) 歐洲或中國大陸 (D) 東南亞或中國大陸。
- () 4. 據說某原住民的祖先本來居住在今天臺南附近，很久以前，他們的獵人追逐著一隻白鹿，正當精疲力竭時眼前出現一片湖光水色，不但景色優美，湖裡還有取之不盡的大魚，因此他們最後在湖邊定居下來。請問：上文中的原住民族，應是下列何者？(A) 邵族 (B) 鄒族 (C) 賽夏族 (D) 阿美族。
- () 5. 某時期東亞海域的一本航海日記記載到：「此島南部的海岸多沙丘，叢林散布。如能取得木材，適於在港口南側築城，以便控制船舶出入。」據漢人所言，每年有日本船二、三艘來此，向土人購買鹿皮。也有中國船隻走私綢緞織物，與日本人交易。這本航海日記的作者，最有可能是下列何者？(A) 14 世紀西班牙人探勘蘇澳時所寫 (B) 15 世紀葡萄牙人探勘基隆時所寫 (C) 16 世紀英國人探勘淡水時所寫 (D) 17 世紀荷蘭人探勘安平時所寫。
- () 6. 清帝國時期，原住民被分成熟番、生番，主要是根據下列何種原因？(A) 依據文字有無 (B) 檢視族群大小 (C) 是否歸順朝廷 (D) 依照文化高低。
- () 7. 亭亭利用假期參觀一處史前文化遺址，在參觀過程中，她以表格紀錄這處遺址的特徵如附表。下列何者最可能是這處文化遺址？(A) 長濱文化 (B) 圓山文化 (C) 十三行文化 (D) 大坌坑文化。

發現位置	生活方式	器具
臺灣北部	漁獵、農耕	陶罐、鐵斧

- () 8. 荷蘭東印度公司總督曾說：「臺灣真是一頭好乳牛」。這句話表示臺灣為他們公司帶來相當大的利益。這是因為荷蘭人積極經營下列哪些臺灣的特產？甲、香料；乙、稻米；丙、鹿皮；丁、蔗糖。(A) 甲乙丙 (B) 乙丙丁 (C) 甲丙丁 (D) 甲乙丁。
- () 9. 地理大發現後，葡萄牙人向東尋找殖民地，遂占領何處建立與中國貿易的據點？(A) 香港 (B) 臺灣 (C) 澳門 (D) 馬尼拉。
- () 10. 臺灣史前人類最早懂得熟食的可能是下列哪一代表文化？(A) 圓山文化 (B) 長濱文化 (C) 卑南文化 (D) 十三行文化。
- () 11. 荷蘭東印度公司於何時占領臺灣為基地？(A) 西元 1604 年 (B) 西元 1614 年 (C) 西元 1624 年 (D) 西元 1634 年。
- () 12. 荷蘭東印度公司占領臺灣後，以臺灣為基地，進行以下哪項貿易活動？(A) 與明朝福建官員協商進行兩岸官方貿易 (B) 積極發展呂宋島、臺灣、日本三地的轉口貿易 (C) 獎勵日本商人來臺進行走私貿易 (D) 招募漢人種植稻米、甘蔗並進行外銷。
- () 13. 請問：在下列哪一時間點，日本頒布了鎖國政策，日商退出東亞貿易競爭，荷、日遂不再有衝突？(A) 西元 1613 年 (B) 西元 1623 年 (C) 西元 1633 年 (D) 西元 1643 年。
- () 14. 「白天媽媽縫製獸皮衣，大姊忙著耕種農作物，小妹則用陶罐出去裝水回來，到了晚上三人輪流烤著爸爸白天抓來的野獸。」根據上述資料，可以判斷此種生活型態最早出現在哪一個臺灣史前文化中？(A) 大坌坑文化 (B) 十三行文化 (C) 長濱文化 (D) 圓山文化。
- () 15. 臺灣是 17 世紀漢人、日本人、荷蘭人、西班牙人等在東亞地區進行貿易競逐的重要據點。當時臺

灣會扮演這種角色的原因，主要是具備了下列哪一項優越的地理條件？(A) 氣候 (B) 地形 (C) 人口 (D) 位置。

- () 16. 西元 17 世紀時，鄭氏家族在趕走荷蘭人後，建立統治臺灣的三代政權。請問：若將鄭氏治臺三代領導人依照時間先後順序排列，下列何者正確？(A) 鄭經→鄭克塽→鄭芝龍 (B) 鄭成功→鄭克塽→鄭芝龍 (C) 鄭成功→鄭經→鄭克塽 (D) 鄭成功→鄭經→鄭芝龍。
- () 17. 歷史老師請同學以「臺灣平埔族與高山族」為題，進行分組討論。以下是該組四位同學的意見，其中共有幾位同學的看法是錯誤的？
甲生：「高山各族多分布於臺灣山區與東部地區。」
乙生：「平埔族群與漢人接觸較晚，因此仍保有不少原有文化。」
丙生：「平埔族群原本分布在臺灣西部及東北部的平原、丘陵地區。」
丁生：「由於高山各族很早就與漢人接觸，在漢人大量移民來臺後，已逐漸融入漢人社會。」
(A) 一位 (B) 二位 (C) 三位 (D) 四位。
- () 18. 在冰河時期，臺灣海峽因海水面下降而成為陸地，與現今「亞洲某些地區」連接，人類因此可以徒步來到臺灣。請問：下列何組選項符合題目中所敘述的「亞洲某些地區」？(A) 日本、美國、中南半島 (B) 美國、中國大陸、中南半島 (C) 日本、美國、中國大陸 (D) 日本、中國大陸、中南半島。
- () 19. 右圖中的句子，是學生報告的段落標題。此份報告的題目，最可能是下列何者？(A) 鄭氏三代經營 (B) 荷西爭奪臺灣 (C) 大航海時代貿易 (D) 濱田彌兵衛事件。
- () 20. 小宸和家人到臺東遊玩，無意間發現一塊帶有打製砍痕的石頭，石頭銳利的邊緣可以拿來切割紙張。請問：小翠最有可能撿到何種文化的遺跡？(A) 長濱文化 (B) 圓山文化 (C) 十三行文化 (D) 大坌坑文化。
- () 21. 請問：在下列哪一時期，歐洲人發現到達亞洲的新航路，人類歷史從此進入「大航海時代」？(A) 西元 15 世紀末 (B) 西元 16 世紀末 (C) 西元 17 世紀末 (D) 西元 18 世紀末。
- () 22. 附圖是一個史前時代文化層，因為不同時期的人類很可能在同一地區活動，所以留下不同的層位遺跡。下列哪一種物品，會放在甲層中？
(A) 全臺規模最大的貝塚 (B) 以打製的方式將石器作成工具 (C) 用來埋葬死者的石板棺與陪葬的玉器 (D) 從陪葬品中發現的玻璃手環。
- | |
|---|
| 甲 |
| 乙 |
| 丙 |
- () 23. 明末荷蘭人曾在南臺灣建造哪一座城，並在該地興建宿舍、醫院及倉庫，鼓勵漢人移居，使它成為繁榮的商業市鎮？(A) 熱蘭遮城 (B) 普羅民遮城 (C) 聖多明哥城 (D) 巴達維亞城。
- () 24. 西元 1597 年，有一封呈報給國王的信中寫到：「我們希望占領福爾摩沙的這個港口，最迫切的理由是為了確保菲律賓的安全。因為……日本企圖奪取這個港口以進占馬尼拉，我們要確保菲律賓的安全就必須擁有這個港口。」由上述背景判斷，這封書信最可能是呈報給哪一國國王？(A) 荷蘭 (B) 英國 (C) 西班牙 (D) 葡萄牙。
- () 25. 歷史老師請同學以長濱文化為題，進行分組討論。以下是該組四位同學的意見，何者的看法較為正確？
甲生：「長濱文化是臺灣舊石器時代早期的文化類型。」
乙生：「長濱文化位於臺灣的西部，屬於南島語族文化的一部份。」
丙生：「從長濱文化遺存可知，他們以採集、漁獵為主要的維生方式。」
丁生：「自長濱文化出土後，迄今臺灣的石器文化遺址都是海邊的洞穴出土。」
(A) 甲生 (B) 乙生 (C) 丙生 (D) 丁生。
- () 26. 荷蘭成立聯合東印度公司後，積極投入東亞貿易，曾占領澎湖，但被明朝將領何人逼退？(A) 施琅 (B) 鄭成功 (C) 沈有容 (D) 鄭克塽。
- () 27. 有一本歷史書籍記載：「鄭成功來臺灣經營，帶來很多士兵及眷屬，為解決糧食問題而實施『寓兵於農』的屯田制度，今天可以從臺灣南部地區的地名，看出屯田的影子。」下列哪一個地名與軍屯有關？(A) 臺南市白河區 (B) 高雄市左營區 (C) 屏東縣車城鄉 (D) 高雄市美濃區。
- () 28. 17 世紀初期，西班牙人進占雞籠，欲與荷蘭競逐臺灣，但不久之後西班牙退出了臺灣，其原因為何？(A) 荷蘭在北臺灣的基礎相當穩固，難以撼動 (B) 原住民難以治理，傳教事業遭遇嚴重阻

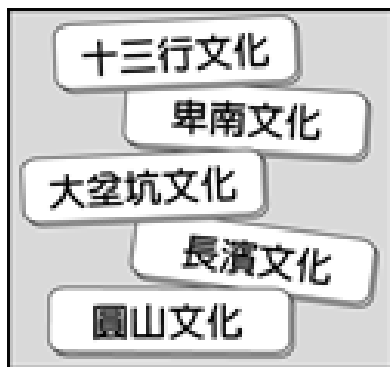


礙 (C) 鄭成功已有攻取臺灣的打算，故退出以避免介入中國內爭 (D) 日本實施鎖國政策，臺灣難以成為拓展貿易的據點。

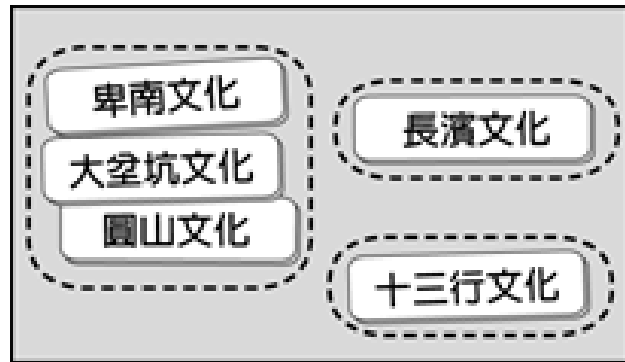
- () 29. 右表是某一組織的重要事件整理，根據內容判斷，下列何者最適合放入表中的「？」處？ (A) 以白銀吸引中國商人至呂宋交易 (B) 亞洲總部設立於巴達維亞，統籌經營 (C) 從印度輸出大量瓷器販賣至中國 (D) 以澳門為據點，推動亞洲傳教事業。

重要事件
★成立於十七世紀初
★ ?
★曾在臺灣、南非好望角等地建立殖民地
★在日本鎖國時期，獲准與日本貿易

- () 30. 小真利用週休二日搭乘臺北捷運來趟知性之旅，旅途中發現有一個捷運站的名稱與某一史前時代遺址名稱相同，而此一遺址中曾出土大量貝殼遺跡。請問：小真所看到的捷運站與下列哪一文化遺址關係最為接近？ (A) 圓山文化 (B) 卑南文化 (C) 長濱文化 (D) 大坌坑文化。
- () 31. 小琪將圖(一)中的五張卡片分為圖(二)中的三類，其分類的依據最可能是下列何者？ (A) 居住區域的位置 (B) 使用貨幣的類型 (C) 製作器物的技術 (D) 文字發展的程度。



圖一



圖二

- () 32. 關於荷蘭統治時期和鄭氏治臺時期的比較，何者正確？ (A) 前者統治時間較後者短暫 (B) 前者原先將臺灣視為貿易據點，後者視為「反清復明」的基地 (C) 後者貿易地區範圍較前者範圍廣泛，遍及歐、亞、非三洲 (D) 兩者皆重視海外貿易，與中國、日本、德國、法國貿易。
- () 33. 2012年3月5日，宜蘭縣「臺9線蘇花公路山區路段改善計畫」興築工地中，一位人員正巧發現眼前的土層有大量陶片。後來考古學家更在此地發現了煉鐵爐、鐵器、瑪瑙珠飾、中國錢幣等物品。請問：上文所敘述的史前文化遺址，應是下列何者？ (A) 漢本 (B) 卑南 (C) 圓山 (D) 南關里。
- () 34. 人類進入新石器時代以後有許多重大的變革，其重要意義為何？ (A) 開始使用文字，明確記載當時人們的各種活動 (B) 已知用火取暖、照明與熟食，使生命得以延長 (C) 發展嚴密的軍事及國家組織，保障群體的安全 (D) 農業的出現，使人類的生活得到較大的保障，文化活動得以更快速地發展。
- () 35. 16世紀起，歐洲人陸續來到東亞，將中國、日本、東南亞的特產商品運往世界各地，全球經濟貿易網開始成形。請問：下列何者並非當時中國的特產商品？ (A) 瓷器 (B) 香料 (C) 茶葉 (D) 絲織品。
- () 36. 臺灣長期以來，都是以對外貿易為導向的經濟特色，在歷史發展過程中，屢見不鮮。請問：鄭氏時期，臺灣的主要貿易對象為下列何組選項？ (甲) 中國 (乙) 日本 (丙) 英國 (丁) 朝鮮半島 (A) 甲乙丙 (B) 甲乙丁 (C) 甲丙丁 (D) 乙丙丁。

二、題組 (每一小題兩分，共二十八分)

題組一：西太平洋海域上有一群人，他們的組成分子複雜，除日本人以外，大多為漢人，平日亦盜亦商。他們的活動範圍很廣，從東北亞、東亞至東南亞都可見到他們的蹤跡。他們成立武裝船隊，掌握經濟及貿易路線，在東亞各地進行貨物交流或走私貿易。例如：顏思齊、鄭芝龍等人都是當時的代表人物。請回答下列問題：

- () 37. 上文中的這群人，被中國官方統稱為何？ (A) 商人 (B) 華僑 (C) 倭寇 (D) 移民。
- () 38. 14世紀後期，中國官方為了防備上文中的這群人而施行哪一政策？ (A) 南進政策 (B) 海禁政策 (C) 皇民化政策 (D) 種族歧視政策。
- () 39. 後代學者基於其亦盜亦商的性質，而稱呼他們為何？ (A) 海商 (B) 盜匪 (C) 賊偷 (D) 聯合東

印度公司。

- () 40. 在荷蘭人占領臺灣之前，顏思齊、鄭芝龍曾招募漢人開墾今日臺灣何處作為據點？(A) 臺北、宜蘭 (B) 雲林、宜蘭 (C) 嘉義、臺北 (D) 雲林、嘉義。

題組二：考古學家發現漢人大量來到臺灣之前，主要生活於臺灣的人群屬於「★語族」。他們的祖先在數千年前，先後跨越海洋來到臺灣。後來考古學家更綜合種種研究證據，推斷臺灣可能是「★語族」的起源地或向外擴張的起點。請回答下列問題：

- () 41. 根據上文，「★語族」最有可能是下列何者？(A) 南亞語族 (B) 南島語族 (C) 漢藏語族 (D) 印歐語族。
- () 42. 考古學家是根據下列何者證據推斷臺灣可能是「★語族」的起源地或向外擴張的起點？(A) 構樹 (B) 鐵渣 (C) 中國銅錢 (D) 繩紋陶片。

題組三：

1697年，郁永河奉命來臺採集硫磺，他帶領工人由府城安平沿岸北上。他觀察到此處少壯未婚的男子都居住在一間比較大的住屋，叫做「公廨」，這是村民們平常議事的場所。

郁永河歷經艱苦後終於抵達目的地—現今的北投地區，他雇用當地原住民，讓原住民以獨木舟載運硫土到他的工寮換取布匹，再由漢人工人展開提煉硫磺工作。請問：

- () 43. 郁永河記錄的臺灣西南地區原住民習俗，最可能與下列哪一原住民有關？(A) 排灣族 (B) 阿美族 (C) 西拉雅族 (D) 凱達格蘭族。
- () 44. 郁永河所雇用採集、運送硫土的原住民，應為下列何者？(A) 排灣族 (B) 阿美族 (C) 西拉雅族 (D) 凱達格蘭族。

題組四：某次颱風過後，在臺南市善化區發現史前文物，引起社會重視，該遺址裡也找到目前臺灣最早的稻米化石和數量龐大的陶器、石刀、石斧等。請問：

- () 45. 上文中的遺址應是下列何者？(A) 長濱 (B) 卑南 (C) 十三行 (D) 南關里。
- () 46. 上文中的遺址應屬於下列哪一個時代？(A) 青銅器 (B) 新石器 (C) 舊石器 (D) 鐵器。

題組五：

在航程中，我們正準備從巴達維亞回到臺灣，竟然碰上剛結束馬尼拉貿易季的中國帆船，當時船長推測這艘中國帆船上極可能載有美洲白銀，加上這艘船並無武裝，看來一場掠奪即將在海上展開。

不料，兩艘船遭遇了暴風雨，船長暫時打消掠奪中國帆船的念頭，決定改變航向，希望可以搶得葡萄牙船上的中國絲。精心盤算的海商們守株待兔，誰能夠預料到眼前的葡萄牙商船早已改裝成軍備精良的戰船，偽裝成普通商船在海上航行，想要引誘不知情的海商們上鉤，我們成為這場掠奪戰的輸家，船長和我與其他32名船員均遭俘虜，我們的商船被拖往中國焚毀，性命更是堪憂，接下來該如何是好？請問：

- () 47. 日記中提及的「我們」，最有可能是下列何者的水手？(A) 荷蘭聯合東印度公司 (B) 英國聯合東印度公司 (C) 西班牙聯合東印度公司 (D) 葡萄牙聯合東印度公司。
- () 48. 日記中提及的「我們的商船」裡頭應該載著什麼樣的商品？(A) 生絲 (B) 鹿皮 (C) 瓷器 (D) 香料。

題組六：請閱讀「發現大馬璘文化」的報導，回答下列問題：

大馬璘遺址位於南投縣埔里鎮愛蘭里，1900年由日本人類學家鳥居龍藏發現，是當時知名的史前臺灣遺址之一。……一百多年來，大馬璘遺址曾經過多次考古挖掘，出土了石板棺墓葬、礫石排列的建築結構，以及大量的石器、陶器等史前遺物，……但是近50年來，遺址上陸續興建了許多房屋，已經造成嚴重的破壞。

- () 49. 根據上文，請從報導內容研判，「大馬璘文化」最有可能屬於以下哪一時代？(A) 新石器時代 (B) 青銅器時代 (C) 金屬器時代 (D) 舊石器時代。
- () 50. 承上題，下列何者與「大馬璘文化」屬於同一時代？(A) 長濱文化 (B) 卑南文化 (C) 漢本遺址 (D) 十三行文化。