

桃園市立大有國民中學 107 學年度第一學期第一次評量試卷

年級	九年級	考試科目	地理			命題範圍	第一章 西亞/中亞 第二章 歐洲概說/南歐	作答時間	45 分
班級		姓名		座號		分數			

◆請將正確答案，塗在答案卡上，並確認答案卡上班級、座號是否塗寫正確。

第一頁，共四頁

◆單選題，每題2分，共50題，總分100分

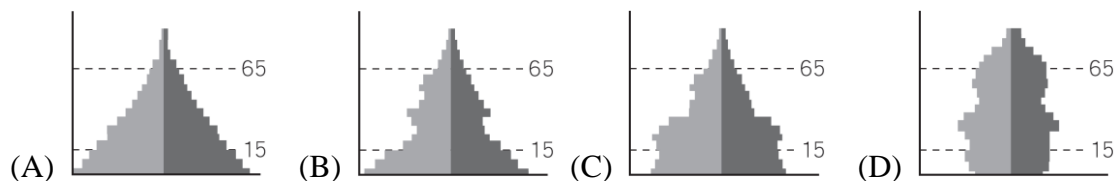
- 要利用飛行模擬器訓練飛行員在伊朗進行偵察，背景設定應在下列何種環境特徵？
(A)高大濃密的雨林 (B)崎嶇乾燥的高原 (C)單調平坦的寒漠 (D)星羅棋布的島嶼。
- 西亞地區經常出現大規模的地震災害，根據西亞地區的地質特色判斷，下列何處是發生地震可能性最大的地區？
(A)安那托利亞高原 (B)約旦河谷地 (C)阿拉伯高原 (D)美索不達米亞平原。
- 中亞地區人口多集中於河谷平原，產業活動以灌溉農業為主。請問：其重要的經濟作物為何？
(A)小麥 (B)橄欖 (C)可可 (D)棉花。
- 「此種作物生長在沙漠地區，果實產量多，營養價值高，被稱為『沙漠麵包』，是西亞國家齋戒月必備的食物。」請問以上描述的是哪種作物？(A)椰棗 (B)橄欖 (C)香蕉 (D)橡膠。
- 西亞大部分覆蓋著炎熱乾燥的沙漠，這些地區多半因為缺乏飲水和灌溉用水而無人居住，呈現一片荒涼。造成西亞普遍乾燥的主要原因為何？(A)季風吹拂 (B)對流旺盛 (C)高壓籠罩 (D)距海遙遠
- 西亞多數的房屋，平屋頂，牆很厚，門窗也很小，這種景觀和下列哪項地理因素最有關係？
(A)宗教 (B)氣候 (C)產業 (D)地形
- 阿爾卑斯山上有許多湖泊與寬平的 U 型谷地，這些湖泊與谷地是由哪種作用所形成？
(A)冰河作用 (B)風蝕作用 (C)溶蝕作用 (D)斷層作用
- 歐洲為世界人口密集地區中分布較均勻的地區，除了地形平坦的原因以外，另一項因素是什麼？
(A)距海洋近 (B)位置良好 (C)涼流經過 (D)無沙漠分布
- 到歐洲地區德、法、荷、比旅遊，發現四地都使用共同的貨幣，購買商品時發現上面的標價都會寫著下列哪種符號？
(A)€ (B)¥ (C)\$ (D)₣。
- 西班牙在加入歐盟後，提供大量的蔬果給西北歐國家食用。南歐的農業條件比西北歐優越，主要是什麼原因？
(A)技術 (B)土壤 (C)地形 (D)氣溫

- 由於主教任命權的問題，中國與教廷的關係在近 10 多年以來並不和睦，然而日前雙方的交涉似乎出現重大的進展。若中國欲派人前往天主教的中心—教廷國更進一步洽談，應前往附圖一中的哪一座城市？(A)甲 (B)乙 (C)丙 (D)丁



- 阿有是一位住在哈薩克的穆斯林，虔誠的他每天固定會向哪個方向做禮拜？(A)東北 (B)西北 (C)東南 (D)西南

- 歐洲大部分國家經濟發達，福利政策完善，其人口金字塔與下列哪種類型較為相似？



- 附圖二為南歐的行星風帶狀況示意圖，請由圖中資料判斷，此時南歐地區受副熱帶高氣壓影響，最可能位於哪個月分？(A)1 月 (B)3 月 (C)7 月 (D)12 月




- 對於歐洲各區地形概述，下列何者錯誤？

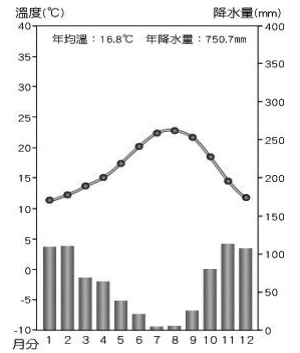
- (A)南歐地形較為崎嶇 (B)東歐以斯堪地那維亞半島為主
(C)北歐冰河地形發達 (D)平原多分布於西歐及東歐

- 西亞的衛星照片上發現了抽用地下深井水噴灑灌溉，形成一個個圓形農田分布的現象，此時觀測的地點最可能為下列何處？(見附圖三)

- (A)阿拉伯高原 (B)兩河流域 (C)地中海沿岸 (D)伊朗高原



- 17、附圖四為西亞某地區的氣候圖。請問：該地區最可能位於何處？
 (A)紅海和波斯灣沿岸(B)波斯灣和阿拉伯海沿岸(C)黑海和地中海沿岸(D)紅海和阿拉伯海沿岸
- 18、歐洲高緯度的港口擁有終年不結凍的條件，使得歐洲的航運十分發達。造成港口終年不凍的主要原因為何？
 (A)西風吹拂，帶來豐富水氣，調節氣溫 (B)黑潮北上，帶來溫暖水流
 (C)北大西洋暖流由本區進入北極海 (D)大西洋海水鹽度較高
- 19、下列對於西亞與中亞的自然環境比較，何者正確？

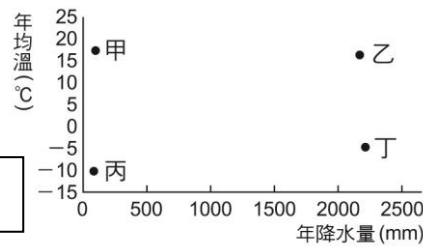


地區	(A)氣候	(B)河川	(C)地形	(D)乾燥成因
西亞	熱帶沙漠	多內流河	盆地為主	副熱帶高氣壓籠罩
中亞	熱帶沙漠	多外流河	高原為主	地處內陸距海遠近

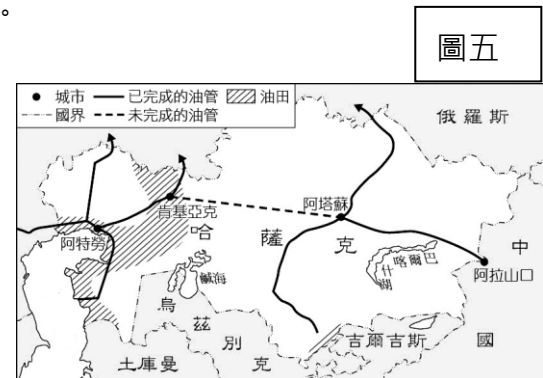
- 20、鹹海在最近數十年間湖泊面積大規模縮小，造成上述變化的原因為何？
 (A)當地居民為增加耕地而進行圍湖造田 (B)過度抽取地下水 (C)引上游河水種植棉花 (D)長期乾旱使湖水乾涸
- 21、歐洲聯盟成立後所帶來的改變不包括下列何者？
 (A)使用共同貨幣 (B)開放原料往來 (C)工業產品規格統一 (D)強化各國國界與主權
- 22、南歐有三個半島：(甲)巴爾幹半島(乙)伊比利半島(丙)義大利半島。若從大西洋經地中海往土耳其出發，由西而東走，則經過的半島順序為何？ (A)甲丙乙 (B)甲乙丙 (C)乙丙甲 (D)乙甲丙
- 23、位於中亞地區，是世界最大湖泊，因擁有豐富的石油資源，被譽為『第二個中東』。上述的湖泊應是指下列何者？(A)鹹海 (B)裏海 (C)紅海 (D)黑海

- 24、承上題，參考附圖五，哈薩克於該湖泊開採的石油，可就近經由中國哪一個行政區銷往中國？ (A)西藏 (B)新疆 (C)雲南 (D)內蒙古

- 25、中亞因過度發展農業，使得土壤鹽鹼化，並造成沙漠化等問題。這種現象最容易發生在附圖六中的哪種氣候環境？



- (A)甲 (B)乙 (C)丙 (D)丁



- 26、歐洲在第二次世界大戰後，透過某個區域組織整合整個歐洲，期望減少貿易衝突，以提升整體歐洲的競爭力。下列哪個圖示是這個區域組織的旗幟？



- 27、歐洲人說「西風送雨」，而中國人說「西風送乾」，同樣位於盛行西風帶，造成如此差異的原因為何？
 (A)海陸分布不同 (B)氣壓高低不同 (C)風勢強度不同 (D)吹拂季節不同
- 28、附表為東歐、西歐氣候比較，表格中哪項資料正確？ (A)甲 (B)乙 (C)丙 (D)丁


地區	(甲)氣候類型	(乙)年溫差	(丙)降雨季節	(丁)冬溫
東歐	溫帶海洋性	較小	集中夏季	較高
西歐	溫帶季風	較大	四季有雨	較低

- 29、「登上了頂峰，放眼望去，北邊是瑞士、南邊是義大利...」文中攀爬的可能是下列哪座山？

- (A)烏拉山 (B)阿爾卑斯山 (C)庇里牛斯山 (D)喜馬拉雅山

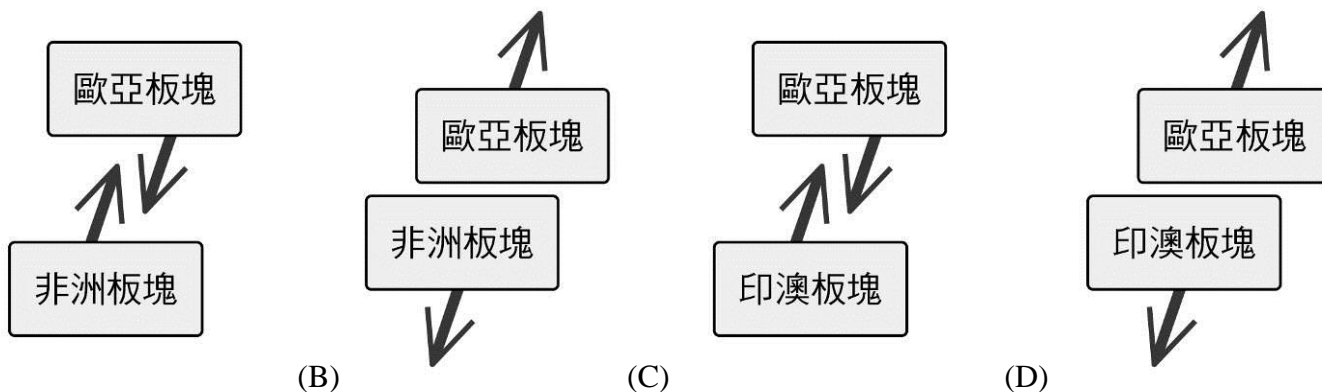
- 30、附圖七是新疆的引水設施示意圖。下列哪個地區的居民為了適應當地環境，也發展出類似的設施？
 (A)伊朗高原 (B)波河平原 (C)阿拉伯高原 (D)美索不達米亞平原。

圖七



- 31、南歐有個主要的工業國家，為世界的八大工業國之一，其工業帶分布於北部波河平原一帶，以鋼鐵、汽車、服飾以及皮革等為主體，這是指哪個國家？(A)西班牙 (B)葡萄牙 (C)義大利 (D)希臘
- 32、搭乘遊輪從希臘欣賞完古建築之後，乘著船往大西洋移動前往英國，旅程中會經過下列哪個地方？
 (A)麻六甲海峽 (B)直布羅陀海峽 (C)博斯普魯斯海峽 (D)達達尼爾海峽

- 33、義大利的龐貝古城，因某次災難發生時所產生的某種細緻土壤，瞬間將人或物包裹，使得在此城市被淹沒前，受難者遺骸得以完整保存。由上述判斷，龐貝古城遭遇的災難最可能是什麼？
 (A)海水倒灌 (B)沙塵暴 (C)土石流 (D)火山爆發
- 34、貝都因人一般生活在沙漠邊緣的草原地帶，按照季節和固定路線進行規律的移動。請問：依照貝都因人的生活型態，他們最可能出沒在下列何處？(A)東南亞 (B)西亞 (C)北歐 (D)南歐
- 35、承上題，依貝都因人分布地區研判，其生活方式受宗教信仰影響極深。有關貝都因人的敘述，下列何者正確？
 (A)教義規定不吃牛肉 (B)每日朝麥加朝拜 (C)每週上教堂做禮拜 (D)每日虔誠誦讀佛經
- 36、中國「新絲綢之路」串聯亞洲和歐洲，經過亞洲號稱「亞洲心臟，世界邊緣」的區域，該區域指的是何處？
 (A)中亞 (B)西亞 (C)南亞 (D)北亞。
- 37、哈里發塔繼帆船飯店之後，成為阿拉伯聯合大公國杜拜的重要地標。請問下列敘述何者和阿拉伯聯合大公國有關？
 (A)境內庫德族曾遭伊拉克攻擊 (B)遭伊拉克入侵，引發波斯灣戰爭
 (C)石油蘊藏量大，申請加入 OPEC (D)世界三大宗教的起源地，吸引信徒前來朝聖
- 38、歐洲共同體 12 國於西元 1993 年轉為歐洲聯盟，其後又不斷納入新會員國，在西元 2004 年後，又有波蘭、捷克、匈牙利、斯洛伐克、斯洛維尼亞、愛沙尼亞、拉脫維亞、立陶宛、羅馬尼亞及保加利亞等國加入。請問：晚近加入的會員國，主要是位在歐洲哪個分區？ (A)北歐 (B)西歐 (C)南歐 (D)東歐。
- 39、南歐地區受到板塊擠壓影響呈現崎嶇多山的特色，若將此區的板塊名稱及活動方向畫成示意圖，最接近下列哪張？



- (A) (B) (C) (D)
- 40、美國針對伊朗的核子問題重啟了經濟制裁，決心要讓伊朗的某項重要資源出口完全歸零，以迫使伊朗改變行為。但美國此舉動已經對該資源的國際價格造成上升的壓力。請問上述的資源最可能是下列何者？
 (A)水資源 (B)鐵礦 (C)石油 (D)煤礦

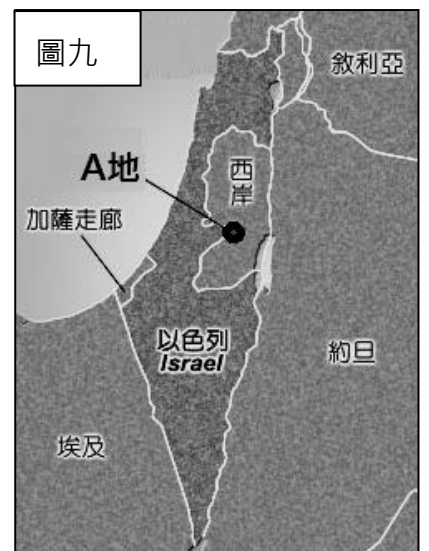
【題組】2018 年 5 月 14 日是以色列建國 70 周年國慶日

(以色列於 1948 年 5 月 14 日宣布獨立)，

美國與巴勒斯坦人對以色列 70 周年國慶卻有不一樣的作為：

(1) 2018 年 5 月美國駐以大使館將從特拉維夫 (Tel Aviv) 遷往 **A 地**。

(2) 巴勒斯坦人把 5 月 15 日定為「災難日」(Nakba Day)，每年這個時候位於加薩走廊及約旦河西岸的巴勒斯坦人都會發動大規模示威抗議。今年適逢以色列建國 70 周年，又遇到美國政府挑動 **A 地** 爭議，因此加薩走廊巴勒斯坦人從 3 月 30 日就展開為期 6 周的「返鄉大遊行」，並在 5 月 14 日、15 日達到最高峰。



41、附圖十為文中 **A 地** 的舊城區示意圖。此城市在希伯來語為「和平之城」之意，是世界三大宗教的聖地。請問 **A 地** 所指的城市為何？(A)麥加(B)耶路撒冷(C)羅馬 (D)伊斯坦堡。

42、長久以來以色列和巴勒斯坦不斷發生暴力衝突，下列對當地衝突原因的敘述何者正確？
 (A)以色列當地石油蘊藏豐富，各國都想要爭奪 (B)巴勒斯坦面臨印度洋，自古為交通要衝
 (C)雙方信仰不同，爭奪土地引發了許多仇恨 (D)民主國家與共產國家的差異

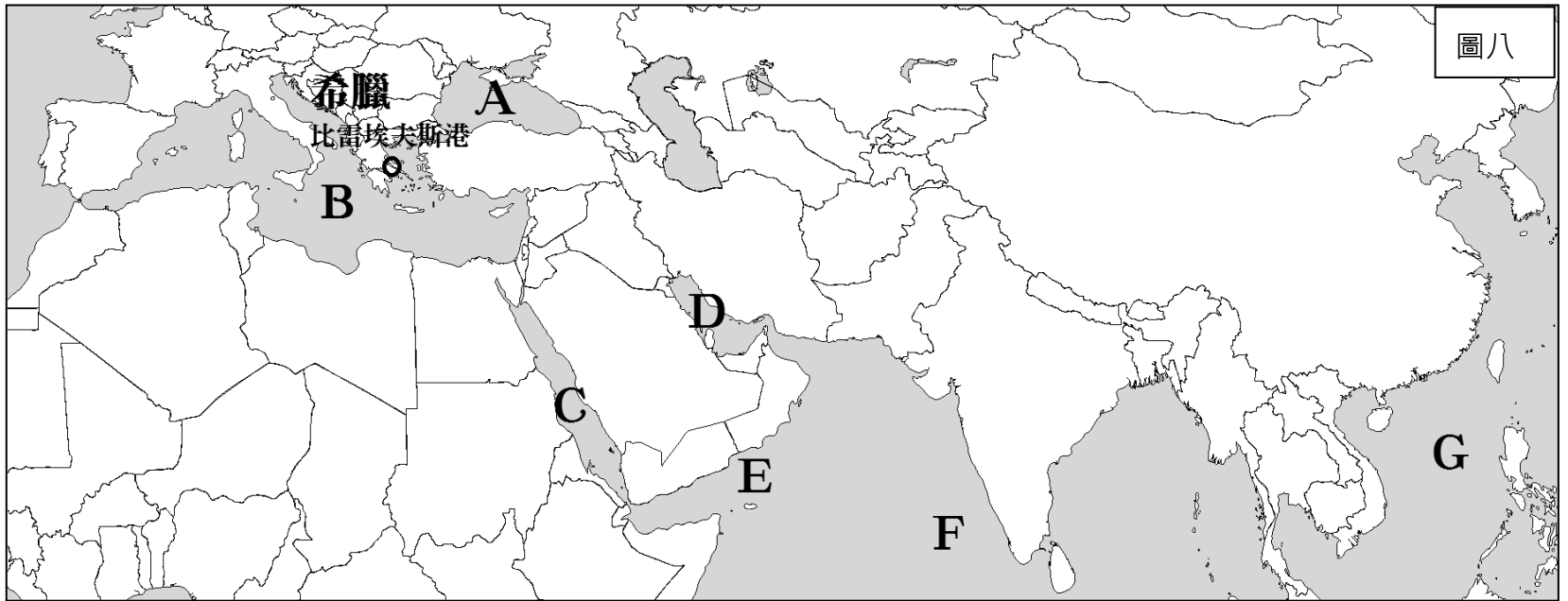
43、以色列與埃及以防範恐怖攻擊之名，對加薩走廊進行陸海空全面封鎖，只容許人道救援物資進入，長達 11 年的封鎖行動讓加薩走廊陷入經濟絕境。關於海域的封鎖，只開放外圍 6 浬捕魚，請問加薩走廊外圍的海域指的是下列何者？ (A)地中海 (B)紅海 (C)黑海 (D)裏海

44、關於以色列的敘述何者**正確**？(A)信奉伊斯蘭教為主
 (B)沒有加入石油輸出國組織
 (C)位居歐洲、亞洲的要衝，有歐亞陸橋之稱
 (D)為了有效利用地下水，發展出坎井

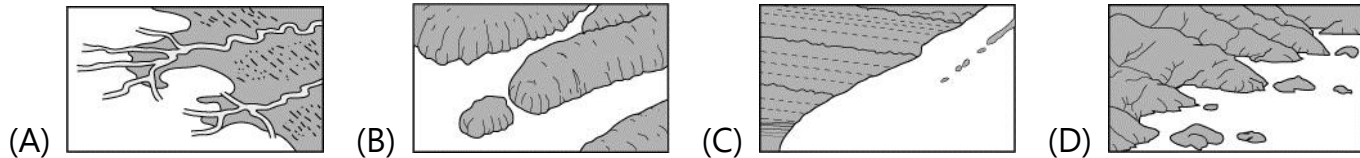


【題組】據報導指稱，希臘航運業的規模是全球最大的，中國 60% 的商品是由希臘船隊運輸的。

2009 年，中國航運企業中遠集團開始在希臘比雷埃夫斯港經營碼頭。中國希望使希臘港口發揮其「一帶一路」的「龍頭」作用，成為讓中國貨物進入歐洲和北非的門戶。



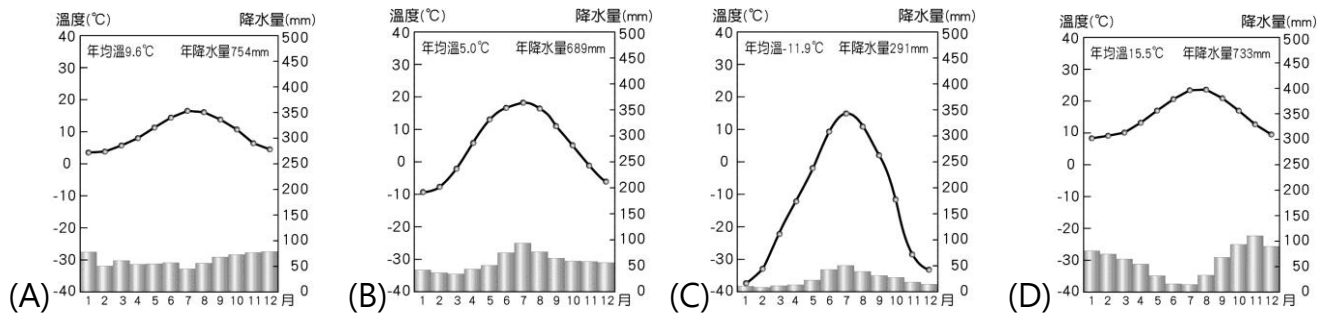
45、希臘自古即以航運貿易著稱，請問：希臘發展航運的最主要優勢是因為擁有下列哪種海岸地形？



46、若中遠集團近期想從南歐地區載運一批當地特產回中國販售，下列何者會是主要的採購項目？

(A)棉花籽油，啤酒 (B)橄欖油，葡萄酒 (C)大豆油，伏特加 (D)石油，高粱酒

47、承上題，當地特產主要和南歐地區屬於哪一種氣候類型有關？



48、見圖八，回程從 B→C→E→F→G 回到中國，路程中不會經過下列哪一個海域？

(A)阿拉伯海 (B)紅海 (C)黑海 (D)南海

49、中遠集團派出另一艘油輪前往圖八中 D 海域載運石油，請問 D 海域的名稱為何？

(A)阿拉伯海 (B)裏海 (C)黑海 (D)波斯灣

50、中遠集團從希臘比雷埃夫斯港前往圖八中 A 處海域載運東歐地區貨品，勢必得經過哪一個國家的海域？

(A)土耳其 (B)阿拉伯聯合大公國 (C)西班牙 (D)埃及

END