

桃園市立大有國民中學一〇七學年度第一學期第一次評量試卷

年級	七	考試科目	歷史			命題範圍	第一～二課	作答時間	45分
班級		姓名		座號		分數			

一、選擇題

- ( ) 1. 新石器時代早期的大坌坑文化遺址，出土許多器物，下列何者是這些器物的重要特色？ (A)玉器是主要陪葬品 (B)出土大量粗繩紋陶 (C)台北湖貝塚 (D)出土煉鐵作坊遺址。
- ( ) 2. 西班牙人計畫以臺灣為跳板到日本貿易，但是並不順利，是因日本當時進行何種措施所致？ (A)閉關自守 (B)明治維新 (C)鎖國政策 (D)同化政策。
- ( ) 3. 由〈番社采風圖〉中描繪的平埔族狩獵情形，可以得知哪種動物是當時平埔族的主要獵物？ (A)臺灣黑熊 (B)梅花鹿 (C)臺灣獼猴 (D)雲豹。
- ( ) 4. 小芳準備為歷史人物寫傳記，她蒐集的資料如附圖所示。請問：小芳正準備寫下列哪一位歷史人物的傳記？ (A)鄭芝龍 (B)沈有容 (C)韋麻郎 (D)顏思齊。
- 一、明朝將領。  
二、三大功勳：  
1.到臺灣驅逐倭寇。  
2.在澎湖諭退荷蘭人。  
3.俘獲倭寇。
- ( ) 5. 曉明：「依其主要生活區域的不同，將臺灣原住民分為平埔族和高山族，其實並不正確，並非所有的高山族都居住在山區。」請問：曉明應提出哪一族群來證明自己的論點？ (A)布農族 (B)泰雅族 (C)鄒族 (D)達悟族。
- ( ) 6. 臺灣東部的太麻里以「日出、釋迦、金針花」交織出原住民部落美麗的畫面，此處自古以來即是排灣族人的居住地。下列關於排灣族的敘述，何者正確？ (A)為母系社會 (B)在日治時期屬於高砂族之一 (C)為十三行文化人的後代 (D)舉行猴祭來培養少年的膽識和殺敵氣概。
- ( ) 7. 小新在報紙上看到如附圖的報導。請問：這應該是為了紀念郭懷一的哪項事蹟？ (A)抗議荷人對漢人收重稅而反抗 (B)將新港文字傳給原住民 (C)反對

永康科工區昔日為是郭懷一事件發生的地點。此事件在臺灣史上有重要地位，政府決定將永康科工區北入口意象，規畫作為郭懷一紀念公園。

臺灣與荷蘭人貿易 (D)協助鄭成功驅逐荷蘭人。

- ( ) 8. 小敏翻閱《圖說臺灣史》一書，其中有一幅原住民婦女的圖片，如附圖所示，圖片中的婦女臉上可清晰看到



紋面。請問：紋面對此族群來說，代表什麼樣的意義？ (A)表達對神靈的感謝之意 (B)被視為是成年禮的儀式 (C)表達崇拜阿立祖之意 (D)為一種祈求豐收的儀式。

- ( ) 9. 「圓山文化」是臺灣很重要的史前文化代表，關於這個文化的特色，下列敘述何者正確？ (A)出土地點在臺灣中部一帶 (B)曾出土煉鐵的作坊遺跡 (C)屬於新石器時代的文化 (D)已知用火，但尚未有農業出現。
- ( ) 10. 人類的歷史很漫長，歷史學家將此區分為「史前時代」與「歷史時代」，請問：這是以下列何者的發明來區分？ (A)文字 (B)石器 (C)陶器 (D)農業。
- ( ) 11. 下列關於「海商」的敘述，何者正確？ (A)為明代在海上從事非法走私貿易的荷蘭商人 (B)組成分子完全是日本人 (C)明政府派兵進駐臺灣，海商遂轉移到澎湖 (D)顏思齊是其中的代表人物。
- ( ) 12. 西元1650年左右，臺灣每年所創造的利益約有四噸黃金，一位總督大為驚訝的說：「臺灣真是公司的一頭好乳牛。」這樣驚人的利益來自於下列何者？ (A)豐富的礦產 (B)森林資源 (C)島內商業 (D)國際貿易。
- ( ) 13. 小嫩在書中讀到一段有關於早期臺灣住民的文字：「……性好勇、喜鬥、冬夏不衣、喜生女……議事於公廨中、無揖讓跪禮及無曆日文字。」請問：這段文字最有可能在介紹哪個原住民族？ (A)泰雅族 (B)布農族 (C)漢族 (D)西拉雅族。
- ( ) 14. 右圖是某一文化的復原想像圖。這個村落的房子大都是以木頭架高而成。平時除了耕作與打獵外，村裡有些人也會製作精美的陶器，而女人大多也會織布。平日空閒時。大家會蹲在地上聊天，談談前些日子從其他地方換來的錢幣、玻璃珠等東西。請問：右圖應為下列哪一文化？ (A)大坌坑文化 (B)十三行文化 (C)圓山文化 (D)卑南文化。
- 
- ( ) 15. 阿俠生活在十六世紀中，他是當時一種配有武器、亦商亦盜的集團成員之一。他在走私物品時，將據點由澎湖轉移至臺灣，主要與哪一因素有關？ (A)日本人瓜分澎湖的商業利益 (B)明朝政府派軍隊駐守澎湖 (C)西班牙人占領臺灣北部，威脅到澎湖的貿易 (D)葡萄牙人禁止漢人在澎湖進行走私貿易。

( )16. 現今臺灣有不少作物是在荷治時期引進，其中並不包括下列何者？ (A) 番茄 (B) 豌豆 (C) 釋迦 (D) 小米。

( )17. 十七世紀，臺灣曾遭荷蘭與西班牙占領，當時這兩國分別以附圖哪兩個地區為據點，實行其殖民？



(A) 甲乙 (B) 乙丙 (C) 丙丁 (D) 丁戊。

( )18. 從飛魚祭、矮靈祭、豐年祭，可知這應是屬於何種民族的祭典？ (A) 高山族的歲時祭儀 (B) 平埔族的歲時祭儀 (C) 平埔族的祖靈祭祀 (D) 高山族的生命禮儀。

( )19. 小敏閱讀臺灣原住民的相關書籍，知道臺灣原住民屬於南島語族。請問：關於南島語族的敘述，下列何者正確？ (A) 南島語族約在五百年前陸續移居臺灣 (B) 臺灣位於南島語族地理分布上的最北端 (C) 南島語族的族群至今已全部消失 (D) 南島語族主要活躍在大西洋及太平洋島嶼上。

( )20. 芝穎是新北市八里地區考古隊的工作人員，日前有民眾在八里某地區發現史前遺物，芝穎被指派前往挖掘文化。請問：下列何者最可能是芝穎挖掘後，所繪之八里地區的文化層形態？

(A)	卑南文化	(B)	十三行文化
	長濱文化		大坵坑文化
(C)	大坵坑文化	(D)	大坵坑文化
	十三行文化		圓山文化

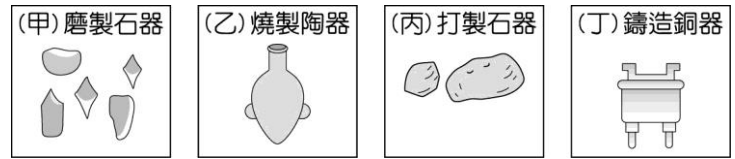
( )21. 臺南安平的延平街號稱「臺灣第一街」，這是基於何項理由？ (A) 高山族人最早是在此居住 (B) 臺灣第一家夜市開設在此地 (C) 西班牙人在此興建臺灣最早的市街 (D) 荷蘭人在此興建臺灣最早的市街。

( )22. 荷蘭治臺時期，在臺灣的荷蘭統治當局會將刻有荷蘭東印度公司標幟的藤杖，授予原住民部落中有地位的人士，這些人每年集會一次，在會中宣誓效忠荷蘭，並報告各轄區內的情形。請問：上述「有地位的人士」應是指下列何者？ (A) 長老 (B) 傳教士 (C) 巫師 (D) 漢人通事。

( )23. 「高砂義勇隊」是動員臺灣原住民前往東南亞叢林作戰的組織。由此名稱判斷，這個作戰組織應是在哪個時期所組成的？ (A) 清領時期 (B) 日治時期 (C) 民國四十年代 (D) 民國八十年代以後。

( )24. 歷史上人類使用的工具幾經轉變，如下圖所示。

若依其使用時間的先後加以排列，正確順序為何？



(A) 丙乙丁甲 (B) 甲丙乙丁 (C) 丙甲乙丁 (D) 乙丙甲丁。

( )25. 荷蘭人治理臺灣期間，除了利用臺灣進行貿易活動，他們也曾在臺灣實施經濟措施來獲取利益。關於這些措施，下列敘述何者錯誤？ (A) 招募漢人來臺灣開墾土地 (B) 土地都歸東印度公司所有 (C) 將臺灣的番茄等農作外銷 (D) 漢人必須繳稅才能夠耕種。

( )26. 清領時期，臺灣的原住民都被統治者分為「生番」和「熟番」，這種分類方法是根據下列何者？ (A) 主要居住地區的分布 (B) 是否有繳稅、服勞役 (C) 移民來臺時間的早晚 (D) 經濟活動的差異。

( )27. 母系社會簡單來說是：「是按母系計算世系、血統和繼承財產的氏族制度社會」。在早期臺灣的族群中，下列哪個族群不屬於母系社會？ (A) 阿美族 (B) 布農族 (C) 卑南族 (D) 西拉雅族。

( )28. 憶涵前往史前文化博物館參觀，她發現館裡一項常設展覽中，展出石板棺出土的精美陪葬品，包括六千多件的玉器，及石刀、石鏟、石杵等石器，陶器則有陶罐、陶蓋等。這些物品皆具有實用性，且工藝水準極高。請問：此項展覽最可能以哪一文化為主題？ (A) 圓山文化 (B) 卑南文化 (C) 十三行文化 (D) 大坵坑文化。

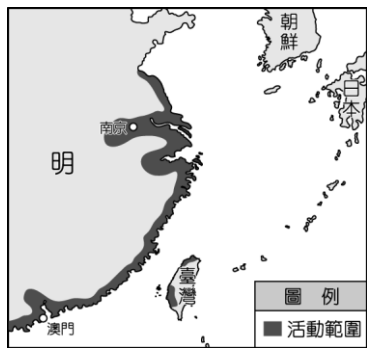
( )29. 「礮石砍器」是指圓形礮石經過敲打後，成為具有各種尖銳面的石器，由於圓滑面便於人手緊握，可用來攻擊動物、切割植物或獸皮。請問：最早使用「礮石砍器」的臺灣史前文化，應出土於哪個縣市？ (A) 新北市 (B) 臺南市 (C) 屏東縣 (D) 臺東縣。

( )30. 荷蘭人與西班牙人在台灣統治的比較，下列何者正確？ (A) 兩者皆傳播基督教 (B) 兩者均引發漢人反抗事件 (C) 兩者均曾和日本進行貿易 (D) 西班牙人打敗荷蘭人，成為全臺的統治者。

( )31. 公共電視曾製作一系列與臺灣歷史相關的節目，其中一段節目描述十七世紀一場氣勢磅礴的海戰，這場戰爭中漢人成功打敗統治臺灣的外國人。關於此段史事，下列敘述何者錯誤？ (A) 此場海戰發生的時間約為中國的清朝初年 (B) 統治臺灣的是以貿易為主的國家 (C) 漢人領軍者應為鄭芝龍 (D) 當時的統治者已經遭到人民怨恨。

( )32. 歷史老師請同學觀賞臺灣原住民介紹的影片並附文字說明。第一段：「此族是父系社會，愛好和平，以矮靈祭聞名。」第二段：「舟船雕刻優美，男性穿丁字褲，擅長捕魚。」第三段：「母系社會，服飾鮮豔，喜愛紅色，熱愛歌舞。」老師請同學發表以上三段文字其所論述族群的順序，下列何人的敘述正確？ (A) 甲生：魯凱、達悟、阿美族 (B) 乙生：賽夏、達悟、布農族 (C) 丙生：泰雅、賽夏、達悟族 (D) 丁生：賽夏、達悟、阿美族。

( )33. 附圖是 16、17 世紀某勢力的活動範圍，他們在這些地區進行走私貿易與劫掠。請問：上述的「某勢力」應為下列何者？(A)海商 (B)羅漢腳 (C)葡萄牙商人 (D)聯合東印度公司。



( )34. 承上 33 題，下列何人較符合「某勢力」其中的一份子？(A)沈有容 (B)郭懷一 (C)鄭芝龍 (D)臺灣長官。

( )35. 刺猴是整個猴祭的高潮，目的在考驗少年的膽識，少年於刺殺猴子後，由長老帶領少年們唱歌，以弔猴靈。由於今日社會已禁止狩獵，因此祭典中改用草編猴子代替。祭典最後，年紀稍長的族人會以竹子鞭打少年屁股，代表認同少年成長。請問：上述的原住民祭典會在附圖中的何處舉行？(A)① (B)② (C)③ (D)④。



## 二、題組

【題組】阿嘉是臺灣某知名旅行社的資深導遊，專門引導來自外國的旅遊團暢遊寶島，進行深度原住民文化之旅。為了讓賓客能在有限的時間內充分了解臺灣豐富的原住民文化，阿嘉除了每站精心的講解之外，還會在最後一天離開前，在遊覽車上舉辦認識原住民族有獎徵答，獎品是原住民圖騰的鑰匙圈。請回答下列問題：

( )36. 據說日本人統治臺灣的時候，為了要興築日月潭的發電工程，漲起來的水把他們的家園和耕地淹沒在潭底。阿嘉問的應是哪一族？(A)邵族 (B)排灣族 (C)阿美族 (D)卑南族。

( )37. 家寶答對了一題拿到了一個鑰匙圈，他發現上面有一個象徵貴族身分的「百步蛇」的圖騰。這應是哪一族的紀念品？(A)泰雅族 (B)魯凱族 (C)賽夏族 (D)達悟族。

( )38. 阿嘉問到電影賽德克·巴萊的情節，最不可能出現下列哪一鏡頭？(A)莫那魯道為族人而英勇奮戰 (B)賽德克族成年男女擁有面部刺青 (C)族人以陶壺祭祀祖靈 (D)原住民與日本人發生衝突。

【題組】某縣市政府網站介紹該地的歷史沿革：「元世祖時正式設巡檢司，至明太祖時，因東南沿海長年海盜倭寇為患，此地反成盜寇巢穴，遂依部將湯和所請，廢巡檢司，將原有居民遷至泉、漳二州安置。」請回答下列問題：

( )39. 依上文中的歷史沿革內容判斷，這應是哪個縣市政府網路的內容？(A)新北市 (B)臺南市 (C)雲林縣 (D)澎湖縣。

( )40. 明太祖時因東南沿海長年海盜倭寇為患，而將原有居民遷至泉、漳二州安置，此為哪種政策？(A)海禁政策 (B)鎖國政策 (C)渡臺禁令 (D)安全政策。

( )41. 網站除了介紹歷史沿革，在觀光景點方面，下列何者是必須介紹的重點？(A)熱蘭遮城 (B)馬公天后宮 (C)淡水紅毛城 (D)開拓臺灣登陸紀念碑。

【題組】附表為西元 1659 年，臺灣平埔族西拉雅族各社熟悉教理的信徒比例。請問：

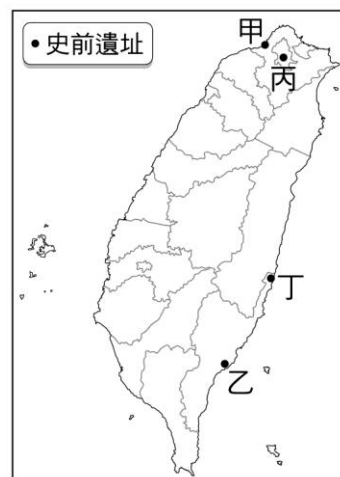
西拉雅族	比例
新港社	83%
麻豆社	51%
目加溜灣社	76%

( )42. 十七世紀時，西拉雅族的新港、麻豆、目加溜灣等社，皆是居住在臺灣哪一地區的原住民？(A)中央山脈 (B)東部地區 (C)南部平原 (D)北部地區。

( )43. 「熟悉教理的信徒」，是指熟悉哪一種宗教的義理？(A)佛教 (B)道教 (C)天主教 (D)基督教。

( )44. 表中資料顯示新港社原住民熟悉教理的信徒比例較高，最可能的原因為何？(A)新港社較其他兩社漢化程度高 (B)新港社是最服從的原住民 (C)荷蘭人教導新港社原住民用羅馬字母拼注其語言並翻譯《聖經》 (D)新港社較其他兩社開發早。

【題組】附圖為臺灣地區重要史前遺址分布圖，請依附圖回答下列問題：



( )45. 附圖中哪個史前文化遺址出現大量的貝塚，說明當時人類是濱湖而居的？(A)甲 (B)乙 (C)丙 (D)丁。

( )46. 位於甲地的史前文化，考古發現煉鐵爐的遺跡，下列何者符合對此地的描述？(A)出土玻璃手環、瑪瑙珠飾 (B)距今約七千年前 (C)可能為西拉雅族的祖先 (D)以採集、捕獵維生。

( )47. 附圖中那些史前文化遺址屬於新石器時代的文化？(A)甲乙 (B)乙丙 (C)丙丁 (D)甲丁。

( )48. 目前臺灣發現最古老的史前文化遺址，位於附圖中何處？(A)甲 (B)乙 (C)丙 (D)丁。

【題組】請從選項中選擇適當的答案回答 48-50 題：

(甲)淡水 (乙)基隆 (丙)澎湖 (丁)臺南

( )49. 西班牙人在甲~丁何處建立城堡？(A)甲乙 (B)乙丙 (C)丙丁 (D)甲丁。

( )50. 哪個地方同時存在有最早的外國人與漢人活動的城牆遺跡？(A)甲 (B)乙 (C)丙 (D)丁。