
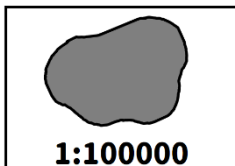


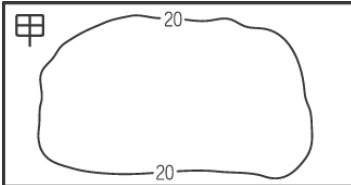
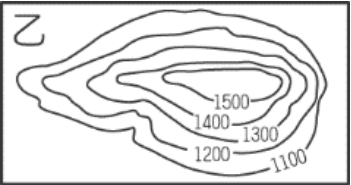
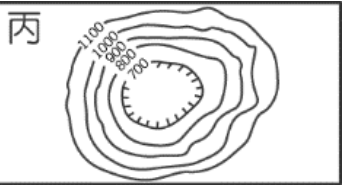
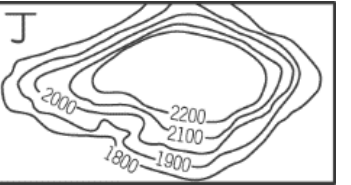
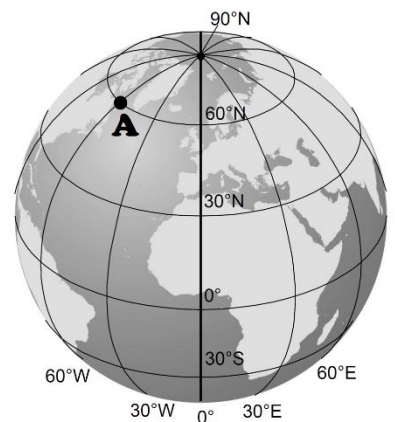
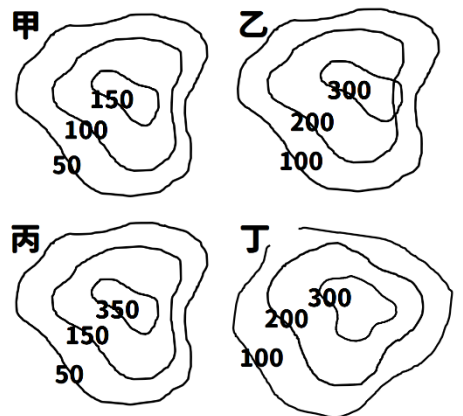


桃園市立大有國民中學 107 學年度第一學期第一次評量試卷

年級	七	考試科目	地理科		命題範圍	L1、L2-1~2-3	作答時間	45分
班級		姓名		座號	分數			

一、單選題 (共 20 題，每題 2.5 分，共計 50 分)

- 「大有國中位在大有路 215 號。」此種位置的描述方法，與下列何者類似？
 (A)臺南市位於嘉義縣的南方 (B)凱威家在可弘家東側 50 公尺處 (C)郁涵的電影票座位在第 3 排 7 號
 (D)書局位在捷運站出口前方步行 15 公尺處
- 下列關於臺灣「相對位置」的描述，何者正確？
 (A)臺灣位在日本的東北方 (B)臺灣位在中國的西北方 (C)臺灣位在菲律賓的南方 (D)臺灣位在太平洋的西方
- 中國近年來積極在南海填海造陸，宣示自己擁有南海諸島的控制權，想藉此擴增其經濟海域範圍，此舉亦引發鄰近國家的不滿。請問哪個國家的海洋開發權益，較不會因為中國在南海的開發而受到衝擊？
 (A)日本 (B)越南 (C)菲律賓 (D)馬來西亞
- 老師在上課時帶了四張地圖做講解，請問哪一張地圖的比例尺最大？
 (A)世界地圖 (B)臺灣行政區圖 (C)桃園市街區圖 (D)大有國中校園平面圖
- 下列關於本初經線的描述，何者錯誤？
 (A)即 0 度經線 (B)為東西向的圓弧線 (C)和其他經線長度一致 (D)可將地球分為東、西半球
- 依照等高線地形圖的特性，右側四張等高線地形圖中何者才是正確的？
 (A)甲 (B)乙 (C)丙 (D)丁
- 下列「特殊緯線」及其「緯度」，何者配對正確？
 (A)北回歸線：23.5°S (B)北極圈：90°N (C)本初經線：0° (D)赤道：0°
- 當地圖未標示出方向標時，則該張地圖的左下方應為什麼方位？
 (A)東南方 (B)東北方 (C)西南方 (D)西北方
- 中央氣象局指出：「9 月 1 日燕子颱風的中心位置位在北緯 20 度、東經 138 度...」請問，此時該颱風位在臺灣本島的何處？
 (A)東南方 (B)東北方 (C)西南方 (D)西北方
- 下列知名旅遊景點中，何者主要由外營力形塑而成？
 (A)知本溫泉 (B)墾丁白沙灣 (C)陽明山國家公園小油坑 (D)霧峰車籠埔斷層保存館
- 右圖為全球經緯座標系統之示意圖。請問從 A 點移動到北極點，是往哪個方位移動？
 (A)西北方 (B)東北方 (C)北方 (D)東方
- 航海家靖恆在環遊世界時意外發現了四座無人島，下列哪一座島嶼的面積最大？
 (A)  (B)  (C)  (D) 
- 超人小凡與小碩正在進行一項環繞地球飛行的比賽。小凡從(60°W,30°N)飛行到(60°E,30°N)，小碩從(60°W,60°N)飛行到(60°E,60°N)，若兩人同時抵達終點，則誰的飛行速度較快？
 (A)小凡 (B)小碩 (C)兩人一樣快 (D)無法判斷
- 老師在上課時利用等高線地形圖介紹臺灣的地形種類，則下列哪一張等高線地形圖不會出現？
 (A)  (B)  (C)  (D) 



15. 下列關於「沖積扇」及「三角洲」的敘述，何者錯誤？

- (A) 主要皆由外營力形成 (B) 堆積作用是兩者的主要成因 (C) 前者多分布在出海口 (D) 後者的土石顆粒通常不大

16. 馨翎和靖雯趁著暑假分別到了越南胡志明市(105°E, 10°N)和日本大阪(135°E, 34°N)渡假。下列何者敘述正確？

- (A) 在越南的馨翎比靖雯還更東邊 (B) 兩人所在的國家季節相反 (C) 兩人所在的地方相差 2 個小時
(D) 在胡志明市的馨翎比靖雯比更早看到每天日落

17. 阿嘉的姊姊雖在國外工作，卻因當地與臺灣「沒有時差」，故連絡起來很便利。請問阿嘉的姐姐是在哪座城市工作？

- (A) 日本東京(139°E, 35°N) (B) 菲律賓馬尼拉(121°E, 14°N) (C) 美國紐約(74°W, 40°N) (D) 加拿大多倫多(79°W, 43°N)

18. 岱蓉時常在講義上寫下自己的筆記，老師因而能協助岱蓉澄清迷思。請問這份筆記中劃線處有哪些地方是錯誤的？

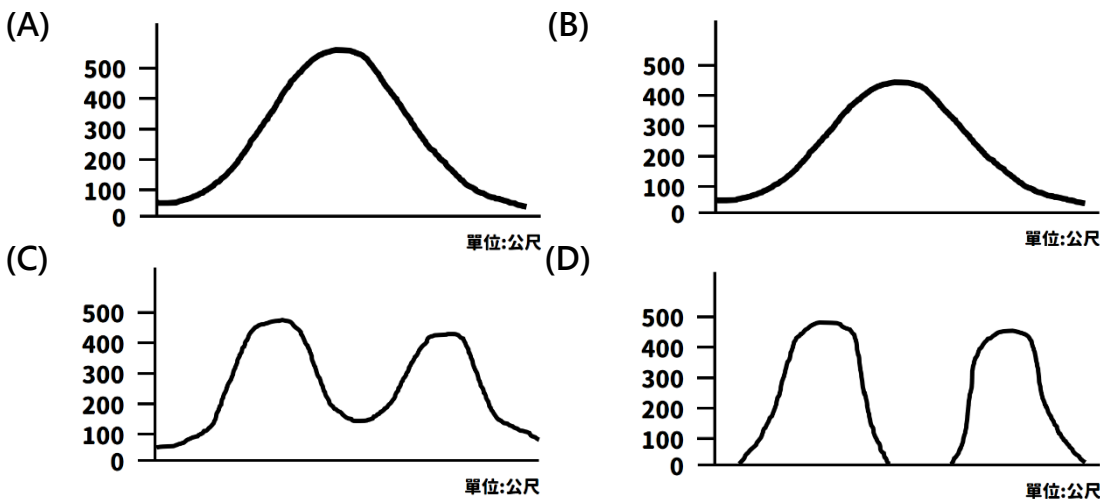
- (A) 甲丙 (B) 乙丙 (C) 甲乙丙 (D) 甲乙丁

19. 同學們在考前討論著「比例尺」的重點，其中誰的觀念是錯誤的？

- (A) 伊慶：「大比例尺地圖，顧名思義，所包含的範圍也比較大。」
(B) 嘉喻：「臺灣行政區圖相較於大有里地圖，屬於小比例尺地圖。」
(C) 承睿：「大比例尺地圖相較於小比例尺地圖，內容上更為詳細。」
(D) 源晟：「若地圖有附上比例尺，就可以推算出實地的距離和面積。」

- ★ 六大地形中，高原和山地海拔須高於 1000 公尺，(甲)臺地、丘陵、平原，和盆地都必須低於 1000 公尺。
- ★ 臺灣山地遍布，因此(乙)等高線地形圖中的配色主要以褐色或橘紅色為主。
- ★ (丙)地形剖面圖和分層設色圖最適合使用在災情的判斷與分析。
- ★ (丁)平原、盆地常為人口密集區。

20. 老師在上課時請同學依照右側的剖面線 XY 畫下地形剖面圖，則哪張剖面圖較為正確？



二、題組題 (共 20 題，每題 2.5 分，共計 50 分)

柄耀參加抽獎活動，很幸運地抽中了巴西之旅的來回機票，中獎內容如右圖所示。

21. 關於這趟旅程的描述，何者正確？

- (A) 目的地與臺灣沒有時差 (B) 目的地位在東半球、南半球
(C) 目的地的緯度位置與臺灣相同 (D) 目的地擁有臺灣所沒有的地形

22. 巴西聖保羅位在右圖地球中的哪個範圍之內？

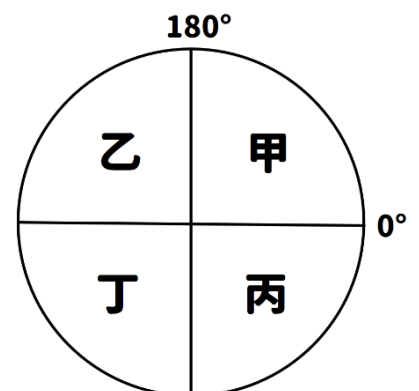
- (A) 甲 (B) 乙 (C) 丙 (D) 丁

23. 當柄耀在 12/21 的上午 7 點抵達巴西聖保羅時，此時的英國倫敦是幾點？

- (A) 上午 4 點 (B) 上午 7 點 (C) 上午 10 點 (D) 下午 1 點

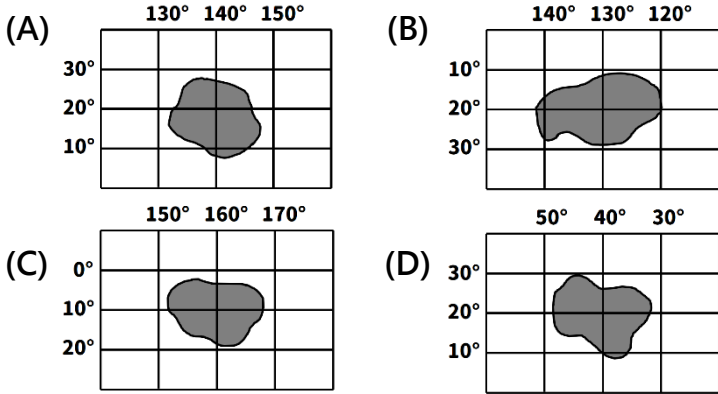
~巴西驚奇之旅~

- ★ 地點：巴西聖保羅(46°W, 23.5°S)
- ★ 時間：12/21~12/25
- ★ 旅程主打：探訪傳奇足球巨星家鄉、飽覽巴西高原的美景...



瓦旦為世界知名的登山家，受國家地理雜誌的邀請，即將在 2019 年 7 月和專業團隊出國露營。右圖是這次露營地點的等高線地形圖。

24. 工作團隊利用 GPS 找到了 A 點的經緯座標，由此座標可得知工作團隊即將前往的目的地，和下列哪座島嶼位在同樣的半球？



25. 承上題，依據 A 點的座標，工作團隊抵達當地時，當地的季節為何？

- (A) 春季 (B) 夏季 (C) 秋季 (D) 冬季

26. 若忽略地勢高低等因素，單純就緯度作氣候帶劃分的依據，則此次露營地位在哪個氣候區之內？

- (A) 熱帶氣候區 (B) 溫帶氣候區 (C) 寒帶氣候區 (D) 極地氣候區

27. 工作團隊在行進的過程中，以錄音的方式記錄所見到的地貌。下列哪一個錄音檔所描述的對象是「I 點」？

- (A) 錄音檔一：「此處地勢陡峭，形似斷崖。」 (B) 錄音檔二：「此處平坦遼闊，可俯瞰、瞭望整區，視野極佳。」
(C) 錄音檔三：「此處為一高原地形。」 (D) 錄音檔四：「此處地勢周圍高、中間低，為小型盆地。」

28. 在登山過程中，團隊成員不小心扭傷了腳，在攀登到 E 點的路程需要選擇較為平緩的路線以避免傷勢惡化，你認為哪一條路線最為適合？

- (A) 甲路線 (B) 乙路線 (C) 丙路線 (D) 沒有差別

29. 當團隊攻達 E 點頂峰後，發現上面立有紀念碑，標註著 E 點的海拔，你認為紀念碑上的數字最可能為何？

- (A) 1132 公尺 (B) 1216 公尺 (C) 1321 公尺 (D) 1478 公尺

30. 工作團隊夜晚扎營時，需要選擇一塊較為開闊且地勢平坦的地方搭帳棚，你認為哪個地點最為合適？

- (A) B 點 (B) F 點 (C) G 點 (D) H 點

31. 若工作團隊想要觀察深山小溪中的魚，你認為哪個地點最可能有河流流經？

- (A) B 點 (B) F 點 (C) G 點 (D) H 點


32. 站在 A 點的瓦旦，發現 H 點出現了一隻保育類動物，請問這隻保育類動物大約距離瓦旦多遠的距離？

- (A) 0.8 公里 (B) 1.6 公里 (C) 4 公里 (D) 800 公里

33. 承上題，這隻保育類動物位在瓦旦的什麼方位？

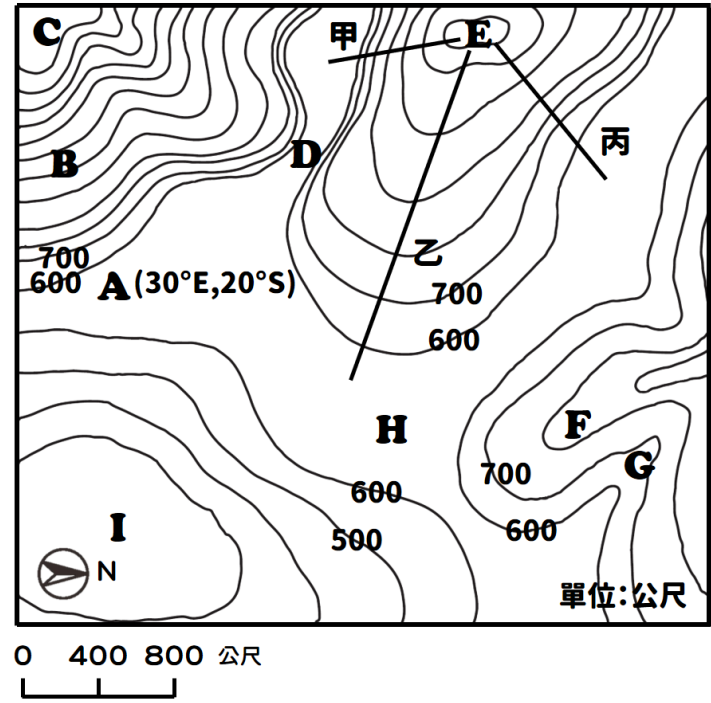
- (A) 東北方 (B) 東南方 (C) 西北方 (D) 西南方

34. 工作團隊在探險途中經過了 D 點的位置，請問下列哪張照片最接近 D 點的景觀？

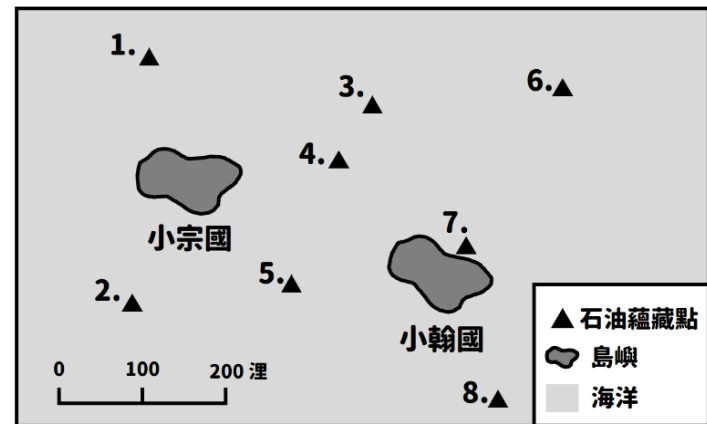


35. 若工作團隊最後想要在本區的最高處拍攝紀念照，則他們應該移動到哪個位置？

- (A) C 點 (B) D 點 (C) E 點 (D) G 點



小宗國和小翰國位置相近，部分經濟海域有所重疊。請依照右圖回答下列問題。



36. 請問屬於小翰國可開採的蘊藏點全部有哪些？

- (A) 編號 3、4、5、6、7、8 的蘊藏點 (B) 編號 7 的蘊藏點
 (C) 編號 4、5、7、8 的蘊藏點 (D) 編號 3、4、5、7、8 的蘊藏點

37. 請問全部共有哪幾個蘊藏點，因為位在兩國經濟海域重疊的範圍內，而可能引發開採利益上的衝突？

- (A) 編號 4 的蘊藏點 (B) 編號 7 的蘊藏點
 (C) 編號 4、5 的蘊藏點 (D) 編號 3、4、5 的蘊藏點

昀儒是旅遊節目主持人，時常全臺灣跑透透，右圖是他曾走訪過的路線。

38. 昀儒錄製北臺灣旅遊特集時走訪了甲路線，他發現經過的地方，名稱裡雖然都有個「市」字，但其中一個「市」在位階上與其他三者相異，請問是何者與其他三者不同？

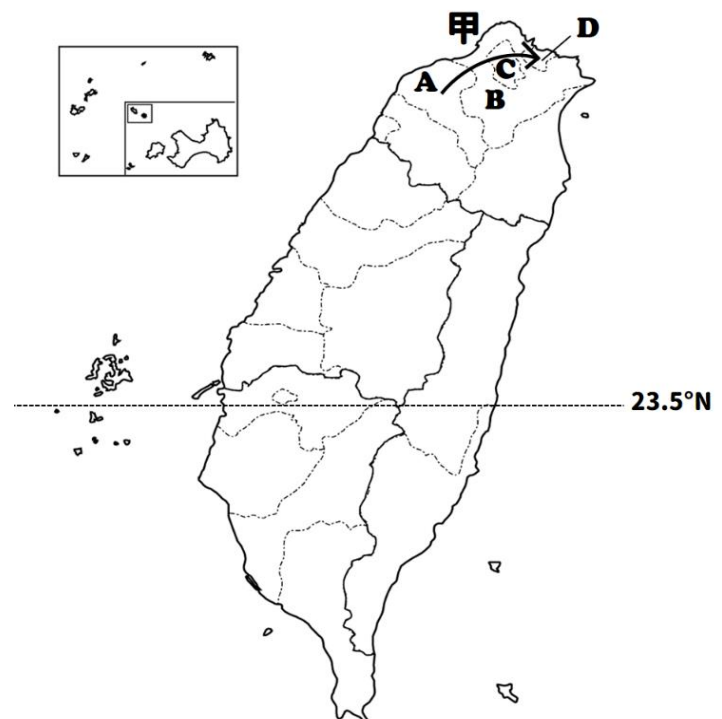
- (A) A市 (B) B市 (C) C市 (D) D市

39. 昀儒計畫在中部遊玩時要去這四個景點：(甲)臺中逢甲夜市、(乙)彰化鹿港老街、(丙)苗栗大湖草莓園、(丁)雲林劍湖山世界。若昀儒想依序由南而北遊玩，則下列哪個順序才正確？

- (A) 乙→丙→丁→甲 (B) 乙→丁→甲→丙 (C) 丁→乙→甲→丙
 (D) 丁→乙→丙→甲

40. 昀儒規劃了一趟「國境之南」的旅程。工作團隊一大早開車來到了花蓮的清水斷崖，接著一路向南行駛，正中午時在鵝鑾鼻休息，傍晚則沿著高雄的濱海公路回到民宿，結束一天的旅程。關於這趟旅程的描述，何者正確？

- (甲) 上午昀儒在清水斷崖看到的海洋為太平洋
 (乙) 傍晚昀儒在高雄濱海公路看到的海洋為太平洋
 (丙) 上午車子行進時，太陽在昀儒的右手邊；下午太陽則在昀儒的左手邊
 (丁) 上午車子行進時，太陽在昀儒的左手邊；下午太陽仍在昀儒的左手邊
 (A) 甲丙 (B) 甲丁 (C) 乙丙 (D) 乙丁



~ 試題結束，交卷前請檢查畫卡是否正確 ~