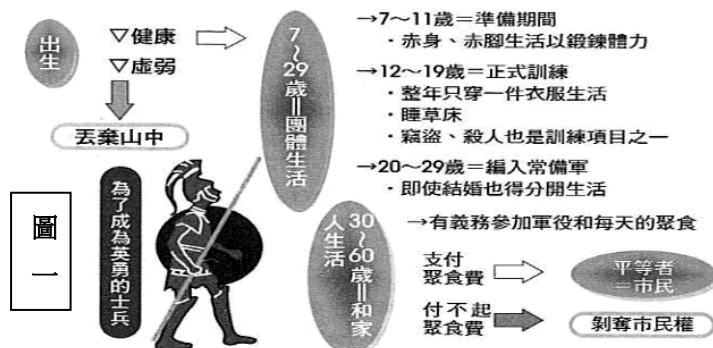


桃園市立大有國民中學 107 學年度第一學期第一次評量試卷

年級	九年級	考試科目	歷史			命題範圍	第一章第二章	作答時間	45分
班級		姓名		座號		分數			


一 單選題 (每題 2 分 總共 30 題)

- () 在兩河流域，某一擅長天文學與占星術的古文明認為「日、月、火、水、木、金、土」這七個天體會影響地球諸事的運行，因此他們就以七天為一個單位，把一年的日子加以劃分，這應是源自於哪一個古代文明？ (A)蘇美人 (B)加爾底亞人 (C)腓尼基人 (D)波斯人。
- () 小杰在書上看到一個圖片 (圖一)，它最有可能是描述哪一民族？ (A)蘇美人 (B)埃及人 (C)斯巴達人 (D)雅典人。
- () 埃及俗諺說：「世人怕時間，時間怕金字塔。」請問：埃及的金字塔顯示埃及哪些文化意義？ (甲)是新王國時期的代表建築 (乙)是法老王生前居住的宮殿 (丙)是古王國國力強盛的象徵 (丁)是法老死後的陵墓 (A)甲乙 (B)丙丁 (C)甲丙 (D)乙丁。
- () 圖二為我們日常使用的阿拉伯數字演變圖，圖中的源頭是發源於何地？ (A)印度 (B)中國 (C)阿拉伯 (D)埃及。
- () 新聞報導：「印度東北比哈爾邦 (Bihar)，有位 54 歲男賤民塔庫爾 (Mahesh Thakur)，日前被發現未經准許，私自走進阿杰納爾村的領袖家，全村開會後決議要他跪下舔地，以示懲罰！」此一新聞顯示即便印度獨立後，明訂不許進行階級歧視，但實際生活中階級觀念之重，表現在人民行為、態度上。請問：這種階級觀念和以下哪種制度有關？ (A)封建制度 (B)種姓制度 (C)科舉制度 (D)宗法制度。
- () 承上題，此一制度得以長期推行，與下列哪一觀念密切相關？ (A)眾生平等、超脫輪迴 (B)靈魂不滅，死後復生 (C)善惡對立、邪不勝正 (D)因果報應，靈魂輪迴。
- () 《阿維斯陀》經記載：「阿胡拉·馬茲達是代表光明的善神，阿里曼則是代表黑暗的惡神；善神的隨從是天使，惡神的隨從是魔鬼，互相之間進行長期、反覆的鬥爭，為了戰鬥，阿胡拉·馬茲達創造了世界和人，首先創造了火」。請問：此是何宗教信仰？ (A)婆羅門教 (B)祆教 (C)猶太教 (D)景教。
- () 管理學之父—彼得·杜拉克曾說：「人能成就什麼，要看他的強項在哪裡，沒有人依靠自己的弱點成就任何事情。」世界史上，羅馬人以其務實的民族特性，發展所長，締造影響後世的羅馬文化，其中，哪一項不包含在內？ (A)十二表法 (B)引水道 (C)荷馬史詩 (D)圓形競技場。
- () 北魏孝文帝以漢化通婚政策促進各民族融合，世界歷史也有強調四海一家，鼓勵帝國境內通婚的君主。西元前四世紀，他建立橫跨歐、亞、非的帝國，鼓勵部下和當地女子通婚。」請問：這位君王最可能為何人？ (A)亞歷山大 (B)屋大維 (C)君士坦丁 (D)凱撒。
- () 最會寫筆記的芝芝在整理東西文化比較，標題是「西方史學之父與東方史聖」(如圖三)，芝芝寫的筆記內容何者錯誤？ (A)左邊是希羅多德，著有《歷史》 (B)右邊是司馬遷，著有紀傳體的《史記》 (C)《歷史》記述伊里亞德與奧德賽兩部希臘早期的史詩 (D)《史記》是記述黃帝到西漢武帝的通史。

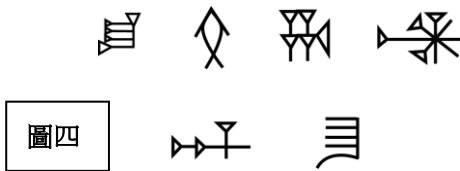


圖一

源頭	୧	୨	୩	୪	୫	୬	୭	୮	୯	
阿拉伯數字	1	2	3	4	5	6	7	8	9	圖二



圖三



圖四

- () 圖四中的文字是用削尖的蘆葦桿將文字刻在泥版上，文字形狀呈楔形，這是西亞古文明中哪一民族所創造出來的文字？ (A)埃及人 (B)亞述人 (C)蘇美人 (D)巴比倫人。

12. () 歷史老師為了要讓學生更了解上古文明，依照不同古文明製作了一系列的詞卡，卻不小心被強風給吹亂了。請問：以發源地來區分，下列哪一張詞卡不能歸在同一類？(A)佛教 (B)猶太教 (C)印度教 (D)婆羅門教。
13. () 古代西亞民族中，有一民族所信奉的宗教戒律中寫著：「除我之外不可信別的神」、「不可崇拜偶像」，這個民族應該是下列何者？(A)腓尼基人 (B)亞述人 (C)希伯來人 (D)蘇美人。
14. () 美美對埃及歷史特別有興趣，她研究發現古埃及具有哪些特色？(甲)國家的統治者稱為「法老」(乙)法老是尼羅河神之子 (丙)觀測天象，製作太陽曆 (丁)太陽神代表循環不息的再生力量 (A)甲丁 (B)甲丙 (C)甲乙 (D)乙丙。
15. () 歷史上一直對於21世紀是從2000年或是2001年開始有很多爭論，主要的原因是西元開始紀年時，並沒有「零」的概念，因此，許多歷史學家認為2001年才正式進入21世紀。請問：「零」的概念是圖五中哪一個古文明偉大的貢獻？(A)甲 (B)乙 (C)丙 (D)丁。



圖五

16. () 圖六是上古西亞某個分布於地中海東岸，擅長航海經商的民族貿易路線圖。根據圖中的內容判斷，這個民族對世界最大的貢獻是下列何者？(A)擅長觀察天象與占星術，確立一週七天的制度 (B)將埃及表音符號改良後，傳到歐洲 (C)發明的楔形文字為日後西亞大部分民族所使用 (D)創立一神信仰的宗教影響後世。



圖六

17. () 阿嘎暑假時和家人出國旅行，導遊說此地在西元前2000年有一強大的民族，目前史學家認為此民族是最早發明冶鐵術和使用鐵器，而此民族也是最早進入鐵器時代的民族。請問：阿嘎與家人很可能到哪一地區旅行？(A)西亞 (B)中國 (C)埃及 (D)印度。
18. () 希臘化文化是一種融合性的文化，而這種文化是由哪些文化所共同締造出來的？(甲)西亞 (乙)印度 (丙)羅馬 (丁)埃及 (戊)希臘 (A)甲乙丁 (B)甲丁戊 (C)乙丁戊 (D)丙丁戊。
19. () 西元1798年，拿破崙軍隊在尼羅河三角洲的村莊發現一塊刻有三種文字的官方公告石碑：最上面為古埃及象形文字，中間是埃及草書通俗體，最下面為古希臘文。以三種字體書寫的目的是為了讓各族人都能看懂此石碑意涵。請問：石碑中由三種文字書寫與下列何者背景有關？(A)羅馬人將希臘文字向外傳播 (B)波斯人征服埃及，並建立帝國 (C)埃及新王國版圖橫跨歐亞非 (D)亞歷山大建立了橫跨三洲的大帝國。

20. () 千千到某地旅遊，她參觀一座最能代表當地藝術風格的建築物，如圖七。請問：關於這一座建築的敘述，何者正確？(A)座落於印度河流域 (B)強調實用的公共建築 (C)注重「均衡」、「對稱」、「和諧」 (D)此文明強調祭祀唯一的真神宙斯。



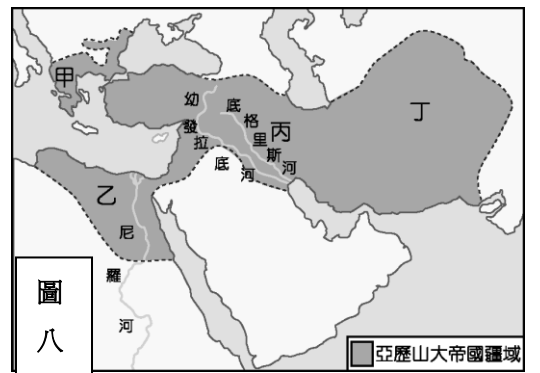
圖七

21. () 佛教對中國影響深遠，有關佛教敘述下列何者正確？(A)由阿育王創立於印度，強調眾生平等，超脫輪迴 (B)笈多王朝時佛教於印度達於鼎盛 (C)西漢時期佛教經由絲路傳入中國 (D)唐朝玄奘東渡日本，將佛教傳至日本。
22. () 埃及人相信人死後有來生，因此妥善的屍體保存是為了以備來世之需。請問：下列哪些埃及人的作為與其復活觀念有關？(甲)製作木乃伊 (乙)發明象形文字 (丙)崇拜尼羅河神 (丁)建造金字塔 (A)甲乙丙 (B)甲乙丁 (C)乙丙丁 (D)甲丙丁。
23. () 艾薩克·牛頓發表萬有引力和三大運動定律，帶動了科學革命的浪潮。牛頓認為古希臘哲學著重探討道德與人生意義，重視理性的特質，才是西方知識傳統的基礎，所以他曾說：「與□□為友，與□□為友，更要與真理為友。」請問：空格中可以填入哪些歷史人物？(甲)亞歷山大 (乙)希羅多德 (丙)柏拉圖 (丁)亞里斯多德 (戊)阿基米德 (A)甲丙 (B)乙丁 (C)丙戊 (D)丙丁。
24. () 一位西西里島的學者受國王之請，苦思鑑定王冠黃金純度之法；某天，他在浴缸洗澡時悟出了浮體力學；他曾說

過：「給我一個支點，我可以撐起整個世界」；他最後提出槓桿原理。請問：此人是誰？ (A)阿基米德 (B)亞里斯多德 (C)希羅多德 (D)歐基里德。

25. ()亞歷山大帝國橫跨歐、亞、非三洲，其疆域如附圖。它最早發源於圖八中的何處？ (A)甲 (B)乙 (C)丙 (D)丁。

26. ()2015年11月恐怖組織ISIS「伊斯蘭國」對古城尼姆魯德做摧毀性的破壞，這座古城已經有超過3250年的歷史，位於伊拉克北部城市摩蘇爾（Mosul）東南部，擁有精緻的浮雕，以及數以千計的雕刻象牙，神殿藏書室及所屬房舍中收藏許多宗教和亞述文獻，是世界文化遺產，亦是伊拉克數一數二大的考古學寶藏，現在已經完全夷為平地。請問尼姆魯德為哪一古文明的遺跡？ (A)西亞 (B)埃及 (C)印度 (D)中國。




27. ()表(一)為古代雅典與斯巴達兩城邦的比較，請問：何者有誤？ (A)甲 (B)乙 (C)丙 (D)丁。

28. ()最近國際上發生軍方屠殺羅興亞人引發衝突的緬甸，有90%人民是佛教徒，此與印度何人提倡佛教、派遣高僧向外弘揚佛法有關？ (A)釋迦牟尼 (B)笈多王 (C)阿育王 (D)漢摩拉比王。

選項	雅典	斯巴達
(甲)	農業	商業貿易
(乙)	全希臘的學校	希臘之劍
(丙)	民主政治的源頭	軍國主義的代表

29. ()西元前4世紀，印度北部形成的「犍陀羅藝術」(如圖九)，又被稱為希臘式佛教藝術，此種藝術最大的特徵是雕像為深目高鼻鬚髮的外國人特徵。這種藝術風格最有可能跟何人征戰印度造成文化融合有關？ (A)漢摩拉比 (B)亞歷山大 (C)凱薩 (D)奧古斯都。

30. ()埃及在測量、曆法方面的成就頗高，其主要原因為何？ (A)政府獎勵學術 (B)教育機構完善 (C)尼羅河的氾濫 (D)宗教觀影響。



二、題組：(每題2分 總共20題)

題組一：包子哥正在研究羅馬的歷史，並整理了幾位統治者的重要事蹟：

甲：他掌握羅馬大權，曾擔任財務長、執政官、監察官等職，但最後卻被刺身亡。

乙：他是羅馬最被崇敬的人。但他不是大祭司，也不是首席的元老院議員，卻被元老院親自獻上「奧古斯都」的尊號。

丙：他在睡夢中見到空中浮現象徵基督教的十字架，於是他帶著飾有十字架的旗幟上戰場，結果戰勝，之後，他宣告基督教為合法化宗教。

丁：他臨終前將帝國分成東、西兩部，由兩個兒子治理，羅馬帝國從此分裂，不復統一。

請依據以上的內容，回答以下問題：

31. ()「甲」敘述的內容判斷，此統治者被暗殺的原因為何？ (A)對外擴張失利 (B)無力抵抗外敵的入侵 (C)違背共和體制的精神 (D)欲將基督教成為國教。

32. ()在羅馬政治體制的發展過程中，集大權於一身，使羅馬進入帝國時期是上述何者？ (A)甲 (B)乙 (C)丙 (D)丁。

33. ()羅馬帝國曾創造二百年和平的光輝時代，與中國透過絲路互通往來。請問：此時正值中國的哪一時期？羅馬在中國地圖上的名稱為？ (A)春秋一犬戎 (B)戰國一秦 (C)秦一匈奴 (D)漢一大秦。

34. ()「丙」敘述的內容應該是指哪位統治者？ (A)凱撒 (B)君士坦丁 (C)屋大維 (D)狄奧多西。

35. ()有關羅馬法律的敘述何者為非？ (A)以十二表法為代表，是一部成文法 (B)具有「以牙還牙，以眼還眼」的法律精神 (C)已具有現代法律保障人權的精神 (D)成為日後歐洲各國的法律傳統。

36. ()承上題，此羅馬法的原文最有可能使用何種文字紀錄？ (A)楔形文字 (B)希伯來文 (C)希臘文 (D)拉丁文。

37. ()羅馬帝國初期國力鼎盛，延續二百多年的「羅馬和平」時期，後期卻逐漸衰弱。探討其衰亡的主要原因，除了經濟惡化之外，尚有哪一民族的入侵？ (A)日耳曼人 (B)阿拉伯人 (C)斯拉夫人 (D)波斯人。

題組二：2020年的奧運將在日本東京舉辦，屆時又是一場全球矚目的運動賽事。奧運是所有運動員的夢想殿堂，每位運動員都希望自己有朝一日能站在奧運場上和其他好手進行一場實力的競賽，也期望自己能為國家爭取最高的榮譽。現在就請回答相關的問題：

38. ()奧林匹克運動會最早的起源地是在圖十中何地？ (A)甲 (B)乙 (C)丙



(D)丁。

39. ()關於這個奧林匹克運動會最早的起源地，下列何者的敘述為非？(A)此一運動會的目的為取悅神明 (B)愛琴海為此一文明的起源地 (C)這裡是古羅馬帝國的中心 (D)此地崎嶇多山，形成城邦
40. ()若是想見識曾誇下豪語，稱地中海為「我們的海」的帝國中心，應該前往圖十中的 (A)甲 (B)乙 (C)丙 (D)丁。

圖十

題組三：他三十歲開始傳播福音，並改革猶太教，將其教義傳播至各地。他得到人們支持後，卻遭他人忌恨，竟被某位門徒出賣，最後被統治者處以釘十字架的死刑。他死後三天復活，最後升天，證明他的確是神的兒子，人的救主。他的門徒四處傳揚他為救主的福音，在各城市建立教會。有一位受到感召的年輕猶太人保羅加入此教，並整理出他所傳的教義，與其他使徒共同完成該教經典。請回答下列問題：

41. ()文中提及的「他」，最早應在圖十一中的何處傳播福音？(A)甲 (B)乙 (C)丙 (D)丁。



42. ()將他處以釘十字架死刑的人，應是下列哪個政權的統治者？(A)波斯帝國 (B)羅馬帝國 (C)亞述帝國 (D)亞歷山大帝國。
43. ()保羅與其他使徒記載「他」的言行編纂而成的宗教經典，應是下列何者？(A)《新約聖經》 (B)《古蘭經》 (C)《舊約聖經》 (D)《吠陀經》。
44. ()文中的主角「他」應是何人？(A)耶穌 (B)耶和華 (C)阿育王 (D)釋迦牟尼。

題組四：畢達哥拉斯定理，簡稱『畢氏定理』，是平面幾何中一個基本而重要的定理。畢氏定理說明，平面上的直角三角形的兩條直角邊的長度的平方和等於斜邊長的平方。反之，若平面上三角形中兩邊長的平方和等於第三邊邊長的平方，則它是直角三角形；用數學語言表達，即是： $a^2 + b^2 = c^2$ 。此證明可見於《幾何原本》一書。

45. ()請問：《幾何原本》是何人的著作？(A)歐幾里德 (B)亞里斯多德 (C)阿基米德 (D)希羅多德。
46. ()《幾何原本》著作產生於後人稱為「第一次偉大的科學時代」。請問：是何時期？(A)波斯帝國時期 (B)愛琴文化時期 (C)希臘古典文化時期 (D)希臘化文化時期。
47. ()中國最早的譯本是明朝末年耶穌會傳教士和中國學者徐光啟根據拉丁文本合譯前6卷，定名為《幾何原本》。請問：此位傳教士為何人？(A)艾儒略 (B)利瑪竇 (C)鄧玉函 (D)湯若望。

題組五：古希臘史著《歷史》(The Histories)第6卷中，描述西元前490年發生的『馬拉松戰役』。雅典在此戰成功阻擋「異邦人」入侵，保護了希臘世界。戰役發生前，雅典曾派傳令兵前往斯巴達求援，據說這位士兵花了一天時間，來回跑了240公里。這段記載過了五百年後，被一位羅馬人改編，變成雅典在戰勝後，由這位負傷的傳令兵奔回雅典傳遞捷報，全程跑了42.195公里後力竭而死；這也成為今日馬拉松賽跑的傳奇典故。

48. ()請問：文中希臘所抵抗的「異邦人」應是何者？(A)波斯人 (B)日耳曼人 (C)迦太基人 (D)特洛伊人。
49. ()如果我們想多了解這場戰爭，應該多閱讀何人的著作？(A)希羅多德 (B)柏拉圖 (C)阿基米德 (D)亞里斯多德。
50. ()中國有「鷸蚌相爭，漁翁得利」的寓言故事，此一情形在古希臘歷史中亦真實上演，兩個城邦分別領導著兩大集團內戰，結果兩敗俱傷，最後北方國家興起，完成了希臘世界的統一。請問：征服希臘世界的為何者？(A)亞述王國 (B)馬其頓王國 (C)斯巴達王國 (D)埃及帝國。

【試題結束，請仔細檢查】