
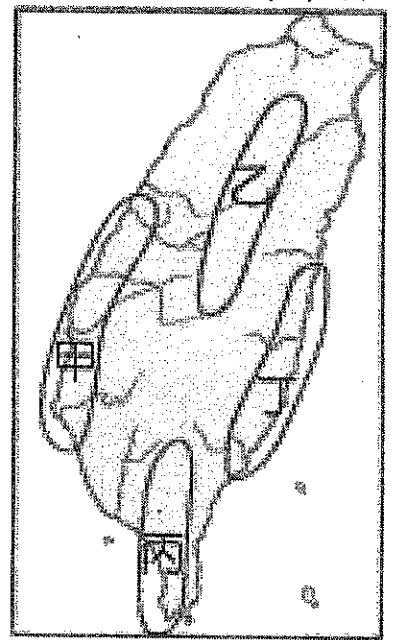


桃園市立大有國民中學 107 學年度第一學期第二次評量試卷

年級	七年級	考試科目	歷史科			命題範圍	L3-L4	作答時間	45分
班級		姓名		座號		分數			

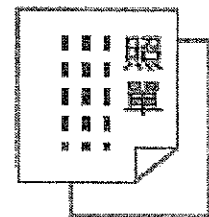
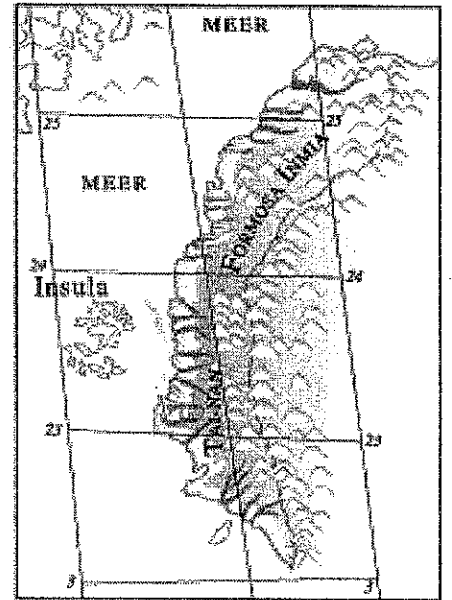
一、單選題（每題兩分，共六十六分）

- ( ) 1. 17 世紀鄭成功攻取臺灣，請問：當時占據臺灣南部的應是下列何人？(A) 荷蘭人 (B) 日本人 (C) 葡萄牙人 (D) 西班牙人。
- ( ) 2. 三國時代的諸葛亮輔佐蜀漢劉備父子與曹操、孫權三分天下，名垂千古；鄭氏治臺時期，有「鄭家諸葛」之稱的人是誰？(A) 朱一貴 (B) 陳永華 (C) 顏思齊 (D) 鄭芝龍。
- ( ) 3. 小喬到鹿港遊玩，發現某棟建築物上面寫著「泉郊會館」。請問：清領時期，會館的功能主要是下列何者？(A) 工人吃飯的餐廳 (B) 工人睡覺的旅館 (C) 商人飲茶的商店 (D) 商人辦公、互相聯絡的場所。
- ( ) 4. 我們常依不同特色或性質將歷史分為若干階段或時期，下列有關臺灣歷史分期的發展順序，何者正確？(A) 明鄭統治→清朝統治→荷蘭統治 (B) 明鄭統治→荷蘭統治→清朝統治 (C) 荷蘭統治→明鄭統治→清朝統治 (D) 荷蘭統治→清朝統治→明鄭統治。
- ( ) 5. 小翔閱讀清領時期的臺灣歷史，發現了一個很有趣的名詞：「羅漢腳」。請問：這個名詞的意思，應為下列何者？(A) 不洗腳的臺灣人 (B) 單身且無固定職業的男性遊民 (C) 從小無父無母的孤兒 (D) 失去一隻腳的臺灣人。
- ( ) 6. 清領時期，有一水圳引新店溪灌溉農田，是當時○○○○最重要的水利設施。請問：○○○○為下列何處？(A) 臺北盆地 (B) 宜蘭平原 (C) 苗栗丘陵 (D) 桃園臺地。
- ( ) 7. 鄭成功深獲南明政權賞識，□□曾封鄭成功為延平王。請問：□□指的應該是下列何人？(A) 魯王 (B) 福王 (C) 唐王 (D) 桂王。
- ( ) 8. 清朝統治時期，臺灣曾出現一種稱為「郊」的組織，依其性質推斷，這種組織主要分布在右圖中何處？(A) 甲 (B) 乙 (C) 丙 (D) 丁。
- ( ) 9. 上歷史課時，同學們正在討論「清領時期的商業組織『郊』」：  
阿興：『郊』有配運貨物、控制商品價格的功能  
小慧：『郊』的缺點為彼此之間的惡性競爭  
祥祥：『郊』以貿易區域劃分：例如：北郊、南郊等  
老才：『郊』以貿易商品劃分：例如：糖郊、布郊等  
請問：以上哪幾位同學的說法是正確的？(A) 一位 (B) 二位 (C) 三位 (D) 四位。
- ( ) 10. 老師介紹四本與臺灣歷史有關的課外讀物，要同學們自行閱讀，有一位學生小華對鄭氏時期的歷史特別有興趣，請問：她應該閱讀下列哪一本書？(A) 紅毛城史蹟故事 (B) 臺灣第一座孔廟 (C) 臺灣鐵路開發史 (D) 夕陽下的億載金城。
- ( ) 11. 鄭成功在取得臺灣之前，先以下列哪兩個地方作為反清復明的根據地？(A) 金門、綠島 (B) 金門、廈門 (C) 廈門、澎湖 (D) 澎湖、綠島。
- ( ) 12. 阿美在作歷史研究報告時，描繪了一張軍事行動路線圖，如圖所示。請問：她應該是在研究歷史上何人的軍事行動？(A) 鄭經 (B) 施琅 (C) 鄭成功 (D) 鄭克塽。
- ( ) 13. 上題的軍事行動是利用清朝發生哪一事件時，臺灣政權趁機出兵至福建、廣東地區與清軍作戰，但後來兵敗撤回臺灣？(A) 三藩之亂 (B) 朱一貴事件 (C) 郭懷一事件 (D) 林爽文事件。
- ( ) 14. 清領時期，漢人在興建水利設施時，有時需要利用原住民的土地，因此也會與原住民合作。請問：位於臺中的哪一條水圳，就是漢人與平埔族共同修築而成的？(A) 貓霧揀圳 (B) 瑠公圳 (C) 八堡



圳 (D) 曹公圳。

- ( ) 15. 臺灣在鄭氏政權時期，除了實施墾殖之外，曾與歐洲哪一國家商人通商？(A) 德國 (B) 荷蘭 (C) 英國 (D) 波蘭。
- ( ) 16. 臺灣有句俗諺：「一個某(妻)，恰贏三個天公祖。」這是說娶到一個老婆更勝過供奉三尊神明。這句諺語反映出當時男女人口比例嚴重失衡的狀況。請問：這種情形應是臺灣史上哪一個時期的社會現象？(A) 鄭氏治臺 (B) 清領後期 (C) 荷據時期 (D) 清領前期。
- ( ) 17. 清領時期，來臺開墾的漢人合資開墾的情形相當普遍。請問：下列哪一個地名與當時合資開墾的情形有關？(A) 臺東縣鹿野鄉 (B) 臺中市和平區 (C) 苗栗縣頭份市 (D) 新北市中和區。
- ( ) 18. 右圖中是清朝初期，由西洋傳教士繪製的臺灣地圖。此圖只繪製臺灣西半部，反映出當時清廷治臺的何種政策？(A) 施行畫界封山，禁止漢人入侵原住民區 (B) 禁絕漢人渡臺，防止臺灣成為反清基地 (C) 加強建設西半部，使該地成為海防重鎮 (D) 開港通商，設定西半部為對外貿易據點。
- ( ) 19. 清廷經營臺灣，依照先後發展的次序，陸續設置地方行政單位。請問：根據上文的說法，下列敘述何者正確？(A) 由北而南、由西而東 (B) 由南而北、由西而東 (C) 由南而北、由東而西 (D) 由南而東、由西而北。
- ( ) 20. 有一本歷史書籍記載：「鄭成功來臺灣經營，帶來很多士兵及眷屬，為解決糧食問題而實施『寓兵於農』的屯田制度，今天可以從臺灣的地名，看出屯田的影子。」請問：下列哪一個地名與屯田有關？(A) 彰化縣鹿港鎮 (B) 高雄市左營區 (C) 屏東縣車城鄉 (D) 臺北市大安區。
- ( ) 21. 承上題，鄭氏時期的拓墾事業，當時開墾重心主要在哪个區域？(A) 臺灣北部 (B) 臺灣中部 (C) 臺灣南部 (D) 臺灣東部。
- ( ) 22. 「臺灣自古以來為中國的領土」這句話各方有不同的意見，就以納入版圖的觀念來說，中國歷史上首次領有臺灣的是清朝哪一個皇帝在位時做的決定？(A) 嘉慶 (B) 康熙 (C) 乾隆 (D) 雍正。
- ( ) 23. 小宏在書上看到一則與臺灣歷史有關的插畫，如右圖。插畫中是描述臺灣哪一時代的情形？(A) 鄭氏治臺 (B) 清領後期 (C) 清領前期 (D) 荷據時期。
- ( ) 24. 清領時期，有一水圳由○○縣知縣曹謹所興築。請問：當時的○○縣為下列何處？(A) 臺灣縣 (B) 鳳山縣 (C) 諸羅縣 (D) 彰化縣。
- ( ) 25. 臺灣傳統文化除了原住民文化外，主要以漢人的文化制度為主。在歷史發展上，漢人文化與制度開始在臺灣生根，是始於下列哪一時期？(A) 清領前期 (B) 鄭氏時期 (C) 清領後期 (D) 國際競爭時期。
- ( ) 26. 右表為清嘉慶 17 年臺灣各廳縣的 (漢) 人口數，其中「甲」為當時最晚增設的行政區，請問：「甲」應該是哪一行政區？(A) 嘉義縣 (B) 臺灣縣 (C) 彰化縣 (D) 噶瑪蘭廳。
- ( ) 27. 清朝統治時期，臺灣興築許多大規模的水圳。請問：當時修築水圳的主要原因為何？(A) 工業用水不足，提供穩定水源 (B) 地層下陷嚴重，舊有河川枯竭 (C) 擴大灌溉面積，增加農業產量 (D) 土地不當開發，水源遭受污染。
- ( ) 28. 連橫在《臺灣通史》中評論某一位歷史人物，說：「為鄭氏部將，得罪歸清，遂藉滿人以復明社，忍矣！某人有伍員之怨，而為滅楚之謀，吾又何誅？」文中提及得罪鄭氏而投降於清朝，並且結束鄭氏在臺政權的為下列何人？(A) 施琅 (B) 郭懷一 (C) 顏思齊 (D) 鄭芝龍。
- ( ) 29. 有一篇新聞報導如下：「西元 2000 年，兩位漁民在福建省冬古灣退潮後，無意間發現兩處堆積物，經專家初步挖掘出鐵砲、彈丸、陶瓷器等文物。而打撈上來的銅銃上均鑄有『國姓爺』的『國』字，鑄有『永曆通寶』字樣的銅錢則是當時東南沿海流通的貨幣……。」依報導內容推斷，此項挖掘工作將有助於我們了解下列哪一時期的歷史？(A) 宋末元初 (B) 清末民初 (C) 元末明初 (D) 明末清初。



申請渡臺證照


行政區	人口數
澎湖廳	41,000
甲	45,000
鳳山縣	184,000
淡水廳	215,000
乙	301,000
丙	342,000
丁	819,000

- ( ) 30. 右下圖中的句子，是學生撰寫「某一歷史時期」報告的段落標題。請問：此份報告中的第四段，最有可能是描述下列何人？(A) 鄭經 (B) 鄭克塽 (C) 顏思齊 (D) 朱一貴。

薙髮：清朝統治者強迫人民將頭髮剃成滿州人男性的傳統髮型(剃光前半部頭髮，將後半部頭髮編成一條長辮垂下)，象徵服從清朝統治。

一、盤據東南謀復明  
二、東征攻臺驅紅毛  
三、漢人社會始紮根  
四、兵敗薙髮終降清

- ( ) 31. 根據上題線索，「某一歷史時期」報告的時間，應落在下圖哪一時段？



- (A) ① (B) ② (C) ③ (D) ④。

- ( ) 32. 「『三月瘋媽祖』是形容臺灣每年農曆三月掀起的媽祖祭典熱潮，其中又以鎮瀾宮的遶境活動最引人矚目。遶境路線從臺中市大甲鎮瀾宮出發，沿途經過彰化縣、雲林縣，目的地是嘉義縣新港奉天宮。」請問：下列何者位於上述遶境活動所經過的直轄市或縣境內？(A) 瑠公圳 (B) 八堡圳 (C) 卑南遺址 (D) 熱蘭遮城。
- ( ) 33. 淑芳在一篇臺灣史報告中寫到：「『他』不但長期與清朝對抗，也積極規劃建設，此時期對臺灣的建設，大多在『他』在位期間完成……。」淑芳報告中的『他』應是以下列哪一人物？(A) 鄭經 (B) 鄭成功 (C) 林爽文 (D) 朱一貴。

## 二、題組 (每一小題兩分，共三十四分)

題組一：清領前期的經濟發展以農業與商業貿易最為重要，請問：

- ( ) 34. 由於此時移民的不斷湧入，以及各地的開發，農業獲得進一步的發展。請問：下列何組選項是當時最主要的農產品？(A) 樟腦、甘蔗 (B) 樟腦、茶葉 (C) 稻米、茶葉 (D) 稻米、甘蔗。
- ( ) 35. 當時的臺灣以中國大陸為貿易對象，主要進口哪一些商品為主？(A) 藥材、紡織品 (B) 樟腦、日用品 (C) 稻米、紡織品 (D) 日用品、甘蔗。
- ( ) 36. 清領前期，臺灣與中國大陸之間的貿易，最初只有下列哪一選項是唯一合法的港口？(A) 鹿港 (B) 艋舺 (C) 鹿耳門 (D) 八里坌。
- ( ) 37. 後來隨著貿易日漸頻繁與移民漸多，港口相繼開放，逐漸發展成臺灣三大貿易港口。請問：下列何者並非當時的臺灣三大貿易港口？(A) 鹿港 (B) 艋舺 (C) 府城 (D) 廈門。

題組二：在鄭氏政權的經營下，臺灣的國際貿易繁盛，請問：

- ( ) 38. 請問：當時通商背景為何？(A) 鄭氏為突破清廷經濟封鎖，開闢海外市場 (B) 鄭氏想要與荷蘭商人聯盟，獨占南洋貿易市場 (C) 荷蘭挾船堅炮利的優勢，脅迫鄭氏開港通商 (D) 西方傳教士為了來臺傳播基督教信仰，積極促成。
- ( ) 39. 請問：當時臺灣主要出口商品為下列哪一組選項？(A) 稻米、茶葉 (B) 稻米、蔗糖 (C) 鹿皮、茶葉 (D) 蔗糖、鹿皮。
- ( ) 40. 請問：當時臺灣主要進口商品為下列哪一組選項為主？(A) 樟腦、軍火 (B) 布料、茶葉 (C) 軍火、布料 (D) 樟腦、茶葉。
- ( ) 41. 當時臺灣的國際貿易地位重要，成為下列哪三地區的貿易轉運站？(A) 日本、南洋、非洲 (B) 中國、南洋、非洲 (C) 中國、日本、非洲 (D) 中國、日本、南洋。

題組三：鄭氏治臺結束後，清廷內部有棄留臺灣的爭議，請問：

- ( ) 42. 在臺灣的棄留爭議中，有一派人士主張臺灣的地理位置重要，應該要將臺灣納入版圖，以免被荷蘭

等國控制。此派論點，與下列哪一種局勢關係最密切？(A) 歐洲各國陸續東來建立殖民地 (B) 清朝皇帝想遷都至臺灣 (C) 支持鄭氏人士仍在臺灣反清 (D) 臺灣原住民各族皆不願歸附清廷。

- ( ) 43. 在臺灣的棄留爭議中，大臣看法相當分歧。最後，皇帝做出裁決，他的決定和原因為何？ (A) 臺灣人民兇悍，管理不易，故應保留 (B) 臺灣地處偏遠，開發不易，故應保留 (C) 臺灣礦產價值高，可增加財政收入，故應保留 (D) 臺灣戰略價值高，可為東南屏障，故應保留。
- ( ) 44. 清廷統治臺灣的初期，曾有官員向朝廷上書，主張讓人民都可以組織家庭，那麼民間就比較不會發生這麼多的動亂。這是針對清廷哪一項措施提出的建議？(A) 對原住民採放任政策 (B) 清理田賦政令 (C) 渡臺禁令不准攜眷 (D) 清廷只讓女子單身來臺。

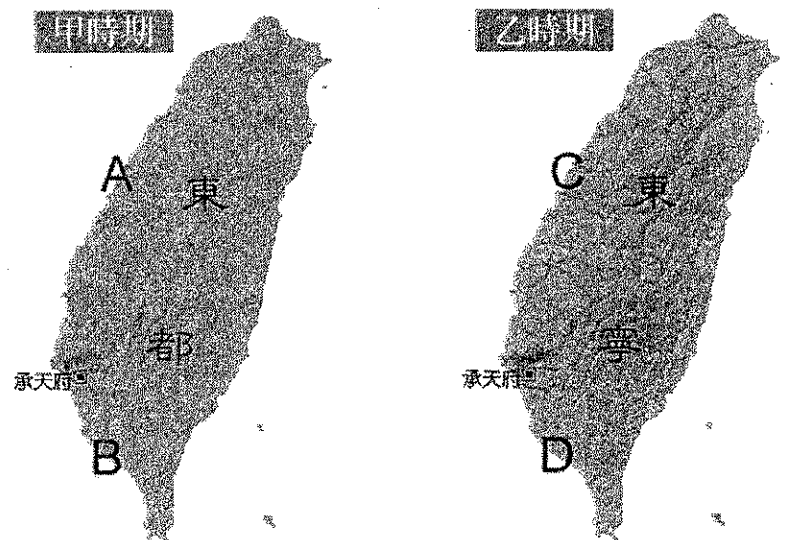
題組四：請依照下列三圖的變動，回答以下問題：



- ( ) 45. 由甲圖到乙圖的改變原因，主要是因為下列哪一事件的關係？(A) 郭懷一事件 (B) 林爽文事件 (C) 陳永華事件 (D) 朱一貴事件。
- ( ) 46. 由乙圖到丙圖行政區劃的改變，主要是下列何人率領移民前往開墾，清廷因而增設噶瑪蘭廳？(A) 施琅 (B) 曹謹 (C) 吳沙 (D) 鄭經。

題組五：小慧在某本歷史書中看到下列兩張臺灣行政區圖，請試著比較兩張地圖的差異：

- ( ) 47. 請問：甲時期的臺灣行政區圖，應是下列何人在位時所規畫的？(A) 施琅 (B) 鄭經 (C) 鄭成功 (D) 鄭克塽。
- ( ) 48. 請問：「天興州」應位於圖中哪一選項？(A)、(B)、(C)、(D)。



題組六：鄭氏三代在臺灣的經營，對臺灣影響深遠。請問：

- ( ) 49. 臺灣通史作者連雅堂曾稱讚某位歷史人物具有輔佐君王的才能，他不僅積極推廣文化事業，設立學校，並「盡心經畫……內課農桑，外興貿易。十數年來，移民大至……」此為下列何人？(A) 施琅 (B) 鄭成功 (C) 劉永福 (D) 陳永華。
- ( ) 50. 此時從中國大陸來臺的文人，也在民間從事文教活動，其中以何人較為著名？(A) 陳永華 (B) 郭錫瑠 (C) 郭懷一 (D) 沈光文。