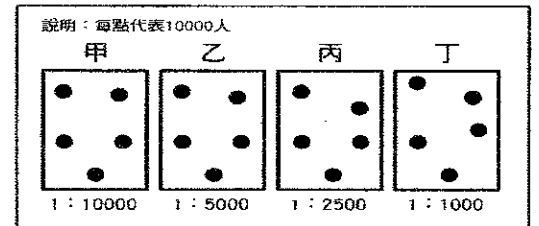


桃園縣立大有國民中學 107 學年度第一學期第二次評量試卷

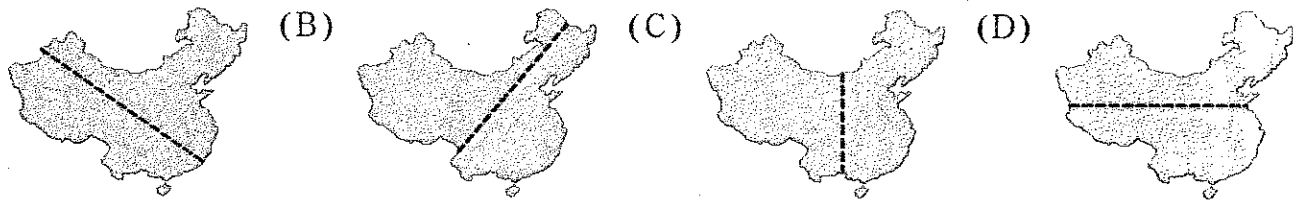
年級	八	考試科目	地理科			命題範圍	第三課 第四課	作答時間	45分
班級		姓名		座號		分數			

1. 一地人口密度的高低受到環境負載力的影響，請由右圖中的資料判斷，哪一個地區的環境負載力最高？(A)甲 (B)乙 (C)丙 (D)丁



2. 為何中國境內有明顯的季風現象？(A)領土幅員廣大 (B) 橫跨緯度範圍大 (C)大範圍海陸性質差異 (D)地勢高低起伏

3. 中國的人口分布不均。請問：下列哪條分界線最適合區分中國人口的疏密程度？



4. 中國政府利用標語來宣導重要政策，如「一人超生，全村結紮」，「寧可血流成河，不能超生一個」。

這些標語所要達成的目的為何？(A)減緩人口成長 (B)減緩人口流動 (C)縮小貧富差距 (D)減少文盲人口

5. 承上題，中國近年來陸續清除高壓的標語，替換成「生男生女一樣好，少生優生幸福一生」等標語，請問上述標語為了改善什麼問題而設呢？(A)流動人口過多 (B)高齡化社會 (C)性別比例失衡 (D)扶養比上升

6. 新疆盆地及青藏高原同位於中國西部地區，然而氣候類型卻不盡相同。

請問：附表中的敘述，何者最為正確？

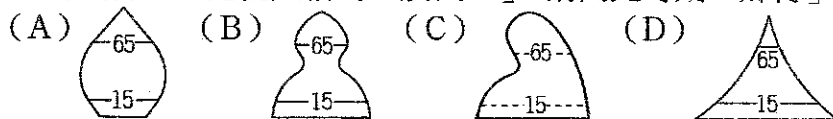
(A)甲 (B)乙 (C)丙 (D)丁。

選項	甲	乙	丙	丁
青藏高原	日溫差大	日溫差大	年溫差小	年溫差大
新疆盆地	日溫差小	日溫差大	年溫差小	年溫差大

7. 美國總統川普多次談論中國議題，並語出驚人的表示中國勞工搶了許多美國人的工作飯碗，請問這是因為中國具有何種優勢？

(A)消費市場廣大 (B)勞力充沛廉價 (C)資源礦產豐富 (D)人口素質高

8. 中國在 1980 年後大批鄉村人口流動到都市工作，但因戶籍還在家鄉，因此婦女多留在家鄉照顧小孩，男性青壯年人口外出打工，這批人稱為「農民工」，請問此時期「鄉村」地區人口金字塔的型態接近下列何者？

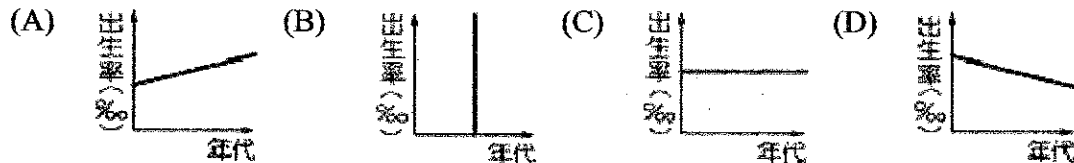


9. 中國政府當局於2015年實行「全面二胎」政策。以下何者並非促使中國政府當局推行「全面二胎」政策的考慮因素？

(A)幼年人口性別比失衡 (B)人口高齡化 (C)未來扶養比下降 (D)未來壯年人口減少

10. 水資源問題往往與中國的國勢興衰息息相關，為解決降雨季節分布不均所導致的水旱災問題，昔日有大禹治水，今日則興建長江大壩等水利工程。請問：影響中國降雨季節分布不均的主要因素為何？ (A)地形 (B)距海遠近 (C)緯度 (D)季風風向

11. 下列哪一張圖示最能說明中國實施一胎化政策後，中國的人口出生率變化？



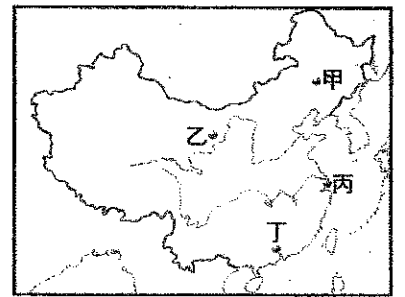
12. 中國的氣候依氣溫與雨量作為分類的指標。若要前往中國的「海南島」度假，應該至下表中哪一個地點最為適當？(A)甲 (B)乙 (C)丙 (D)丁。

13. 承上題，氣候條件對於人口分布的影響甚大，右表中四個地區，若未受到其他因素影響，則何者的環境負載力最高？(A)甲 (B)乙 (C)丙 (D)丁。

地點	年雨量 (毫米)	最冷月均溫 (°C)
甲	1,460	19.2
乙	874	3.7
丙	683	-4.7
丁	354	-10

14. 中國的西半部地區為高地氣候的主要分布區，此種氣候區的分類指標通常以地表高度超過海拔多少公尺為基準？ (A)500 公尺 (B)1,000 公尺 (C)3,000 公尺 (D)4,000 公尺。

15. 民以食為天，自古以來中國人民賴以維生的主要糧食作物有「南稻北麥」的差異。請問：造成「南稻北麥」分布差異的主要影響因素不包括下列何者？ (A) 氣溫高低 (B) 地勢起伏 (C) 降水量多寡 (D) 生長期長短。



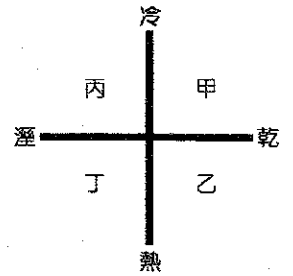
16. 右圖為中國某四個都市的位置示意圖。請問：哪個都市年溫差變化最小？ (A) 甲 (B) 乙 (C) 丙 (D) 丁

17. 11月11號是中國的光棍節，發起者是一群想擺脫單身的年輕男性，也反映了中國人口男多女少的現象，造成此問題的原因為何？(甲)醫療衛生進步、壽命延長 (乙)計畫生育政策的推行 (丙)人口數量成長快速 (丁)傳統重男輕女觀念 (A) 甲乙 (B) 乙丙 (C) 乙丁 (D) 丙丁

18. 中國某地常對懶散的人說：「你不好好做活，讓老婆、娃娃冬天喝西北風！」根據季節和風向判斷，此句話應出自於中國的哪個氣候區？ (A) 熱帶季風氣候 (B) 副熱帶季風氣候 (C) 溫帶季風氣候 (D) 高地氣候

19. 中國春運，堪稱全球最大規模的人口移動，估計有三十六億人次搭乘公車、火車與飛機，再次刷新世界紀錄。此現象反映中國何種人口問題？ (A) 流動人口過多 (B) 都市人口密度高 (C) 人口移入多 (D) 自然增加率高

20. 若我們根據氣候要素畫分出附圖的四大象限，則中國珠江三角洲的氣候類型最可能位於右圖中哪一象限？(A) 甲 (B) 乙 (C) 丙 (D) 丁。



21. 中國近年來自然增加率已經逐漸下降，但是人口成長的數量依舊很大，主要與下列哪項因素有關？ (A) 社會增加率大 (B) 人口總數大 (C) 性別比失衡 (D) 老年人口急速增加


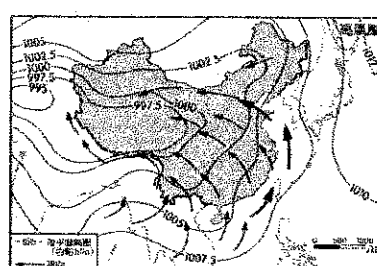
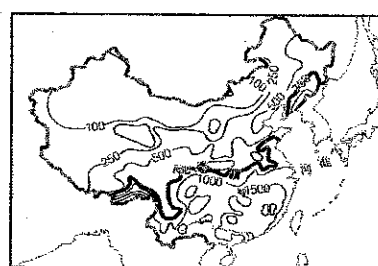
22. 右表有關黑河至騰衝之間連線的東西部特色比較，何者正確？ (A) 甲 (B) 乙 (C) 丙 (D) 丁。

特色	東半部地區	西半部地區
(甲)面積	小	大
(乙)人口密度	低	高
(丙)地形起伏	高地	平原
(丁)氣候分布	乾燥	季風

23. 小明在中國人口統計局的網站上發現，2015年中國0~14歲幼年人口的性別比為117，其所代表的意義為何？(A)幼年人口大幅增加 (B)幼兒出生率不斷提高 (C)未來勞動力相當充足 (D)幼年人口男多於女

24. 「以敦煌為圓心的東北東/這民族的海岸線像一支弓...蒙古高原南下的風寫些什麼內容...」以上是某首歌的歌詞，其中「蒙古高原南下的風寫些什麼內容」為中國某季節「季風」的敘述，請問下列哪張圖正確的反映了此現象？

- (A) 中國七月等溫線圖 (B) 中國年降水量分布圖 (C) 夏季季風示意圖 (D) 冬季季風形成示意圖



【題組】中國境內的河川依其特性可分為不同的水文區域，請參考附圖中國的水文區分布圖回答下列25-29題：

25. 請問中國河川、湖泊與所位在水文區域配對正確的為何？

- (A) 雅魯藏布江·甲 (B) 珠江·乙 (C) 青海湖·丙 (D) 洞庭湖·丁

26. 關於附圖「乙」區域的水文特性，以下敘述何者正確？

- (A) 水源來自高山融雪 (B) 河流終點注入海洋
(C) 主要分布於季風氣候區 (D) 湖泊可灌溉，發展養殖漁業

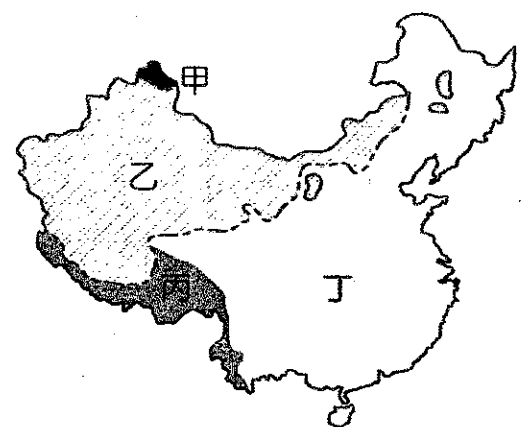
27. 根據圖中的分布位置判斷，「甲」區域的河川多流入哪一個海洋為主？

- (A) 印度洋 (B) 太平洋 (C) 北極海 (D) 大西洋

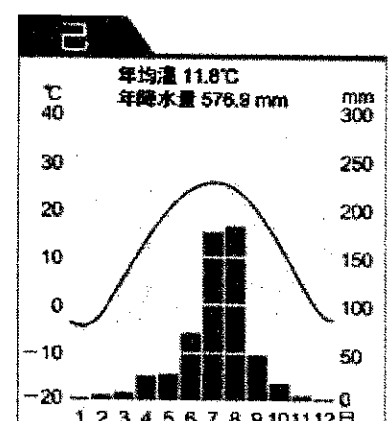
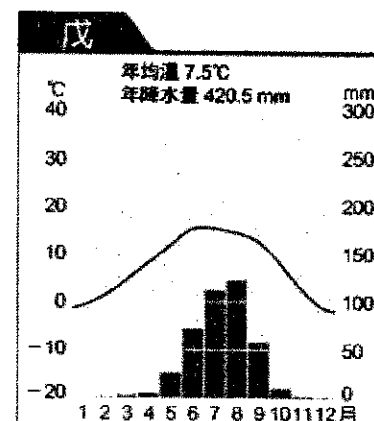
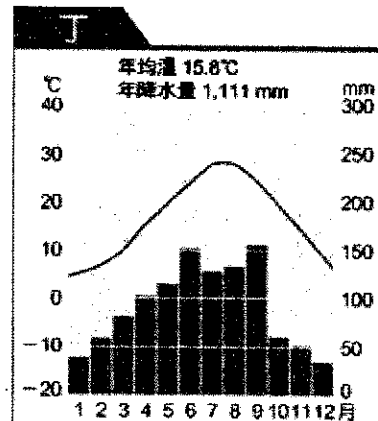
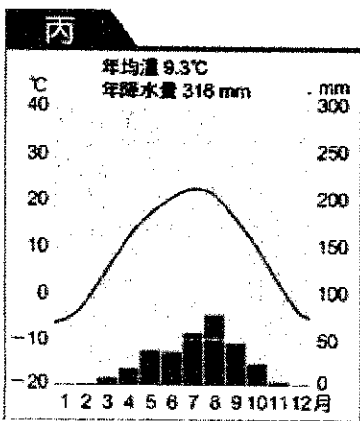
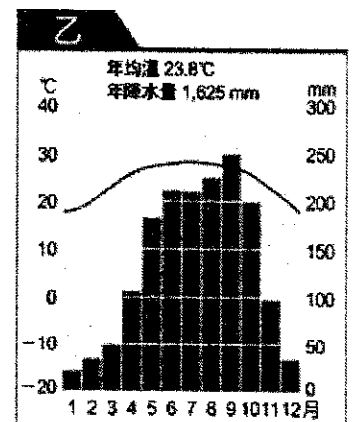
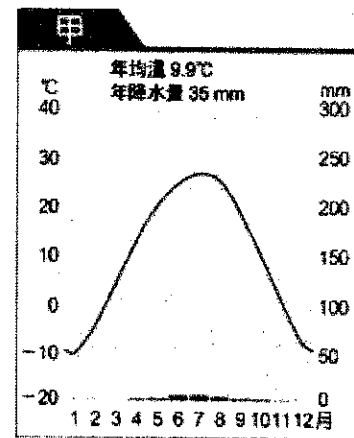
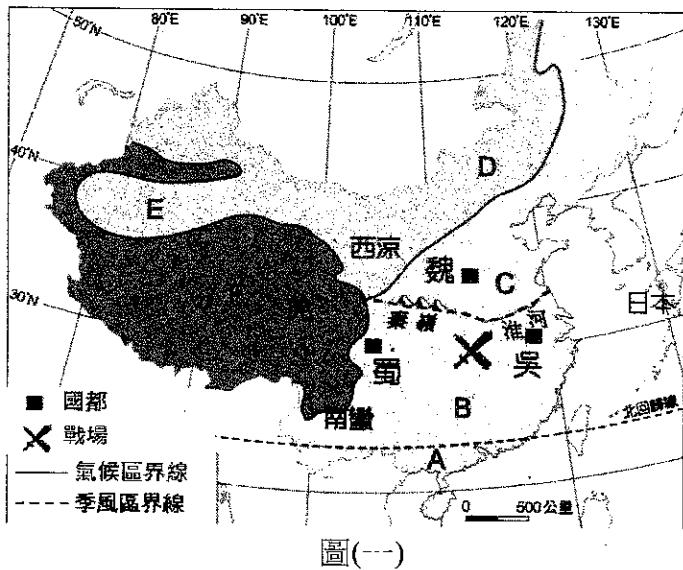
28. 「中國某盆地礦資源豐富，是中國湖鹽主要資源產區之一。然而，就是在這樣一個鹽資源大區，販賣私鹽違法行為層出不窮...」根據以上報導判斷，最有可能在圖中哪個區域？

- (A) 甲 (B) 乙 (C) 丙 (D) 丁

29. 承上題，請問其湖泊鹽度高的主要原因為何？(A) 海水入侵鹽化 (B) 土壤鹽鹼化 (C) 蒸發旺盛 (D) 高山岩鹽礦物多



【題組】三國時代中國風起雲湧，英雄豪傑並起，許多精采的故事令人神往，在歷經多場重要戰役，形成蜀國-劉備、魏國-曹操、吳國-孫權三強鼎立的局面，請依據底下附圖(一)：國都位置與氣候分布圖，圖(二)：甲~己氣候圖，回答下列30-37題：



圖(二)

30. 請問圖(一)中吳國國都的氣候類型為圖(二)中何者？
(A)乙 (B)丙 (C)丁 (D)己
31. 「西涼鐵騎」鎮守邊疆聞名，軍力剽悍曾經大敗曹操，主要分布於圖(一)中的「D區域」，請問氣候類型為圖(二)中何者？(A)甲 (B)丙 (C)戊 (D)己
32. 魏國與吳國的國界剛好落在秦嶺淮河線一帶，魏國在此線以北，吳國在南，請問以下敘述何者正確？
(A)魏國位於長江流域，吳國位於黃河流域 (B)魏國河港冬季常結冰，吳國河港冬季不結冰
(C)魏國人多種植水稻，吳國人多種植小麥 (D)魏國人多乘船，吳國人多騎馬
33. 三國時代著名的「赤壁之戰」是中國歷史戰場第一次的南移，戰場見地圖中符號【X】，來自北方的曹操在此對上南方的孫權與劉備聯軍，此地最接近哪條氣候分界線？
(A)年降水量250mm (B)年降水量500mm (C)年降水量750mm (D)一月均溫18°C
34. 承上題，圖(一)中戰役【X】發生在入冬的11月，兩軍在此對壘，並針對當時的天氣狀況討論最適合的戰術。請問以下敘述何者正確？(A)河湖皆已冰封，船艦無法派上用處 (B)該地此季節風向吹西北風，可用火攻 (C)此季節氣候乾燥少雨，需防火功 (D)此季節降雨機率高，注意糧草淋濕
35. 諸葛亮討伐魏國時聯合周遭的少數民族-羌人，位於圖(一)中的「F區域」，對於該地的氣候氣候描述何者正確？
(A)一年無四季，一日見四季 (B)大雨大災，無雨旱災
(C)四時皆是夏，一雨便成秋 (D)朝穿皮襖午穿紗，抱著火爐吃西瓜
36. 諸葛亮為了穩固南方的勢力出兵平定了南蠻，當時的「南蠻」(見圖一)就是南方許多少數民族聯合起來的勢力，為何該地的民族最多元？(A)邊疆鄰國眾多 (B)氣候溼熱多雨 (C)地形崎嶇交通阻隔 (D)河川水系交織密布
37. 吳國孫權曾派出使節出訪南洋各國，請問乘船前往南海要在何種季節與風向才能順風航行？
(A)冬季，西北風 (B)冬季，東北風 (C)夏季，西南風 (D)夏季，東南風

【題組】武俠小說大師金庸近日於香港逝世，讓金迷們不捨與惋惜，他留下的多部經典武俠小說，以中國遼闊的大地為舞台，虛構出許多著名的武俠人物，個個別具特色，請根據右方地圖回答 38-43 題：

38. 郭靖的幼年生活，住的屋子是用毛氈搭成的帳篷，有時需趕著牛羊東遷西徙，追逐水草，日子雖然辛苦，卻習到了摔跤與弓箭的本領，請問他幼年生活位於圖中何處？

- (A)甲 (B)乙 (C)丙 (D)戊

39. 香妃是金庸筆下第一美女，人們稱她為沙漠中的甘泉，天山下的仙女，許多人為她神魂顛倒，但她是伊斯蘭教的虔誠信徒，用白色如雪般的頭巾蒙著國色天香的面容。請問香妃出現於圖中何處？

- (A)甲 (B)乙 (C)丙 (D)戊

40. 金輪法王來自圖中「戊」處，他參透了經書中的最高內功境界，成為武功高強的反派人物，請問他信奉何種宗教？

- (A)道教 (B)伊斯蘭教 (C)天主教 (D)藏傳佛教

41. 小說中提到有個少數民族擅長使毒與下蠱，與其位處氣候濕熱多瘴癘之地有關，最可能出現在圖中何處？

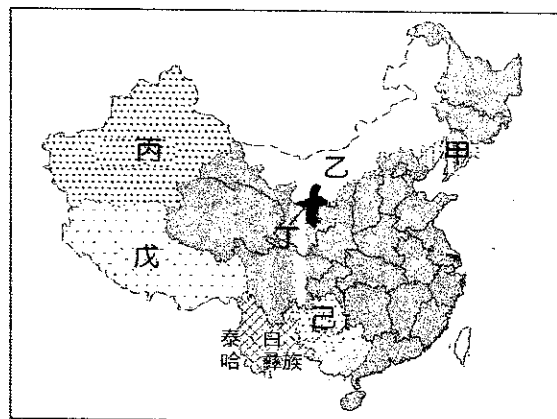
- (A)丙 (B)丁 (C)戊 (D)己

42. 丐幫幫主洪七公喜愛雲遊四海，尋訪天下的美食，請問下列去處與食物配對何者有誤呢？

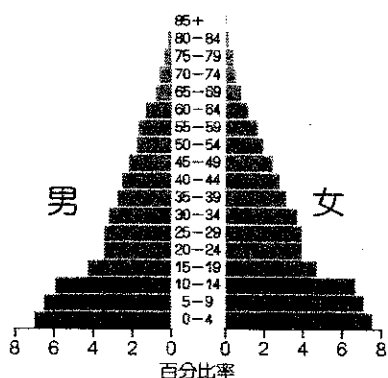
- (A)北京:餃子 (B)福建:粥 (C)黑龍江:犛牛肉 (D)蒙古:羊奶。

43. 小說中很多是以「甲」處的民族為背景，請問針對此族群的描述下列何者正確？

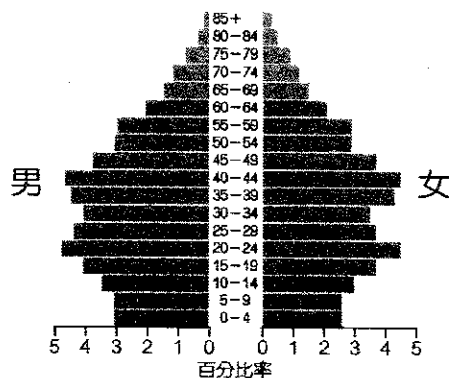
- (A)建立清朝統治中國 (B)擅於農耕，屬農業社會 (C)少數民族人數最多的族群 (D)少數民族最分散的族群



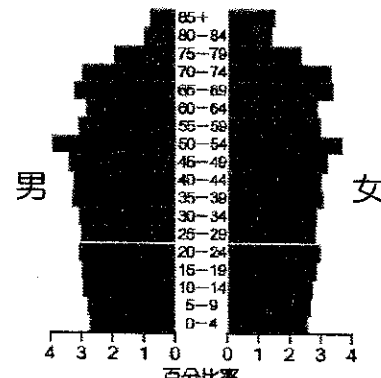
【題組】(甲)、(乙)、(丙)圖為中國過去 1965 年、2010 年以及預測 2040 年的人口金字塔圖，請根據附圖回答 44-50 題：



(甲)1965 年



(乙)2010 年



(丙)2040 年

44. (丙)圖呈現出何種人口結構特徵？

- (A)出生率低，死亡率低 (B)出生率低，死亡率高 (C)出生率高，死亡率低 (D)出生率高，死亡率高

45. 請問 1965 年至 2010 年人口結構出現何種改變？

- (A)老年人口比例下降 (B)幼年人口比例下降 (C)壯年人口比例下降 (D)幼年人口女性比例較高

46. 承上題，1965 年至 2010 年人口結構的改變是因為何項人口政策的影響？

- (A)開放二胎政策 (B)一胎化政策 (C)男女平等政策 (D)人口城鄉分隔政策

47. 研究報告指出中國由「人口紅利」走向「人口負債」階段。所謂「人口紅利」是指在人口結構中勞動人口(即壯年人口)比重持續增加，是國家經濟快速成長的指標，針對中國「人口紅利」時期的描述何者正確？

- (A)扶養比較低 (B)性別比下降 (C)出生率大幅上升 (D)老年人口大幅增加

48. 承上題，「人口負債」時期即勞動人口比重下滑，對經濟有不利影響，請問上述現象有可能發生在哪個時期？

- (A)1965 年以前 (B)1965~2010 年 (C)2010 年~2040 年

49. 由 2040 年的人口金字塔推測，下列哪一項產業最不可能成為中國 2040 年銷售火紅的「明星產業」？

- (A)嬰兒用品 (B)老人保健 (C)安養醫療 (D)勞力仲介

50. 因應未來人口結構的改變，中國政府應該採取何種措施以解決即將面臨的人口問題？(A)嚴格控制生育率 (B)積極鼓勵生育，孩子越多越好 (C)老年福利政策 (D)人口城鄉分隔政策