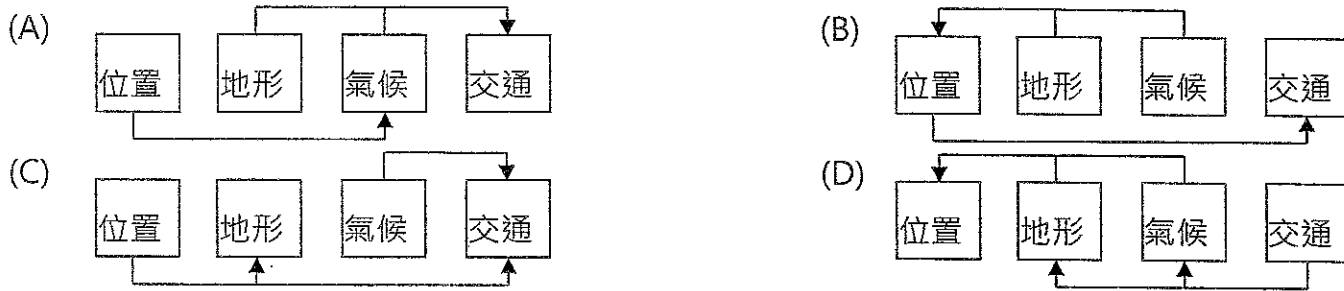


桃園市立大有國民中學 107 學年度第一學期第二次評量試卷

年級	九	考試科目	地理			命題範圍	L3 西歐與北歐 L4 東歐與俄羅斯	作答時間	45 分
班級		姓名		座號		分數			

選擇題共 50 題，一題 2 分


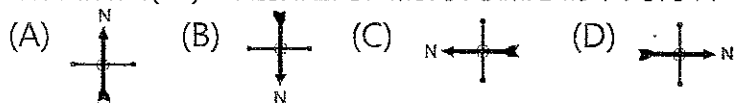
- () 1. 「西歐位於北緯 40 至 60 度的歐亞大陸西側，西臨大西洋；地形大部分為遼闊的平原；氣候則多屬溫帶海洋性氣候，是個河運、陸運便利、經濟發達的區域。」從以上關於西歐地區位置、地形、氣候與運輸發展的敘述，以下四個因素的影響關係示意圖，何者正確？



- () 2. 下列四個氣候資料統計表，何者最可能為西歐地區的溫帶海洋性氣候資料表？(A)甲城市 (B)乙城市 (C)丙城市 (D)丁城市。
*注意一月和七月的溫度、降水特徵

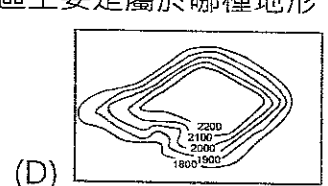
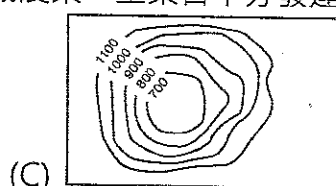
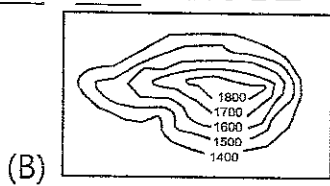
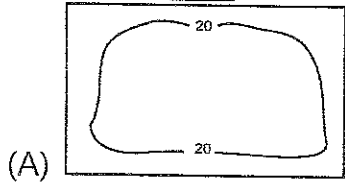
		1月	2月	3月	4月	5月	6月	7月	8月	9月	10月	11月	12月
甲	平均氣溫(°C)	14.3	13.6	12.1	10.1	8.8	6.7	6.6	6.8	7.8	9.6	11.6	13.4
	月平均降水量(mm)	90.1	93.3	98.9	143.3	234.1	223.8	228.7	208.5	145.9	120.9	11.9	103.1
乙	平均氣溫(°C)	26.2	26.5	26.0	24.5	23.0	21.5	21.3	21.8	21.8	22.8	24.2	25.2
	月平均降水量(mm)	114.1	105.3	103.3	137.4	85.6	80.4	56.4	50.5	87.1	88.2	95.6	169.0
丙	平均氣溫(°C)	5.5	7.0	9.3	11.6	15.5	20.4	24.3	23.8	20.3	14.5	8.9	5.9
	月平均降水量(mm)	41.7	44.5	29.7	44.7	38.6	26.2	30.3	29.2	27.8	37.8	59.1	43.9
丁	平均氣溫(°C)	3.5	3.8	5.7	8.0	11.3	14.4	16.5	16.1	13.8	10.7	6.4	4.5
	月平均降水量(mm)	53	36	48	47	51	50	48	54	53	57	57	57

- () 3. 英國在發展工業活動的條件相當優越，該國在哪一個地區發現石油礦產，有利於經濟活動的發展？ (A)本寧山 (B)北海 (C)波羅的海 (D)英吉利海峽。
- () 4. 子恆即將前往荷蘭旅遊，若他從倫敦搭乘列車前往阿姆斯特丹，必須經過何處？ (A)波羅的海 (B)英吉利海峽 (C)阿爾卑斯山 (D)伊比利半島。
- () 5. 臺灣 11 月後空氣品質常亮紅燈，由於中國霧霾隨季風挾帶來台，加上臺灣本身空氣汙染嚴重，因此，台北市環保局日前通過空氣品質達「一級嚴重惡化」，就會宣布停課的新規定。歐洲某城市由於氣候濕涼，為典型的溫帶海洋性氣候，大量燃煤，發生過嚴重的大煙霧事件，死亡人數 4000 多人，臺灣當引以為鑑。請問上文中所指的都市應為下列何者？(A)巴黎 (B)倫敦 (C)基輔 (D)羅馬。
- () 6. 北歐五國的首都多選擇在國土的南方，其地點選擇的原因最可能是受什麼因素影響？(A)地勢高低 (B)緯度高低 (C)西風吹拂 (D)暖流流經。
- () 7. 德國利用天然河川及人工運河構成完整的水運網，故水運交通便利。家龍將德國的水運網繪製成圖(一)，這張運河圖的方向標應為下列何者？



- () 8. 下列歐洲各國的人文風情中，哪一個選項和『溫度』因素最相關？(A)挪威人利用不凍港極力發展航運 (B)荷蘭人喜愛穿木鞋的傳統 (C)冰島利用水力發電發展鍊鋁工業 (D)芬蘭冰蝕湖廣布，有千湖國之稱。
- () 9. 歐洲足球聯賽開打，位於巴爾幹半島上的克羅埃西亞球迷特地搭機前往莫斯科觀賽，其飛行的方向大致為何？(A)東南方 (B)西南方 (C)東北方 (D)西北方。
- () 10. 2014 年，中國與甲國簽署了乳製品的合作協議，由於甲國向來以酪農業發達著稱，兩國合作將有助於提高中國乳製品的品質與產量。甲國最可能為下列何者？(A)丹麥 (B)芬蘭 (C)瑞士 (D)瑞典。

- () 11. 「某國因國土面積僅 2586 平方公里，比屏東縣稍小一些，是個金融業發達、礦產豐富的國家。每次度假，幾乎都是『出國旅遊』，他們認為自己才是最愛出國旅遊的人。」請問，關於「某國」的敘述，何者正確？(A)該國座落於斯堪地那維亞山 (B)此國為每年諾貝爾獎頒獎地點 (C)此國夾在比、法、德之間 (D)此國首都為歐盟總部所在地。
- () 12. 從英國南部延伸到法國和德國北部的地區，該區域農業、工業皆十分發達，此區主要是屬於哪種地形？

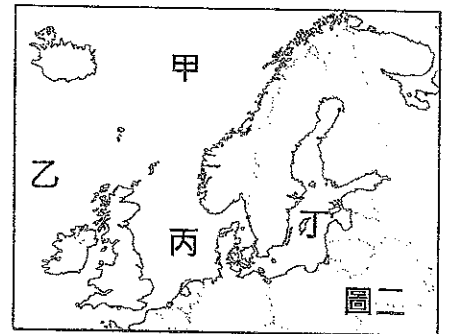


- () 13. 喀斯特(Kras)意為岩石裸露的地方，最初學者是在巴爾幹半島上發現這種石灰岩地形，因此又稱為喀斯特地形。要到下列哪一地區最容易見到喀斯特地形？



- () 14. 呈上題，在中國的哪一行政區比較容易見到喀斯特地形？(A)西藏自治區 (B)寧夏回族自治區 (C)廣西壯族自治區 (D)新疆維吾爾自治區。

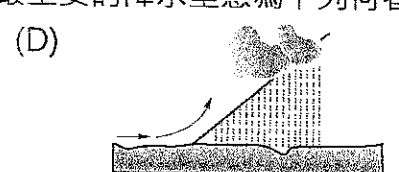
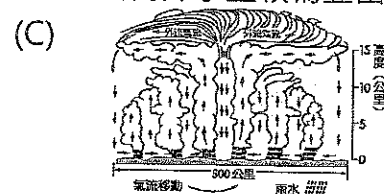
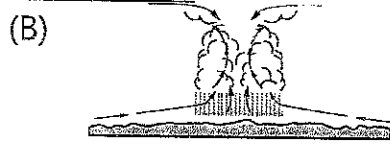

- () 15. 挪威早期以航運貿易為主，近年來挪威在圖(二)哪一個地區探勘出石油資源，因此成為該國重要的經濟來源之一？(A)甲 (B)乙 (C)丙 (D)丁。



- () 16. 下列關於阿爾卑斯山的敘述，何者正確？(A)是萊因河的發源地 (B)嚴重影響歐洲南北交通的往來 (C)南歐與東歐的界山 (D)歐洲的「大陸冰河」中心。

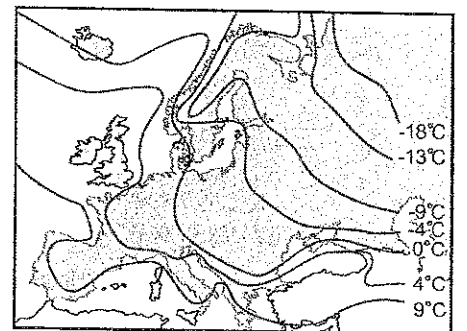
- () 17. 「六月時，白天的時間特長，可以從事一整天的農業活動。但到了十二月，太陽只出現一下下，大家只好待在家裡休息。」這是哪一個地區的農夫最可能說出來的話？(A)芬蘭 (B)丹麥 (C)烏克蘭 (D)白俄羅斯。

- () 18. 北歐以略呈南北向的斯堪地那維亞山脈為骨幹，該山脈的西側降水量較為豐富，最主要的降水型態為下列何者？



- () 19. 「Nokia 曾是芬蘭科技產業的代名詞，更是全球手機產業的先鋒，曾連續 14 年手機市占率全球第一。」Nokia 的起源地具有下列哪項自然資源，成為該品牌賴以起家的資源？(A)煤礦 (B)鐵礦 (C)木材 (D)天然氣。

- () 20. 右圖(三)為歐洲的一月月均溫分布圖，請根據圖中資料判斷，造成北歐沿海地區一月月均溫等溫線變化的主因為何？(A)暖流 (B)緯度 (C)地勢 (D)西風。



- () 21. 巴爾幹半島北部的國家通常被視為東歐。請問：這和該地區的何種特性關係最大？(A)地形特色 (B)氣候類型 (C)宗教相同 (D)政治制度。

- () 22. 瑞典汽車工業發達，如 VOLVO(富豪)汽車，下列何者是該國重工業發達的主要原因？(A)石油資源豐富 (B)富含煤礦 (C)勞工眾多 (D)蘊藏鐵礦。

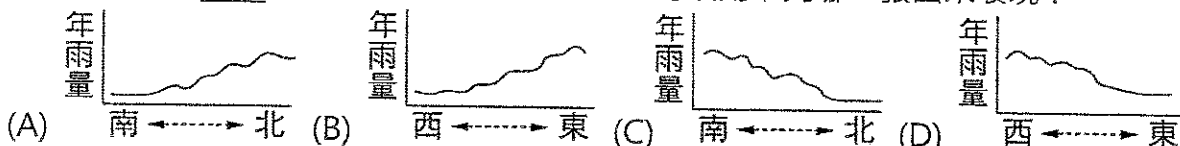
- () 23. 法國是西歐最大農產品生產國，但西班牙加入歐盟後，法國的農產品市場便深受打擊。主要是因為西班牙在下列何項農業發展條件方面比法國更具優勢？(A)黑土肥沃 (B)氣候較暖 (C)降水較多 (D)工資低廉。

- () 24. 西伯利亞與北歐兩者的緯度相同，西伯利亞的氣候特徵為「乾冷」，而北歐的氣候特徵「溼冷」。北歐主要是受到哪一因素的影響，年降水量較為豐富？(A)北極圈通過 (B)多峽灣海岸 (C)西風終年吹拂 (D)副熱帶高壓籠罩。





- () 25. 「2002 年，鴻海於捷克的投資廠落成，臺灣科技大廠也紛紛計畫在捷克布局。」臺商前進捷克的主要原因為何？(甲)相對廉價勞力 (乙)素質優秀勞力 (丙)語言溝通方便 (丁)歐洲市場廣大 (戊)原料資源豐富 (A)甲乙丙 (B)乙丁戊 (C)甲丁戊 (D)甲乙丁。

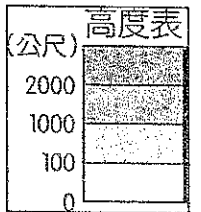
- () 26. 下列哪一個國家為俄羅斯的陸上鄰國？(A)芬蘭 (B)日本 (C)德國 (D)烏茲別克。

- () 27. 東歐年降雨量的空間分布變化，可以用下列哪一張圖來表現？



() 28. 位於巴爾幹半島的前南斯拉夫共和國，素有「五個民族、四種語言及三種宗教」的形容，在共產主義解體後，各民族紛紛獨立，成立許多國家。這種現象和當地何種自然環境的關係最大？(A)面積廣大 (B)氣候嚴寒 (C)氣候乾燥 (D)地形崎嶇。

() 29. 烏克蘭的疆域面積廣大，號稱歐洲糧倉。若以圖(四)中的高度表來判斷，烏克蘭境內主要的地形為何？(A)  (B)  (C)  (D) 

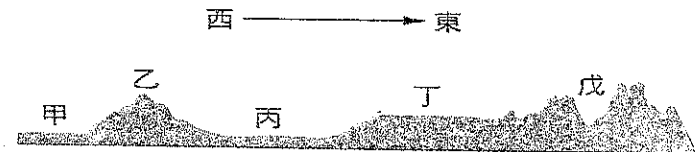


圖四

() 30. 祐銓計畫暑假到東歐旅遊，他的旅遊地點可能為哪些國家？(A)英國、法國、德國 (B)葡萄牙、西班牙、義大利 (C)荷蘭、波蘭、芬蘭 (D)匈牙利、羅馬尼亞、保加利亞。

() 31. 波蘭除了農業活動外，工業亦相當興盛。請問：該國發展工業和下列何種礦產資源關係最大？(A)鐵礦 (B)煤礦 (C)水力 (D)石油。

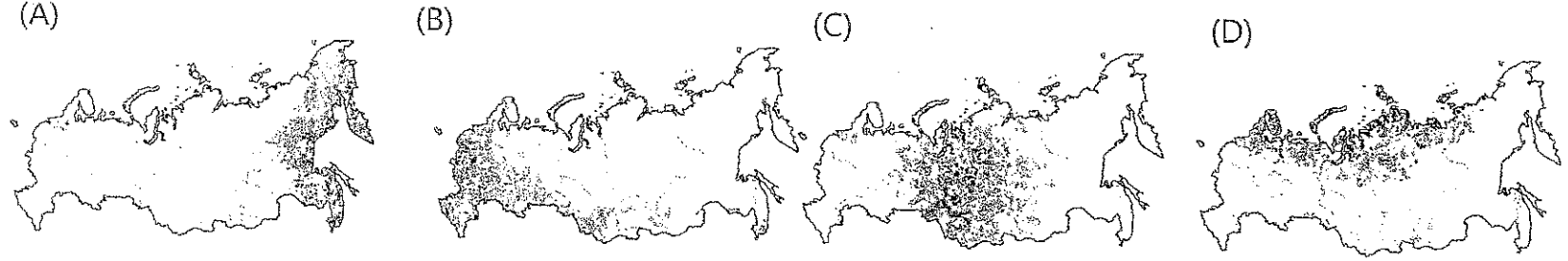
() 32. 圖(五)為俄羅斯地形剖面圖，下列哪一個地形區因為位於板塊交接帶，會成為地震好發區？(A)乙 (B)丙 (C)丁 (D)戊。



圖五

() 33. 呈上題，俄羅斯主要屬於溫帶大陸性氣候，降雨特徵呈現由西向東遞減，唯戊區東側受到 X 因素影響，反而成為降水量較多的地區，請問 X 因素為何？(A)太平洋↗季風 (B)大西洋←風 (C)太平洋↘季風 (D)大西洋→風

() 34. 俄羅斯為世界上面積最大的國家，但是人口卻僅 1.4 億人，遠低於中、美等國。下列為該國主要人口分布概況的點圖，其中何者最為正確？



() 35. 俄羅斯地廣人稀，人口分布不均，請問造成此種狀況下列何者為主要原因？(A)地形 (B)氣候 (C)政策 (D)礦產資源。

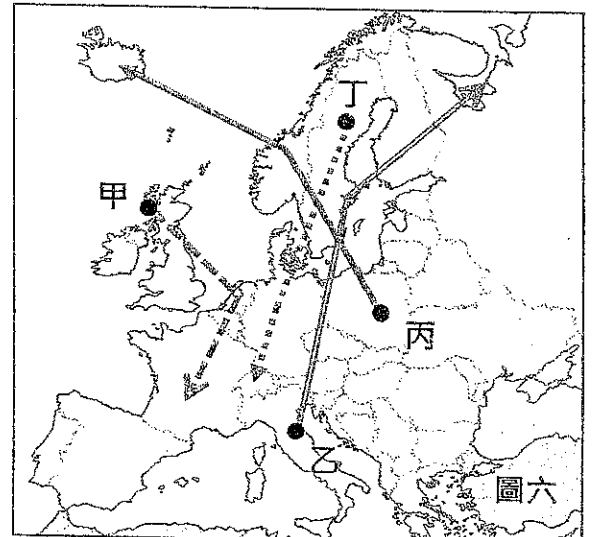

() 36. 俄羅斯及東歐各國早期實施何種經濟制度，較不如其他歐洲國家靈活，因此發展較為落後？(A)計畫經濟 (B)市場經濟 (C)資本經濟 (D)自由經濟

() 37. 春末夏初時，西伯利亞地區的河流會因為上游先溫暖，但下游尚未融冰，而導致河道堵塞出現的氾濫現象。在不考慮地形的影響之下，右表中哪一條河流，可能會發生類似西伯利亞地區河流的現象？

	河流發源地緯度	河流出海口緯度
(A)	10°S	10°N
(B)	21°N	30°N
(C)	66°N	60°N
(D)	58°S	67°S

() 38. 若西伯利亞的煤、鐵礦要運送至俄羅斯各地從事加工生產，則以何種交通工具最為適合？(A)河運 (B)海運 (C)鐵路 (D)飛機。

() 39. 昕翔是一名飛行員，在一次歐洲地貌的偵查任務中，依序拍攝了以下照片。請問，若依照照片拍攝的先後次序判斷，圖(六)的哪一條路線最有可能是當時的飛行路線？(●表示起點，箭頭所指方向為終點)(A)甲(B)乙(C)丙(D)丁。



圖六

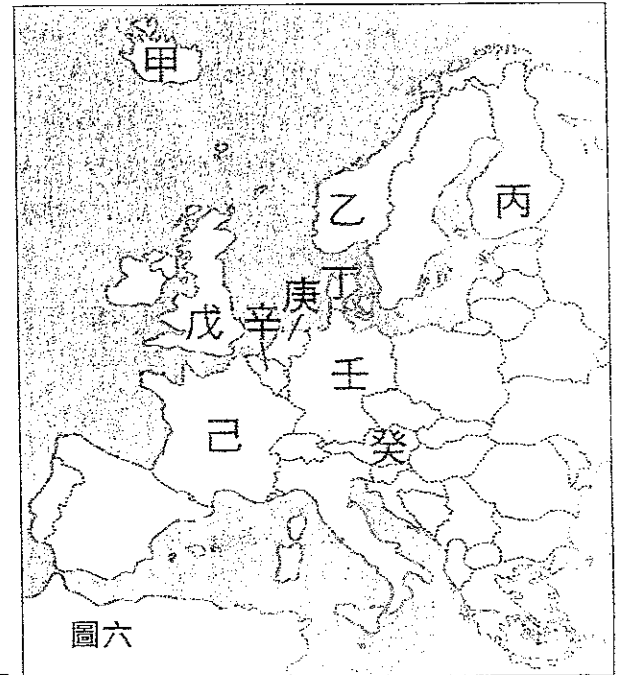
題組一

- 萊因河從瑞士一路蜿蜒 1,320 公里後注入北海，是歐洲航運價值最高的河川，河面上運送各項原料及產品的船隻往來頻繁。
- () 40. 「因為流域內豐富的煤礦及便利的水運條件，使得萊因河流經該國的沿岸地區出現許多工業大城，是人口密度最高、工業最發達的地區。」符合以上描述內容的是下列哪個國家？(A)英國 (B)德國 (C)波蘭 (D)烏克蘭。
- () 41. 萊因河流域的工業原料進口及產品出口，都在這個城市進行轉運，碼頭上的工人及起重機具總是忙碌地運作著，這個歐洲貨物運輸量最大的港口應是下列哪個城市？ (A)威尼斯 (B)奧斯陸 (C)鹿特丹 (D)布魯塞爾。
- () 42. 透過運河將萊因河與多瑙河的水運連接，這表示萊因河的水運範圍可以涵蓋歐洲哪兩個區域？ (A)北歐、東歐 (B)西歐、北歐 (C)北歐、南歐 (D)西歐、東歐。

題組二

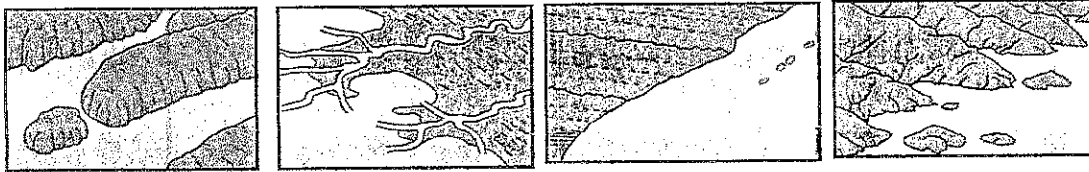
見圖七回答問題：

- () 43. 「在歐洲國家中，比利時人可能是最愛出國旅遊的人，約每 4 人就有 3 人出國旅遊，在法國，每 10 人才 1 人出國旅遊。」比利時為圖中的哪一國？(A)丁 (B)庚 (C)辛 (D)戊。
- () 44. 「2015 年湧上歐陸的難民潮估計將達 80 萬人，是第二次世界大戰結束以來歐洲最大的難民危機，對歐盟構成嚴峻挑戰。...某國作為歐盟首富與龍頭，也洗刷昔日納粹罪行，舉旗高呼「歡迎難民」，而廣大的難民也成為該國勞動市場蓬勃發展的關鍵。」根據上述內容，請問某國是指圖中何國？(A)戊 (B)己 (C)庚 (D)壬。
- () 45. 「面對難民潮議題，歐洲各國領導人在歐盟總部召開緊急會，希望就此達成共識。」歐盟總部位於圖中何國？(A)丁 (B)戊 (C)庚 (D)辛。
- () 46. 乙國的海岸類型適合航運活動，因此海上貿易相當興盛。當地的海岸線多為下列何種地形？



圖六

- (A) (B) (C) (D)

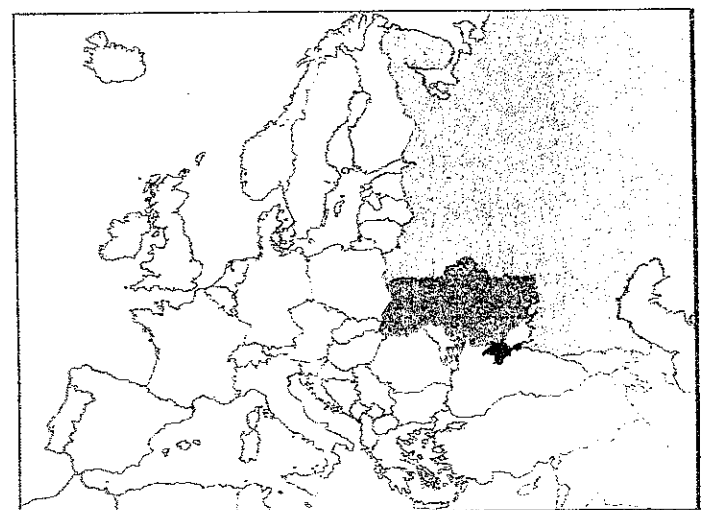


- () 47. 台中市 X 阿密爾市 花博互相參展！ 2018 年，台中市舉辦世界花卉博覽會；2022 年，阿密爾市(Almere)發展也將舉辦世界園藝博覽會。阿密爾市在阿姆斯特丹的東側，中間隔著馬克湖，是全球最大的鮮花拍賣市場。該城市位於圖中哪一國家？(A)丁 (B)庚 (C)辛 (D)己。

題組三

蘇聯解體後，許多原本共產聯盟的國家紛紛朝向歐盟靠攏，普丁擔任俄羅斯總統後，對鄰國逐漸採取強硬態度。2014 年俄羅斯派兵進入烏克蘭的克里米亞地區(位置如圖八)，烏克蘭政府嚴厲指責俄羅斯的軍事干預與併吞，引發全球矚目，西方國家因此對俄羅斯採取經濟制裁。

- () 48. 若為了在最短時間內攻占克里米亞地區，由其地理位置來看，普丁可以派遣何處的軍艦就近支援？(A)太平洋 (B)大西洋 (C)裏海 (D)黑海。
- () 49. 俄羅斯同時也派遣陸路軍隊進攻克里米亞地區，依圖中位置判斷，這群軍隊可能來自鄰近的哪一地區駐軍？(A)烏拉山 (B)高加索山 (C)葉尼塞河 (D)勒那河。
- () 50. 克里米亞事件後，西方國家對俄羅斯進行經濟制裁。禁止俄羅斯借道烏克蘭出口哪一項資源時，會對彼此造成最大的衝擊？(A)木材 (B)鐵礦 (C)小麥 (D)天然氣。



圖八 ■ 克里米亞 俄羅斯 烏克蘭