



桃園市立大有國民中學 107 學年度第一學期第三次評量試卷


年級	八	考試科目	歷史			命題範圍	單元五、六	作答時間	45分
班級		姓名		座號		分數			

一 單選題 (每題兩分)

- () 附圖是《中國歷史漫畫》中，描繪北宋時期兩位名臣對話的內容，可知此幅漫畫的內容是描繪何事？(A)牛李黨爭 (B)東林黨爭 (C)新舊黨爭 (D)張居正變法。
- () 中國史上哪一朝代曾使用「交子」為紙幣，是最早使用紙幣的紀錄？(A)唐代 (B)宋代 (C)元代 (D)明代。
- () 某人到福建經商時，正巧遇到當地稻米歉收，許多人靠吃「番薯」才免於餓死。在歷史上，這種情景最早出現於何時？(A)秦漢 (B)隋唐 (C)宋元 (D)明清。
- () 明朝末年，天災不斷，大批的災民與饑兵相結合，到處搶掠，形成流寇。後來何人攻陷北京，導致明朝滅亡？(A)李自成 (B)吳三桂 (C)張獻忠 (D)皇太極。
- () 小天是某個朝代的讀書人，居住在江南一帶，他想要參加科舉考試，卻因為當時種族政策的關係，要考的題目比較難、錄取率低；就算考上，也很難升遷到高位。請問：小天是屬於下列哪一朝代的人？(A)漢朝 (B)唐朝 (C)宋朝 (D)元朝。
- () 宋朝士人發展出理學思想，其中某位思想家集理學之大成，著有《四書集注》一書，讓其發展成為更有系統的思想體系。請問：這位思想家是下列何者？(A)王安石 (B)朱熹 (C)司馬光 (D)蘇軾。
- () 郭魚出身書香世家，世居汴京，他家左鄰是全京城最有名的中藥鋪，右舍則為他最常去的古董店。請問：這種居住型態的出現，與下列何者關係最為密切？(A)紙幣的發行 (B)朝貢貿易的興起 (C)坊市制度的廢除 (D)同鄉會館的成立。
- () 結束五代以來多個民族政權並存的局面，並統一中國的第一位草原民族的領袖是何人？(A)耶律阿保機 (B)完顏阿骨打 (C)鐵木真 (D)忽必烈。
- () 拉拉和小波爭論中國歷史上有關科技發展的問題——拉拉：「中國一向只重視經史文學，卻忽略科學的研究。」小波：「不，其實中國古代科技曾相當進步，但後人往往忽視這項事實。」小波最適合舉下列何本著作為例，以支持她的說法正確？(A)四書集注 (B)三國演義 (C)夢溪筆談 (D)資治通鑑。
- () 中國儒學歷經魏晉、隋唐時代的發展，演變為宋代理學。此一過程除受本土道家思想影響外，亦受到下列哪一外來文化的影響？(A)佛教文化 (B)日本文化 (C)阿拉伯文化 (D)基督教文化。
- () 明初和清初都曾施行海禁政策，其實施的主要原因為何？(A)皆為防範倭寇入侵 (B)明初為防範倭寇，清初為封鎖臺灣鄭氏 (C)明初為封鎖臺灣鄭氏，清初為防範倭寇 (D)皆為防範臺灣鄭氏。
- () 有一篇新聞報導：「西元 2000 年兩位漁民在福建省冬古灣退潮後，無意間發現兩處堆積物，經專家初步挖掘出鐵炮、彈丸、陶瓷器等文物。而打撈上來的銅銃上均鑄有『國姓爺』的『國』字，鑄有『永曆通寶』字樣的銅錢則是當時東南沿海流通的貨幣……。」依報導內容推斷，此項挖掘工作將有助於我們了解下列哪一時期的歷史？(註：銃：一種舊式的槍械火器。)(A)宋末元初 (B)元末明初 (C)明末清初 (D)清末民初。
- () 明太祖朱元璋的諸多作為，使中國的知識分子面臨了一個前所未有的局面，請問：下列有關當時知識分子面對的政治環境，何者敘述正確？(A)丞相集國家大權於一身 (B)重用宦官，任其為錦衣衛 (C)新舊黨爭造成朝廷分化嚴重 (D)以「廷杖」和「文字獄」摧殘文人。
- () 小夏以「中國文學史」為報告主題，以(甲)施耐庵：水滸傳 (乙)曹雪芹：紅樓夢 (丙)蘇軾：水調歌頭 (丁)關漢卿：竇娥冤。請問：若以時代排序，她的報告順序應是：(A)丙丁甲乙 (B)丁丙乙甲 (C)甲丙丁乙 (D)丙丁乙甲。
- () 依照右方附圖的歷史漫畫內容，主要是在呈現明朝初年哪個歷史事件的發展？(A)陳橋兵變 (B)玄武門之變 (C)靖康之禍 (D)靖難之變。
- () 承上題，此一事件就其性質而言，是屬於下列何者？(A)宗室骨肉相殘 (B)異族入寇 (C)災民叛變 (D)權臣篡位。



17. () 詩云：「鼎湖當日棄人間，破敵收京下玉關。慟哭六軍俱縞素，衝冠一怒為紅顏。」是描寫明末哪一位鎮守山海關的守將為了一己之私，引清兵入關？ (A)張獻忠 (B)張居正 (C)吳三桂 (D)李自成。
18. () 故宮博物院有一幅宋代的「臘梅山禽圖」，花鳥丹青搭配瘦金體的詩作，構圖型式獨特，這是中國歷史上少數具有藝術才華的皇帝所繪的。請問：這位皇帝是？ (A)宋太祖 (B)宋徽宗 (C)元世祖 (D)唐太宗。
19. () 明神宗時，朝廷曾推動變法，當時是由哪一位大臣主張稅收簡便提出「一條鞭法」的改革？ (A)朱熹 (B)秦檜 (C)張居正 (D)王安石。
20. () 承上題，有關「一條鞭法」的敘述，哪一項是正確的？ (A)導致朝中發生新舊黨爭 (B)將賦稅和勞役分開，以實物繳納 (C)將勞役與田賦合併，按畝徵銀 (D)提倡軍功，鼓勵耕織，奠定國家強盛的基礎。
21. () 下列何者不是因外患入侵而分裂的朝代？ (A)周 (B)漢 (C)晉 (D)宋。
22. () 歷史資料的種類繁多，畫作也是其中之一。附圖是張擇端繪製的《清明上河圖》部分內容，參考這幅圖將最有助於研究下列哪一主題？ (A)漢代的鄉村生活 (B)大唐的繁華京城 (C)宋人的城市生活 (D)明初的園林造景。
23. () 17 世紀時西方商人來東亞地區貿易，他們買走了南洋群島的香料和中國的生絲、瓷器，同時，自美洲湧入一種貴重金屬到中國，造成了中國貨幣經濟的重大變化。請問：該項金屬是下列何者？ (A)白銀 (B)黃金 (C)銅錢 (D)青銅。
24. () 金庸武俠名著《射鵰英雄傳》中的人物郭靖、楊康，取名於「靖康之恥」。請問：造成北宋靖康之恥的民族是下列何者？ (A)契丹 (B)党項 (C)突厥 (D)女真。
25. () (甲)設置東廠 (乙)修築長城 (丙)進行削藩 (丁)廢除丞相 (戊)遷都北京。以上哪些是明成祖的重要事蹟與措施？ (A)甲乙戊 (B)甲乙丙 (C)乙丙丁 (D)乙丁戊。
26. () 清朝入關後，統治中國二百六十八年之久，統治成功的關鍵在於何者？ (A)採黃老思想，無為而治，與民休養生息 (B)高壓政策的成功使漢人不敢反抗 (C)能放棄高壓採取懷柔政策，對滿漢採平等待遇 (D)善於運用懷柔與高壓並濟的治術。
27. () 小歪整理了有關「澶淵之盟」的史事，其中何者正確？ (A)訂立時間在宋太祖時 (B)宋遼維持一百多年的和平 (C)遼每年給宋銀、絹 (D)宋朝採和親政策換取和平。
28. () 關於《資治通鑑》一書的敘述，何者錯誤？ (A)司馬光主編 (B)體例為編年體通史 (C)記載戰國到五代之間的歷史 (D)在書中可以查到靖康之禍的事蹟。
29. () 幾位同學探討有關清朝的歷史發展，何人的說法不正確？ (A)大傻：清朝是女真族所建的朝代 (B)二呆：努爾哈赤建國號金 (C)三懶：皇太極改國號為清 (D)小萌：清世宗平三藩之亂、攻克臺灣，統一全中國。
30. () 明末清初來，有位傳教士與徐光啟合譯歐幾里德(Euclid)《幾何原本》(Elements)前半部；他順應中國祭祖、祀孔的禮俗習慣，並親著儒服來傳教。請問：此人誰？ (A)馬偕 (B)利瑪竇 (C)馬雅各 (D)蘭大衛。



二題組 (每題兩分)

一、有一部歷史劇中演出皇帝藉機建議部將「人生猶如白駒過隙，不如多累積一些財產，買一些良田、華麗的房子，留下來給後代子孫，家中多置一些歌伶舞妓，日夜飲酒相歡以度終年，君臣之間，沒有猜疑，上下相安，這樣不是很好嗎？」第二天，將領們紛紛稱病請求辭職，皇帝一一詔准。

31. () 根據上文中的「皇帝」應是指下列何人？ (A)楊堅 (B)李世民 (C)趙匡胤 (D)朱元璋。
32. () 根據文中，該位皇帝這樣做的主要因為何？ (A)受新舊黨爭的影響 (B)因邊族貧弱，國防已無威脅 (C)希望終止漢朝外戚專權的弊病 (D)欲改正唐末以來軍人干政的風氣。
33. () 此一作法雖然能夠控制地方，集權中央，但也產生下列哪一項流弊？ (A)邊防不振 (B)宗室相殘 (C)外戚專權 (D)土地兼併。

二、中國為一文明古國，科技發達。請問：

34. () 古代科技成就的敘述，何者正確？ (A)造紙術—唐朝時經蒙古人西傳 (B)印刷術—北宋沈括發明活字版印刷 (C)指南針—藉由阿拉伯人傳到歐洲 (D)火藥—十字軍東征時傳入歐洲。
35. () 這是一本圖文並茂的巨著，內容涉及作物栽培、養蠶、紡織、煮鹽、製糖、釀酒、造紙、採礦等，系統性的介紹了中國古代農業、手工業的生產技術與生產經驗，並詳細繪製了一些生產工具的生產過程。請問，這

本書為下列何本著作？ (A)宋應星的《天工開物》 (B)李時珍的《本草綱目》 (C)利瑪竇的《幾何原本》 (D)張機的《傷寒雜病論》。

36. ()明末清初帶來西方科學新知，如數學、地理學等，並將中國園林建築、典籍傳入歐洲，促成中西文化交流的是下列何者？ (A)商人 (B)天主教傳教士 (C)留學生 (D)外交官。
37. ()宣布全面禁教，造成中西文化交流中斷的皇帝為何？ (A)清聖祖 (B)清世宗 (C)清高宗 (D)皇太極。

三、明朝「天妃靈應之碑記」中記載：「皇上嘉其忠誠，命和等率官校旗軍數萬人，乘巨舶百餘艘，貨幣往貨之，所以宣德化而柔遠人也。自永樂 3 年，奉使西洋，迨今七次，所歷番國，由占城國、爪哇國、三佛齊國、暹羅國，直逾南天竺、錫蘭山國……。」請回答下列問題：

38. ()派遣鄭和下西洋，始於哪位皇帝？ (A)明太祖 (B)明成祖 (C)明神宗 (D)明思宗。
39. ()下列何者最有可能是鄭和到過的「番國」？ (A)印尼 (B)英國 (C)葡萄牙 (D)美國。
40. ()鄭和下西洋在當時的世界，堪稱為一項壯舉。請問鄭和下西洋對當時的中國產生的影響，下列何者正確？ (A)使明朝積極尋找新大陸 (B)奠定華僑在東南亞的社會基礎 (C)使社會呈現「胡漢融合，兼容並蓄」的現象 (D)造成後來明代實施海禁政策。

四、明清時期隨著商業的繁盛，商人逐漸形成地域性的商幫組織，商業經營方式亦漸趨專業化。請問：

41. ()明代一位前往江西經商的山西商人，住在當地城市裡一處專供同鄉寄宿聯絡與商業往來之所。請問：這位商人的時代背景何者**錯誤**？ (A)他寫信鼓勵家中子弟通過科舉，以晉升士紳階級 (B)他住的地方稱為「郊」 (C)他可以在江西景德鎮買賣青花瓷 (D)當時的貨幣以白銀與銅錢並用。
42. ()就商業經營的環境而言，清朝初年的商人可能比宋代商人擁有一項優越的條件？ (A)可以在夜市經營商業 (B)可以發展海外貿易事業 (C)使用紙幣作為交易媒介 (D)在大都市的會館與同鄉的商人交換商業訊息。
43. ()新航路開通後而歐洲人開始航抵中國。請問：16 世紀，最早航抵中國的葡萄牙人，據有何處做為發展東方貿易的據點？ (A)澳門 (B)香港 (C)臺灣 (D)菲律賓。
44. ()明清時期經濟繁盛，中外貿易發達，當時經濟活動的發展，下列何者正確？ (A)最先設市舶司管理海外貿易 (B)實施坊市分離制度 (C)最早引進早熟稻 (D)對外以朝貢貿易做為主要形式。

五、十三世紀時，亞洲某民族發動了令西方世界震驚的西征行動，而有「黃禍」之稱，更有神父言其為「上帝之鞭」，是上帝派來懲罰歐洲人的。請問：

45. ()下列何者是歐洲人所指稱的「黃禍」？ (A)蒙古西征 (B)鄭和下西洋 (C)張騫通西域 (D)怛羅斯之役。
46. ()此一民族在征服區內廣建下列何設施，使得東、西經貿大增？ (A)會館 (B)洋行 (C)市舶司 (D)驛站。
47. ()小強撰寫有關此一民族為主題的報告，在其報告的內容中，哪一項**錯誤**？ (A)曾發動三次遠征 (B)將火藥、印刷術西傳 (C)對中西文化交流頗有貢獻 (D)鐵木真建國號元，定都大都。

六、「書中自有顏如玉，書中自有黃金屋」、「萬般皆下品，唯有讀書高」。請問：這些話語反映了科舉制度而產生的社會風氣，請回答以下問題：

48. ()「彌封」和「謄錄」兩種防弊制度出現在中國哪個朝代，讓考試更加公平？ (A)宋 (B)元 (C)明 (D)清。
49. ()有關明清時代科舉考試的敘述，何者**有誤**？ (A)兩代皆以八股文為應試文章格式 (B)考試內容以四書五經為主 (C)鄉試及格稱為進士，此時才具備作官資格 (D)僵化了讀書人的思考。
50. ()請問下列何者**不是**明清兩代士人取得功名後可以得到的好處？ (A)在鄉為紳，出而為官 (B)功名可以一代傳一代 (C)享有司法特權、免除勞役 (D)身分地位、生活儀制與平民不同。