

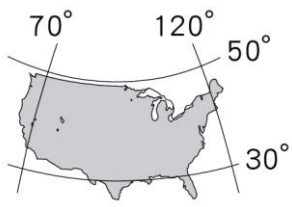
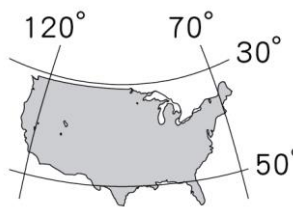
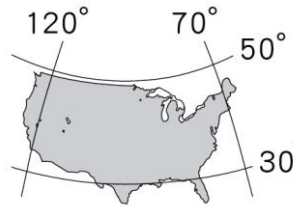
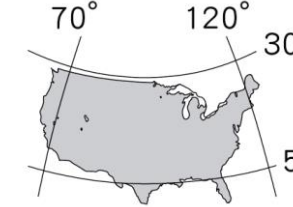
桃園市立大有國民中學 107 學年度第一學期第三次評量試卷

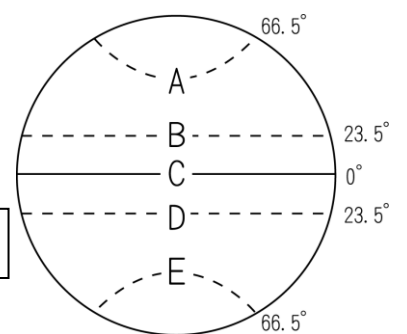
年級	九年級	考試科目	地理			命題範圍	第五章 北美洲 第六章 中南美洲	作答時間	45 分
班級		姓名		座號		分數			

◆請將正確答案，塗在答案卡上，並確認答案卡上班級、座號是否塗寫正確。

第一頁，共四頁

◆單選題，每題2分，共50題，總分100分

- 下列哪個國家位於「盎格魯美洲」？(A)墨西哥 (B)巴西 (C)美國 (D)阿根廷
- 黃石國家公園的大稜鏡景觀是因地熱造成的溫泉景觀，它位於北美境內哪個地理區內？  
(A)拉布拉多高原 (B)落磯山脈 (C)北美大平原 (D)阿帕拉契山
- 中南美洲人口分布不均，若將中南美洲的人口分布畫成點圖，則哪個地區的點數應最少？  
(A)低緯度的高地 (B)安地斯山脈北段山間盆地 (C)南美洲東南沿海地區 (D)溼潤多雨的亞馬孫盆地
- 巴拿馬運河是世界唯一的聯洋運河，關於該運河的敘述，下列何者「錯誤」？  
(A)連接太平洋與印度洋 (B)切穿中美地峽山地 (C)紐約到東京的商船經由此處可縮短距離 (D)位於巴拿馬境內
- 巴拿馬運河設置水閘以控制水位高低，船隻通過相當費時，水閘門設置的原因和下列何項最相關？  
(A)多雨導致水位過高 (B)為了收取通行費 (C)反恐檢查 (D)地勢起伏大
- 阿勳追蹤美國神祕事件時發現蘇必略湖中有 50 年前離奇失蹤的一架戰鬥機。蘇必略湖為美國、加拿大交界的五大湖之一，請問根據位置判斷，其湖泊成因最可能為何？ (A)溶蝕作用 (B)風蝕作用 (C)冰蝕作用 (D)火山作用
- 承上題，若阿勳想從大西洋經由水運進入蘇必略湖進行更進一步的調查工作，可以藉助連接五大湖的那一條河川？  
(A)密西西比河 (B)聖羅倫斯河 (C)亞馬孫河 (D)拉布拉他河
- 巴西嘉年華會是信徒們在大齋節前最後幾天可以縱情歡樂的日子，請問：該地主要的宗教信仰為何？  
(A)印度教 (B)伊斯蘭教 (C)東正教 (D)天主教
- 美國堪薩斯州到了哪個季節恐怕得特別防範當地常見的龍捲風？  
(A)春、夏之交 (B)夏、秋 (C)秋、冬之交 (D)冬、春
- 為鞏固我國中美洲邦交國，阿哲決定前往中美洲宏都拉斯、尼加拉瓜等國進行訪問。阿哲若通曉下列何種語言，最有助於和當地人民的溝通？(A)法語 (B)德語 (C)西班牙語 (D)葡萄牙語
- 智利的阿他加馬沙漠 (Atacama) 被譽為世界上最乾旱地方，沒有光害和污染，使這裡成為三大國際天文監測站的基地，造成該地乾熱的原因有哪些？  
(甲)涼流經過沿海 (乙)高壓帶籠罩 (丙)距海遙遠 (丁)位於西風的背風側  
(A)甲乙 (B)甲丙 (C)乙丙 (D)甲丁
- 附圖一為地球緯線簡圖。圖中哪條緯線「未經過拉丁美洲」？(A)A (B)B (C)C (D)D
- 北美洲耕地面積廣大，下列關於美國農業耕作型態的說明何者正確？  
(A)農場內作物種類極為多樣 (B)農場經營方式集約  
(C)單位面積的生產量較亞洲農場低 (D)糧食作物缺乏
- 美國面積遼闊，關於其經緯度位置標示，下列何者正確？  
(A)  (B)  (C)  (D) 
- 承上題，根據美國的經緯度位置，下列敘述何者正確？  
(A)美國四季變化與台灣相反 (B)美國的時間比台灣慢  
(C)美國國土大多位於熱帶氣候區 (D)美國本土東西兩側的時差有 5 小時
- 美國賭城拉斯維加斯，位居美國西南部內華達州南端的小綠洲上，處於各大沙漠的中央，其氣候乾燥的主因為何？  
(A)加利福尼亞涼流經過 (B)位於信風背風側 (C)位居內陸 (D)副熱帶高壓籠罩



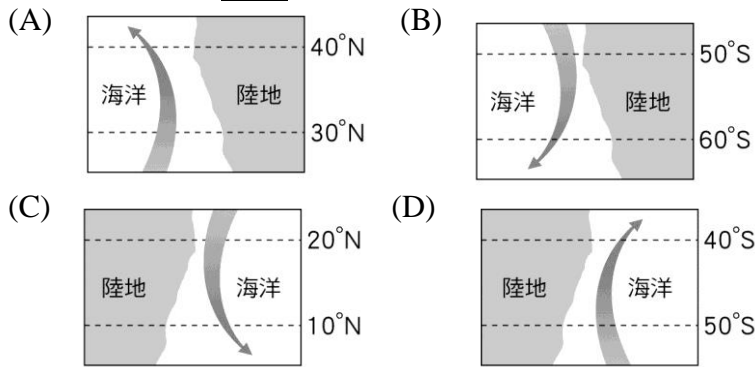
圖一

17、南美洲生產咖啡、香蕉、可可等熱帶作物的農業區，農產品經初級加工後大量運銷國外。依附圖中的三種指標加以分類，上述農業形態最可能屬於圖二中哪一種農業類型？(A)甲 (B)乙 (C)丙 (D)丁

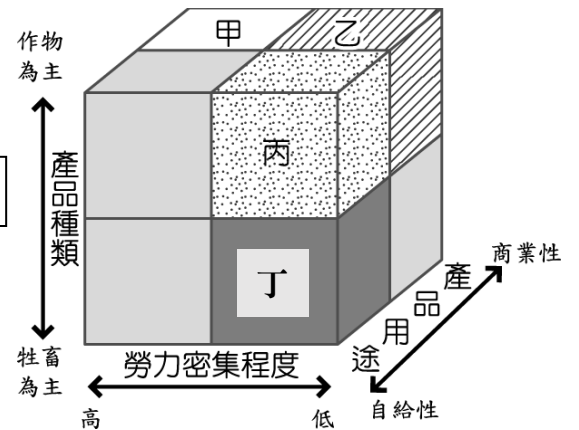
18、中南美洲都市人口比例偏高的主要因素為下列何者？

(A)國家經濟發達 (B)政府鼓勵移民 (C)鄉村十分貧困 (D)都市國宅數量多

19、下列哪道洋流屬涼流性質，容易造成沿海地區乾燥少雨？



圖二



圖三

20、附圖三為某地的氣候圖。關於此氣候圖的敘述，下列何者正確？

(A)夏雨冬乾的熱帶莽原氣候 (B)夏乾冬雨的溫帶地中海型氣候  
(C)多雨的熱帶雨林氣候 (D)適合發展農、牧的草原氣候

21、承上題，此地最可能位於下列何處？

(A)彭巴草原 (B)智利中部 (C)巴西高原 (D)亞馬孫盆地

22、南美洲不易見到哪個族群？(A)歐裔白人(B)非裔黑人(C)印地安人(D)因紐特人

23、最近全台灣豬色變，對於非洲豬瘟的防疫相當謹慎。更早在 2001 年，各國也曾因 20 世紀末狂牛症爆發肆虐，對美國牛肉的進口進行管制。美國飼養肉牛的畜牧區主要是位於乾燥氣候區域，請問是位於圖四中何處？

(A)甲 (B)乙 (C)丙 (D)丁

24、西元 1912 年豪華郵輪鐵達尼號由歐洲出發，因撞到冰山，在加拿大外海沉船。據科學家研究，當年這些冰山主要來自格陵蘭島，並順著洋流南下，此洋流應該是圖五中哪一道洋流？(A)甲 (B)乙 (C)丙 (D)丁

25、承上題，西元 2010 年美國密西西比河河口發生鑽油平臺斷裂事件，大量石油外洩，這些漂浮的油汙極有可能順著圖五中哪條洋流漂流擴散？(A)甲 (B)乙 (C)丙 (D)丁

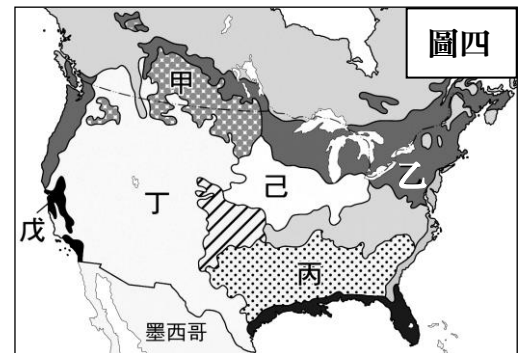
26、西元 2017 年某國家基本資料的介紹如下：

- 面積：全球排名第 5
- 人口：全球排名第 5
- 出口項目：鐵礦、蔗糖、汽車等

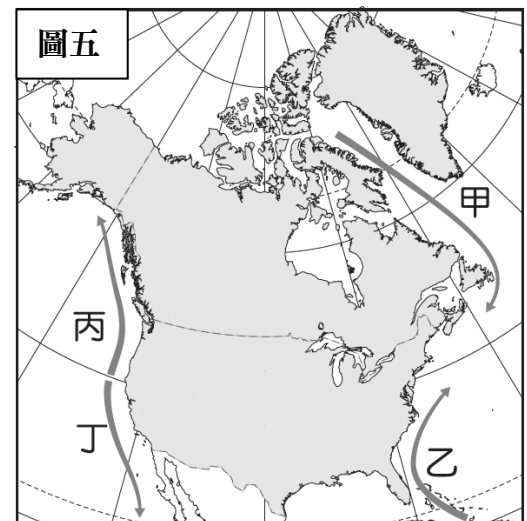
請問：該國最可能是下列哪個國家？(A)智利 (B)巴西 (C)加拿大 (D)阿根廷

27、依據圖六氣候圖判斷，此氣候類型應該分布於圖七中何處？

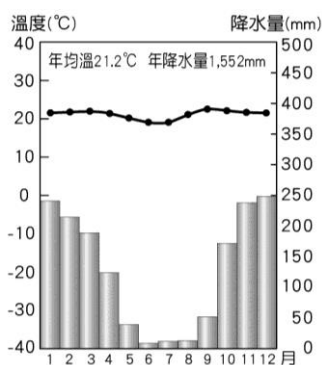
(A)乙 (B)丙 (C)戊 (D)己



圖四



圖五



圖六



圖七

【題組】

2018年10月，來自中美洲瓜地馬拉、宏都拉斯、薩爾瓦多等三國數千位移民，組成了壯觀的遷徙行伍，成群結隊地北上，前往美國尋找新的棲身之所。2019年1月預估會有一個規模更大的篷車隊伍將前往美國。這些在國內遭受貧困和黑幫暴力的民眾一路北上，想尋求美國的庇護。部份拉美年輕人表示，他們是嚮往美國文化而隨著大篷車的移民潮北上，想實現他們的「美國夢」。但人蛇集團常利用他們進行掩護，安排毒品和重要人物入境，美國總統川普因此強硬推動多項反移民政策，並要求國會批准他的邊境築牆經費提案。



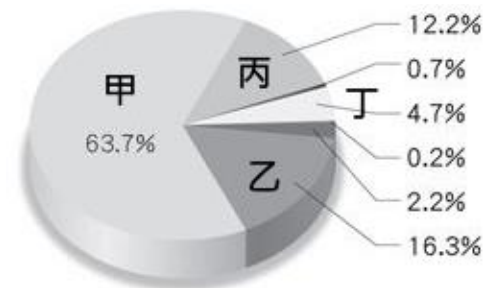
28、參考圖八的遷移路線，關於這些北漂移民沿路經過的區域，下列敘述何者「正確」？

- (A)位於板塊接觸帶，沿路可以遠望不少山地 (B)可以沿著密西西比河沖積的平原北上到美墨邊境  
(C)會經過巴拿馬運河，看到利用水閘門調節水位的奇景 (D)抵達墨西哥時因為主要語言不相同，不易溝通

29、美國原來就有不少的拉丁美洲移民，這些拉丁美洲移民在圖九「美國人口組成比例圖」中，應該是屬於下列何者？

- (A)甲 (B)乙 (C)丙 (D)丁

圖九



30、穿著寬鬆低腰短褲，留著美國嘻哈音樂人一樣的髮型，夾雜在移民潮中的馬丁尼茲希望能進入美國加州，一睹美國洛杉磯好萊塢等音樂或電影重鎮，那是他們心目中「美國夢」的樣子。請問馬丁尼茲若能順利在1月份前往加州，較容易遇到何種天氣狀況？ (A)颶風侵襲 (B)龍捲風侵襲 (C)降雨機率高 (D)進入乾季

31、馬丁尼茲說：「我還想去邁阿密，因為在《玩命關頭》電影中看起來非常吸引人。」依據圖中邁阿密的位置，下列關於邁阿密的氣候描述何者正確？

- (A)背西風，氣候乾燥 (B)暖流經過，氣候暖濕 (C)行星風帶季移，夏雨冬乾 (D)終年西風吹拂，全年有雨

32、也在移民潮中的隆梅希雅說她最夢寐以求的事，就是到紐約街頭看看市區的街景和摩天大樓。關於紐約的敘述，下列何者正確？

- (A)位於太平洋沿岸，早年淘金熱擁入大量華人 (B)盛產石油，為石油產業重鎮  
(C)位於板塊接觸帶，多地震、火山活動 (D)為美國第一大城市，世界金融中心

33、「馬丁尼茲說他逃離自己的家園，是因為薩爾瓦多的幫派和治安問題非常嚴重。」隆梅希雅說她想找份穩定的工作、有穩定收入、租房子並擁有醫療保障，這是在宏都拉斯做不到的事情。」依據上述，下列哪一項「並非」美國吸引移民的拉力？ (A)福利政策佳 (B)安定的社會 (C)較高的薪資 (D)原鄉就業機會少

34、據說是因為民族混血的關係，拉丁美洲男女輪廓特別深刻，彷彿雕像一般。請問這些拉丁美洲移民血統較可能為哪些歐裔移民和當地原住民與非裔移民的混血？

- (A)法國、英國 (B)荷蘭、比利時 (C)西班牙、葡萄牙 (D)義大利、希臘

35、宏都拉斯等中美洲國家的貧困，和殖民地式的經濟型態有關，關於當地的農業型態描述，下列何者「錯誤」？

- (A)全國經濟仰賴香蕉、咖啡等作物出口 (B)大量外銷糧食作物，導致國內缺糧  
(C)需仰賴跨國企業銷售，經濟易受操控 (D)易受國際市場價格波動影響

36、美國總統川普的美墨邊境築牆提案，至少得花費數十億美元。築「牆」之前，美墨邊境除了簡單柵欄外，還有一些自然障礙。除了山谷之外，美墨邊境最可能出現的自然障礙應該為下列何者？

- (A)雨林 (B)冰蝕湖 (C)雪地 (D)沙漠

37、在美國邊界移民引發的暴動之後，美國總統川普警告墨西哥若不驅逐移民，打算將美墨邊境「對經濟而言相當重要的通行管道永久封閉」。墨西哥近年成為企業設廠投資，產品就近輸入美國的跳板，下列何者為企業考量在墨西哥設廠的重要條件？ (A)地近巴拿馬運河 (B)農礦原料充足 (C)美墨關稅優惠 (D)水力資源充沛

【題組】

南美洲國家厄瓜多，有一座由中國廠商承包建設的大壩，座落於亞馬孫叢林內，臨近雷文塔多火山。大壩於 2016 年完工運轉至今 2 年來，裝置的機械操作設施就出現 7648 道裂縫，地質學家對大壩所在地的脆弱地質發出警告。此外《紐約時報》披露「科卡科多-辛克雷水電站」原本是為了滿足厄瓜多的能源需求，幫助這個南美小國脫貧，但它卻讓國家陷入高額危險債務。中國透過借貸厄瓜多近 190 億美元，換取厄瓜多 80% 石油，這些借貸是為了供建造橋樑、高速公路、灌溉系統、學校、衛生診所，以及厄瓜多其他 6 座大壩建設。

- 38、由大壩「臨近雷文塔多火山」推測，下列關於大壩的敘述何者正確？  
(A)位於南美洲偏西側 (B)位於巴塔哥尼亞高原 (C)位於板塊中央 (D)位於巴西高原
- 39、由大壩「座落於亞馬孫叢林內」推測，下列關於大壩的敘述何者正確？  
(A)位於回歸線附近 (B)當地氣候夏乾冬雨 (C)以疏林草原景觀為主 (D)位於赤道附近
- 40、為了償還中國貸款，厄瓜多得抽取更多的石油，於是在亞馬遜叢林進行更深探鑽。然而大規模砍伐此地天然植被將導致嚴重環境破壞。請問此地的「天然植被」指的是下列何者？(A)針葉林 (B)莽原 (C)溼草原 (D)雨林
- 41、承上題，大規模砍伐此地天然植被將導致的環境破壞，應該包含以下哪些？  
(甲)加劇溫室效應 (乙)許多動植物面臨滅絕 (丙)增加全球二氧化碳的濃度 (丁)土石流發生頻率增加  
(A)甲乙丙 (B)甲乙丁 (C)甲丙丁 (D)乙丙丁。
- 42、若要監控此地天然植被消失程度的變化，可以透過何種地圖工具的前後比照？  
(A)分層設色圖 (B)衛星影像 (C)地形剖面圖 (D)等高線地形圖
- 43、透過灌溉系統建設，有助於厄瓜多農業發展，當地除了香蕉、咖啡、可可等作物外，下列何者亦為重要農產？  
(A)小麥 (B)橄欖 (C)棉花 (D)甘蔗
- 44、厄瓜多經濟衰退，起因於殖民式經濟型態，高度仰賴一兩種農礦產品輸出，可能造成何種問題？  
(A)原料不足 (B)市場風險大 (C)勞動力不足 (D)交通運輸不便
- 45、中國以「貸款換石油」的方式，也出現在南美洲另一個重要產油國，該國為 OPEC 成員之一，但該國最近出現產油危機，欠中國 300 多億美元可能無法償清。請問上述的國家最可能為下列何者？  
(A)委內瑞拉 (B)智利 (C)墨西哥 (D)伊朗

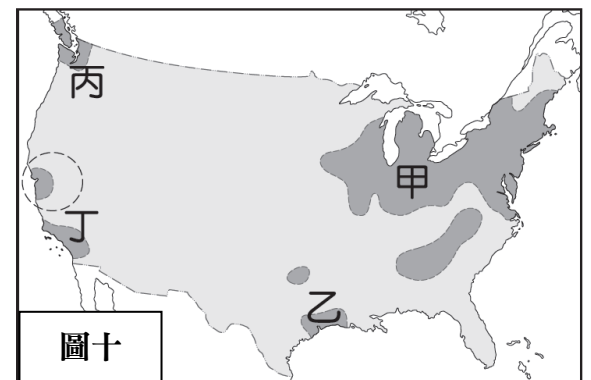
【題組】2018 年 11 月美國、墨西哥、加拿大簽署新的自由貿易協定-美墨加協定 (USMCA)，  
這個新協定將改變 1994 年以來三國貿易的遊戲規則。

- 46、在新協定 (USMCA) 獲得批准前，三國之前的自由貿易協定仍然有效。  
請問舊有的貿易協定指的是下列何者？

(A)OPEC (B)WTO (C)NAFTA (D)ASEAN

- 47、新協定中，提高了汽車零件在三國生產的比例，以創造汽車產業在三國更多的就業機會。請問該規定將有利於美國哪一個工業區的發展，該區因為靠近原料產地，也是美國發展較早的工業重鎮？(根據圖十)

(A)甲 (B)乙 (C)丙 (D)丁



- 48、在新協定裡為了避免汽車產業的就業機會大量流向低薪地區，特別提高三國中某成員國工人時薪。此作法是擔憂汽車產業會向哪個方向移動？ (A)← (B)↑ (C)→ (D)↓
- 49、在新協定裡也爭取到加拿大乳品市場的開放，讓美國農民得以銷售更多乳製品到加拿大。此協定批准後將使得美國何處的酪農受惠(根據圖十)？(A)甲 (B)乙 (C)丙 (D)丁
- 50、新協定中，墨西哥爭取對自家石油擁有直接、不可剝奪的經營權，根據圖十，該資源美國在何處亦有生產？  
(A)甲 (B)乙 (C)丙 (D)丁

END