

桃園市立大有國民中學 107 學年度第二學期第一次評量試卷

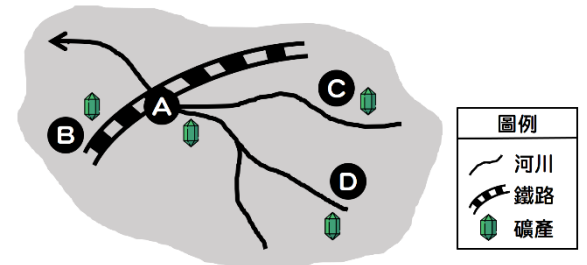
年級	七	考試科目	地理科		命題範圍	L1、L4	作答時間	45分
班級		姓名		座號	分數			

一、單選題 (共 30 題，每題 2.5 分，共計 75 分)

1. () 「宇倫國中在本學期有許多轉學生轉入」，因而就宇倫國中的人口系統而言，哪些數據會因上述原因而改變？
 (甲)移入率 (乙)移出率 (丙)出生率 (丁)死亡率 (戊)自然增加率 (己)社會增加率 (庚)人口增加率
 (A)甲乙 (B)甲乙己 (C)戊己庚 (D)甲己庚

2. () 承上題，當今全球人口快速上升，主要和地球人口系統中哪些數據的上升有關？ (A)丙丁 (B)丙丁戊 (C)丙戊庚 (D)甲丙庚

3. () 早期都市聚落的形成，多與該地的礦產資源多寡和交通位置優劣相關。若僅依照上述兩種條件，右圖中的哪一地點有機會發展出規模最大的都市？
 (A)A點 (B)B點 (C)C點 (D)D點



4. () 都市化程度越高，通常反映出該地有較高的經濟水準，然而都市化卻也可能對都市本身產生一些負面衝擊。下列何者不屬於都市化對都市本身造成的衝擊？ (A)人口老化 (B)環境汙染 (C)交通壅塞 (D)公共建設不足

5. () 都市化是指鄉村人口往都市集中的過程。此種現象的產生，與下列哪兩種驅力較為相關？
 (甲)都市拉力 (乙)都市推力 (丙)鄉村拉力 (丁)鄉村推力
 (A)甲、乙 (B)甲、丙 (C)甲、丁 (D)乙、丙

國家	出生率	死亡率	人口增加率
小昀國	5 ‰	2 ‰	0 ‰
小嬋國	11 ‰	7 ‰	1 ‰
小楚國	3 ‰	9 ‰	-4 ‰
小軒國	2 ‰	3 ‰	-3 ‰





6. () 右表為某四個國家的人口統計數據，請問哪一個國家的社會增加率為正值？ (A)小昀國 (B)小嬋國 (C)小楚國 (D)小軒國

7. () 臺南擁有許多集村，其主要成因不包含下列何者？ (A)治安較佳 (B)地勢較為平坦 (C)水源較為缺乏 (D)舊有王田、官田等開墾制度

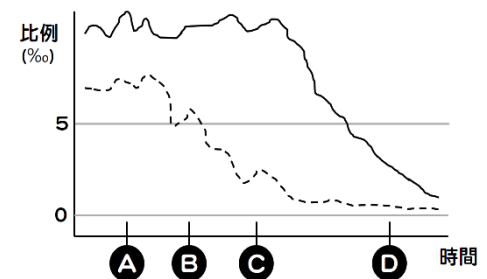
8. () 下列關於都市與鄉村的比較，何者正確？ (A)都市面積較鄉村大 (B)都市人口密度通常較鄉村高 (C)都市居民均從事二、三級產業 (D)鄉村分為集村、散村；都市則分為集中型都市、分散型都市

9. () 鐵道迷宣亦打算到外縣市進行鐵道之旅，下列哪個縣市是較為理想的地點？
 (A)澎湖縣 (B)臺東縣 (C)連江縣 (D)以上地點皆較偏遠，無鐵路分布，故均不適合

10. () 早期政府曾有興建「中部橫貫鐵路」的計畫，該鐵路路線計畫自臺中橫向直通至花蓮，然而最後因建設困難及經費過高而作罷。請問此建設的「困難之處」，與鐵路的何種特性較為相關？ (A)運費較高 (B)機動彈性差 (C)較適合長程運輸 (D)適應地形能力較差

11. () 承上題，臺灣雖無「中橫鐵路」，卻建有省道「中橫公路」。請問依照中橫公路的道路類別、道路方向判斷，該省道的標誌應為下列何者？ (A)  (B)  (C)  (D) 





12. () 右圖為某國的出生率、死亡率變化示意圖。其中實線為出生率，虛線為死亡率。若該國無社會增加率的變動，則關於該國人口成長的描述，何者正確？ (A)出生率不斷下降，因此自然增加率為負值 (B)A B C D 四個時間點中，C 的人口成長速度最快 (C)時間點 C 為該國總人口數最多時刻 (D)在時間點 A，該國的人口結構最接近彈頭型金字塔



13. () 右圖為臺灣支線鐵路分布圖，下列關於臺灣支線鐵路的描述，何者正確？ (A)支線鐵路主要分布在平原地形之上 (B)甲支線現以放天燈的活動聞名，主要位在宜蘭縣 (C)丁支線現為重要的林業開採鐵路，每年運送大量林木下山 (D)支線鐵路早期為開採資源而建，現多已轉為觀光鐵道



14. () 臺灣近代有少子化與高齡化的問題，下列各種現象，何者與上述人口問題的關聯最小？ (A)晚婚與不婚現象普遍 (B)醫療進步壽命延長 (C)偏鄉人口老化較都市嚴重 (D)來臺外籍家庭看護工人數上升

- 15.()筠鈞在臺灣地圖上以不同的比例尺框出一樣的範圍。若範圍中的每點均代表 10 人，則哪一個地區的人口密度最高？ (A)  (B)  (C)  (D) 

櫻宅成員	
櫻桃子(小丸子)	9歲
櫻早紀子(小丸子姐姐)	11歲
小林堇(小丸子媽媽)	40歲
櫻宏志(小丸子爸爸)	40歲
櫻小竹(小丸子奶奶)	72歲
櫻友藏(小丸子爺爺)	76歲

- 16.()右表為櫻家成員及其年齡之資料，請問櫻家的扶養比為多少？
 (A)50% (B)100% (C)150% (D)200%
- 17.()承上題，請問櫻家的性別比為多少？ (A)0.5 (B)50 (C)92 (D)100
- 18.()下列各項政策，何者並非針對我國「人口年齡結構失衡」的問題而提出？

- (A)推廣育嬰假 (B)縮小城鄉差距 (C)推行老人安養政策 (D)鼓勵企業附設幼稚園

- 19.()躍糖國內僅有小躍與小糖兩個聚落，右側為其三級產業的比例表。根據右表，下列敘述何者錯誤？ (A)小躍聚落應為都市 (B)小糖聚落能提供較多的農產 (C)小躍聚落能提供較多的醫療、教育資源及工作機會 (D)若都市拉力大造成人口移動，則小躍聚落的人口應會移往小糖聚落

產業／聚落	小躍聚落	小糖聚落
第一級產業	13%	68%
第二級產業	17%	21%
第三級產業	70%	11%

- 20.()臺灣的人口分布極不平均，造成此種現象的主要原因不包括下列何者？ (A)氣候條件的差異 (B)地形條件的差異 (C)工作機會的多寡 (D)開發的早晚
- 21.()下列關於臺灣人口成長現狀及原因的描述，何者正確？ (A)臺灣人口目前有負成長的趨勢 (B)死亡率的降低是臺灣人口成長趨緩的主因 (C)經濟發展及教育水準提升會間接影響臺灣的出生率 (D)留學生來臺求學是臺灣社會增加率略為提高的最主要因素

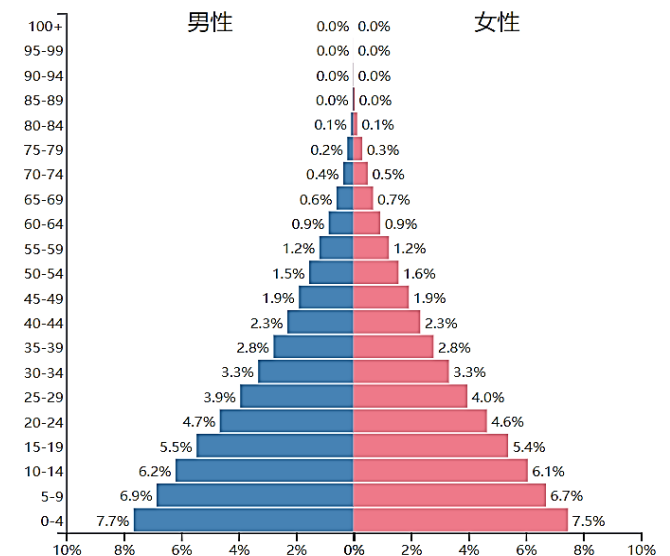
- 22.()各國的政府通常會依照該國的人口結構及其變化情形，提出相關的政策口號，右表即為我國在不同年代的口號變化。請問從政府隨時代變更的口號中，可以得知臺灣的人口有下列哪一項變化趨勢亟需改善？ (A)死亡率逐年下降 (B)壯年人口性別比嚴重失衡 (C)出生率逐年降低 (D)城鄉人口分布不均

民國58年	子女少、幸福多。
民國90年	兩個孩子恰恰好。
民國99年	孩子是我們最好的傳家寶。

- 23.()承上題，政府積極想改善此種人口問題，主要的目的為何？ (A)致力提升幼年人口性別比 (B)減緩鄉村人口流失 (C)避免未來扶養比過度攀升 (D)致力提升婦女平均生育年齡

- 24.()右圖為某國的人口金字塔圖。請問根據此圖，何者說明正確？

- (A)此國的人口結構與我國目前相近 (B)此國幼年人口性別比小於一百
 (C)此國幼年人口多，因而人口成長迅速 (D)此國出生率、死亡率皆高
- 25.()關於臺灣捷運的描述，何者錯誤？ (A)具有短程、速度快的特徵
 (B)主要目的在取代易有塞車問題的公路運輸 (C)擁有專用的行車軌道
 (D)臺北、新北、桃園、高雄等直轄市皆已有捷運路線的分布



- 26.()基隆港為北部的重要港口，下列何者並非基隆港之特色？ (A)時常陰雨，易影響貨物裝卸 (B)丘陵環繞，腹地較南部的高雄港狹小 (C)為岬灣改建之天然良港 (D)港口外側的沙洲能阻擋海浪，因此港內較風平浪靜

- 27.()右表為某四個國家的出生率及出生人口數資料。依照此數據，何者的人口總數最高？ (A)倍嘉國 (B)華修國 (C)子柔國 (D)漢好國

	出生率	出生人口數
倍嘉國	1 ‰	10000人
華修國	2 ‰	10000人
子柔國	5 ‰	10000人
漢好國	10 ‰	10000人

- 28.()下列關於人口密度的描述，何者正確？ (A)人數較多的地區人口密度就較大
 (B)若兩地面積相同，則人數較多者，人口密度反而較低 (C)若兩地人數相同，則土地面積較大者，人口密度反而較低
 (D)俄羅斯人口高達 1.4 億，因此人口密度極高

- 29.()上課時，老師請同學說明「都市化程度 80%」所反映出的事實為何，下列哪位同學的理解是正確的？

- (A)湯甯：「該國都市繁榮程度排名世界前 20%。」 (B)燁儒：「該國土地面積有 80%屬於都市的範圍。」
 (C)子瑩：「該國有 80%的民眾從事第二、三級產業。」 (D)振華：「該國只有 20%人口居住於鄉村地區。」

- 30.()關於高速鐵路的敘述，何者正確？ (A)北自臺北，南至屏東，其路線貫穿臺灣西半部的首尾 (B)其興建將使臺鐵縱貫線的營運受到一定程度的衝擊 (C)航空業者可能會調升機票價格以利和高鐵業者競爭 (D)福爾摩沙高速公路的運輸量可能因其興建而上升

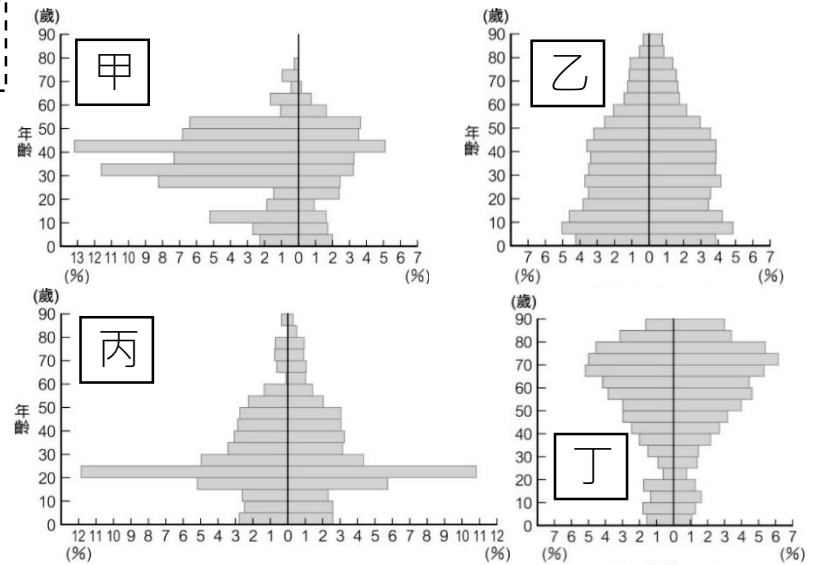
二、題組題 (共 10 題，每題 2.5 分，共計 25 分)

右側為某四座都市的人口金字塔圖，請依照右圖回答下列問題。

- 31.()致勤市為當地知名的文教區，設有非常大量的大學，許多青年學子紛紛移居至此地求學。請問致勤市的人口金字塔最近似何者？ (A)甲 (B)乙 (C)丙 (D)丁

- 32.()佑承鄉位置偏遠、環境清幽，有如世外桃源，為世界知名的養老天堂。請問佑承鄉的人口金字塔最近似何者？ (A)甲 (B)乙 (C)丙 (D)丁

- 33.()崇驛鎮有豐富的煤礦，整座城鎮的產業都圍繞著採礦而生，鄰近市鎮的壯年男子多移居至此謀生，留下妻小於原鄉。請問崇驛鎮的人口金字塔最近似何者？ (A)甲 (B)乙 (C)丙 (D)丁



右圖為典型的三種人口金字塔圖，請參考右圖並回答下列問題。

- 34.()若國家內沒有發生特殊的社會、經濟變動，一般國家的人口金字塔隨著時間推移，大部分會呈現何種變化順序？

- (A)甲→乙→丙 (B)乙→甲→丙 (C)丙→乙→甲 (D)若無特殊社會、經濟變動，人口金字塔就不會隨時間而改變

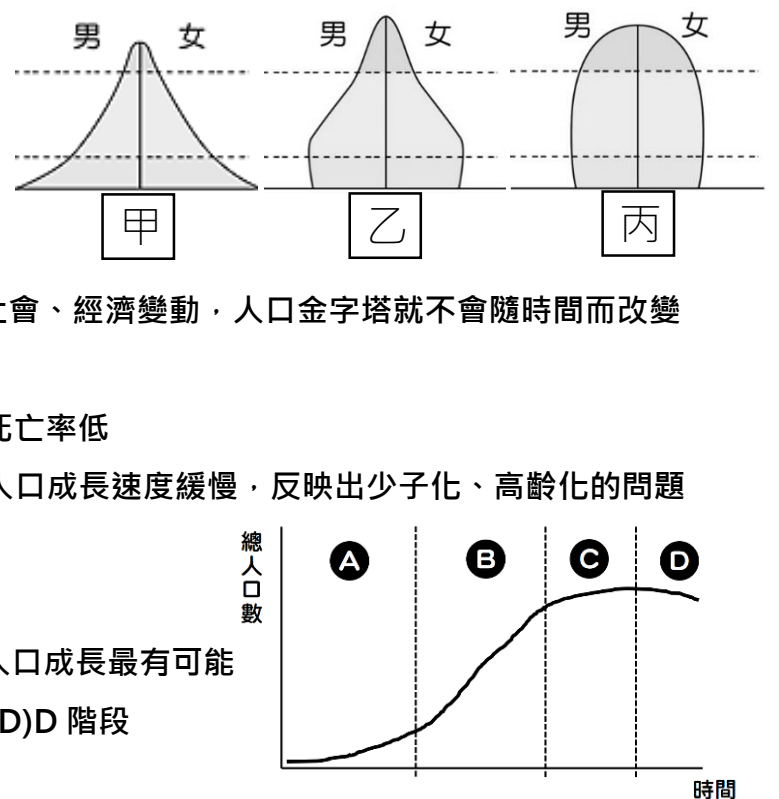
- 35.()下列關於甲、丙兩種人口金字塔的描述，何者錯誤？

- (A)甲金字塔：出生率高、死亡率低 (B)丙金字塔：出生率低、死亡率低
(C)甲金字塔：人口成長速度緩慢，經濟不發達 (D)丙金字塔：人口成長速度緩慢，反映出少子化、高齡化的問題

- 36.()此三種金字塔類型中，何種金字塔類型的扶養比最低？

- (A)甲金字塔 (B)乙金字塔 (C)丙金字塔 (D)三者扶養比相同

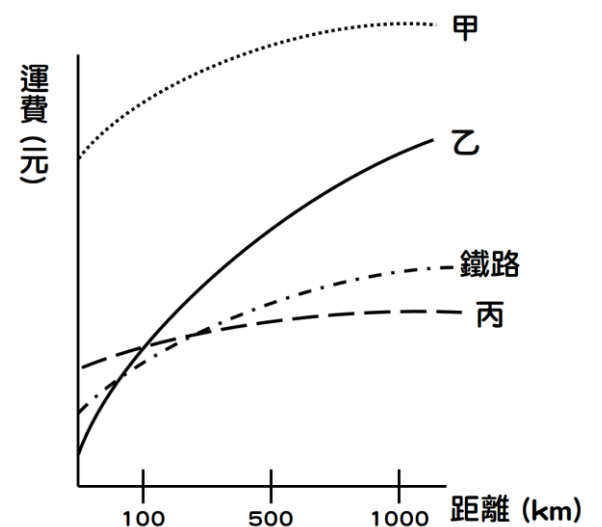
- 37.()若某國的人口金字塔屬於「乙金字塔」的類型，則該國的人口成長最有可能處於右圖中的哪個階段？ (A)A 階段 (B)B 階段 (C)C 階段 (D)D 階段



右圖為某地區的鐵路、公路、空運，與水運等四種交通方式的距離及運費關係圖，請根據右圖回答下列問題。

- 38.()從法國採購捷運車廂到臺灣，應使用何種交通方式較為合適？

- (A)甲 (B)乙 (C)丙 (D)鐵路
39.()從彰化縣運送鮮乳到大有國中，應使用何種交通方式較為合適？
(A)甲 (B)乙 (C)丙 (D)鐵路
40.()從美國運送 iPhone 到臺灣，應使用何種交通方式較為合適？
(A)甲 (B)乙 (C)丙 (D)鐵路



~ 試題結束 ~

交卷前請檢查畫卡是否正確，考卷請務必妥善保管，並寫上答案，以利檢討、訂正