
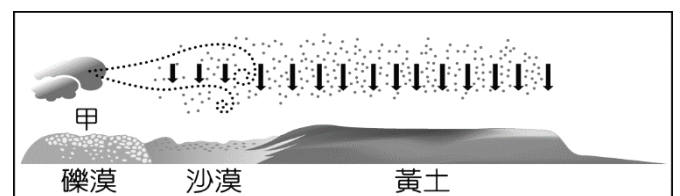
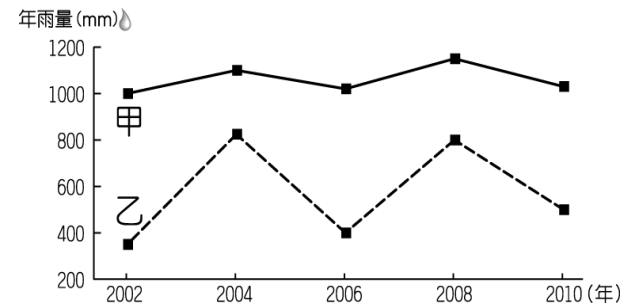


桃園市立大有國民中學一〇七學年度第二學期第一次評量試卷

年級	八	考試科目	地理科			命題範圍	L1~L2	作答時間	45分
班級		姓名		座號		分數			

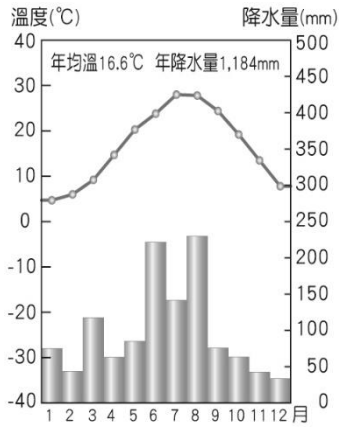
單選題(共 50 題，一題 2 分)

- 下列哪一項不是華南地區成為中國著名僑鄉的原因？(A)地形崎嶇，山多平原少(B)有便利的海運利於移往其他區域(C)早期糧食不足，謀生不易(D)人口稀少，產業不發達
- 下列何者是造成黃土高原表面溝谷散布、崎嶇不平的主要地形作用力？
(A)風力侵蝕 (B)風力堆積 (C)雨水溶蝕 (D)河川侵蝕
- 附圖為中國甲、乙兩地的年雨量變化圖。根據圖中資料判斷，下列有關兩地的比較，哪一個是正確的？
(A)甲地年雨量變率較大 (B)甲地降雨集中夏季
(C)乙地較常發生水、旱災 (D)乙地平均年雨量較多
- 西元 2008 年北京奧運、2010 上海世博以及 2010 廣州亞運，以上三個國際盛事其舉辦地點的共同特色為何？
(A)皆為直轄市 (B)皆位於季風氣候區
(C)一月均溫 > 0°C (D)都市興起與水運發達有關
- 洋山港位於杭州灣口，為上海的外港。請問：此港的建設主要是為了解決上海哪一項問題？
(A)冬季結冰 (B)泥沙淤積 (C)腹地狹小 (D)地層下陷。
- 下列有關中國台灣式海岸的介紹說明，哪一個選項是正確的？
(A)多分布於杭州灣以北 (B)因海水面下降造成 (C)與河川堆積作用有關 (D)沿海多為丘陵地形。
- 中國都市重慶、武漢夏季悶熱難耐，有「中國火爐」之稱，下列何者是造成兩地夏溫偏高的主要原因？
(A)降雨稀少，氣候乾燥 (B)位於北回歸線以南 (C)盆地地形封閉，不易散熱 (D)太陽終年直射。
- 「中國某地區因年雨量變率及降雨強度均大，常有水、旱災，使農產收穫不穩定，因此民間有『大雨大災，無雨旱災』的諺語。」請問：此區最有可能位於圖中哪一個代號區？
(A)甲 (B)乙 (C)丙 (D)丁。
- 「這個地區的氣候冬暖夏熱，雨量適中，生長季長；紫紅色的土壤，非常肥沃。自古以來，水利設施完善，土地利用精密，物產豐饒，兼有南方和北方的作物。」這段話是在描述哪一地區的景觀？(A)華北平原 (B)三江平原 (C)四川盆地 (D)珠江三角洲。
- 大慶、勝利為中國北部重要礦區，依原料區位判斷，下列哪一種工業最適合於此兩地設廠？
(A)石化 (B)紡織 (C)造船 (D)鋼鐵工業
- 附圖為黃土高原的形成示意圖，請根據圖中資料加以判斷，甲處應該為哪一個地形區？
(A)內蒙古高原 (B)塔里木盆地 (C)青藏高原 (D)大興安嶺。
- 承上題，黃土高原的形成與下列哪一個季節風向吹送有關？(A)冬季東北風 (B)冬季西北風 (C)夏季東南風 (D)夏季西南風。
- 下列有關中國各地區的人文景觀介紹，其中哪一項特色的形成與當地的「氣候」條件較無關？
(A)北部地區建築：炕 (B)海南島：干欄式建築 (C)福建：土樓 (D)黃土高原：窯洞。
- 右圖中國某地的地形剖面圖，依據地形起伏與高度判斷，針對地形區甲與乙的敘述何者正確？
(A)甲：傳統交通工具為溜索 (B)甲：人口多集中在壩子
(C)乙：氣溫呈垂直變化 (D)乙：風積作用而成



15. 附圖一為中國某地區的氣候圖。根據其氣溫、雨量的條件判斷，請問：該地區最可能位於附圖二中何處？

(A)甲 (B)乙 (C)丙 (D)丁。



圖一



圖二

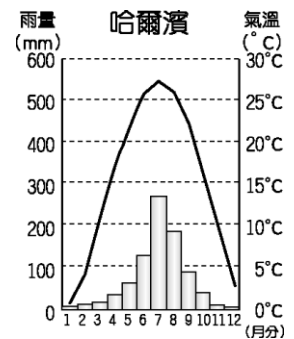
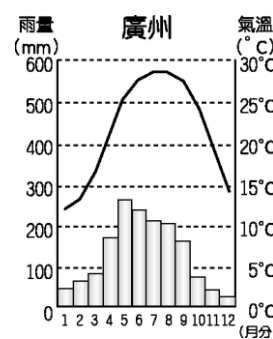
月分	1	2	3	4	5	6	7	8	9	10	11	12
農業活動	蔬菜		一期稻作					二期稻作			蔬菜	

16. 上方附圖為中國某地區的農耕行事曆示意圖，該區一年可以種植兩期水稻和一次短期作物(如蔬菜)。下列有關此區的判斷說明，哪一個選項是正確的？

(A)此區位於秦嶺、淮河以北 (B)年雨量少於 500 mm (C)緯度低，生長季長 (D)冬溫低，旱作農業發達。

17. 下列有關長江三角洲的介紹，哪一項是正確的？

選項	舉例	說明
(A)	位置	河川由山地進入平原處
(B)	成因	由河川堆積作用形成
(C)	氣候	熱帶季風氣候
(D)	諺語	湖廣熟，天下足



18. 附圖為廣州及哈爾濱的氣候圖，由圖中可看出哈爾濱的年溫差較廣州大，下列何者是最主要的影響因素？

(A)緯度高低 (B)地勢高低 (C)距海遠近 (D)季風風向。

19. 都市發展與交通息息相關，大都市常位在各種交通方式交會的樞紐上。

小明整理中國大連、北京、上海、重慶的交通方式，將其歸納成附表的四種類型。下列對於上述四個都市與附表的對應，何者正確？

(A)北京為甲類 (B)重慶為乙類 (C)上海為丙類 (D)大連為丁類。

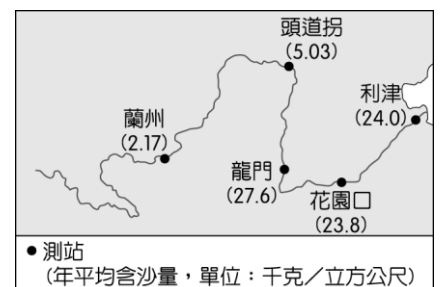
類型	交通方式
甲	鐵路—公路樞紐
乙	海運—鐵路—公路樞紐
丙	河運—鐵路—公路樞紐
丁	河運—海運—鐵路—公路樞紐

20. 下列哪一組之間的地理分界線，大致接近中國一月 0°C 等溫線？

(A)華南、華中地區分界 (B)華中、華北地區分界 (C)華北平原、黃土高原分界 (D)海河、淮河分水嶺

21. 下列中國哪兩個重工業發達地區因面臨礦產逐漸枯竭、工廠設備老舊、昔日國營事業生產缺乏效率等問題，迫切需要轉型，目前正積極發展高科技工業？(A)華中、華南地區 (B)華北、東北地區 (C)華北、華中地區 (D)東北、華南地區。

22. 附圖為黃河部分水文測站 1950 至 2010 年實測的年平均含沙量。從圖可知數據在龍門測站發生明顯變化，其主要原因為下列何者？(A)河床高於兩側地面 (B)河川上游興建水庫 (C)河川流經黃土高原 (D)乾季末期河川斷流。

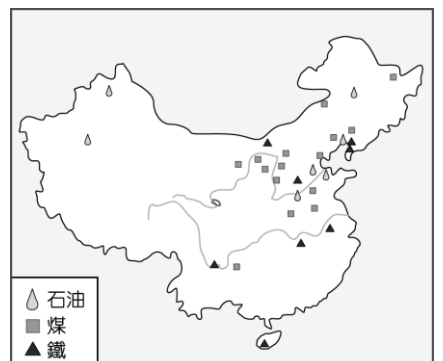


23. 昆明市冬季不冷，夏季不熱，被稱為四季如春的「春城」，其氣候如此宜人，主要是受到上述哪些因素的影響？

(甲)緯度高(乙)緯度低(丙)地勢較高(丁)雨量較多。正確的是(A)甲丙(B)甲丁(C)乙丙(D)乙丁。

24. 附圖為中國煤、鐵、石油的分布狀況。下列中國的地理現象中，何者與此空間分布的關係最密切？

(A)中華文化發源自黃河流域 (B)北部交通運輸以陸運為主 (C)北部的重工業較南部發達 (D)經濟特區皆設於東南沿海。



25. 長江三角洲河湖眾多、渠道縱橫，如附圖所示。下列對於當地湖泊和渠道功能的敘述，哪一項並不適當？

(A)湖泊和渠道開築可減少洪患 (B)湖泊和渠道可建構蓄水灌溉系統 (C)相連的渠溝可增加交通運輸的功能 (D)河流和渠道的高度差可提供水力發電。

【題組】《長白山上》是民國六十年代的一齣連續劇，故事背景選定與台灣本土迥異的中國東北，東北人冰天雪地裡的生活方式、滿足了觀眾的好奇，播出後也獲得許多迴響。請參考右方歌詞回答下列問題。

《長白山上》主題曲歌詞
 長白山上的好兒郎，吃苦耐勞，不怕冰霜。
 伐木採參，墾大荒。老山林內打獵忙。
 長白山的東鄰藏猛虎，
 長白山的北邊有惡狼.....
 掃除妖孽，重建家邦。

26. 歌詞中提到東北人墾大荒的艱辛，早期東北的三江平原稱為「北大荒」，有關此地的敘述何者有誤？

- (A) 人口稀少，開發較晚 (B) 黃河、海河、淮河共同沖積而成
 (C) 中國最北境的平原 (D) 收穫次數年僅一種

27. 東北過去為「北大荒」，今日已轉變為農業發達的「北大倉」，請問最主要的原因為下列何者？

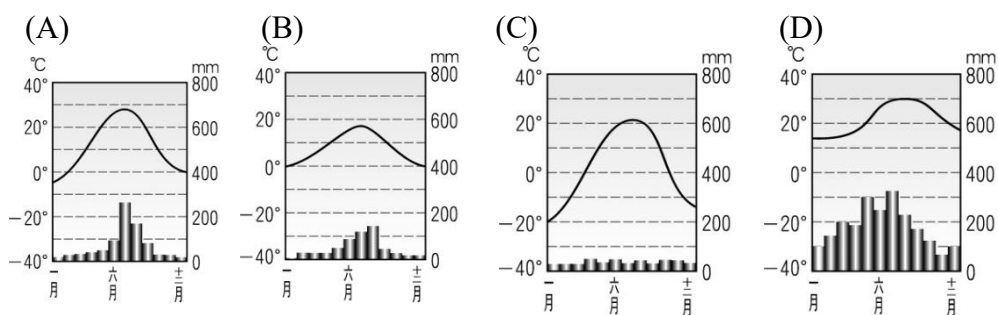
- (A) 人口的大量移入 (B) 重工業發展迅速 (C) 排水與灌溉技術的改善 (D) 鐵路交通便利

28. 歌詞裡提到東鄰藏猛虎，北邊有惡狼，傳達了東北地區曾經受到外國殖民勢力的入侵，請問「東鄰」與「北邊」分別指的是哪兩個國家？ (A) 俄羅斯，日本 (B) 南韓，北韓 (C) 蒙古，俄羅斯 (D) 蒙古，俄羅斯

29. 長白山雨量充足擁有茂密的森林資源，請問造成長白山地雨量較多的原因為何？

- (A) 地勢高低 (B) 盛行風迎風面 (C) 熱對流旺盛 (D) 梅雨鋒面滯留

30. 請問此地的氣候類型符合下列哪張氣候圖？



31. 過去有名的東北三寶為「人蔘、貂皮、烏拉草」，今日因農業的發展增添了許多的農特產品，最可能為下列何者？

- (A) 大豆，甘蔗 (B) 茶葉，棉花 (C) 甘蔗，瓜果 (D) 甜菜，水稻

【題組】中國面臨著許多棘手的環境問題，請看右方地圖回答下列問題：

32. 「水災」是中國歷史上重要的環境問題，圖中哪個地區因民眾的「圍湖造田」，造成湖泊調洪能力大減，導致近年來出現水災頻仍的現象？ (A) 甲 (B) 乙 (C) 丙 (D) 丁。

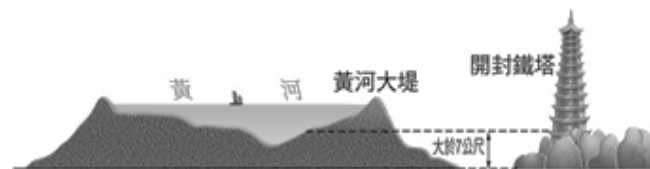
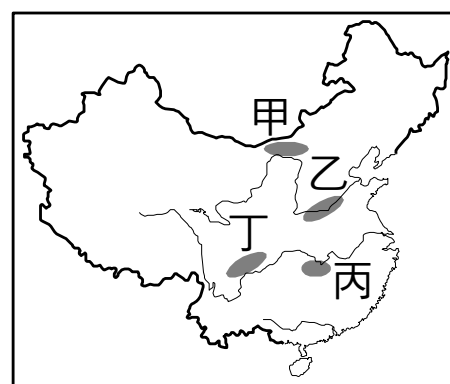
33. 有關下列地點與環境災害的描述，何者正確？ (A) 甲：水、旱災頻傳 (B) 乙：河川斷流 (C) 丙：嚴重沙塵暴 (D) 丁：水土流失嚴重。

34. 長江三峽是長江最驚險的河段，現今中國已在三峽中段截流築壩，三峽大壩是中國近年的重要水利工程之一，也是世界上最大的水利工程。該水庫完工後水位上升河段位於圖中的哪個區域？ (A) 甲 (B) 乙 (C) 丙 (D) 丁。

35. 關於三峽大壩興建的影響，下列敘述何者錯誤？ (A) 生態環境受到破壞 (B) 提升航運價值 (C) 降低洪患威脅 (D) 長江出海口泥沙增加。

36. 請問造成右圖「地上河」的景觀，最主要原因為何？

- (A) 降水變率大 (B) 冬季強風堆積 (C) 河川含沙量大 (D) 中上游興建水庫。



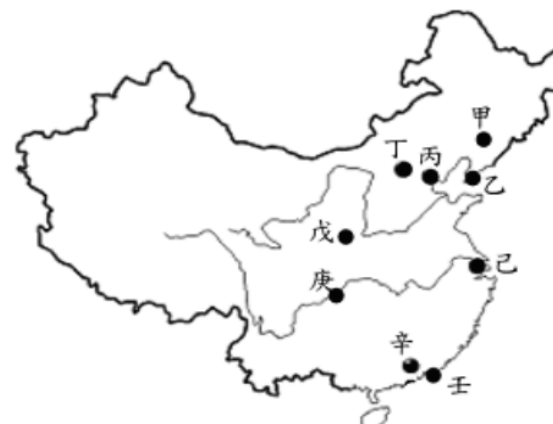
【題組】附圖為中國東半部重要都市分布圖。請問：

37. 中國在圖中的哪一個都市，利用當地豐富的學術資源發展「中關村高科技園區」，有「中國矽谷」之稱？

- (A) 丙 (B) 丁 (C) 己 (D) 辛。

38. 哪一個都市地處丘陵、多雲霧，有「山城」之稱，因三峽大壩的建設而升格為直轄市？ (A) 戊 (B) 己 (C) 庚 (D) 辛。

39. 某個城市擁有異國風情的路面電車，美麗的海灣夜景，是世界重要的轉口貿易港、金融中心，應是圖中哪一個都市？ (A) 丙 (B) 己 (C) 辛 (D) 壬



40.下列有關「乙城市」的整理介紹，哪一項是正確的？

- (A)位於山東半島南端 (B)海河出海口處 (C)屬於京津唐工業區 (D)T字型鐵路沿線重要城市

41.「己城市」百年前還是個小漁村，百年後搖身一變成為國際工商業大都市，這和該地具備哪一項條件最有關係？

- (A)歷史悠久，古都色彩濃厚 (B)水電動力豐沛，能源充足 (C)農礦資源豐富，勞力眾多 (D)位置優越，腹地廣大。

【題組】中國詩人李白一生際遇坎坷，其行跡遍及大江南北，到訪之處留下了許多流傳千古的作品，下方附圖中的代號為主要地理區，圖中虛線為李白一生的遊歷路線圖，請根據附圖回答 42~50 題：

42.李白四歲時與父親遷居至圖中「丙處」，並寫下讚美此地的詩「九天開出一成都，

- 萬戶千門入畫圖，請問關於此地的敘述何者有誤？(A)屬於盆地地形 (B)氣候溫暖、物產豐富 (C)有「魚米之鄉」之稱 (D)屬於西部經濟帶

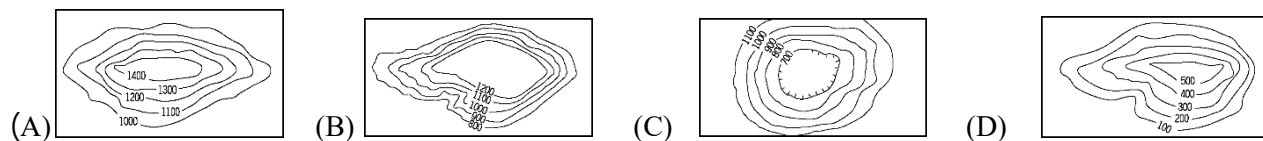
43.李白看見當前美景在黃鶴樓有感而發，寫下詩詞：「故人西辭黃鶴樓，煙花三月下揚州。孤帆遠影碧山盡，唯見長江天際流。」依此詩判斷，黃鶴樓應該位在何處？(A)廣州 (B)北京 (C)昆明 (D)武漢

44.李白在三十歲時受皇帝徵召入宮，由四川前往長安(今西安)，請問他跨過了中國哪條地理界線？(A)長城 (B)太行山 (C)秦嶺 (D)南嶺

45.李白的「將進酒」寫著：「君不見，黃河之水天上來，奔流到海不復回！」黃河不只具有奔流到海不復回的壯闊，更有「地上懸河」的奇景。請問：若想見到此種景觀應到附圖中的何處？(A)甲 (B)乙 (C)丙 (D)丁。

46.李白曾前往山東丘陵的道觀訪道求仙，修練成為道士，位於右方剖面圖中何處？(A)ㄅ (B)ㄆ (C)ㄇ (D)ㄏ

47.李白在亂世之時，避居在江西省(附圖中「丁處」)，請問請問此區地形，為下列何種類型？



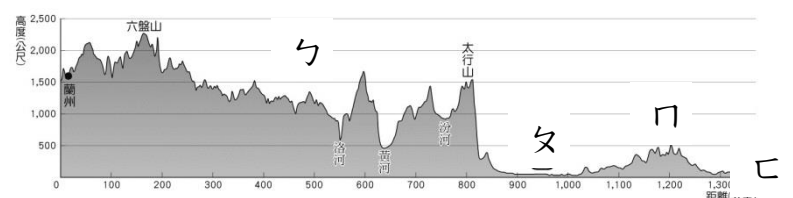
48.李白晚年被貶謫流放至南方「夜郎郡」，這個地方「高原地形但地表崎嶇不平，有許多裂縫與洞穴，使得雨水和土壤滲入地底，形成鐘乳石、石筍等特殊景觀，並嚴重影響農業發展與交通建設」，請問位於附圖中何處？

- (A)甲 (B)丙 (C)丁 (D)戊

49.當李白在貶謫的路上聽到了皇帝的特赦，提筆寫下了「朝辭白帝彩雲間，千里江陵一日還。兩岸猿聲啼不住，輕舟已過萬重山。」詩中描寫李白從四川搭著船順著長江到兩湖盆地，請問「四川盆地」與「兩湖盆地」有許多相同之處何者正確？(A)地勢劃分皆位於第三級階梯 (B)同屬熱帶季風氣候區 (C)因氣候濕熱，愛好吃辣 (D)冬季皆受緯度影響氣溫相同

50.李白大半生都在大半個中國漂泊，也可稱為詩人旅行家，他遊歷過 18 個省市，206 州縣，登過 80 多座山，遊覽過多條江河和 20 多個湖潭，根據地圖中的遊歷路線，請問他主要在活動於中國六大地區中哪些地區？

- (A)華中地區、華北地區 (B)華北地區、東北地區 (C)華南地區、華中地區 (D)華中地區、東北地區



【The End 恭喜你作答結束，不要忘了再檢查一次答案卡，祝考試順利！！】