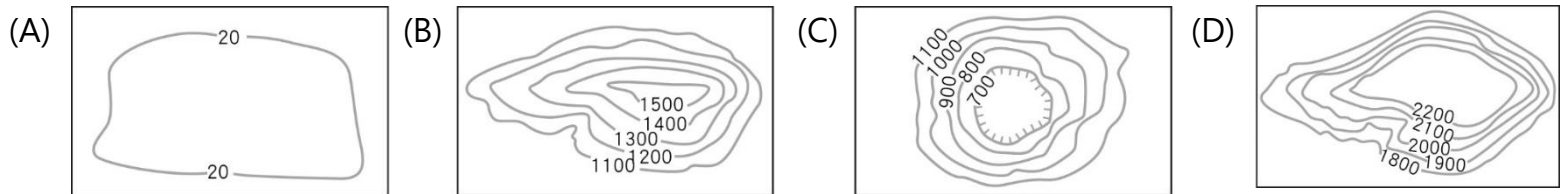


桃園市立大有國民中學 107 學年度第二學期第一次評量試卷

年級	九	考試科目	地理			命題範圍	L1 非洲 L2 大洋洲與兩極地區	作答時間	45 分
班級		姓名		座號		分數			

選擇題共題，一題分

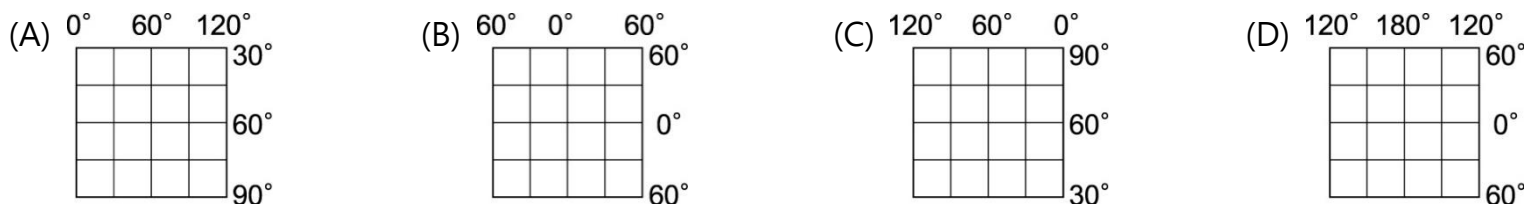
() 1. 非洲面積 3,000 萬餘平方公里是全球第二大洲，請問其整體的地形以下列何者為主？



() 2. 被比喻為「地球上最大的傷疤」的東非大裂谷主要是受到下列哪一項地形作用力所形成的？(A)斷層陷落 (B)冰河侵蝕 (C)河流侵蝕 (D) 風力侵蝕。

() 3. 東非大裂谷的成因與下列哪個地理區的成因相同？(A)中國河西走廊 (B)紐西蘭峽灣 (C)太魯閣峽谷 (D)野柳女王頭。

() 4. 同學需利用以下四張經緯度地圖完成「非洲政區圖」的繪製，同學需選擇哪一張地圖，才能完成該項作業？




() 5. 阿拉伯膠是從塞伊耳相思樹的汁液凝結而成的天然植物膠，主要產於非洲撒哈拉沙漠的邊緣，這一長條狀的阿拉伯膠帶不僅防止了沙漠的擴張，並且讓住在貧脊沙漠邊緣的居民有了穩定的經濟來源，農民們也稱這個重要的經濟作物為「沙漠黃金」(Desert Gold)。從文中判斷，塞伊耳相思樹生長的區域在圖(一)中哪一條界線附近？(A)甲線 (B)乙線 (C)丙線 (D)丁線。

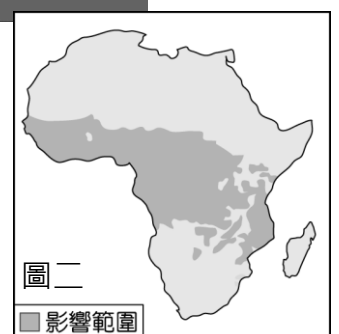
() 6. 在非洲原始森林裡，原住民族其生活方式非常原始，當他們的生產活動造成土地肥力耗竭時，便將該地棄置，再尋找另一塊林地生活。」關於這一種生活方式的敘述，何者正確？(A)屬於集約農業的一種 (B)屬於粗放的游耕 (C)是逐水草而居的生活方式 (D)多種植外銷為主的經濟作物。

() 7. 非洲氣候因赤道經過中間，所以氣候與植物有南北對稱的特色。請問若從非洲赤道沿著本初經線往南歐前進，哪一個依序看到的景觀排列是正確的？(A)③④②① (B)③④①② (C)①②③④ (D)①③④②。

- ①_沙漠 ②_葡萄園 ③_雨林 ④_疏林高草原



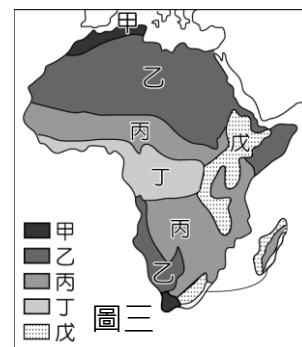
() 8. 非洲的昏睡症是由瘧疾傳播的一種疾病，圖(二)是瘧疾的影響範圍，下列哪一個地理區受到瘧疾的影響會是最小？(A)剛果盆地 (B)東非高原 (C)尼日河三角洲 (D)尼羅河三角洲。



() 9. 世人習慣將埃及、部分北非國家和西亞各國合稱為「中東」地區，以上定義之「中東」地區有何相同點？ (A)皆瀕臨大西洋 (B)皆曾被殖民 (C)皆為文明古國 (D)皆信奉伊斯蘭教。

() 10. 據聯合國估計北非與西亞將是世界上缺水最嚴重的區域，水資源缺乏的同時，更甚未來可能會引發一波「水戰爭」。請問：這些最缺水的區域，在地理上有何共同性？ (A)距海遙遠 (B)水污染嚴重 (C)人口密度高 (D)位於北回歸線附近。

() 11. 「游牧」與「游耕」皆為非洲部分地區的傳統產業之一，會發展出「游牧」與「游耕」生活方式的地區，分別是圖(三)中的哪兩個氣候區？(A)甲丁 (B)戊甲 (C)乙丁 (D)丙乙。



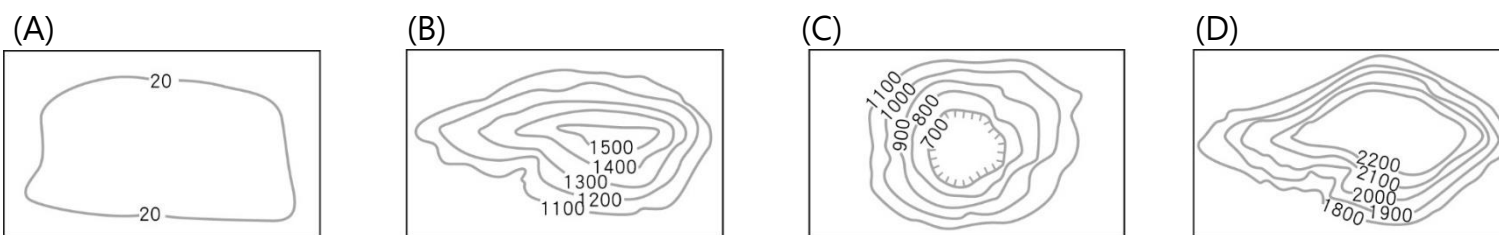
() 12. 馬達加斯加島東岸為熱帶雨林氣候，西岸為熱帶莽原氣候。請問：造成同一緯度東西兩岸氣候差異與何種盛行風向有關？ (A)西風 (B)西南季風 (C)東北信風 (D)東南信風。

() 13. 對蹠(ㄉㄛˊ)點是指「從地球上的某一地點向地心出發，穿過地心後所抵達的另一點」。位於赤道與國際換日線交會處的吉里巴斯，其對蹠點會落在何處？(A)地中海 (B)大堡礁 (C)幾內亞灣 (D)撒哈拉沙漠。

() 14. 關於亞斯文高壩興建後所造成的影響，何者正確？ (A)高壩上游區域不再氾濫 (B)提供南非農業灌溉用水 (C)高壩下游土壤沃度下降 (D)河川出海口區域海岸線向海洋方向推進。

() 15. 亞斯文高壩興建後使沿岸居民得以穩定發展農業，其中最重要的經濟作物為棉花。若當地政府官員欲與其他國家關於交流棉花改良事宜，最適合與哪一個也是盛產棉花的國家交流？(A)俄羅斯 (B)紐西蘭 (C)烏茲別克 (D)馬來西亞。

() 16. 「Sami 是一位來自衣索比亞的表演工作者，某個夏天在重慶的遊樂場表演過後，他對主管說：『重慶的天氣太熱了，我要回非洲』。遊樂園負責人說 Sami 的家鄉只有 20 多度，相較之下重慶的 40 多度，還是讓他熱得難受。」 Sami 的家鄉地形主體為下列何者？

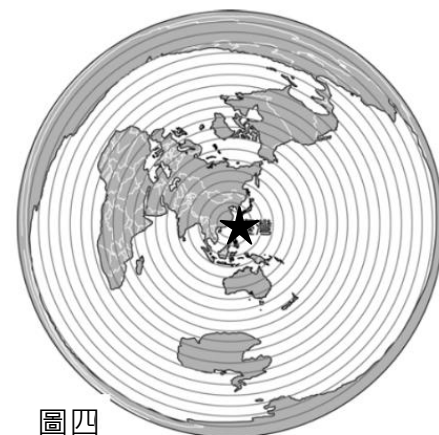


() 17. 根據世界衛生組織的調查，2014 年至 2016 年期間全球飢餓人口數約為 7.95 億人，全球肥胖和超重人口加總約是 19 億人。根據國際糧農組織的統計，2014 年到 2015 是人類史上糧食產量最高的兩年，糧食庫存量皆超過 25 億噸。即使如此，非洲依然是世界上飢荒問題最嚴重的地區，部分國家的飢餓人口比例甚至高達總人口的 35%。造成非洲飢餓人口比例居高不下的影響因素不包括哪一個？(A)出生率上升，人口大量增加 (B)乾旱及病蟲害影響，導致農產歉收 (C)國界和族群紛爭戰爭頻傳，使農業生產停滯 (D)多數國家醫療設施不足，疾病問題嚴重。

() 18. 非洲部分國家企圖效法亞洲、中南美洲國家的經濟轉型經驗，卻成效有限。專家認為：非洲國家的貧窮，實深受國際經濟全球化的影響。在經濟全球化之下，非洲國家的工業常具有下列哪些特性？(甲)以出口導向縮小區域差異、(乙)以進口替代賺取外匯、(丙)高度依賴國外資金、(丁)工業支持農業的發展、(戊)工業技術升級不易。(A)甲乙 (B)乙丙 (C)丙戊 (D)丁戊。

() 19. 下列何者最可以解釋因全球化使非洲部分國家的貧窮問題更加突顯的原因。
(甲)當地的農礦資源多以未加工或低度加工的形式輸出、(乙)跨國企業在當地的商業化的農業經營使得風險降低、(丙)跨國企業在當地的產業經營方式促使農地兼併普遍、(丁)當地的傳統糧食生產因跨國企業的發展而大幅增加。(A)甲丙 (B)甲丁 (C)乙丙 (D)乙丁。

() 20. 圖(四)是以台灣為中心(台灣位置為圖中打★處)所繪製出的等距投影地圖，圖中距離台灣最遙遠的是哪一洲？(A)非洲 (B)北美洲 (C)大洋洲 (D)南極洲。

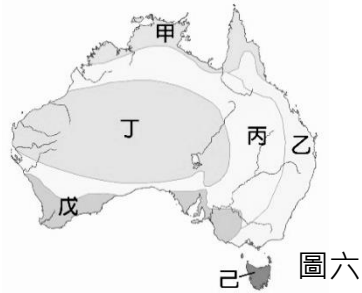
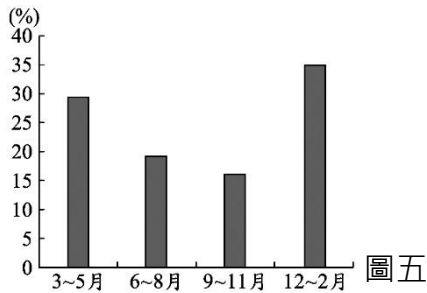


() 21. 美、加為世界主要小麥出口國，但南半球的某些國家，因其生產季節恰與北半球相反，在小麥世界銷售市場上極具競爭力，下列哪些國家符合上述條件？(甲)埃及 (乙)澳洲 (丙)阿根廷 (丁)奈及利亞 (A)甲丙 (B)丙丁 (C)乙丙 (D)甲丁。

() 22. 南半球「缺乏」下列何種氣候？ (A)溫帶海洋性 (B)溫帶地中海型 (C)夏雨型暖溫帶 (D)溫帶大陸性氣候。

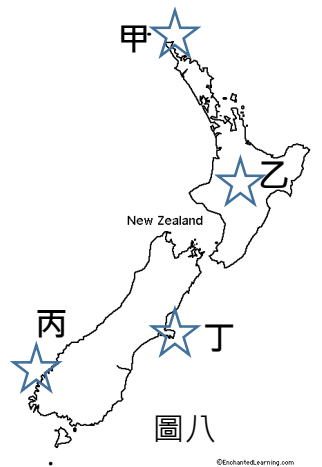
- () 23. 紐西蘭國土面積小於澳洲，其平均海拔高度卻高於澳洲，原因與下列哪一因素關連最大？(A)紐西蘭位於環太平洋火山地震帶上 (B)澳洲為河流堆積的平原地形 (C)紐西蘭的地形景觀豐富多樣 (D)澳洲的精華區多位於東南沿海。
- () 24. 以下關於大洋洲常見的兩種島嶼類型分類表格，何者正確？

	(A)海拔高度	(B)面積大小	(C)特色	(D)舉例
珊瑚礁島	可高達數千公尺	較大	農業發展受限，傳統上以漁業為主	夏威夷群島
火山島	約數十公尺	較小	土壤肥沃可從事農耕	吐瓦魯



- () 25. 圖(五)是某地各季的國際遊客比例。已知當地乾季的國際遊客比例最高，請問該地最可能出現於圖(六)中的哪一種氣候？(A)甲 (B)乙 (C)戊 (D)己。
- () 26. 2013 澳洲徵求世界最棒的工作，照片中是台灣入選的最後 25 名的 BAOBAO(圖七)，先前在 FB 募集十萬個讚已達成，請問她拿著看板的地點在圖(六)的何處？(A)甲 (B)乙 (C)丙 (D)丁。
- () 27. 下列關於澳洲經濟發展的敘述，何者正確？(A)二次世界大戰以前以游耕、游牧為主 (B)有豐富的火山、冰河地形發展觀光業 (C)為亞太經濟合作會議的創始國 (D)礦產資源較少，多依賴進口。
- () 28. 澳洲獨特的動植物生態帶動了觀光業的發展，造成此現象的主因為何？(A)四面環海與各大陸隔絕 (B)政府政策執行 (C)沙漠分布範圍大 (D)地形以高原為主體。
- () 29. 若以直線距離來看，世界上哪一大洲最北點與最南點(不計島嶼)分別距離北極點與南極點最近？(A)亞洲 (B)美洲 (C)非洲 (D)大洋洲。

- () 30. 紐西蘭地形景觀豐富，電影「納尼亞傳奇」中陡峭嚴峻的懸崖峭壁，茂密旺盛的原始大森林，高低起伏的丘陵取經地點皆在紐西蘭，宣傳了紐西蘭的美好風景外也帶來觀光熱潮。若該電影外景選在紐西蘭最高的活火山，這個外景應到圖(八)中的哪個位置取景？(A)甲 (B)乙 (C)丙 (D)丁。
- () 31. 愛麗絲泉為澳洲西部高原上最大城市，其地名取自當地一處永久水泉。該泉水地下水源最可能來自哪一區域的降水？(A)大分水嶺西側 (B)大分水嶺東側 (C)西部高原東側 (D)中部平原內陸。
- () 32. 承上題，當地居民多用此泉水發展哪一產業？(A)工業 (B)漁業 (C)牧羊業 (D)牧牛業。
- () 33. 宥凱看到一張「上半部是布滿冰河的山巒、下半部是養了上百隻牛隻的牧場」照片，已知這張拍攝地點是在紐西蘭，會是在紐西蘭的哪個區域呢？(A)北島東部 (B)北島西部 (C)南島東部 (D)南島西部。



- () 34. 兩極地區的降雨量皆相當稀少，這和當地何種氣候現象的關係最為直接？(A)蒸發不盛 (B)風力強勁 (C)寒流流經 (D)年溫差小。
- () 35. 攝影家若要利用 2 月分假期前往拍攝永晝現象，應該前往下列哪一個地區最為適合？(A)82°N (B)4°N (C)23.5°S (D)77°S。

- () 36. 過去因紐特人會建造冰屋以過冬，現代化後的生活，哪一種建築形式的設計會比較適合寒帶地區？(A)具有斜面遮陽板的走廊 (B)屋頂設置遮陽架 (C)多孔隙的外牆 (D)使用深色的外牆。
- () 37. 圖(九)為以北極為中心所繪製出的地圖，由圖中位置加以判斷，阿拉斯加位於北極點的哪一個方位？(A)正北方 (B)正南方 (C)東北方 (D)西南方。



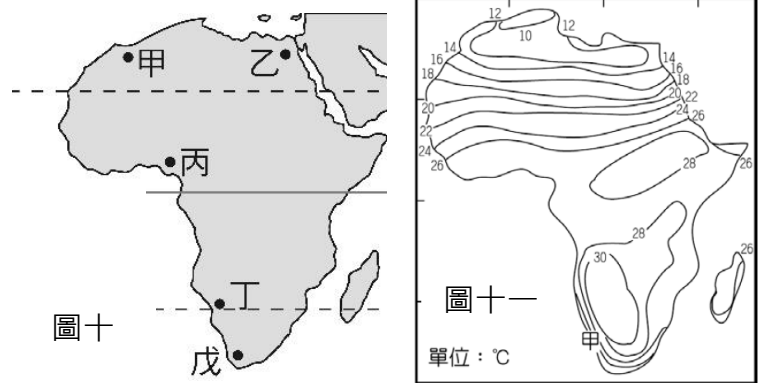
- () 38. 「西北航道」是指從加拿大東北部向西到達美國阿拉斯加北面的路線，是一條連接大西洋和太平洋的航道。隨著「西北航道」海冰的融化，阿拉斯加生態系統可能出現下列哪種變化？(A)國王企鵝的數量減少 (B)山區雪線向高海拔區域移動 (C)北極熊的生活空間增加 (D)針葉林的分布範圍向南延伸。

*雪線指在高緯度和高山地區永遠積雪的下限

◎某島嶼的名稱源自玻里尼西亞語 Sawaiki，19 世紀時英國與法國都宣稱擁有該島的主權，引發該島居民不滿。19 世紀末該島的臨時總統希望能加入美國，四年後美國正式合併該島，使其成為在太平洋上重要的空域的據點。

- () 39. 該島嶼最可能是：(A)琉球 (B)夏威夷 (C)大溪地 (D)吐瓦魯。
 () 40. 該島控制空域的周邊國家，大多是哪兩個國際組織的成員國？(甲)APEC、(乙)OPEC、(丙)EU、(丁)ASEAN。(A)甲乙 (B)甲丁 (C)乙丙 (D)乙丁。

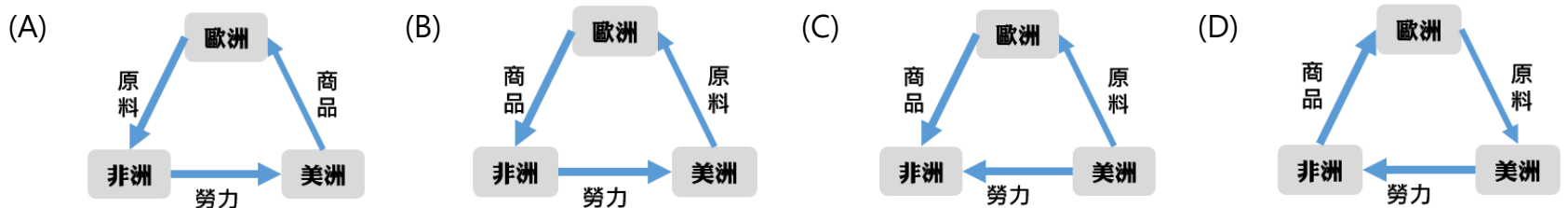
◎韋傑到非洲某地旅行時寫道：「從機場到市區的公路寬闊又平整，公路兩邊麥田、葡萄園、橄欖園到處可見。進入市區後，歐式建築相當普遍，中心區的主幹道兩邊有好多露天咖啡館，我挑個位子坐下，一邊品著當地傳統中東式的濃咖啡，一邊看電車從眼前叮叮噹噹地駛過，感覺簡直和歐洲毫無分別。不過，這裡的咖啡館幾乎全是男性工作人員與顧客，看不到女性。」



- () 41. 文中描述的某地最可能位於哪一自然景觀帶？(A)熱帶莽原氣候 (B)熱帶沙漠氣候 (C)溫帶地中海型氣候 (D)夏雨型暖溫帶氣候。
 () 42. 韋傑的旅行地點應為圖(十)中何處？(A)甲 (B)乙 (C)丙 (D)戊。
 () 43. 韋傑在旅行時看到當地電視台對非洲當日等溫線分布的報導，如圖(十一)。他在旅行時會錯過台灣的哪一節慶？(A)春節 (B)端午節 (C)中秋節 (D)國慶日。

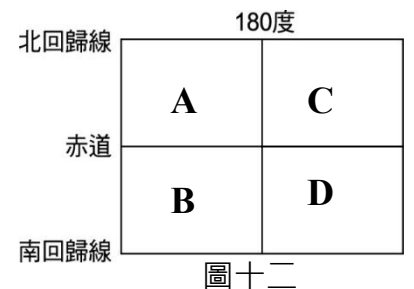
◎17 至 18 世紀歐、美、非三角貿易主要指歐洲商人以廉價工業品運到奈及利亞等地換取奴隸，把奴工運到墨西哥等地賣掉，從墨西哥等地購回礦產、熱帶栽培業產物，製成成品再運到非洲以換取奴隸的迴圈貿易活動。

- () 44. 17 至 18 世紀時，歐洲人大量擄掠非洲民眾至美洲新大陸成為奴工，這樣的舉動會對非洲移出地區的人口結構產生哪一種改變？(A)扶養比增加 (B)平均壽命上升 (C)壯年人口比例偏高 (D)人口金字塔呈現高金字塔型。
 () 45. 當時三地的貿易活動關係最接近下列何圖？



- () 46. 當時歐洲奴隸販子的運奴船裝著劣質商品，從歐洲港口出發順著洋流抵達非洲，此股洋流為何？(A)加那利洋流 (B)本吉拉涼流 (C)北大西洋暖流 (D)阿古拉斯暖流。

◎(法新社 巴黎 26 日電)2007 年 8 月 28 日晚上，澳大利亞東岸到北美洲西岸的居民，從格林威治時間 10 時 37 分(台灣時間 18 時 37 分)起可以看到 90 分鐘的月全蝕。根據美國太空總署(NASA)估計，此次月全蝕最佳的觀賞地點是在玻里尼西亞群島，歐洲和非洲地區將看不到月全蝕的奇觀。



- () 47. 圖(十二)中 C 區屬於哪兩半球？(A)西、北 (B)東、南 (C)東、北 (D)西、南 半球。
 () 48. 圖(十二)為大洋洲三大群島分布簡圖，文中所提到最佳觀賞月全蝕的地點在圖中的何處？(A)AB (B)CD (C)BC (D)AD。
 () 49. 位於(175°E,20°N)的美拉尼西亞群島上的某國觀賞月全蝕時間為 8 月 28 日 22 時 37 分，位於(175°W,20°S)的玻里尼西亞的某島嶼上的人民，最可能觀賞月全蝕的時間為何(不計國際換日線彎曲部分，僅以直線之經度估算)？(A) 8 月 27 日 10 時 37 分 (B) 8 月 27 日 22 時 37 分 (C) 8 月 28 日 10 時 37 分 (D) 8 月 28 日 22 時 37 分。
 () 50. 以下哪一個國家將無法觀賞到此次的月全蝕？(A)吐瓦魯 (B)大溪地 (C)紐西蘭 (D)奈及利亞。

作答完畢，請再次檢查