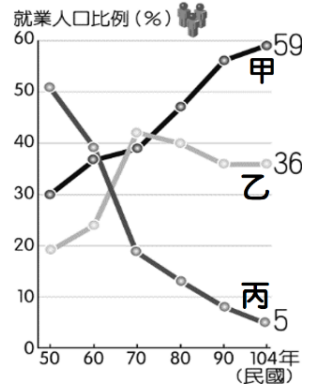


桃園市立大有國民中學 107 學年度第二學期第二次評量試卷

年級	七	考試科目	地理科		命題範圍	L2、L3	作答時間	45分
班級		姓名		座號	分數			

一、單選題 (共 31 題, 每題 2.5 分, 共計 77.5 分)

1. ( )圖(一)為臺灣三級產業就業人口比例圖。根據此圖, 下列敘述何者正確? (A)甲為第一級產業, 目前為臺灣最主要的產業 (B)乙為第二級產業, 自民國五零年代以來維持穩定成長 (C)丙為第三級產業, 就業人口比例較低 (D)臺灣都會區以甲、乙產業為主, 丙產業主要分布在鄉村地區
2. ( )佳耘參加了大有國中的日本教育旅行, 旅程中她觀察到日本超市販售了來自臺灣的水果, 但與臺灣常見的水果攤不同的是, 它們皆有精美的包裝, 還附上產地、農夫姓名, 寫上了「嚴選」、「極品」的字樣, 單顆居然可要價上千日幣。請問: 這些外銷品反映出臺灣農業在經營上的何種特性? (A)集約化 (B)精緻化 (C)機械化 (D)休閒化



▲ 圖(一)

3. ( )承上題, 佳耘還觀察到架上熱銷的水果以芒果、香蕉為主, 但較少看見來自臺灣的蘋果、草莓等。在日本的銷售市場中, 為何臺灣的芒果、香蕉, 相較於蘋果、草莓會更為熱銷? (A)蘋果、草莓等水果不符合日本人的飲食偏好 (B)蘋果、草莓較有時效性, 難以運送 (C)臺灣與日本緯度不同, 日本較難種出高品質的熱帶水果 (D)加入 WTO 後關稅提升, 導致蘋果、草莓價格昂貴, 較無人購買

表(一)	粗放農業	集約農業
(A) 人口密度	地狹人稠	地廣人稀
(B) 單位面積投入的勞力	多	少
(C) 單位面積產量	低	高
(D) 總產量	低	高

4. ( )表(一)為粗放農業與集約農業的比較表, 何者的內容才是正確的?
5. ( )臺灣目前致力於高科技工業的發展, 此類工業具備下列何種特性? (A)資本密集度高 (B)勞力密集度高 (C)能源消耗度高 (D)附加價值低
6. ( )宗彥在美國運動品牌店購入了球星代言的球衣, 卻發現球衣產地不在美國, 而在其他國家。請問: 宗彥的球衣最有可能是在何處生產的? (A)日本 (B)印尼 (C)南韓 (D)香港

表(二)	量販店	便利超商
(A) 商品數量	較少	較多
(B) 商品單價	較高	較低
(C) 分布密度	較高	較低
(D) 其他特性	分布在地價較低的市郊	提供較多元的服務

7. ( )承上題, 運動品牌選擇將「成衣工廠」移往上述地區及中國進行生產, 主要是考量到何種區位條件? (A)勞工區位 (B)原料區位 (C)市場區位 (D)交通區位
8. ( )量販店與便利超商均是臺灣民眾熟悉的消費選擇, 但兩者在特性上有些異同。在右側表(二)的各項比較中, 何者正確?
9. ( )台江國家公園內擁有的許多自然與人文的觀光資源, 在下列各項觀光資源中, 何者的資源類型與其他三者較為不同? (A)四草綠色隧道 (B)四草砲台 (C)安順鹽場 (D)鹿耳門古航道

10. ( )圖(二)為閩南語經典老歌〈打拼的工人〉的歌詞, 其歌詞深刻描繪了民國 50 年代的臺灣社會。歌詞中前往加工出口區勤奮做工的女工們, 在當時最有可能是在下列哪一種工廠上班? (A)汽車工廠 (B)紡織工廠 (C)成藥工廠 (D)化妝品生產廠

11. ( )臺灣於民國七、八零年代面臨工資上漲的問題, 有不少民間企業選擇外移至中國設廠。下列哪一種工廠的員工在當時的失業風險較高? (A)石化工廠 (B)成衣工廠 (C)鋼鐵工廠 (D)奈米布料工廠

12. ( )威皓的梦想是成為便利超商的店長。若僅考慮人口概況, 則為了維持店面營運, 威皓應該挑選下列哪一個地點設店會最為理想?

(A) (B) (C) (D)

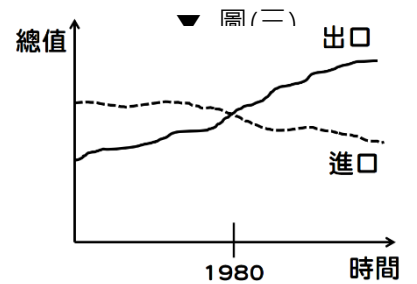
13. ( )臺灣與鄰近國家有經濟海域重疊的問題, 嚴重影響我國漁業發展。下列何種漁業類型最容易因為在重疊的經濟海域中捕魚而面臨國際的漁事糾紛? (A)養殖漁業 (B)沿岸漁業 (C)近海漁業 (D)遠洋漁業

每日做工 快樂做工  
透早就帶著便當 趕緊去做工  
為著生活做加工 做加工  
打拼做工 打拼做工啲

每日做工 快樂做工  
阮就是十七八 少年的女工  
為著賺錢做手工 做手工  
打拼做工 打拼做工啲

▲ 圖(二)

14.( )圖(三)為凱博國進出口總值變化示意圖。根據右圖，下列關於凱博國貿易概況的說明，何者正確？ (A)1980年前主要為出超狀態，資金外流 (B)1980年前主要為入超狀態，資金流入 (C)1980年後主要為出超狀態，資金流入 (D)1980年後主要為入超狀態，資金外流



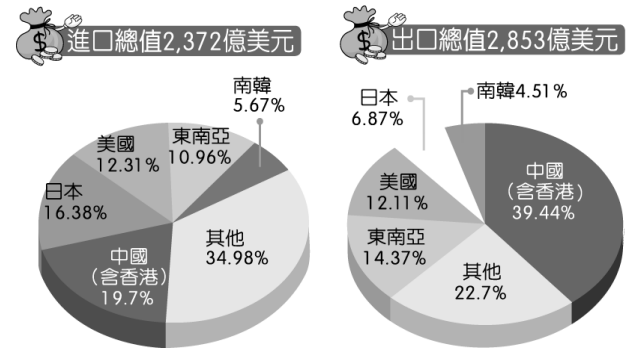
15.( )在國際貿易越來越盛行的當代，政府為了提升臺灣農業的競爭力，也推動農業轉型。下列何者是促使臺灣農業轉型的主要原因？

- (甲)過於集約 (乙)勞力不足 (丙)原料不足 (丁)農村人口老化 (戊)生產成本過高 (己)進口農產競爭  
 (A)甲乙丙丁 (B)甲乙戊己 (C)乙丙丁戊 (D)乙丁戊己

16.( )承上題，下列何者為政府所推動的農業轉型方向？

- (甲)集約農業 (乙)粗放農業 (丙)有機農業 (丁)精緻農業 (戊)休閒農業  
 (A)甲丙丁 (B)甲丁戊 (C)乙丁戊 (D)丙丁戊

17.( )圖(四)為臺灣民國 104 年的國際貿易概況圓餅圖。根據圖(四)，下列何者說明正確？ (A)臺灣前三大貿易國為中國、日本及南韓 (B)日本為我國的出超國 (C)中國為我國的出超國 (D)整體國際貿易狀態為入超



▲ 圖(四)

18.( )臺灣常將烏魚稱為「烏金」，乃是因為其卵「烏魚子」具有極高的經濟價值。

而烏魚的活動亦與臺灣附近的洋流有關。圖(五)中關於烏魚移動及其相關洋流的說明，何者正確？

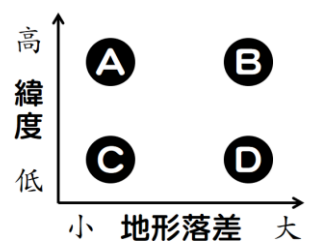
- (A)烏魚是順著「甲寒流—黑潮」北上的 (B)烏魚是順著「甲暖流—黑潮」北上的 (C)烏魚是順著「乙寒流—中國沿岸流」南下的 (D)烏魚是順著「乙暖流—中國沿岸流」南下的



▲ 圖(五)

19.( )下列關於臺灣「國際貿易依賴度極高」的原因分析，何者正確？ (A)因缺乏自然資源，故農工業的原料多仰賴進口 (B)因國內市場有限，故大量出口農工業的原料 (C)因都市化程度較高，故農產品多轉向外銷出口 (D)因缺乏自然資源，故產品多轉向外銷出口

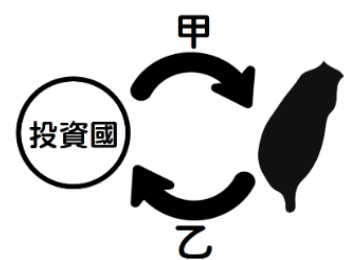
20.( )臺灣能種植出多樣的水果，除了農業科技進步，也與自然環境條件相關。上述使得臺灣能種植出多樣水果的環境條件，較接近圖(六)中的何者？ (A)A 點 (B)B 點 (C)C 點 (D)D 點



▲ 圖(六)

21.( )下列關於臺灣畜牧業的描述，何者正確？ (A)隨時代變化，畜牧業逐漸轉變為副業 (B)由於土地面積限制，畜牧業多由欄牧轉為放牧型態 (C)近代部分畜牧業嘗試與觀光產業結合，轉型為休閒牧場 (D)因加入 WTO，畜牧業營運成本過高，政府不再推廣酪農業

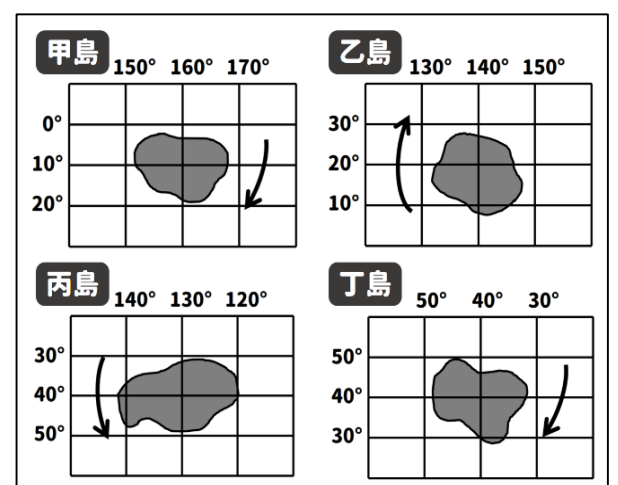
22.( )圖(七)為加工出口區成立初期的經濟模式示意圖。圖中甲、乙箭頭分別代表何種生產要素？ (A)甲：資金、技術；乙：廉價勞力、優惠政策 (B)甲：廉價勞力、優惠政策；乙：資金、技術 (C)甲：資金、優惠政策；乙：廉價勞力、技術 (D)甲：廉價勞力、技術；乙：資金、優惠政策



▲ 圖(七)

23.( )高雄港一帶有許多鋼鐵、石化、造船等工廠聚集，這些工廠最主要是因高雄港具備何種區位條件而選擇至此設廠？ (A)原料區位 (B)交通區位 (C)勞工區位 (D)政策區位

24.( )圖(八)為某四座無人島的絕對位置示意圖，四座島嶼的周遭恰巧都有洋流流經。若依照緯度判斷，哪一座島嶼周遭的洋流屬性與其他三者不同？ (A)甲島 (B)乙島 (C)丙島 (D)丁島



▲ 圖(八)

25.( )下列關於臺灣於 2002 年加入世界貿易組織後的影響，何者說明正確？ (A)工業產品的外銷面臨最大衝擊，其次則是農產品的行銷 (B)消費者將可以用較低的價格買到國外的商品 (C)對農夫而言，加入 WTO 將面臨進口農產的競爭，只有負面衝擊而無正面效益 (D)為了避免進口農產競爭，政府採取調高進口農產關稅的方式來保護我國農民之利益

26.( )昔日林業在臺灣佔有重要地位，外銷林木曾為臺灣賺取巨額外匯。而臺灣能有豐富的林業資源，最主要與下列哪些自然環境優勢有關？

(甲)降水量豐沛 (乙)生物科技進步 (丙)生態環境獨立 (丁)山地面積廣大 (戊)位處板塊交界帶

(A)甲丁 (B)乙丁 (C)甲乙丙 (D)甲乙戊

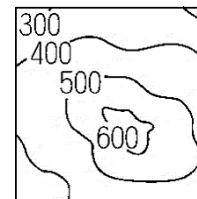
27.( )表(三)為秉軒村近幾年的農產比例變化表。根據右表數據的變化趨勢作判斷，近幾年內秉軒村的農業逐漸產生了何種變化？

農產品	比例	農產品	比例
甲作物	28%	甲作物	0%
乙作物	22%	乙作物	11%
丙作物	24%	丙作物	13%
丁作物	26%	丁作物	76%

(A)集約化 (B)專業化 (C)精緻化 (D)機械化

28.( )承上題，圖(九)為秉軒村的等高線地形圖。根據其地形推斷，丁作物最有可能為下列何者？ (A)水稻 (B)西瓜 (C)甘蔗 (D)茶樹

▲ 表(三)



▲ 圖(九)

29.( )下列對於臺灣「自民國 90 年代後至今日」的產業概況描述，哪位同學的理解是正確的？

(A)軒朗：「目前政府致力於推動利潤較高的『自創品牌』。」

(B)佳運：「政府將高科技產品代工訂為未來推行之核心目標。」

(C)佩樺：「多數輕工業工廠因國人環保意識提升而外移至中國、東南亞。」

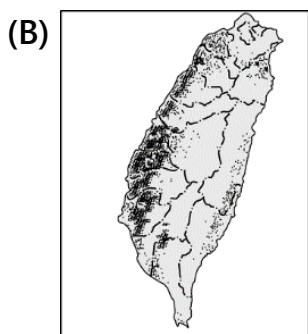
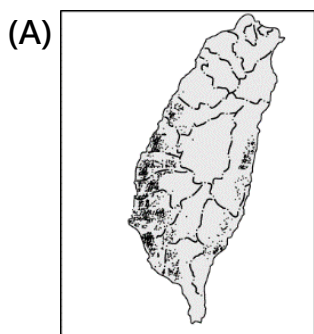
(D)福安：「多數跨國企業將組裝部門留設臺灣，將研發部門轉移至海外，拓展勢力。」

30.( )新竹科學園區為臺灣的科技重鎮之一，在此從事投資的高科技業者，主要是考量到哪些工業區位條件而選擇在竹科投資設廠？

(甲)市場區位 (乙)勞工區位 (丙)交通區位 (丁)動力區位 (戊)政策區位 (己)技術區位

(A)甲乙戊 (B)乙丁戊 (C)甲丙己 (D)乙戊己

31.( )臺灣早期以水稻、甘蔗、茶為重要作物，其中何種作物受到人們飲食習慣改變及加入 WTO 的影響，而面臨巨大衝擊？



## 二、題組題 (共 9 題，每題 2.5 分，共計 22.5 分)

涵鈞從小和爺爺住在彰化鄉村，家裡擁有大片農田。回憶起童年，涵鈞印象最深刻的就是那片美麗的金黃稻海。多年前，爺爺因為面臨困境而不再種植稻米，開始改種起各式各樣的花朵，涵鈞則利用網路幫助爺爺行銷花卉，成功度過危機。在取得一定知名度後，兩人更決定聘請講師並開放遊客到農場來做園藝 DIY 體驗，農場也因此成為了當地知名的打卡景點。

32.( )根據上文，涵鈞與爺爺分別是從事第幾級產業？ (A)涵鈞：第一級；爺爺：第三級 (B)涵鈞：第三級；爺爺：第一級 (C)兩人均從事第一級產業 (D)兩人均從事第三級產業

33.( )文中提及爺爺曾「面臨困境」，因而轉作花卉。你認為該危機最可能為下列何者？ (A)勞工薪資提升導致產業外移 (B)都市化導致農村人口老化 (C)人們飲食習慣改變導致水稻產量過剩 (D)全球暖化導致水稻產量下降

34.( )爺爺最後選擇以花卉作為取代水稻的作物，最主要的考量可能為何？ (A)花卉較容易種植，技術性較低 (B)花卉不需過多化肥，較能保護環境 (C)花卉較能適應乾燥的氣候，可節省農業用水 (D)花卉的經濟價值較高，可朝精緻農業轉型



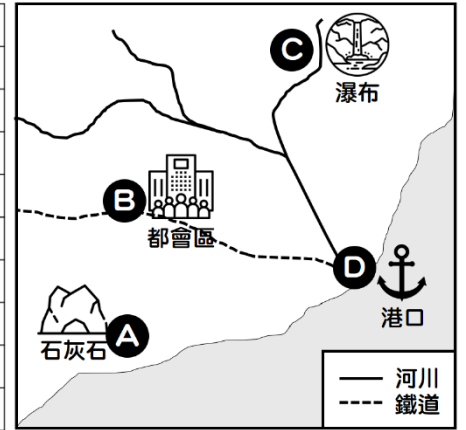
請注意！背面尚有試題！

35.( )目前農場以「園藝 DIY 體驗」作為亮點來經營農場，此種轉變較接近下列何種概念？

- (A)集約農業 (B)休閒農業 (C)有機農業 (D)酪農業

表(四)為某四間工廠在一般狀態下的成本預估表，圖(十)則為雅甄國的示意圖。請根據右方資料回答下列問題。

甲工廠		乙工廠	
原料運費	300	原料運費	50
產品運費	60	產品運費	400
工資	50	工資	40
電費	30	電費	10
丙工廠		丁工廠	
原料運費	20	原料運費	30
產品運費	20	產品運費	30
工資	350	工資	20
電費	30	電費	300



▲ 表(四)

▲ 圖(十)

36.( )根據成本的比重判斷，乙工廠較有可能是何種工廠？ (A)鋼鐵廠 (B)造紙廠 (C)玻璃廠 (D)紡織廠

37.( )根據成本的比重判斷，水泥廠的工業區位條件較接近下列何者？ (A)甲工廠 (B)乙工廠 (C)丙工廠 (D)丁工廠

38.( )若要盡可能壓低成本，「丙工廠」的老闆應該選擇何處蓋工廠較好？ (A)A 點 (B)B 點 (C)C 點 (D)D 點

39.( )若要盡可能壓低成本，「丁工廠」的老闆應該選擇何處蓋工廠較好？ (A)A 點 (B)B 點 (C)C 點 (D)D 點

40.( )下列哪一座工廠所考量的工業區位條件，與「甲工廠」的區位類型相同？ (A)紙箱工廠 (B)石化工廠 (C)魚罐頭工廠 (D)晶圓代工廠

~ 試題結束 ~

交卷前請檢查畫卡是否正確，考卷請務必妥善保管，並寫上答案，以利檢討、訂正