

桃園市立大有國民中學一〇七學年度第二學期第三次評量試卷

年級	七	考試科目	歷史			命題範圍	第五~第六章	作答時間	45分
班級		姓名		座號		分數			

一、選擇題

- 1.() 附圖是民國六十年代後期一群激動的民眾拿著雞蛋，丟往□□國代表團座車以示抗議的漫畫，此時的臺灣



更陷入國際孤立的局面。□□代表哪個國家，以及民眾抗議何事？(A)中共，加入聯合國 (B)日本，同意中共加入聯合國 (C)美國，與中共建交 (D)蘇聯，幫助中共建國。

- 2.() 臺灣由於中美協防關係的建立，許多美式的生活與價值觀念深受美國影響。下列哪項是屬於美式文化？(A)穿著牛仔褲 (B>Hello Kitty (C)伊斯蘭教信仰 (D)穿著和服。

- 3.() 珍珍要出國觀光，她可利用中山高速公路到臺灣桃園國際機場搭乘飛機。這是享受下列哪一項重大建設的成果？(A)四年經建計畫 (B)十大建設 (C)十二項建設 (D)國家建設六年計畫。

- 4.() 近年來到金門的觀光客快速成長，業者動起腦筋興建金門戰地主題餐館，附表哪款菜色符合該餐館的特色？

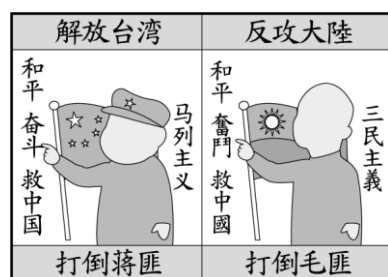
編號	菜色
甲	古寧頭紅燒魚
乙	鹿耳門獅子頭
丙	馬關生魚片
丁	八里東坡肉

(A)甲 (B)乙 (C)丙 (D)丁。

- 5.() 近年臺海兩岸都在積極開拓對外貿易，現今兩岸雙方都已是下列哪個經濟性國際組織的成員，且兩岸也被其要求必須完全開放國內市場，以走向國際化、自由化？(A)聯合國 (UN) (B)世界貿易組織 (WTO) (C)歐洲聯盟 (EU) (D)世界衛生組織 (WHO)。

- 6.() 某份報紙上記載：「中華民國紅十字會總會擠滿了歸心似箭的老兵。他們流著眼淚，拉高著嗓門，拚了老命搶著為數不多的申請表，不到十分鐘，三千份表格即已被搶光，急得申請不及的老兵直跳腳。」前文描述的景象出現原因為何？(A)抗戰勝利後，臺籍人士返鄉尋根 (B)國共內戰爆發後，老兵回鄉殺敵 (C)八二三炮戰發生時，臺灣軍人赴金門參戰 (D)政府解嚴後，開放國人前往大陸探親。

- 7.() 莉奴繪製了附圖中的兩幅海報，這可用來表示哪一時期的兩岸關係？(A)政治對峙時期



(B)國際角力時期 (C)兩岸交流時期 (D)武力對抗時期。

- 8.() 地理老師介紹某個國家，他說：「這個國家曾為亞洲四小龍之一，並在解嚴後的兩岸關係中扮演重要角色，民國 82 年的辜汪會談就是在此進行。」老師是在介紹哪個國家？(A)南韓 (B)印尼 (C)新加坡 (D)馬來西亞。

- 9.() 名作家侯文詠在他的著作中提到，就讀小學時因違反校規，被學校要求掛上「我不說方言」的牌子。這位作家的生活經驗與當時哪項政策有關？(A)落實反共政策 (B)禁止說英語 (C)推行國語運動 (D)生活藝術化。

- 10.() 美加回顧國民政府遷臺後教育政策的發展，並整理出附表，表中的「甲」處應填入下列哪一個答案？

時間	教育政策
鄭氏時期	實施科舉制度
清領時期	設立儒學與社學
日治時期	建立西式教育制度
民國 103 年	甲

(A)多元入學 (B)啟動九年一貫課程 (C)實施九年國民義務教育 (D)推動十二年國民基本教育。

- 11.() 瑞青想做一份小報告，主題是「臺灣經濟起飛歷程」，他找到下面幾篇論文，請問：他如何依照政策實施時間的先後順序，引用這些論文？

- (甲)今天不做明天就會後悔：十大建設
(乙)創造世界第一：科學工業園區誕生
(丙)三七五新娘：佃農有能力娶媳婦了
(丁)吸引外商投資的利器：加工出口區

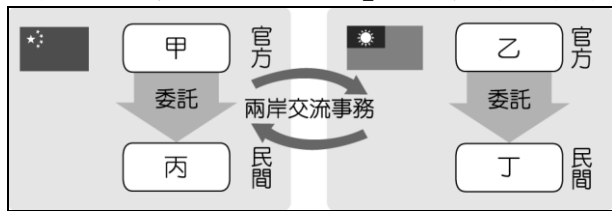
(A)甲乙丙丁 (B)甲乙丁丙 (C)乙丙丁甲 (D)丙丁甲乙。

- 12.() 2019 年 6 月 9 日香港發生「反送中運動」，讓「一國兩制」議題再度被熱烈討論。請問此一制度是由中華人民共和國提出，用來針對哪些地方的政治策略？(A)臺灣、香港、澳門 (B)臺灣、西藏、香港 (C)臺灣、香港、新加坡 (D)新加坡、臺灣、南韓。



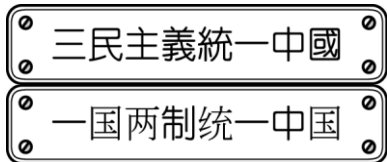
- 13.() 有關民國 60 年代以後興起的「鄉土文學」運動，下列何者敘述錯誤？(A)興起的背景是因為臺灣在內政與外交方面面臨嚴厲挑戰 (B)內容關注農民、勞工等小人物的遭遇 (C)受到戰後民族自決思潮影響 (D)黃春明的《兒子的大玩偶》為代表作品之一。

14.() 附圖是兩岸交流事務處理機構的示意圖，根據圖中的內容判斷，圖中的「乙」應該是下列何者？



(A) 國務院臺灣事務辦公室 (B) 海峽兩岸關係協會
(C) 海峽交流基金會 (D) 行政院大陸委員會。

15.() 王先生是在中國福建經商的臺商，在金門與廈門兩地，他看到如附圖兩則不同的宣傳標語。請問：設立這些標語的時代背景為何？



(A) 我國終止《動員戡亂時期臨時條款》 (B) 八二三炮戰之後兩岸形成武力對抗 (C) 中共與美國建交後採和平統戰策略 (D) 我國政府開放民眾赴中國大陸探親。

16.() 民國四十七年時發生了一場戰役，金門在短短 44 天內遭受 47 萬 4 千 9 百餘發的炮彈轟炸……，這些廢棄炮彈的彈殼成為鍛造鋼刀的原料。上述這場戰役是指下列何者？ (A) 八年抗戰 (B) 古寧頭戰役 (C) 韓戰 (D) 八二三炮戰。

17.() 臺灣經濟建設分成幾個階段：(甲)進口替代；(乙)十大建設；(丙)自由化、國際化；(丁)出口擴張。按照時間的先後順序排列，下列何者正確？ (A) 甲→乙→丙→丁 (B) 乙→丙→甲→丁 (C) 甲→丁→乙→丙 (D) 丙→乙→丁→甲。

18.() 若將日治時期與戰後的臺灣教育發展作一比較，下列敘述何者正確？ (A) 兩者均採差別待遇、隔離的教育政策 (B) 在中等教育方面，兩者均重視職業教育的推動 (C) 在高等教育方面，兩者均鼓勵大專院校的增設 (D) 戰後臺灣實施六年國民義務教育，日治時期並無此措施。

19.() 內政部舉辦戶政聯展時特地將歷年生育標語統整如附表，這反映臺灣目前面臨何種狀況？

早期	「兩個恰恰好，一個不嫌少，男孩女孩一樣好」；「三三二一」(婚後 3 年才生第 1 個孩子，過了 3 年再生 1 個，2 個孩子恰恰好，男孩女孩一樣好)。
民國 94 年	「兩個孩子很幸福，三個孩子更熱鬧。」
近年	「孩子~是我們最好的傳家寶」

(A) 少子化 (B) 高齡化 (C) 都市化 (D) 全球化。

20.() 「由於美軍的保護範圍並未包含浙江外海，故在 1955 年，浙江大陳島人全面撤退至臺灣，島上 1 萬 8 千多人，被國民政府安置在全臺 12 個縣市的 35 個大陳新村。」上述美軍的保護範圍，與下列哪個條約有

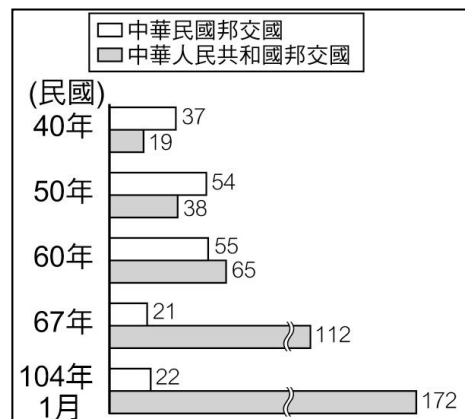
關？ (A) 《臺灣關係法》 (B) 《中美白皮書》 (C) 《中美安保條約》 (D) 《中美共同防禦條約》。

21.() 謝老師回憶：「在我中學的時候，我國的外交遇到重大挫折，被迫退出聯合國，甚至之後日本、美國等友邦也陸續與我國斷交。」請問：後來政府的因應，是在民國 70 年代後期推動哪一外交政策，強調我國可以透過經濟實力、政治民主化來突破中共的外交封鎖？ (A) 活路外交 (B) 鞏固外交 (C) 彈性外交 (D) 務實外交。

22.() 阿龍翻開「民國 70 年 2 月 28 日」的報紙，他比較有可能會閱讀到，附表中哪個標題的報導？ (A) 甲 (B) 乙 (C) 丙 (D) 丁。

甲	緬懷二二八，蔣經國率官員向受難者家屬道歉
乙	民主進步黨成立，為民主憲政發展跨出一大步
丙	老榮民返回浙江老家探親，卻遭當地惡霸搶劫
丁	新成立的電腦公司，欲進駐新竹科學工業園區


23.() 附圖為兩岸的外交邦交國數量。該圖可以說明下列哪項歷史事實？ (A) 受到國共內戰的影響，我國邦交國數量急遽下降 (B) 受到韓戰的影響，我國得以維持穩定的邦交國友誼 (C) 受到韓戰的影響，中共的外交勢力逐漸抬頭 (D) 受到退出聯合國的影響，我國邦交國逐年減少。



24.() 中共在「和平統戰」的策略下，採取了對臺的兩面手法。下列有關中共策略應用的敘述，何者**錯誤**？ (A) 宣布放棄以武力統一臺灣 (B) 強調中共是代表中國的唯一合法政府 (C) 提出「一國兩制」模式 (D) 倡議開放「三通四流」。

25.() 土地拓墾與土地改革建設是各時期財經建設的重點。政府遷臺後，實施土地改革的目的為何？ (A) 削弱地主階級的勢力 (B) 要讓農產品產量大增 (C) 改善農民生活，使土地合理分配 (D) 增加土地稅收。

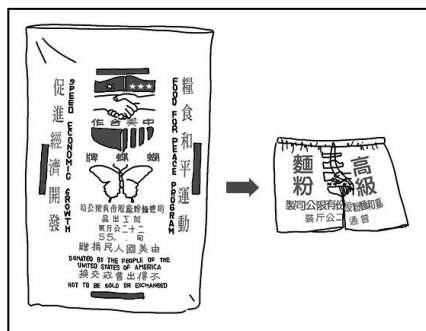
26.() 附圖為臺灣某一時期的經濟建設，圖中的院長是領導此建設的關鍵人物。請問：這位院長應該是下列何人？ (A) 蔣中正 (B) 蔣經國 (C) 李登輝 (D) 陳水扁。



27.() 戰爭的爆發對世界局勢往往造成重大的影響，下列與臺灣歷史發展有關的戰爭，其中何者造成的影響敘述有誤？ (A)第二次世界大戰後，中華民國接收臺灣 (B)甲午戰爭後，日本自清廷獲得臺灣 (C)中日戰爭後，美國艦隊協防臺灣海峽 (D)國共內戰後，中華民國政府撤退至臺灣。

28.() 近日以來，不少話題圍繞在臺灣 2020 年的總統大選。『國務院台灣事務辦公室』也透過媒體，針對臺灣的大選以及兩岸關係發表聲明。請問，下列對於上述機構的描述，何者正確？(A)臺灣方面，官方代表處理兩岸事務的機構 (B) 中國方面，官方代表處理兩岸事務的機構 (C) 臺灣方面，民間代表處理兩岸事務的機構 (D) 中國方面，民間代表處理兩岸事務的機構。

29.() 明宏在一本書中看到如右的圖片，左邊的麵粉袋印有中、美合作的標記。請問：圖中的麵粉袋，應該是發生下列哪一外交時期？ (A)鞏固外交 (B)彈性外交 (C)務實外交 (D)三通外交。

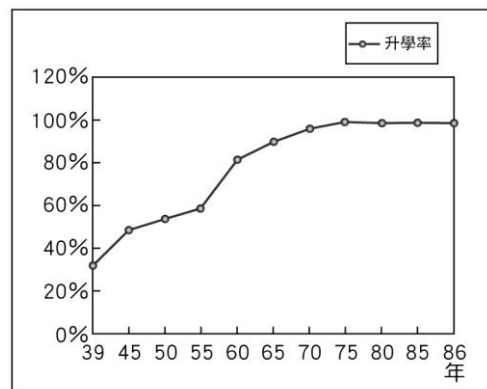


30.() 中共與美國建交後，對臺灣提出和平統戰的政策，中華民國則以三不政策回應。請問：到哪位總統在位之時，三不政策在形式上已被打破？ (A)蔣中正 (B)李登輝 (C)陳水扁 (D)馬英九。

31.() 古寧頭戰役與八二三炮戰是鞏固臺灣安全的兩場重要戰役。請問：這兩場戰役發生的地點在下列何處？ (A)皆在馬祖 (B)皆在金門 (C)前者在金門，後者在馬祖 (D)前者在澎湖，後者在金門。

32.() 臺灣的企業近年來不是紛紛雇用外籍勞工，就是到中國或東南亞設廠。請問：形成這種現象的主要原因為何？ (A)企業為拓展國際視野 (B)企業為降低生產成本 (C)外籍勞工比臺籍勞工優秀 (D)政府鼓勵企業向外發展。

33.() 右圖是臺灣國小生畢業後的升學率百分比圖。請問：自民國五十年代中期以後，國小畢業後升國中的比率大增之原因為何？



(A)開始實施九年一貫 (B)開始推動多元入學 (C)開始實施九年國教 (D)開始實施十二年國教。

34.() 陳誠是中國近現代史上的一位重量級人物，是蔣中正最為器重的高級將領之一。他在民國 38 年起以不流血的方式推行的土地改革，成功讓臺灣進入工業化的黃金時代。請問，下列哪一政策或制度的實施也

與他有關？(A)實施戒嚴令 (B)解除戒嚴令 (C)台灣首次地方選舉 (D)向二二八受難者道歉。

35.() 臺灣被譽為「亞洲四小龍之一」，其主要是稱讚我國哪個方面的成就？ (A)經濟發展 (B)政治民主 (C)人口控制 (D)社會祥和。

二、題組

【題組】瑞典《尼瑞克日報》2019/05/15 的社論表示：『2018 年，臺灣在全球醫療效率排行榜中排行第九，卻不被允許其參與全球公共衛生組織。然而世界各國，包含日本、德國、美國和澳洲在內，都表態支持臺灣成為世界衛生大會 (WHA) 觀察員。』

36.() 根據報導中描述的情形，最可能與下列何者因素有關？(A)臺灣人環保觀念不佳，不符合國際潮流 (B) 臺灣面積較小，無法發揮影響力 (C)與美國斷交所造成的影響 (D)中國政府的蓄意打壓。

37.() 承上，目前我國有加入的國際組織，下列何者完全正確？(A)世界衛生組織 (WHO)、世界貿易組織 (WTO) (B)世界貿易組織 (WTO)、世界氣象組織 (WMO) (C)亞太經濟合作會議 (APEC)、世界貿易組織 (WTO) (D)世界銀行組織 (WBG)、亞太經濟合作會議 (APEC)。

38.() 「繳陽春麵的錢，給牛肉麵的服務」、「保費低、給付多、看病無障礙」，上述對於台灣醫療的稱讚，應該是針對哪一下列制度？(A)全民健康保險 (B)長照 2.0 (C)公費醫師培育制度 (D)國民年金制度。

【題組】有 3 個臺灣人死後在天國相聚，自我介紹時，他們各自針對出生年代、所處的時代作簡短的說明。請問：甲君：1923 年生，較沒有自由但有秩序、安全感的年代 乙君：1945 年生，正是改朝換代，令人歡欣鼓舞的一年 丙君：1979 年生，國家外交陷入困境的一年

39.() 甲君所處的時代「較沒有自由但有秩序、安全感」，與當時哪種社會現象最相關？ (A)守法觀念的養成 (B)衛生觀念的落實 (C)民主自由的發展 (D)守時觀念的普及。

40.() 乙君說：「正是改朝換代，令人歡欣鼓舞的一年」，這與下列哪場戰爭結束有關？ (A)甲午戰爭 (B)第一次世界大戰 (C)第二次世界大戰 (D)國共內戰。

41.() 承上題，這是哪兩個時代的轉換？ (A)日本殖民→中華民國 (B)日本殖民→中華人民共和國 (C)清領時期→日本殖民 (D)中華民國→日本殖民。

42.() 丙君出生的那一年，「國家外交陷入困境」與下列哪一個事件或情況時段重疊？ (A)二二八事件 (B) 鄉土文學的興盛 (C)兩岸交流時期 (D)中華人民共和國建立。

耐心等待下哦~



下頁尚有題目~

【題組】民國五十~七十年代左右，產生不少述說著人們離開家鄉到城市打拚的歌曲，像是「孤女的願望」、「田莊兄弟」、「愛拚才會贏」等，歌詞中不乏出現找工作的經驗、出外闖蕩的心情。請回答下列問題：

- 43.() 依照當時的時代背景，為什麼許多人要離開家鄉，出外謀生？ (A)土地改革失敗，農村更貧窮 (B)工業發展迅速，農村人口外流 (C)大量外勞進入農村，使工作機會減少(D)失業狀況嚴重，經濟發展停滯。
- 44.() 民國五十年代，政府實施什麼經濟策略，來拓展海外市場？ (A)三七五減租 (B)發展高科技產業 (C)發展食品、家電等輕工業 (D)加入世界貿易組織。
- 45.() 民國 60 年，某位鄉村青年來到城市，他可能看到什麼重大事件充斥著報紙的新聞版面？ (A)韓戰爆發 (B)臺灣關係法的制定 (C)美國與我國斷交 (D)我國退出聯合國。
- 46.() 「三分天注定，七分靠打拚，愛拚才會贏…」這首經典歌曲發行於 1988 年，正逢臺灣人民努力打拚，創造臺灣經濟奇蹟的階段。請問：下列哪一描述與此首歌曲發行的背景年代最不相關？(A)經濟轉型邁向高科技產業 (B)社會呈現多元文化 (C)原住民文化與權益開始被關注 (D)因加入世界貿易組織而出現農民抗議現象。

【題組】圖文整合題

國民各說各的話，真是一場大笑話。
國民不會說國語，實在是國恥。
會說國語真方便，不會說國語處處難。
方塊漢字，很難記憶；拼音文字，真真便利。

圖(一)



圖(二)

- 47.() 民國 34 年起在臺灣推動的「國語運動」，推廣的是下列哪一種語言？(A)閩南語 (B)北京語 (C)日語 (D)阿美族語。
- 48.() 承上題，臺灣人被政府要求說「國語」，已經不是歷史上的第一次。下列何者與此時期的政府措施相近？(A)日治時期皇民化運動 (B)原住民正名運動 (C)推行雙語運動 (D)還我母語運動。



圖(三)

- 49.() 觀察圖(三)，曾公開表態「臺灣是夥伴」的非洲國家—布吉納法索，於 2018 年 5 月宣布與中華民國終止邦交關係，並迅速與中共建交。請問：下列哪一個國家不曾是臺灣的邦交國？(A)美國 (B)布吉納法索 (C)索羅門 (D)中華人民共和國。
- 50.() 我國政府的「務實外交」態度，起自於哪一位總統上任之後？(A)蔣經國 (B)李登輝 (C)陳水扁 (D)馬英九。