

桃園市立大有國民中學一〇八學年度第一學期第三次評量試卷

年級	八	考試科目	歷史			命題範圍	第五~第六章	作答時間	45分
班級		姓名		座號		分數			

一、選擇題

()1. 「書中自有顏如玉，書中自有黃金屋」、「十年寒窗無人知，一舉成名天下聞」。這些話語都是根據宋代某種社會風氣來的。請問何者最可能是這些話指涉的社會風氣？ (A)重武輕文 (B)重視科舉 (C)唯利是圖 (D)熱中學術。

()2. 明太祖當權時，大臣上奏的文字中如果有「光」、「尚」、「生」等字的出現，很可能會招來殺頭之罪。這是什麼原因？ (A)廣興文字獄的結果 (B)大臣文學素養太差 (C)皇帝出身寒微，許多字不認識 (D)觸犯特務錦衣衛。

()3. 資料一：直角、對角、三角形、平行線等數學名詞，都是經過他嘔心瀝血，反覆推敲後確定下來的。資料二：他與利瑪竇合作翻譯《幾何原本》。上述兩則資料中的人物是誰？ (A)羅貫中 (B)宋應星 (C)李時珍 (D)徐光啟。

()4. 附圖為《看漫畫學中國歷史》中的圖，描述五代十國時士兵發動兵變，擁立皇帝。



根據圖中描述，此圖是指下列哪一事件？(A)澶淵之盟 (B)陳橋兵變 (C)靖康之禍 (D)強幹弱枝。

()5. 歷史老師請同學在黑板上寫下元朝的種族政策之比較，如附表。請問：表中哪一項正確？

族群	內容
蒙古人	擅長理財，多擔任財政職務
色目人	包括西域各族和西夏人
漢人	擔任中央到地方的重要官職
南人	包括原本受金朝統治的漢人、契丹人、女真人

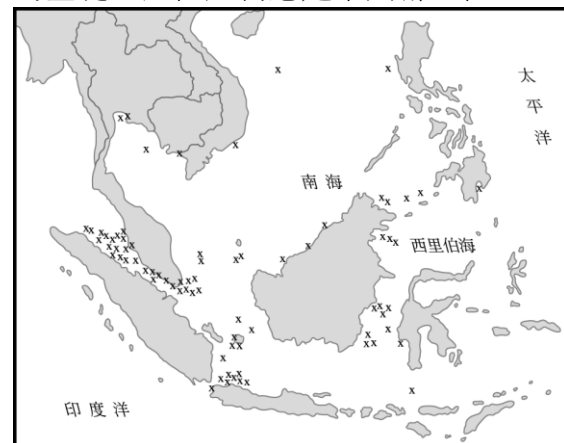
(A)蒙古人 (B)色目人 (C)漢人 (D)南人。

()6. 歷史恩仇常會遺延子孫，創建大金國的女真族□氏後裔因祖先跟南宋大將岳飛敵對，迄今仍傳襲著「三不」祖訓。一是不聽不看《說岳飛全傳》，二是不唱不看《草坡面禮》與《八大錘》等戲曲，三是同姓同族不通婚，可與漢姓通婚但絕不能與岳姓通婚。請問：□應是指女真族的哪一姓氏？ (A)耶律 (B)乞顏 (C)愛新覺羅 (D)完顏。

()7. 中國史上有一位皇帝，即位後「輕佻治國，大興土木，倦於政事，把社稷江山斷送給北方的異族……。

雖生在帝王之家但卻熱愛藝術，其書法獨樹一格，人稱『瘦金體』。」請問：上文中的皇帝應該是指下列何人？ (A)隋煬帝 (B)唐玄宗 (C)宋徽宗 (D)元世祖。

()8. 「海盜」是指出沒海洋，憑藉暴力威脅等手段，搶劫過往船隻財物的歹徒。他們的存在對海運安全構成極大威脅，是國際間相當令人頭痛的問題。下圖是某雜誌報導2004年1月到9月海盜最常出沒的區域圖，其中「x」代表該區曾發生海盜攻擊事件的地點。歷史上，有一位人物航經此區域時剿平當時為亂的海盜，提高了國家的聲望，奠定日後華僑在此地區發展的基礎。這位人物應是下列哪一位？



(A)張騫 (B)鄭經 (C)施琅 (D)鄭和。

()9. 宋朝知名文學家蘇軾留下許多膾炙人口的文章，下列何者是他可能會體驗到的生活？ (A)每天晚上去夜市買消夜回家吃 (B)祖先庇蔭，因九品官人法而仕途一片光明 (C)因同鄉而得到閱卷官青睞，成功考取功名 (D)因為靖康之禍而放棄科舉，投筆從戎。

()10. 史料記載：「一條鞭法者，總括一州縣之賦役，量地計丁，丁糧畢輸於官。」此乃明代著名的政治家所提出改善賦役制度的良方。根據這份史料，下列何者正確？ (A)這位政治家應是王安石 (B)因政治問題而展開改革 (C)其辦法是田賦和力役折合為一 (D)次改革因引發東林黨爭而失敗。

()11. 請參考附圖，此漫畫從吳承恩的哪一小說改編？




(A)《西遊記》 (B)《水滸傳》 (C)《三國演義》 (D)《紅樓夢》。

()12.明朝末年，中國各地到處傳唱著「吃他娘，住他娘，吃住不盡有闖王，不當差，不納糧」、「殺牛羊，備酒漿，開了城門迎闖王，闖王來時不納糧」的歌謠。許多饑民與逃兵紛紛加入闖王的軍隊，使得闖王勢力大增，最後攻陷明朝國都，自立為帝。闖王是指何人？
(A)朱全忠 (B)吳三桂 (C)張獻忠 (D)李自成。

()13. 下列哪一組帝王在位時國力極盛，同時也是該朝代由盛轉衰的關鍵？ (A)漢武帝、元世祖 (B)宋太祖、明成祖 (C)唐玄宗、清高宗 (D)明成祖、清高宗。

()14. 〈聲聲慢〉：「尋尋覓覓，冷冷清清，悽悽慘慘戚戚。乍暖還寒時候，最難將息。」李清照在北宋末年遭遇戰禍，江山殘破、丈夫病逝，她獨自一人南逃避難。此詞道盡國破家亡的悲憤、流離失所的淒楚。請問：李清照南渡和哪一事件有關？ (A)永嘉之禍 (B)靖康之禍 (C)黃巢之亂 (D)安史之亂。

()15.佳芬閱讀某位中國皇帝傳記後，將這位皇帝的施政措施畫成漫畫，如附圖所示，依據圖中內容判斷，這個皇帝應為下列何者？

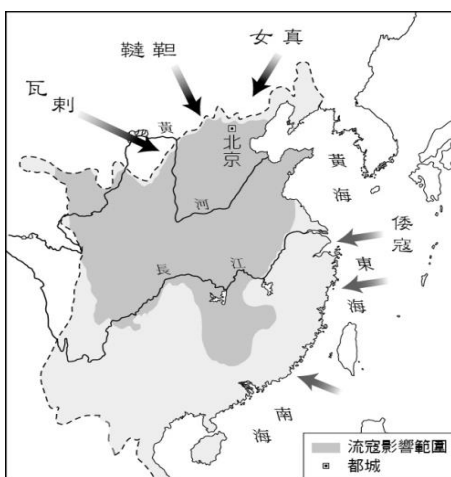


(A)明太祖 (B)明成祖 (C)明神宗 (D)明思宗。

()16.元朝廣設某機構，主要是提供信使、官員歇息或換馬的處所；不但便於政府的統治，也加速經貿的往來。請問：這是哪一類機構？ (A)驛站 (B)馳道 (C)烽火臺 (D)市舶司。

()17. 港星甄子丹因扮演「葉問」一角大秀拳腳功夫，紅遍大街小巷，他所主演的電影「錦衣衛」，則是圍繞在明代特務機構—錦衣衛而展開的。我們應如何正確解讀錦衣衛的歷史？ (A)錦衣衛為皇帝貼身侍衛，隸屬於宰相 (B)明太祖為鞏固政權創設，以監督官員 (C)與東廠同為特務機關，皆由宦官擔任 (D)滿清為穩固政權所設的，目的在監督漢人。

()18. 明惠在《漫話中國歷史》一書裡，發現下列附圖，表示中國某一政權正面臨嚴峻的考驗，處於內憂外患不斷的情況下。這很有可能是哪個朝代的問題？ (A)唐代 (B)宋代 (C)明代 (D)清代。




()19.明太祖朱元璋出身平民，下列哪一位帝王與朱元璋一樣同為平民出身的皇帝？ (A)漢高祖劉邦 (B)晉武帝司馬炎 (C)隋文帝楊堅 (D)宋太祖趙匡胤。

()20.關於《夢溪筆談》與《天工開物》二書之比較，下列何者正確？ (A)《夢溪筆談》為宋應星所著，《天

工開物》則為沈括所著 (B)《夢溪筆談》成書於明代，《天工開物》則成書於宋代 (C)兩書均只著重於科學理論的陳述 (D)兩者均為中國史上重要的科技著作。

()21.歷史資料的種類繁多，畫作也是其中之一。附圖是張擇端繪製的《清明上河圖》部分內容，參考這幅圖將最有助於研究下列哪一主題？ (A)漢代的鄉村生活 (B)大唐的繁華京城 (C)宋人的城市生活 (D)明初的園林造景。



()22.陳勝是世代居住於北京的讀書人，他生存的年代適逢明清政權交替之際他不可能經歷下列哪件事？ (A)李自成率領流寇，攻陷北京，家破人亡 (B)吳三桂引清兵入關，滿清得以統治中國 (C)清廷將他列入「南人」之列，使其備受歧視 (D)書寫文章時須小心注意，以免被曲解而喪命。

()23.阿邦的報告中，將古書籍及其特點整理成如附圖，其中何項概念正確 (A)甲 (B)乙 (C)丙 (D)丁。

甲、《四書集注》：理學集大成之作
乙、《漢書》：紀傳體通史史書
丙、《史記》：紀傳體斷代史史書
丁、《資治通鑑》：記言體通史史書

()24.許仙是清代的讀書人，寒窗苦讀，只盼有朝一日能考上科舉，入朝為官。某日，許仙在通過家鄉舉行的考試後，正「赴京趕考」，準備到京城參加更高階的考試，途中遇到了白蛇精轉換的白素貞，兩人陷入情網。許仙正準備參加什麼考試？ (A)童試 (B)鄉試 (C)會試 (D)殿試。

()25.唐朝中期所發生的牛李黨爭，與宋朝王安石變法所激起的新舊黨爭，都是中國歷史上綿延許久、鬥爭激烈的黨爭，但兩朝黨爭的本質仍有所不同。請問：唐、宋兩朝黨爭最大的差異點為何？ (A)前者是朝中大臣與藩鎮之間的鬥爭，後者則是對王安石變法的贊同與否 (B)前者是朝中大臣之間的鬥爭，後者是反對藩鎮的抗爭 (C)前者是朝中大臣之間為的鬥爭，後者則是對王安石變法的贊同與否 (D)前者是朝中大臣與藩鎮之間的鬥爭，後者是反對宦官干涉朝政的抗爭。

()26.中國歷史動亂頻繁，每每影響國計民生甚巨。請問：下列哪些亂事的性質是屬於宗室的叛亂？ (甲)八王之亂 (乙)靖難之變 (丙)黃巢之亂 (丁)靖康之禍 (A)甲乙 (B)甲丁 (C)乙丙 (D)丙丁。

()27.寶哥喜歡到處旅遊並且拍攝各地的建築與風景，他曾拍攝一張照片如附圖，此建築上寫著「山陝會館」，請問：這建築與何者有關？ (A)科舉制度的出現 (B)耶穌會教士東來 (C)佛教的普及 (D)商幫的形成。



()28.「他曾『怒髮衝冠為

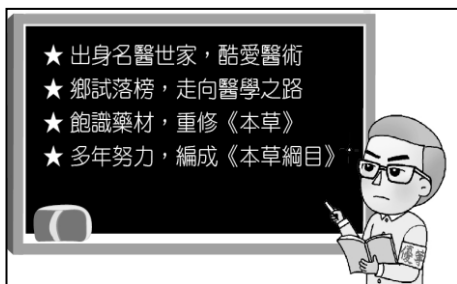
紅顏』，因為愛妾陳圓圓被流寇俘虜，決定引清兵入關，將中國的江山拱手讓與清朝，也因此留下了罵名。」下列哪個事件與上文中敘述的人物最相關？ (A)發動靖難之變 (B)支持張居正變法 (C)三藩之亂之首 (D)參與東林黨爭。

- ()29. 家佳在博物館某一個展覽廳中看到附圖中的文物，說明牌上寫著「景德鎮青花瓷」。請問：這個展覽廳的主題應該為何？(A)商周文化特展 (B)秦漢文化特展 (C)隋唐文化特展 (D)明清文化特展。



- ()30. 幾位同學陳述明清時代的對外貿易，以下何者的說明符合史實？ (A)翠珊：「明初與清初皆頒布海禁令，分別是為對付倭寇與鄭氏。」 (B)攀龍：「明清時隨著對外貿易展開，銅錢大量流出海外。」 (C)秀玉：「明成祖曾派遣官員率領艦隊下西洋，最遠到美洲西岸。」 (D)文彥：「明帝國自以為是天朝，不願開放貿易，周邊國家多與中國進行走私貿易。」
- ()31. 「中國某一朝代建國後，對於所統治的人民是以其征服的順序給予不同的待遇，因此他們對於漢文化相當冷淡，甚至對於知識分子相當鄙夷，認定他們只是比乞丐高一級而已。」以上是哪一朝代的情形？ (A)唐代 (B)元代 (C)明代 (D)清代。

- ()32. 歷史老師在介紹中國某位歷史人物時，在黑板上列出其生平事蹟，如附圖所示。老師正在介紹下列哪位人物？



- (A)羅貫中 (B)宋應星 (C)李時珍 (D)徐光啟。
- ()33. 歷史老師在黑板上貼上如附圖的一幅漫畫，以講解北宋與某一外族簽訂的盟約，雙方因而維持了百餘年的和平。請問：漫畫中胡人代表的是哪一國家？ (A)元 (B)金 (C)遼 (D)西夏。
- ()34. 中國自春秋戰國時代即出現許多不同形式的貨幣。下列關於各朝代貨幣發展的敘述，哪一個較符合史實？ (A)北宋時期出現「會子」 (B)南宋時期發行「交子」 (C)元代主要貨幣是「飛錢」 (D)明清以白銀與銅錢並用。



- ()35. 「這個皇帝出自政治考量而作成一項決策，他禁止耶穌會士來華傳教，中西交流在十八世紀前期中斷，然此後一百年是歐洲快速發展的時期，中國因此失去了學習的機會。」這是在描述哪個皇帝的作為及其影響？ (A)清高宗乾隆 (B)清聖祖康熙 (C)清世宗雍正 (D)清仁宗嘉慶。

二、題組

【題組】夏季雨水盈滿了蒙古東北的斡難河沖積平原。西元1160年，有位男孩在這兒降生。這位年少的領袖早年致力於將當地不同的游牧部落統一起來，大家尊稱他為「成吉思汗」。後來在他的率領之下，這些牧民族組成龐大的軍隊走出草原、越過沙漠，四處征伐與其生於同一時代的定居社會。請回答下列問題：

- ()36. 文中所指擁有「成吉思汗」稱號的蒙古領袖是誰？ (A)忽必烈 (B)窩闊臺 (C)鐵木真 (D)察合臺。
- ()37. 承上題，這位領袖與其子孫所組成的軍隊，共對西方發動了幾次大規模的征伐？ (A)一次 (B)二次 (C)三次 (D)四次。
- ()38. 關於蒙古西征的舉動，下列敘述何者錯誤？ (A)西征之後所得到的領土遠達非洲 (B)歐洲人將西征的大軍視為「黃禍」 (C)在征服的地區建立四大汗國 (D)西征期間滅亡了西夏，隨後又滅金國。

【題組】歷史老師介紹一位人物，要同學找相關資料。以下是同學們找到的資料，請問：

資料一：「他出身貴族世家，其家族受到康熙皇帝的眷顧，因此得以晉陞為顯赫家族。」

資料二：「雍正皇帝時，因虧空巨額公款遭到抄家懲處，他隨家人遷回北京，餘生窮困落魄。其善長書畫，而最大的成就是創作了一部曠世巨著，被譽為中國古典長篇小說的巔峰。」

資料三：「他的曠世巨著可說是其家庭遭遇的寫照，著重描寫上層階級揮霍無度的奢靡生活，但也透過婢女的悲慘下場，控訴強調社會階級的舊時禮教。」

- ()39. 根據三段資料，文中敘述的應是哪一位人物？ (A)曹雪芹 (B)羅貫中 (C)施耐庵 (D)吳承恩。
- ()40. 資料中的曠世巨著是指哪一本書？ (A)《三國演義》 (B)《水滸傳》 (C)《西遊記》 (D)《紅樓夢》。

【題組】有則笑話這樣說著：「美國泳壇名將菲爾普斯在2008年奧運拿下八面金牌，卻悶悶不樂。一問之下才知道他認為岳飛才是全世界最會拿金牌的紀錄保持人，因為他一次就拿了十二道金牌。」若回歸史實探討，請問：

- ()41. 岳飛最後卻以「擁兵逗留」等莫須有的罪名慘遭殺害，令後人不勝唏噓。岳飛的死與下列何者有關？ (A)朝廷主戰 (B)重武輕文政策 (C)蒙古南侵 (D)高宗的偏安心態。
- ()42. 下列何人的生平事蹟與心願和岳飛最為相似，在歷史定位中屬於同一類別？ (A)沈括 (B)宋應星 (C)鄭成功 (D)趙孟頫。

【題組】乾德元年(963年)春天，皇帝在退朝後留下石守信、高懷德、王審琦……諸高級將領飲酒。酒至半酣，皇帝對部下們說：「我若沒有諸位也不會有今天。雖然我身為天子，還不如做節度使來的快樂。我自從當了皇帝之後從來沒有好好睡過。」

此話令石守信等人大驚失色：「陛下怎麼這麼說，現在天下已定，誰敢再有異心？」皇帝說：「誰不想要富貴？有

一天，你們麾下想要得富貴的將領們把黃袍加在你們身上，縱使我不想造反，那時還由得著你們嗎？」石守信等將領謝恩：「臣等愚昧，還請陛下可憐我們，指示一條生路。」

皇帝藉機表達了勸他們放棄兵權，建議「人生猶如白駒過隙，不如多累積一些財產，買一些良田、華麗的房子，留下來給後代子孫，家中多置一些歌伶舞妓，日夜飲酒相歡以度終年，君臣之間，沒有猜疑，上下相安，這樣不是很好嗎？」第二天，將領們紛紛稱病請求辭職，皇帝一一詔准。



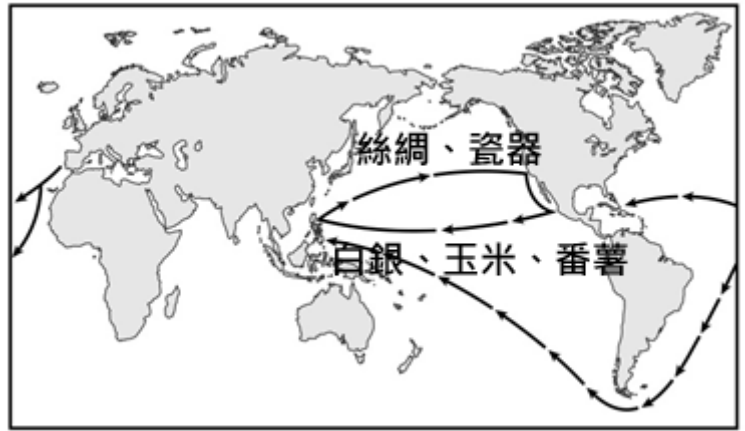
- () 43. 上文中的「皇帝」應是指下列何人？ (A) 隋文帝楊堅 (B) 唐太宗李世民 (C) 宋太祖趙匡胤 (D) 元世祖忽必烈。
- () 44. 該位皇帝這樣做的主要原因為何？ (A) 受宋朝王安石變法的影響 (B) 因邊族貧弱，國防已無威脅 (C) 希望終止漢朝外戚專權的弊病 (D) 欲改正唐末以來藩鎮割據的狀況。
- () 45. 承上題組，下列哪一事件與文中主角**最不相關**？ (A) 黃袍加身 (B) 強幹弱枝 (C) 大封諸子為王 (D) 定都汴京。

【題組】附圖是南宋對外形勢圖，請依圖回答下列問題：



- () 46. 金庸小說《射雕英雄傳》中兩位男主角的父親（結拜兄弟）分別將自己的兒子取名為郭「靖」與楊「康」，為了是希望後代不要忘記亡國之恨。引發靖康之禍的外族位於圖中何處？ (A) 甲 (B) 乙 (C) 丙 (D) 丁。
- () 47. 承上 46 題，金庸的另一部小說《天龍八部》主角之一的喬峰，是個武林蓋世的英雄，他後來發現自己是契丹人，被中原武林同道唾棄。請問：這個小說的背景應在下列哪個時期？ (A) 隋唐時期 (B) 北宋時期 (C) 南宋時期 (D) 元朝。
- () 48. 下列哪一個民族與附圖中「乙」屬於同一族群？ (A) 契丹 (B) 党項 (C) 韃靼 (D) 滿洲。

【題組】附圖為是十七世紀大航海時代的路線圖。請問：



- () 49. 「海上絲路」的開闢者是哪國人？ (A) 葡萄牙人 (B) 西班牙人 (C) 荷蘭人 (D) 英國人。
- () 50. 葡萄牙人以何地為據點，從事東方貿易？ (A) 香港 (B) 澳門 (C) 臺灣 (D) 菲律賓。