

桃園市立大有國民中學 108 學年度第一學期第三次評量試卷

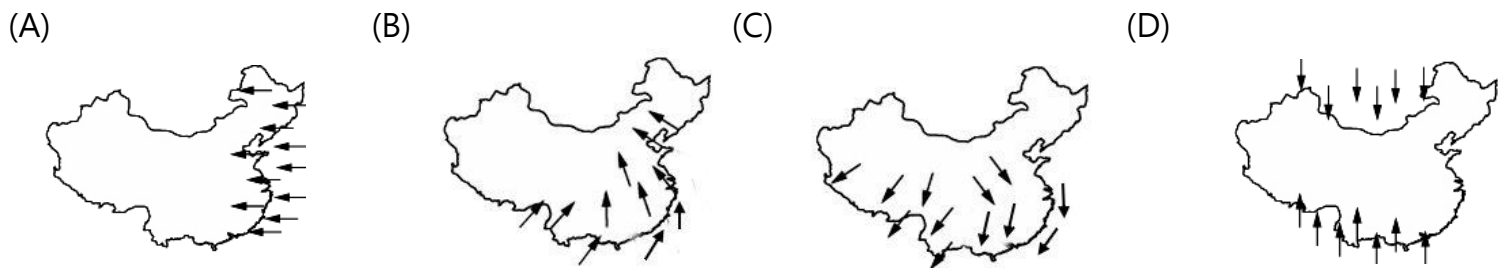
年級	八年級	考試科目	地理			命題範圍	第 1-6 章	作答時間	45 分
班級		姓名		座號		分數			

◆請將正確答案，塗在答案卡上，並確認答案卡上班級、座號是否塗寫正確。

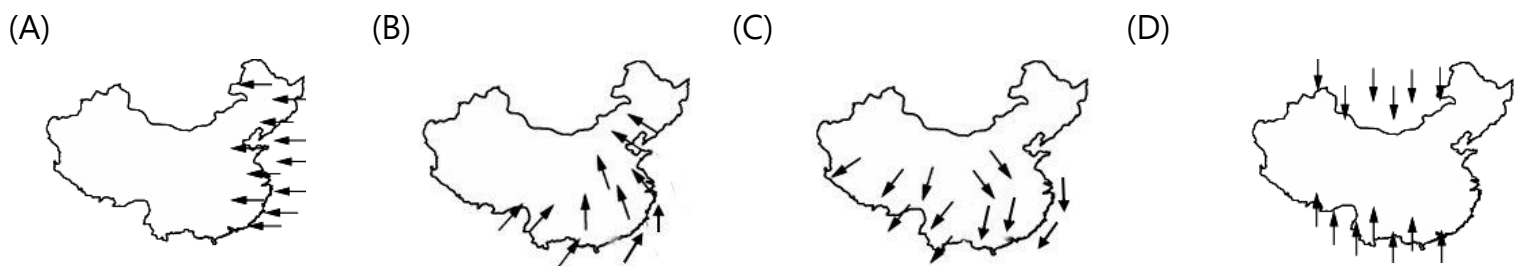
◆單選題，每題2分，共50題，總分100分

第一頁，共四頁

1、中國的降水主要是受到某盛行風影響，造成空間與時間上分布不均。下列哪一張圖最符合此盛行風的風向？



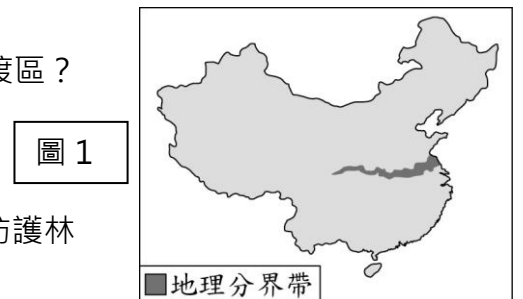
2、中國霧霾及沙塵暴嚴重時，北京口罩銷售就會特別好。若只考慮沙塵造成的空氣汙染，請問當吹起哪種盛行風，北京口罩商業績會最好？



3、長江是中國最重要的河川，水流豐穩、航運發達，但是近年來長江中、下游卻經常發生水患。此一現象與以下何者較無關聯性？ (A)開墾坡地 (B)圍湖造田 (C)上游森林開發 (D)南水北調工程

4、附圖 1 為中國某學者繪製的重要地理分界帶。此分界帶大致為下列何種現象的過渡區？

- (A)作物：小麥與水稻分布 (B)產業：農業區與畜牧區
(C)水文：內流區與外流區 (D)地形：第二級階梯與第三級階梯



5、中國為避免土地荒漠化情形更加嚴重，設置多處防護林，何處最可能為政府種植防護林的重點區域之一？ (A)長江沿岸 (B)東南沿海 (C)橫斷山脈 (D)黃土高原

6、張三被公司外派到深圳經濟特區工作，2020 年臺灣總統大選時，他誓言一定返臺投票。請問張三的外派地點應該位於圖 2 中何處？(A)甲 (B)己 (C)戊 (D)丙

7、承上題，中國近年又設立了喀什經濟特區，可一路連接歐亞，相當有利於發展邊境貿易。請問：該經濟特區位於附圖 2 中何處？(A)甲 (B)乙 (C)丙 (D)丁

8、臺灣在 1970 年代末期後，由於生產條件的改變，許多紡織、製鞋等類型工廠紛紛遷往中國設廠。當時遷往中國設廠的企業，主要考量的因素為下列何者？

- (A)市場廣大 (B)工資低廉 (C)礦藏豐富 (D)技術進步

9、防護林的種植為中國實施的一項生態建設工程，若依據冬季盛行風向判斷，沙塵暴好發的北京，鄰近區域防護林的栽植應以哪種方向為佳，才容易阻擋沙塵？



10、右圖 3 為中國某經濟作物分布圖，請問圖例最有可能標示為哪種作物？

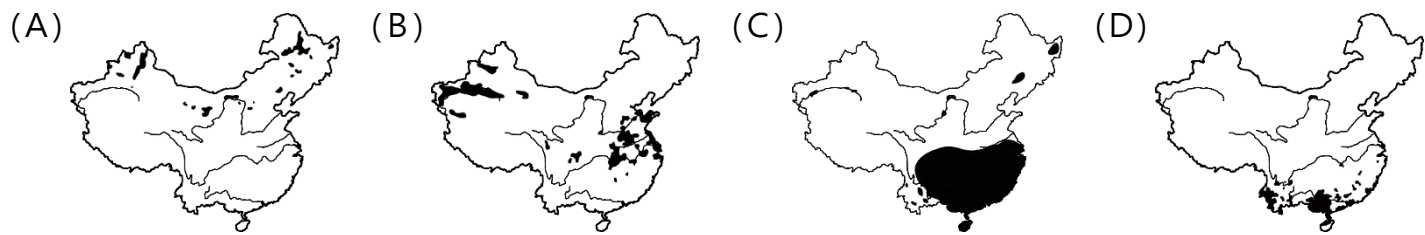
- (A)小麥 (B)棉花 (C)甜菜 (D)茶葉



11、青藏鐵路的建設為中國重大的世紀工程之一，在青藏鐵路的建設過程中，所遇到的困難之一，即為「凍土」易造成下陷的問題。該地區出現凍土與下列哪項地理特徵有關？

- (A)緯度較高 (B)受到寒流侵襲 (C)位於冬季冷高壓中心 (D)海拔地勢較高

12、下列為中國四種農作物主要分布圖，其中代表甜菜的是何者？



13、中國詩詞中「滾滾長江東逝水」、「恰似一江春水向東流」，指出河水東流的情況。

- 此現象和以下哪項工程的興建最相關？ (A)南水北調 (B)青藏鐵路 (C)京杭大運河 (D)三北防護林

14、有人宣稱：中國沿海城市不再是勞力密集的「世界工廠」。關於此論述，下列敘述何者「不正確」？

- (A)中國沿海城市紡織廠出現嚴重缺工 (B)部分勞力密集的工廠選擇遷往內陸省份
(C)中國人口出生率低，未來勞動人口比例衰退 (D)很多技術性密集產業因此選擇遷廠到東南亞

15、中國早期文明多發源自長江、黃河等重要河川的兩側地區。若要尋找這兩條河川的源頭，

- 最可能位於哪一種氣候區內？ (A)副熱帶季風氣候 (B)熱帶季風氣候 (C)溫帶沙漠氣候 (D)高地氣候

16、中國北部較適合重工業的發展，南部則以輕工業為主，這是受限於南部地區哪一項條件的影響？

- (A)勞力不足 (B)缺乏礦產 (C)交通不便 (D)平原廣大

17、中國東西區域發展不平衡的現象顯著，國內貧富差距的問題漸趨嚴重。此現象與下列哪一項措施的推行有關？

- (A)一胎化政策 (B)長江大壩興建 (C)經濟改革開放 (D)計畫經濟

18、表 1 為 2017-2019 年臺灣對中國投資產業概況表，表 2 為 2018-2019 年中美貿易戰下，2019 年臺商回流臺灣的前三大產業概況表。關於下列敘述，參考表 1、表 2，何者正確？

- (A)近幾年臺灣對中國投資轉向原料密集產業 (B)中美貿易戰下，臺商回流產業以技術密集型為主
(C)近幾年臺灣對中國投資轉向勞力密集產業 (D)回流臺灣的產業多以原料、勞力密集型產業為主

表 1

臺灣對中國投資前四名產業概況

排名	2017 年		2018 年		2019 年 1-11 月	
	產業別	投資比重 (%)	產業別	投資比重 (%)	產業別	投資比重 (%)
1	電子零組件製造業	20.7	電子零組件製造業	21.7	批發及零售業	23.0
2	非金屬礦物製品製造業	12.2	批發及零售業	14.0	電子零組件製造業	15.8
3	金融及保險業	11.6	化學材料製造業	9.4	化學材料製造業	9.5
4	電腦、電子產品及光學製品製造業	11.6	電腦、電子產品及光學製品製造業	9.0	電腦、電子產品及光學製品製造業	7.4

資料來源：2019 年 國家發展委員會 統計資料

表 2

中美貿易戰 台商回流前三大產業 單位：新台幣(億元)

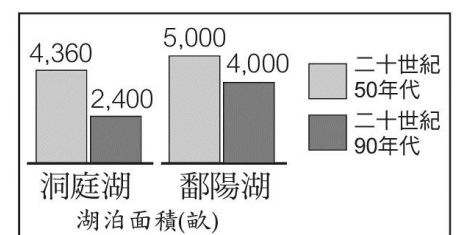
產業別	金額	占比	備註
電子資訊產業	1976	69%	台達電、智邦等
金屬機電產業	474	16%	巨大、順德工業等
民生化工產業	435	15%	廣泰金屬等

資料來源／經濟部 說明：數據統計截至5月16日為止 中央社製圖

19、附圖 4 是中國兩大淡水湖泊的面積變遷，造成洞庭湖面積大量縮小的主因為何？

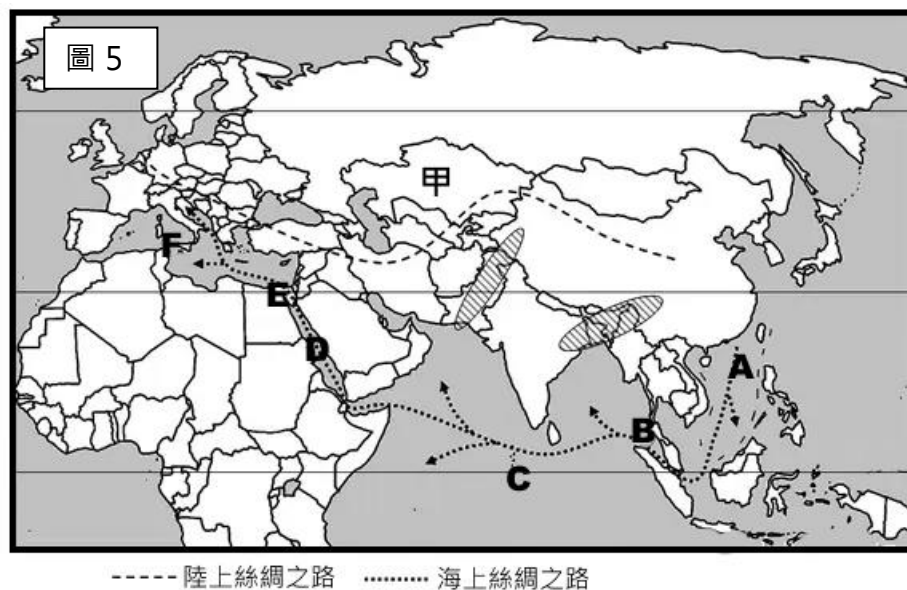
- (A)大量輸水給黃河流域 (B)三峽大壩攔截水源
(C)全球暖化，蒸發旺盛 (D)圍湖造田增加耕地

圖 4



20、一份外洩文件透露中國在新疆拘留營中，除了執行思想上的「轉化教育」還有關於生計勞動的「職業培訓」，因而被質疑中國招募廠商至新疆投資的製造產業鏈可能涉及強制勞動。該地區吸引廠商投資的應該是下列哪一項產業鏈？ (A)甘蔗—製糖產業 (B)棉花—服飾製造產業(C)大豆—榨油產業 (D)煤礦—鋼鐵工業

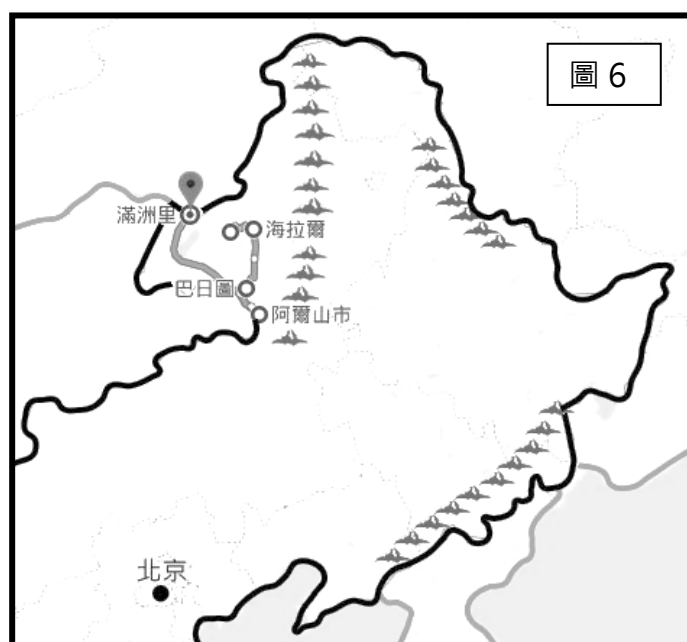
【題組】右圖 5 為中國「一帶一路」路線圖，請參考該圖回答下列問題。



- 21、海上絲綢之路無法串聯中國與哪個區域？
 (A)中亞 (B)南亞 (C)東南亞 (D)非洲
- 22、陸上絲綢之路，經由哪一個地理區可以和周邊國家進行邊境貿易？ (A)青藏高原 (B)準噶爾盆地
 (C)橫斷山脈 (D)柴達木盆地
- 23、中國西部地區可以透過陸上絲綢之路，和甲國購買石油，甲國為中國哪一個陸上鄰國？
 (A)日本 (B)尼泊爾 (C)哈薩克 (D)俄羅斯
- 24、海上絲綢之路從中國東南沿海出發，下列的描述何者正確？
 (A)東南沿海平原廣大，有利出貨卸貨 (B)東南沿海以岩岸為主，港口條件好
 (C)途經渤海，方便環渤海的商品出口 (D)途經南海，方便和日本、韓國貿易

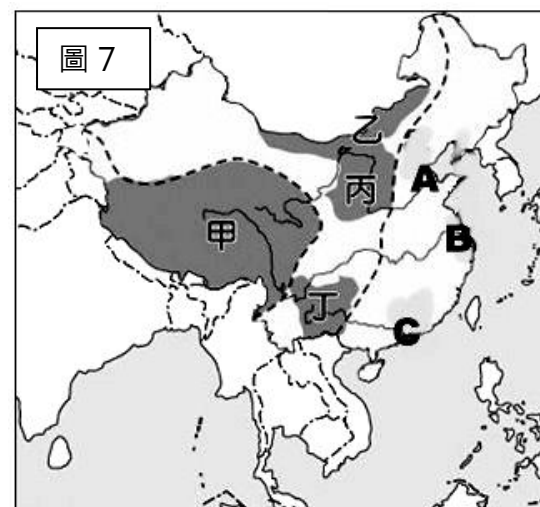
【題組】圖 6 為從海拉爾到滿州里，專門替呼倫貝爾草原、森林旅遊路線打造的「呼倫貝爾號」旅遊列車的路線圖。此列車 2019 年 12 月正式運營，以往當地旅遊受地域、季節的影響，呈現「草原熱、森林冷」和「夏季旺冬季淡」的現象。為滿足更多旅客需求，而推出全天候、全季候的軌道列車旅行方式。

- 25、呼倫貝爾草原森林旅遊線路中的森林，應該是位於鄰近的哪座山脈？ (A)太行山 (B)大興安嶺 (C)長白山脈 (D)怒山
- 26、若夏季前往阿爾山市外圍的阿爾山森林國家公園及海拉爾附近的呼倫貝爾草原，就能體驗該區域「草原熱、森林冷」的差異，請問兩地的溫度差異可能和下列何者有關？
 (A)緯度高低 (B)地勢高低 (C)迎風背風 (D)距海遠近
- 27、此路線，旅行社安排了當地少數民族聚落的參訪，旅客將有機會參與到的下列哪種文化體驗？
 (A)體驗手擠犛牛奶 (B)學習伊斯蘭教規範
 (C)參與那達慕運動會 (D)參與春耕播種水稻
- 28、要維持此段鐵路通行無阻，應特別留意下列何種可能在當地發生的環境問題？
 (A)沙漠擴張 (B)土石漫流 (C)凍土融化 (D)地層下陷。



【題組】請根據附圖 7，回答下列問題：

- 29、「自 1922 年以來，有近 300 人因攀登聖母峰而殞命，其中大部份遺體都還埋藏在冰雪之下。隨著全球暖化，聖母峰的冰川與積雪逐漸消融，近年來越來越多罹難山友遺體顯露，未來恐遭遇大量腐敗危機。」上文發生的區域最靠近圖中何處？ (A)甲 (B)乙 (C)丙 (D)丁。
- 30、承上題，隨著全球暖化，此區域的冰川與積雪消融，此一情形若不改善，長期將會引起下列何種問題？ (A)長江下游水患加劇 (B)沙塵暴更加嚴重
 (C)西氣東輸未能達成 (D)亞洲水源受威脅
- 31、圖中哪個地區因人口較多，森林覆蓋率低，土地缺乏植被保護，易被侵蝕，水土流失的問題最為嚴重？ (A)甲 (B)乙 (C)丙 (D)丁。
- 32、為解決洞庭湖圍湖造田造成河川下游的水患問題，中國在河川的上游建設了三峽大壩。請問：此一工程應位於圖 7 中哪條河川？
 (A)A (B)B (C)C (D)以上皆非
- 33、關於南水北調工程的敘述何者正確？
 (A)為解決 A 河流域缺水問題 (B)從 C 河引水北上 (C)為解決 B 河水患問題 (D)河川上游段利用京杭大運河運輸



【題組】請根據附圖 8，回答下列問題：

34、主要農業區(ABCD)與畜牧區(甲乙丙)之間大致以下列何者做為分界？

- (A)一月均溫18°C等溫線 (B)年雨量500mm等雨量線
(C)一月均溫0°C等溫線 (D)年雨量750mm等雨量線

35、甲區和乙區的畜牧方式不同，原因在於兩地何者條件不同？

- (A)地形起伏情況 (B)雨量多寡 (C)氣溫高低 (D)年溫差大小

36、犛牛具有耐寒的特性，被稱為「高原之舟」，

是附圖中哪一個牧區的主要牲畜？(A)甲 (B)乙 (C)丙 (D)以上皆是

37、丙區主要以何種牧業活動為主？(A)欄牧(B)放牧(C)水平移動的游牧(D)垂直移動的游牧。

38、A 區較不適合下列哪種農作物生長？(A)玉米(B)小麥(C)茶(D)甜菜

39、附圖中哪一個地區的農業活動年收穫次數可達3穫？(A)A (B)B (C)C (D)D。

40、收成次數多寡主要受到下列哪一項因素影響最大？(A)地形起伏 (B)冬溫高低 (C)降雨多寡 (D)盛行風向

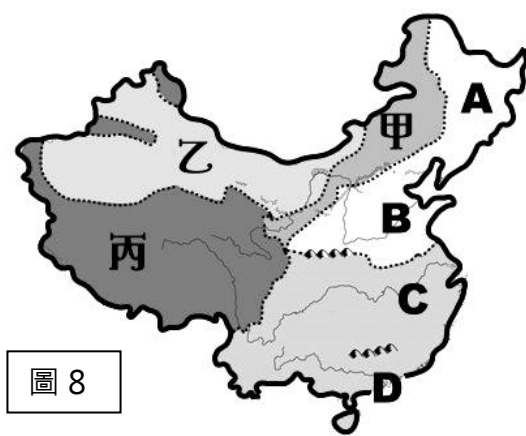
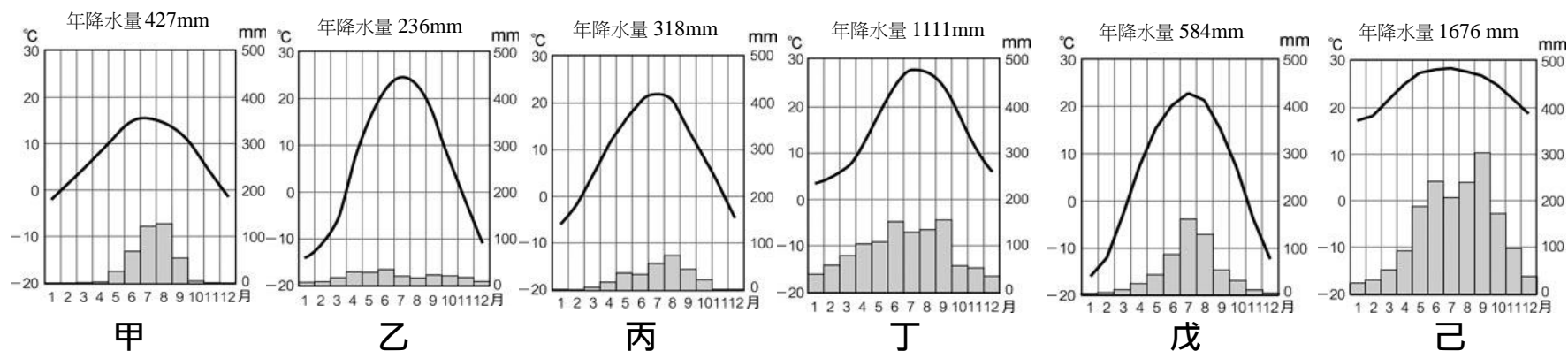


圖 8

【題組】請依據中國六大類氣候圖，回答下列各題：



41、若想要研究中國山牧季移狀況，應該前往下列哪一種氣候環境？(A)甲 (B)乙 (C)丙 (D)丁

42、畜牧方式以是否遷徙分為定牧和游牧，下列哪兩個氣候區皆屬於定牧？(A)甲乙(B)乙丙(C)丙戊(D)乙丁

43、地下水的蒸發常造成鹽類沉積在地表，使土壤呈現鹽鹼化的現象。

請問此現象最容易出現在哪一種氣候環境？(A)乙 (B)丁 (C)戊 (D)己

44、下列何者為中國主要稻作區分布的氣候環境？(A)甲 (B)丙 (C)丁 (D)戊

45、下列何者為最適合甘蔗生長的氣候環境？(A)丙 (B)丁 (C)戊 (D)己

【題組】為防治霧霾問題，中國制定「打贏藍天保衛戰三年作戰計劃」。而 2019 年 12 月中國與 A 國合作的東線天然氣管道正式生產通氣(如附圖 9 虛線)，希望透過天然氣供暖，改善冬季燃煤造成的空汙現狀，有助於這場藍天保衛戰。

46、依據中國的鄰國位置，此次與 A 國的天然氣管線合作，A 國指的是下列哪個國家？

- (A)蒙古 (B)俄羅斯 (C)哈薩克 (D)北韓

47、依據圖中中國與 A 國合作的東線天然氣管線(如附圖虛線)，此路線將供應天然氣給中國哪些經濟圈？

- (A)環渤海、長三角 (B)長三角、珠三角
(C)環渤海、珠三角 (D)長三角、環渤海、珠三角

48、下列哪條圖示路線也是中國內部的天然氣輸送路線，可支援另一區域的不足？(A)甲 (B)乙 (C)丙 (D)丁

49、中國曾對一月月均溫低於 0°C的區域施行免費供煤取暖政策。但如今為減少空汙，該區域目前強推煤改氣、煤改電，禁止冬季燃煤取暖。請問此區域大致位於下列哪條河流以北？(A)黃河 (B)淮河 (C)長江 (D)珠江

50、「霧霾中被稱為 PM 2.5 的致命細顆粒物約 40%來自煤炭。為打擊空汙，南韓 2019 年 12 月起將關閉國內 14 台燃煤電廠，而中國卻重新開始建造燃煤火力發電廠，並批准開採數十座新的煤礦場。中國每年的煤炭消費幾乎相當於世界上其他國家的總和。」下列哪一項說法可以說明上述情況？

- (A)中國高科技產業比例高，低耗能 (B)中國經濟落後，缺乏消費市場
(C)中國製造業成長，能源需求增加 (D)中國採用再生能源的比例極高

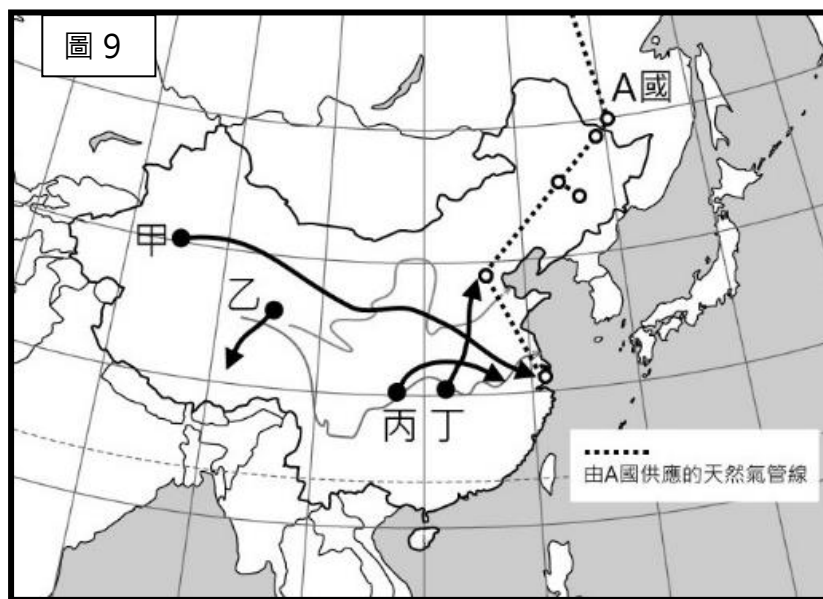


圖 9