

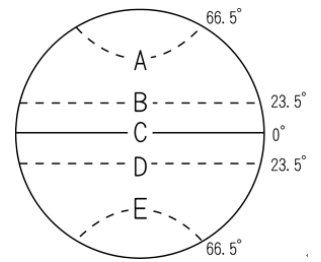
桃園市立大有國民中學 108 學年度第一學期第三次評量試卷

年級	九年級	考試科目	地理			命題範圍	單元 5~6	作答時間	45 分
班級		姓名		座號		分數			

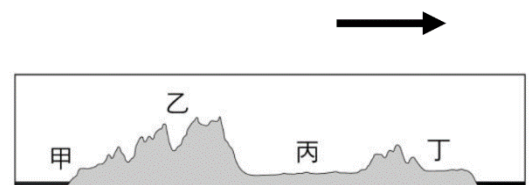
單選題(100%)，共 50 題，每題 2 分

- 2016 年里約熱內盧成為南美洲第一個主辦奧運的城市，「為了確保旅客安全及維護形象」，巴西政府首要處理的社會問題最可能是下列何者？(A)貧民窟聚集 (B)出生率下降 (C)雨林過度開發 (D)國民識字率低
- 農業大學教授為了深入了解北美洲的農業經營，特地從墨西哥灣一路往北部平原考察。在他的考察過程中，所看到的農作物景觀先後順序應該為何？(甲)春麥 (乙)冬麥 (丙)稻米 (丁)棉花
(A)甲→丁→乙→丙 (B)乙→甲→丁→丙 (C)丙→丁→乙→甲 (D)丁→甲→乙→丙。
- 美國農夫有「手提箱農夫」之稱，雇用工人耕作、以私人直昇機代步巡視農田。這突顯出美國的農業經營具有右圖中的哪些特色？(A)甲乙丙 (B)甲乙戊 (C)乙丙丁 (D)乙丙戊
- 中南美洲許多重要城市位在東南沿海地區，造成此現象的原因為何？
(A)腹地廣大，水源充足 (B)港口有利於資源輸出 (C)氣候較為涼爽
(D)形勢險要，戰略地位重要
- 近年來熱帶雨林面積大量減少，引發了許多問題，下列哪些項目跟雨林的開發有關？(甲)加速全球暖化 (乙)造成物種滅絕危機(丙)糧食價格波動(丁)水土流失嚴重。正確的有哪些？(A)甲乙丙 (B)甲乙丁 (C)甲丙丁 (D)乙丙丁
- 右圖為地球緯線簡圖。圖中哪條緯線未經過拉丁美洲？(A)B (B)C (C)D (D)E。
- 墨西哥近年來工業發展相當快速，該國吸引國外企業前往投資設廠的主要因素為哪些？
(甲)技術進步(乙)資金充沛 (丙)工資低廉(丁)關稅減免
(A)甲丙 (B)乙丁 (C)丙丁 (D)甲乙
- 北美大平原分布於北美洲中部地區，有關該平原的北部及南部地區各為何種作用所形成的地形景觀，附表中何者正確？
(A)甲 (B)乙 (C)丙 (D)丁
- 阿偉到加拿大打工度假已四個月，行前她知道加拿大是個雙語國家，但她所來到的這個地方竟只有法文的指示。請問打工度假的地方可能是加拿大哪一個地方？(A)魁北克 (B)格陵蘭 (C)拉布拉多 (D)阿拉斯加
- 五大湖連接聖羅倫斯河一帶是北美洲的重要工業帶，請問下列關於其發展優勢的敘述何者有誤？
(A)往大西洋出口，流向佳 (B)具航運之便 (C)鄰近有礦產資源 (D)海洋性氣候顯著，天氣宜人
- 西元 2001 年，美國金融公司提出「金磚四國」的概念，認為含巴西在內的四個國家將成為全球重要的經濟體，受到世界廣泛關注。請問：促使巴西經濟發展快速的原因應不包括下列何者？(A)擁有大量廉價勞動人口 (B)鐵礦等礦產資源豐富 (C)適合種植熱帶栽培作物 (D)加入北美自由貿易協定
- 右圖為北美洲的地形剖面圖，根據此圖判讀下列敘述何者『正確』？
(A)圖中的箭頭指向西方
(B)乙區為落磯山脈，受板塊擠壓，多火山、地震活動
(C)丙區為北美大平原，聖羅倫斯河流經南部，是重要的農業帶
(D)丁區是拉布拉多高原，冰河堆積，缺乏礦產

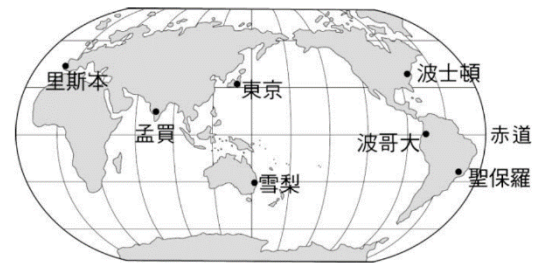
- | |
|------------|
| (甲)集約耕作 |
| (乙)商品化導向 |
| (丙)人平均耕地大 |
| (丁)機械化程度高 |
| (戊)單位面積產量大 |



	甲	乙	丙	丁
大平原北部	火山作用	冰河作用	冰河作用	海水作用
大平原南部	冰河作用	溶蝕作用	河川沖積	河川沖積



13. 蔡總統啟動「英翔專案」出席 2016 年 6 月 26 日舉行的巴拿馬運河拓寬竣工通航典禮。若總統從台灣出發，想順遊其他城市，根據右圖到達哪個城市的航程需經過巴拿馬運河？(A)東京 (B)孟買 (C)波哥大 (D)波士頓
14. 承上題，若此行總統順路出訪中美洲友邦，依序訪問宏都拉斯、參加尼加拉瓜總統就職典禮、再赴瓜地馬拉、薩爾瓦多。以下就此次出訪的敘述，何者錯誤？(A)出訪地屬於東印度群島的國家 (B)出訪地屬於殖民地式的經濟型態 (C)此行將會橫越國際換日線 (D)必須要有專精西班牙語的翻譯專員陪同



15. 關於美洲分區的描述，下列何者有「誤」？
- (A)依位置分布劃分—包括美國及其以北地區稱為北美洲，主要有美國與加拿大兩國
- (B)依位置分布劃分—將墨西哥到巴拿馬兩國之間的範圍稱為中美洲
- (C)依文化劃分—北美洲國家主要受英國統治影響，稱為盎格魯美洲
- (D)依文化劃分—中南美洲的國家主要受希臘、義大利統治影響，稱為拉丁美洲
16. 南美洲的「首要型都市」如聖保羅、布宜諾斯艾利斯市區內到處可見擁擠的人潮和貧民窟，與北美洲的大都市如紐約等市區欣欣向榮的景象不同。造成南美洲「首要型都市」現象的主要原因為何？(A)都市工商業發展，拉力太強 (B)鄉村經濟蕭條，推力太強 (C)鄉村出生率及死亡率均偏低 (D)都市有大批非洲裔移民移入
17. 小米參加美西旅行團，到了美國全世界屬一屬二的賭城。很難想像這個繁華喧囂的城市是位在乾燥的沙漠氣候之中。請問此區的沙漠氣候與下列哪個地區的沙漠成因相同？(A)墨西哥高原北部 (B)阿拉伯高原 (C)巴塔哥尼亞高原 (D)塔里木盆地

18. 華裔籃球好手林書豪於 2012 年在 NBA 紐約尼克隊因表現優異，捲起了一陣「林來瘋」後，於 2013 球季轉至休士頓火箭隊，後又被交易至洛杉磯湖人隊等。請問：上述林書豪所效力球隊的所在地，未包括附圖中何者？

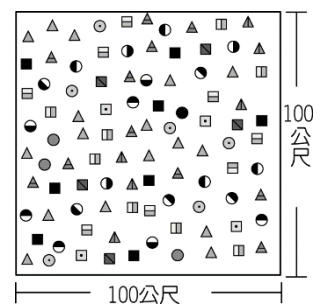


- (A)甲 (B)乙 (C)丙 (D)丁。
19. 近年來各區域經濟組織紛紛成立，許多國家相互結盟以增加競爭力。請問：拉丁美洲的哪一個國家因為加入「北美自由貿易協定」，成為會員國，因而吸引許多國外廠商前往設廠？(A)古巴 (B)墨西哥 (C)巴拿馬 (D)阿根廷。
20. 下列針對北美洲與中南美洲自然環境的敘述，何者「正確」？
- (A)兩洲的東側均為地震好發帶 (B)兩洲劃分大致以巴拿馬運河為界 (C)兩洲氣候皆涵蓋熱帶、溫帶及寒帶 (D)兩洲的第一長河分別為密西西比河及亞馬孫河

【題組-】台灣有一位熟知各類蚊子及其傳播疾病的專家，人稱「蚊子博士」。1980 年，他被外交部派到遙遠的南美「玻利維亞」，這個內陸國家幾乎是位在從台灣直線通過地球球心到達的另一側地表。他努力研究在當地山區蒐集到的蚊子，也深入亞馬孫流域進行研究，希望這個開發中國家也能免除瘧疾之害。

21. 下列哪一組經緯度坐標最接近上述內陸國家所在位置？(A) (60°W · 23.5°N) (B) (60°W · 23.5°S) (C) (120°W · 23.5°N) (D) (120°W · 23.5°S)
22. 上述內陸國家境內的山區，應屬於下列哪一座山脈？(A)落磯山脈 (B)阿帕拉契山脈 (C)安地斯山脈 (D)阿爾卑斯山

23. 右圖為巴西亞馬孫河流域的森林樹種分布圖，圖中各種符號代表不同的樹種。請依右圖資料判斷：當地森林景觀最可能為下列何者？(A)雨林 (B)針葉林 (C)落葉林 (D)針闊葉混合林。



24. 玻利維亞的首都「拉巴斯」為世界最高的首都，為何南美許多城市位於高山？
- (A)腹地廣大，水源充足 (B)平地溼熱，高山氣候涼爽 (C)交通中心，利於聯絡 (D)形勢險要，戰略地位重要
25. 近日玻利維亞的政治動盪，國內民族與階級的對立情緒高漲，開國第一位原住民總統也被迫辭職流亡，請問總統的身分是何種民族？(A)非裔黑人 (B)因紐特人 (C)歐洲裔白人 (D)印地安人

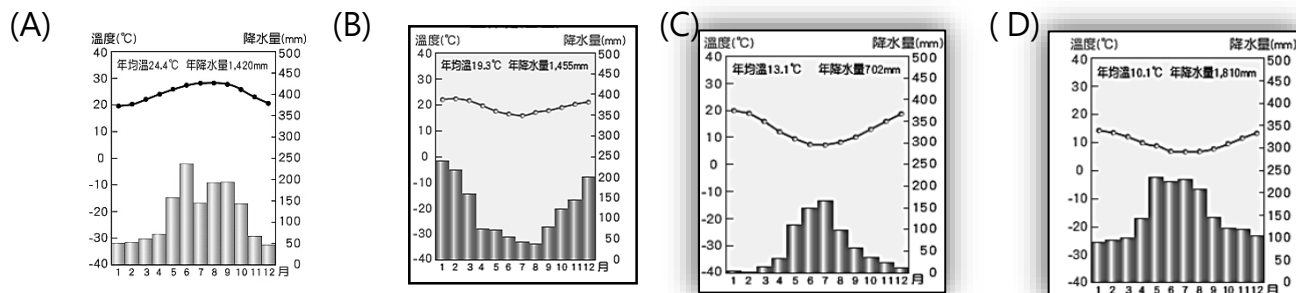
【題組】「革命前夕的摩托車日記」書中描寫南美的革命英雄切·格瓦拉，1951年僅22歲的他展開了一次壯遊之旅，騎著摩托車穿越南美大陸，打開他的眼界，也改變了他的人生，根據旅行的路線地圖回答下列問題。



26.他是在城市布宜諾斯艾利斯(右圖中●處)出生的白人，請問是在哪個國家？

- (A)巴西 (B)阿根廷 (C)智利 (D)秘魯

27.承上題，布宜諾斯艾利斯的氣候類型屬於下方哪個氣候？



28.他從小就受過良好的教育，請問在他的國家是以何種語言為官方語言？(A)西班牙語 (B)葡萄牙語 (C)英語 (D)法語

29.他為了這個壯志休學一年，騎著摩托車沿著圖中路線穿越南美大陸，請問他旅途所經的地方何者敘述錯誤？

- (A)多屬天主教國家 (B)多屬西班牙殖民的國家 (C)由亞馬孫河上游到下游 (D)終點在加勒比海沿岸

30.他到了智利這個狹長的國家，南北長達4200公里，請問由南到北穿越智利會依序經過哪些氣候，請由下列選項選出正確的排序 (甲)熱帶沙漠氣候 (乙)溫帶海洋性 (丙)溫帶地中海型

- (A)甲→丙→乙 (B)乙→丙→甲 (C)丙→乙→甲 (D)乙→甲→丙

31.他到了許多的礦區看到了當地原住民窮苦的景象，悲憫之心油然而生，請問下列礦區與盛產國家的配對何者正確？

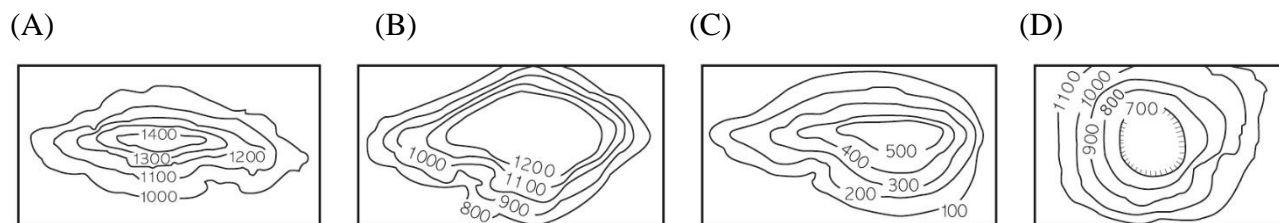
- (A)巴西·銅礦 (B)秘魯·鐵礦 (C)委內瑞拉·石油 (D)智利·銀礦

32.他到了曾經是古印加帝國的城市，緬懷過去強盛的南美文明，哀悼今日的貧窮落寞，請問針對此地的敘述何者錯誤？(A)是印地安人建立的文明 (B)有著特有的動物羊駝、駱馬 (C)南回歸線通過 (D)沿海有福克蘭寒流流經

33.一路上看到許多人背著家當前往都市討生活，請問有關南美洲都市化的現象何者正確？

- (A)政府鼓勵移民 (B)城市工商業發達 (C)鄉村普遍貧困 (D)都市化程度低

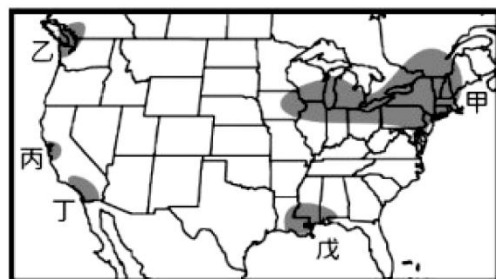
34.之後渡海到了墨西哥首都遇到了古巴革命領袖卡斯楚，請問該地為何種地形？



35.這趟旅行結束之後，他開始對中美洲人民的苦難感同身受，發現「殖民地式」的經濟讓人民永不脫身，因此決定跟著卡斯楚推翻古巴殖民政權，建立理想的共產社會，以下針對「殖民地式經濟」的描述何者正確？

- (A)利用廉價勞力栽種溫帶作物 (B)發展大規模粗放式農業 (C)為掠奪廣大資源多集中發展內陸城市 (D)容易受國際市場價格波動影響

【題組】右圖為北美工業分布圖，請根據提示回答下列問題：



36.「聖他克拉谷地」原來為果園區，戰後被規畫開發為無污染的工業區，吸引大批高科技產業來此設廠，是美國電子工業的中心，素有『矽谷』之稱。」上文描述的地區位於圖中的何地？(A)甲 (B)乙 (C)丙 (D)丁

37.承上題，請問此地為何種氣候類型？(A)溫帶沙漠 (B)溫帶地中海型 (C)溫帶海洋性 (D)溫帶大陸性

38.臺灣的臺塑企業選擇在圖右中「戊」處設立「石化工廠」，成為跨國企業的經營方式。台塑選擇此區設廠的最主要區位條件為下列何者？(A)開發較早 (B)原料充足 (C)勞工眾多 (D)交通便利

39.美國早期因煤鐵礦產資源豐富，汽車工業蓬勃發展，請問分布於圖中何處？(A)甲 (B)乙 (C)丙 (D)丁

40.「乙」地因氣候宜人，獲得全美最適合居住城市的封號，請問針對此地氣候的描述何者正確？

- (A)信風吹拂 (B)阿拉斯加暖流流經 (C)高地涼爽宜人 (D)氣候暖濕，夏雨較多。

【題組-】好萊塢(Hollywood)是今日美國電影工業中心，早期是一個淳樸的農村小鎮，20世紀後它以優越的氣候條件與多樣的拍攝場景吸引許多電影製造商前來追夢，新成立的電影公司不斷擴大規模，大製作的「美國電影」很快席捲全球，使好萊塢被封為「電影工業的世界中心」。美國的自然現象與社會議題都成了好萊塢電影的素材，請依據地圖回答下列問題：



41.好萊塢位於圖中哪個城市?(A)甲 (B)乙 (C)丙 (D)丁

42.好萊塢在早期的農村時期會看到何種景觀，下列敘述何者有誤?

(A)許多出產葡萄酒的農莊 (B)夏天需要仰賴灌溉 (C)栽種耐旱的作物 (D)冬天是棉花收成最好的季節

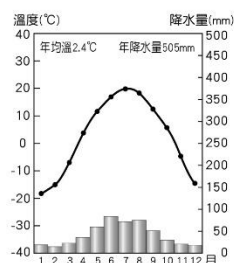
43.許多電影製造商決定離開紐約，尋找下一個電影夢土，最後來到了好萊塢，請問從紐約至好萊塢沿途依序經過哪些地形種類?(A)丘陵→平原→山地 (B)高原→平原→山地 (C)高原→山地→平原 (D)山地→高原→丘陵

44.好萊塢相較紐約擁有優越的氣候條件與多樣的拍攝場景，吸引電影創業者前往投資，好萊塢的條件下列何者有誤?

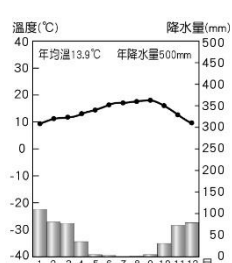
(A)降水量較少，天氣晴朗 (B)東側內陸有沙漠景觀 (C)南側有熱帶莽原景觀 (D)遠方有高山景觀

45 承上題，請問好萊塢的氣候類型屬於下方哪個氣候圖?

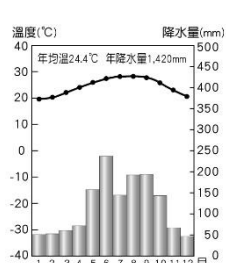
(A)



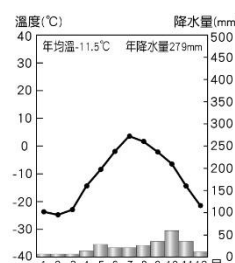
(B)



(C)



(D)



46.好萊塢近年流行拍災難片，讓大家感受大自然的力量與人類的渺小，電影《2012》是描寫地球末日的景象，包括火山爆發與地震，請問發生於圖上何處?(A)甲 (B)乙 (C)丙 (D)丁

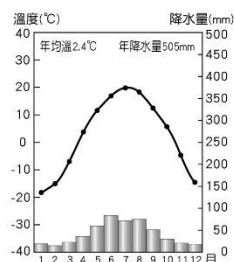
47.《明天過後》也是一部經典的災難片，全球暖化造成許多天氣的異象，請問有關天氣的災害下列敘述何者正確?

(A)龍捲風易出現在夏秋之間 (B)颶風由太平洋侵襲美國西岸陸地 (C)暴風雪是北方大陸冷氣團南下所造成 (D)沙塵暴容易發生在美國東北部

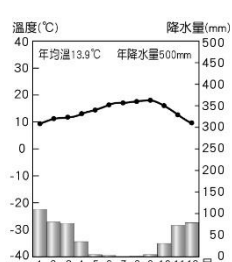
48.《鐵達尼號》是影史上票房最高的電影之一，沉船的地點在圖中★處，沉船的主因撞到洋流帶來的冰山，請問可能是哪條洋流呢?(A)加利福尼亞涼流 (B)阿拉斯加暖流 (C)拉布拉多寒流 (D)福克蘭寒流

49.電影邁阿密風雲中，以美國大城邁阿密為場景，整部電影配樂穿插雷聲悶響的音效，營造一種緊張震撼感，請問此地為下列何者氣候類型?

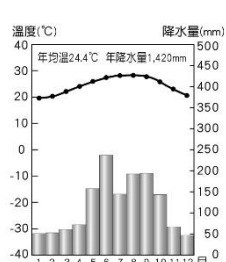
(A)



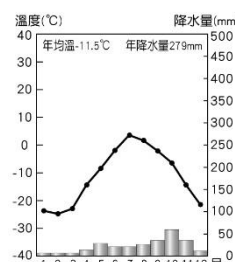
(B)



(C)



(D)



50.電影界最重要的盛會就是奧斯卡金像獎，某年頒獎惹來諸多批評，因為得獎清一色都是白人演員，遭到非洲裔的演員強烈的抗議，針對美國這些族群的敘述何者正確?(A)亞洲裔是16世紀受到政治迫害來到美國 (B)非洲裔早期主要在美國的棉花帶農場工作 (C)印地安人目前是僅次於白人的第二大族群 (D)美國各種族已長期融合，無衝突對立

《The End》

寫完不要忘了檢查喔~寒假快樂