





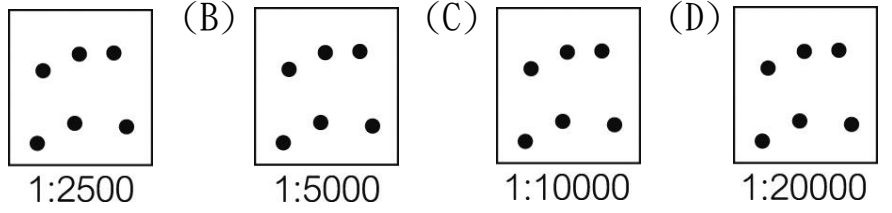


年級	七年級	考試科目	地 理		命題範圍	L1 ~ L2	作答時間	45 分
班級		姓名		座號	分數			

 選擇題，共 45 題，第 1~10 題，每題三分；第 11~45 題，每題兩分，計 100 分
 題目卷，共兩張四面，請仔細作答 第一頁

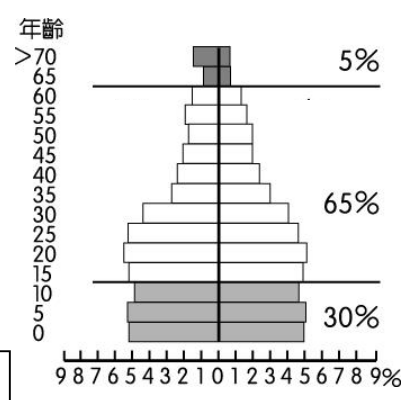
1. () 影響人口成長的因素眾多，試問下列何項人口數值的變化對全球人口總數的增減「影響最小」？
 (A) 出生率上升 (B) 死亡率下降 (C) 社會增加率下降 (D) 自然增加率上升。
2. () 人口集中往往有其形成的條件，下列關於台灣人口分布的概況，何者敘述最為正確？ (A) 受氣候影響，東部人口少於西部 (B) 平原、盆地人口多於山地人口 (C) 都市容易具有強大的推力 (D) 桃園、台中、台南是人口密度最高的三個都市。

3. () 論文想要開一間《你家便利商店》 (A)  (B)  (C)  (D) 
 ，基於人潮就是錢潮的想法
 ，論文可考慮在右圖中的何地開店
 ，營業額「可能最高」？
 (圖中每點代表 10,000 人)



4. () 『台北居，大不易』，隨著臺北市近年來的高漲的房價與物價，經濟壓力對許多臺北市的年輕人，儼然成為一大負擔。此一現象可能導致臺北市人口產生何種變化？ (A) 出生率增加、移出率增加 (B) 出生率增加、移出率減少 (C) 出生率減少、移出率減少 (D) 出生率減少、移出率增加。
5. () 《人口金字塔圖》可呈現一個地區人口結構的特色。關於繪製此圖的敘述方法，何項「描述有誤」？
 (A) 橫座標代表性別比例 (B) 橫座標代表女左男右
 (C) 縱座標代表年齡級距 (D) 年齡以 5 歲為一級距。

6. () 承上題，附圖一為某地的《人口金字塔圖》
 ，對於該地區人口結構特色的敘述，下列何者最為正確？
 (A) 壯年男子人口外移明顯 (B) 勞動人口所占比例最少
 (C) 屬於低金字塔型的人口結構 (D) 依賴人口約有 35%。



附圖一

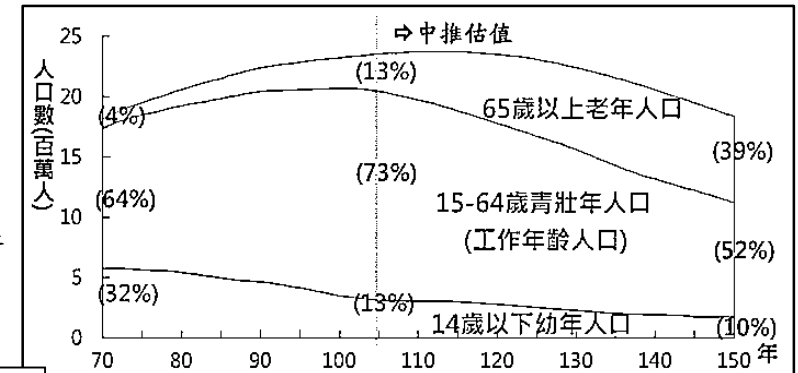
7. () 近二十年來，桃園人口中增加了許多因為婚姻關係而來台定居的新住民們，市政府除了協助她們在生活上的適應，也希望能在國小本土語的課程中，開設新住民的語言課程，好讓她們的子女也能學習媽媽的話。下列何者較可能是相關單位為這些新住民的子女們所開設的語言課程？
 (A) 英語 (B) 日語 (C) 越南語 (D) 韓語。

8. () 右表是甲、乙兩國的部分資料，根據此表，下列有關這兩國的比較敘述中，何者正確？
 (A) 甲國的人口密度較高 (B) 甲國的扶養比較高
 (C) 甲國的性別比較低 (D) 甲國的出生率較高。

	土地面積	壯年人口比例	總人口數
甲國	200,000 km ²	45%	1,000 萬人
乙國	35,000 km ²	52%	700 萬人

9. () 在臺灣參加中文識字班的外籍配偶們，常常在課堂中分享各自拿手的家鄉特色菜，請問這些新住民所分享的菜色中，下列哪道菜餚的出現機率「可能最低」？
 (A) 越南海鮮河粉 (B) 四川烤魚 (C) 日式鰻魚飯 (D) 港式煲湯。

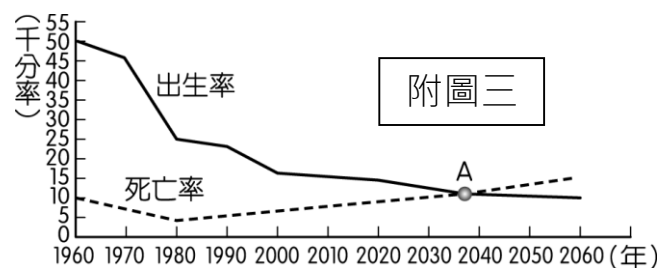
10. () 附圖二是《臺灣民國 70~150 年的人口比例圖》
 ，請問：根據圖中資料判斷，這段期間內，台灣扶養比的變化情形大致如何？
 (A) 先下降後上升 (B) 持續上升
 (C) 先上升後下降 (D) 持續下降。



附圖二

11. () 承上題，附圖二中對臺灣人口未來變化的趨勢判斷，可預測未來臺灣何種產業會有最大的發展潛力？
 (A) 婦產科診所 (B) 老人安養院
 (C) 電子加工業 (D) 學前幼兒園。

12. () 附圖三為大有國的《人口成長預測圖》。
請問：若不考慮社會增加率的影響，在圖中 A 點之後，該國的人口將會出現何種變化？
(A) 出生率與死亡率低降 (B) 扶養比上升
(C) 人口呈現負成長 (D) 人口性別比失衡。

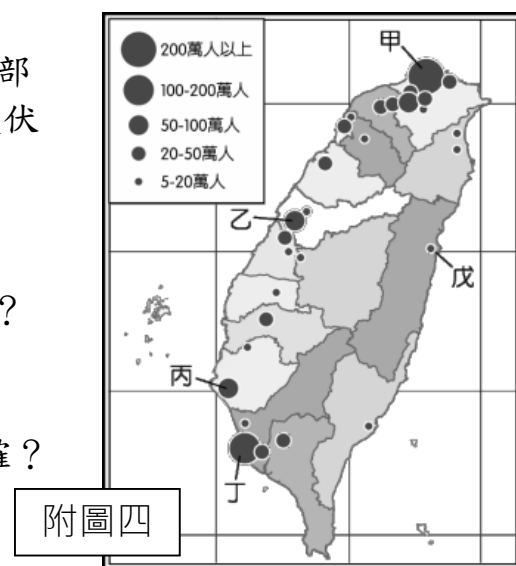


13. () 「臺灣的人口密度約為 650 人／平方公里，但在台北市，人口密度卻高達 9750 人／平方公里；而在臺東縣，人口密度卻只有 62 人／平方公里。」，根據上文中對人口密度的敘述，最可以發現臺灣的人口特徵為何？ (A) 臺灣人口分布不均 (B) 臺灣人力資源充足 (C) 人口總數呈負成長 (D) 扶養比節節上升。

14. () 由附圖四中可判斷，聚集 50 萬人口以上的地區明顯集中於西半部，下列哪些條件是造成台灣此一現象的影響因素？ (a) 地形起伏 (b) 經濟發展 (c) 政府政策 (d) 氣候類型 (e) 歷史開發
(A) abe (B) ade (C) bcd (D) bce。

15. () 承上題，附圖四中的『乙市』，於 106 年人口數超越『丁市』，下列何者「最不可能」是帶動『乙市』人口成長的重要拉力？
(A) 南來北往的交通中心 (B) 市府積極進行各項建設
(C) 經濟發展增加就業機會 (D) 色情行業多使治安不佳

16. () 承上題，關於附圖四中『戊地』的人口特色，下列敘述何者正確？
(A) 原住民眾多，其中以平埔族比例較高
(B) 交通不便影響發展，人口有外流現象
(C) 因面積廣大，故人口密度不低 (D) 隨著年輕人外移，扶養比因此下降。

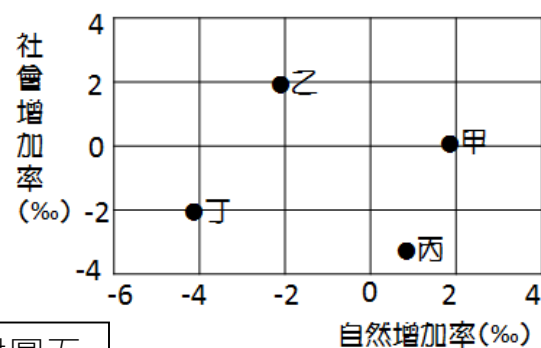


17. () 人口遷移的因素可大致分為推力與拉力。在台灣人舉家移民到美國的例子中，下列哪項因素是屬於此例中的「推力」？ (A) 台灣醫療品質良好 (B) 美國薪資水準偏高 (C) 台灣升學壓力沉重 (D) 美國治安不佳。

18. () 「生在台灣，食在台灣」，是身為台灣人的一大幸福，因為台灣美食眾多，有能讓人大大滿足的米食類、有能當餐後點心的甜食類，無論何時何地都能讓人大快朵頤、一飽口福，其中那一項食物是源自西方的飲食習慣，但卻讓我們身處台灣也能品嚐到的美味？ (A) 滷肉飯 (B) 生菜三明治 (C) 蔥油餅 (D) 牛肉麵。

19. () 附圖五為台灣四個地區的自然增加率與社會增加率，請依據圖中四地的人口成長情況，判斷哪兩個地區人口遷移的推力較為明顯？
(A) 甲&乙 (B) 乙&丁 (C) 甲&丙 (D) 丙&丁。

20. () 承上題，臺灣的人口分布受到各種因素的影響，呈現分布不均的現象。若圖中四地的人口數相同，試問何地的人口成長可能較其他地區更快？
(A) 甲 (B) 乙 (C) 丙 (D) 丁。

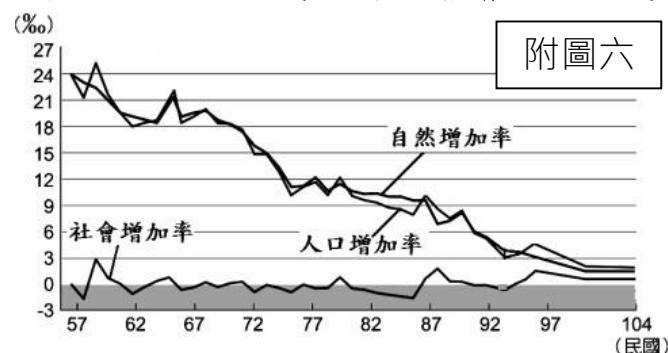


附圖五

身為台灣人，豈可不知台灣事，從台灣近代的歷史發展中，可發現每個時期皆有不同的因素影響著台灣的人口成長，請依題目所述，回答下列 21~23 題：

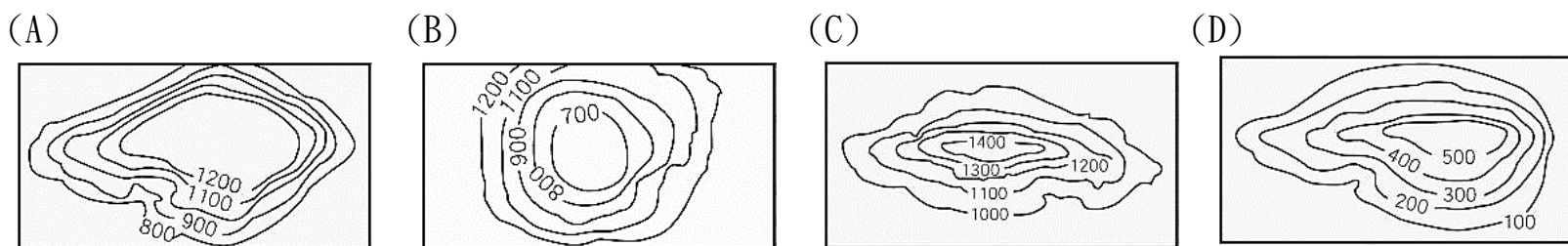
21. () 台灣人口中，清代福建移民的後代所佔比例極高，古書記載「漳泉諸府，負山環海，田少民多，出米不敷民食」，可見當時漳泉地區山多平原少、糧食不足的現象，形成了何種人口移動的力量？
(A) 居留原鄉的拉力 (B) 居留原鄉的推力 (C) 離開原鄉的推力 (D) 離開原地的拉力。
22. () 下列何者屬於人口成長中的社會增加？ (A) 臺灣在日治時期因各種傳染病受到控制，及農業生產力提高，人口總數明顯增加 (B) 中華民國政府遷臺，使得人口總數有所增加 (C) 六十年代，內政部實施家庭計劃，出生率開始逐漸降低 (D) 近年來，受到晚婚及少子化等因素的影響，人口成長緩慢。

23. () 附圖六為《臺灣人口成長趨勢圖》，若依此圖來觀察臺灣近代以來人口成長的情形，下列敘述何者最為正確？
(A) 人口成長主要受到自然增加率的變化影響
(B) 外籍配偶來台使出生率大幅上升
(C) 出生率持續下降使總人口數逐年減少
(D) 因健保施行，使得社會增加率大於自然增加率。



📖 文化，是人們生活方式的統稱，自古以來有許多不同的族群先後來到這塊美麗之島上，共同累積屬於彼此的文化資產，依序回答下列 24~30 題，一起來感受台灣族群的多樣性吧！

24. () 狩獵活動在臺灣原住民各族中，普遍被視為是部落神聖的大事，為了捕捉獵物，原住民必須精準掌握住動物的習性，更要對當地自然環境有相當程度的了解。下列哪張等高線地形圖最能呈現台灣高山原住民狩獵的主要地形區？



25. () 臺灣的客家族群人數雖不是最多，但為了延續自身獨有的語言與飲食，地方政府常常舉辦美食展與觀光季，希望藉此推廣在地的客家話與客家文化。上文所述最可能是指下列的哪一個縣市？
(A) 新竹市 (B) 新北市 (C) 苗栗縣 (D) 南投縣。

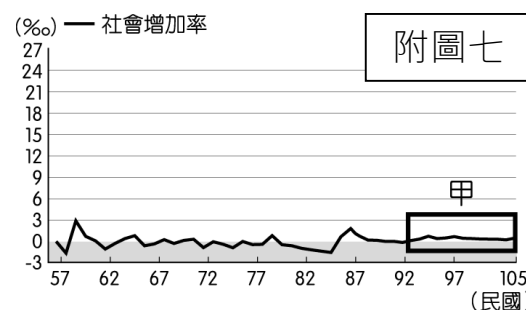
26. () 『噶瑪蘭』的名稱由來是指『平原之人』。此族群最早生活於雪山山脈與中央山脈之間的平原，擁有此自然環境的『噶瑪蘭』，今日主要位於臺灣的哪個縣市？
(A) 基隆市 (B) 宜蘭縣 (C) 臺東縣 (D) 屏東縣。

27. () 臆紘若想要在網路平台上搜尋與台灣主要族群相關的影片，下列何者的內容「較不適合」？
(A) 南島語族的文化傳播 (B) 閩粵漢人之橫渡黑水溝
(C) 新住民的一步一腳印 (D) 歐洲移民的飲食與生活。

28. () 『三貂角』位於新北市貢寮區與宜蘭縣頭城鎮之間，是當地熱門旅遊景點之一，相傳 17 世紀來自國外的船艦抵達臺灣，並於此建立聖地牙哥城堡。請問：上述的國外船艦最有可能來自何國家？
(A) 日本 (B) 葡萄牙 (C) 荷蘭 (D) 西班牙。

29. () 現今台灣的族群中以漢人的比例最高，因其來自中國各省各地，在文化交流的過程中也帶給台灣飲食極高的豐富性與美味性，請問：下列何種美食最能代表台灣漢人的飲食文化？
(甲) 竹筒飯 (乙) 珍珠奶茶 (丙) 牛肉麵 (丁) 檸檬魚 (戊) 蘿蔔糕
(A) 甲&丙 (B) 乙&丁 (C) 丙&戊 (D) 甲&戊。

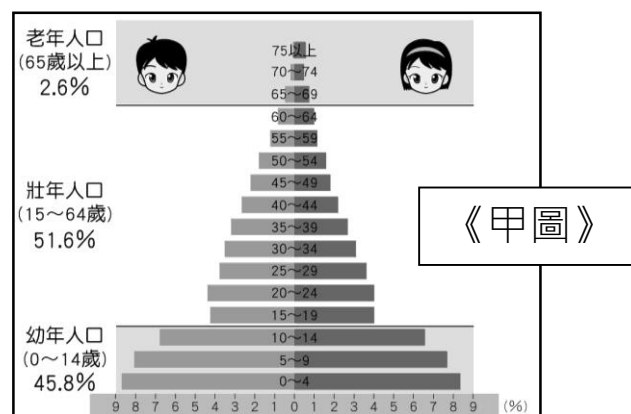
30. () 台灣近三十年來人口結構有所改變，若參考右側附圖七的臺灣社會增加率變化情況，圖中「甲階段」的形成因素主要為下列何者？
(A) 新住民移入 (B) 中國軍民湧入
(C) 鄉村人口湧入都市 (D) 行政區域調整。



📖 人口金字塔，是用來呈現一地人口組成的重要工具，右側的甲圖&乙圖為台灣兩個不同時期的人口金字塔。請對照圖中年齡層的人口變化，回答下列 31~33 題。

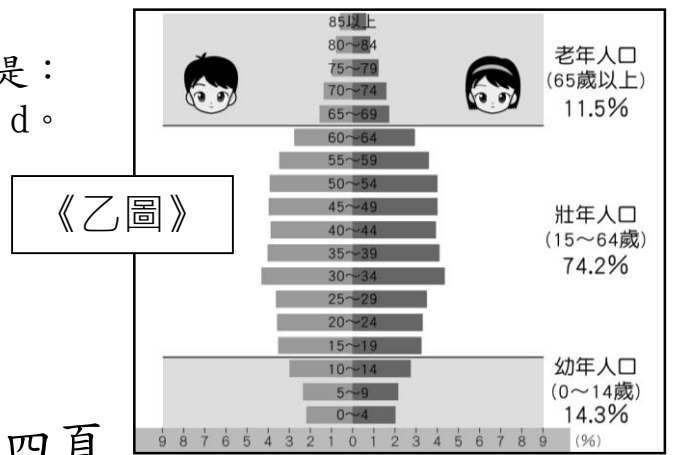
31. () 從《甲圖》中可判讀出當時臺灣的人口問題有哪些？
(a) 高出生 (b) 低出生 (c) 高死亡 (d) 低死亡
(e) 高齡化 (f) 經濟發展欠佳，正確的組合是：
(A) b、d、e (B) b、d、f (C) a、c、e (D) a、c、f。

32. () 從《乙圖》中可知道臺灣未來可能會面臨哪些問題？



- (a) 出生率偏低 (b) 男多於女 (c) 多外籍配偶
 (d) 健全的社會福利 (e) 扶養比上升，正確的組合是：
 (A) a、d、e (B) a、b、c (C) c、d、e (D) b、c、d。

33. () 從《甲圖》到《乙圖》的發展過程，可看出台灣人口呈現何種變化趨勢？
 (A) 人口總數逐年減少 (B) 人口分布東西不均
 (C) 人口老化趨勢明顯 (D) 外籍人口快速移入。



第四頁

右表為《臺灣四個都市的人口變化資料》，請依表中資料回答下列 34~36 題：

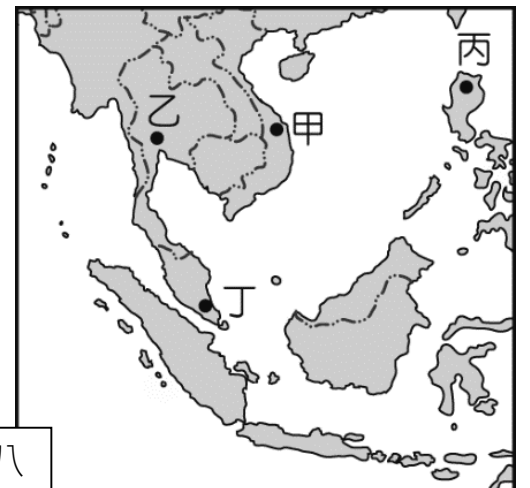
(單位：‰)

地區	出生率	死亡率	人口成長率
甲	20	6	5
乙	21	4	25
丙	22	5	10
丁	20	6	14

34. () 若一地的人口增減只受到自然增加率的影響，則稱該地為『封閉系統』的人口成長。請問：右表中哪個都市的人口成長，具有『封閉系統』的特色？
 (A) 甲 (B) 乙 (C) 丙 (D) 丁。
35. () 哪兩個都市正面臨著「人口外移」的危機？(A) 甲&乙 (B) 甲&丙 (C) 乙&丙 (D) 丙&丁。
36. () 哪個都市可能正經歷著人口大量「由外地移入」的階段？(A) 甲 (B) 乙 (C) 丙 (D) 丁。

東南亞國家，近年來經濟發展快速，牽動著台灣與世界的關連，加上與台灣距離接近，成為提供勞力與婚姻結合的新住民來源地

，也豐富了台灣社會的多元風貌，參考右側《東南亞國家示意圖》



附圖八

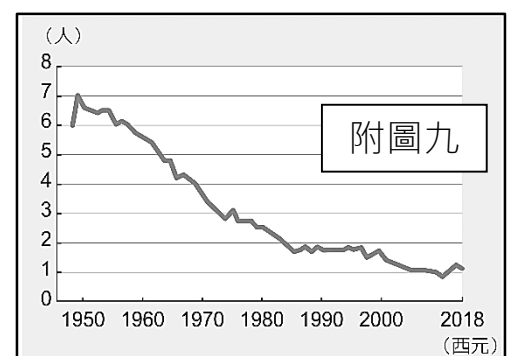
，依序回答下列 37~40 題：

37. () 附圖八中的四個國家中，哪個國家因歷史上漢化程度深，因此成為台灣人選擇配偶的第二大來源國家？
 (A) 甲 (B) 乙 (C) 丙 (D) 丁。
38. () 潑水節，是泰國當地最盛大的傳統節日，活動期間，人們會用純淨的清水相互潑灑，祈求洗去過去一年的不順遂，隨著泰國移工人數增加，每年四月在台灣也能感受到潑水節的快樂氛圍，藉由活動也同時推廣泰國文化與美食，試問：參與潑水節的新住民主要來自圖中的哪個國家？
 (A) 甲 (B) 乙 (C) 丙 (D) 丁。
39. () 對於遠從東南亞而來的新住民，宗教信仰往往也是能安撫離鄉思緒的重要儀式，來自『丙國』的新住民往往都希望能利用週末休假，前往教堂參加禮拜，以延續他們從家鄉便養成的信仰習慣，試問：『丙國』是指下列哪個國家？(A) 越南 (B) 印尼 (C) 菲律賓 (D) 泰國。
40. () 承上題，除了教堂之外，東南亞信仰伊斯蘭教的人數更不在少數，下列哪種宗教場所才能讓這些穆斯林們在台工作與觀光之餘，也能滿足其信仰習慣，求得心靈上的慰藉？
 (A) 土地公廟 (B) 長老教會 (C) 祈禱室 (D) 三山國王廟。

人口問題，不單是數字的變化，更是影響台灣日後發展的重大議題，政府相關單位必須持續觀察各類人口數字的變化，及早因應未來可能發生的人口危機

，讓國家能持續進步、永續發展，依提示回答 41~45 題：

41. () 附圖九為《臺灣婦女平均生育孩童數量圖》，若依圖中數值變化的現象再持續下去，則臺灣將會出現怎樣的人口問題？
 (A) 教育資源不足 (B) 就業機會增加
 (C) 扶養負擔減輕 (D) 人力資源短缺。
42. () 下列各項政策中，何者「最能根治」附圖九所呈現的人口問題？



附圖九

- (A) 延後退休年齡，避免國家經濟衰退 (B) 大量引進國際移工以補充勞動力的不足 (C) 增列退休養老金以維持老年人口生活品質 (D) 提高生育補助，放寬育嬰假限制。
43. () 政府為因應台灣高齡化社會的到來，下列哪個方案「最不可能」被提出？ (A) 籌措老人長期照護的財源 (B) 推動中高齡勞工再就業 (C) 鼓勵年輕人晚婚晚育 (D) 提升老人安養機構的品質。
44. () 老化雖然是各國人口的普遍現象，但臺灣的特點是「老化速度特別快」。雖然臺灣目前的扶養比遠低於日本。但到了2060年，卻將迎頭趕上，與日本老化情況一模一樣。因此，日本的景況不但是臺灣未來重要的參考依據，而且臺灣能應變的時間是更為短促的。由上述內容，最能正確判斷出以下何種資訊？ (A) 臺灣壯年人口的負擔恐逐漸增加 (B) 臺灣幼年與老年人口數將追上日本 (C) 臺灣壯年人口的就業結構將與日本相同 (D) 臺灣經濟發展程度將趕上日本。
45. () 為預防人口困境，臺灣政府需考量當時的人口狀況，修訂政策來減緩未來可能面臨的人口問題，請問下列哪一組口號最有可能是現今政府所提出的？ (甲) 晚婚晚育，自由自在 (乙) 養兒不防老，養身更為好 (丙) 孕育下一代，生命更精彩 (丁) 一個孩子恰恰好，男生女生一樣讚 (A) 甲&乙 (B) 乙&丙 (C) 丙&丁 (D) 甲&丁。