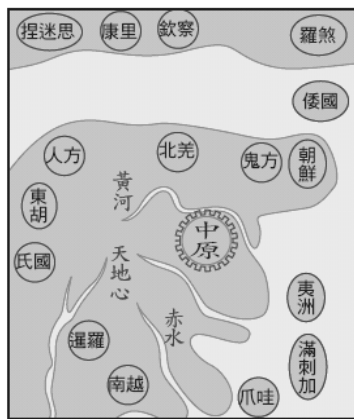


桃園市立大有國民中學一〇八學年度第二學期第一次評量試卷

年級	八	考試科目	歷史			命題範圍	第一～二課	作答時間	45分
班級		姓名		座號		分數			

一、選擇題

- () 1. 老師在上歷史課時說道：「嘉慶年間，英國再度派遣使臣來華，希望改善與中國的貿易關係，但最後任務卻失敗了。」請問：最後任務未達成的原因為何？
 (A) 跪拜禮儀的爭議 (B) 朝貢物品不符中國需求 (C) 中國不願開放海禁政策 (D) 中國需要西方的商品。
- () 2. 咸豐年間曾經發生過一起馬賴神父被殺害的命案，馬賴神父被認為與地方的亂黨勾結，於是當地的知縣判處他死刑，引來外國勢力的干預。請問：上述命案應該可以在下列何書查到？ (A) 《林則徐及其理想》 (B) 《鴉片戰爭實錄》 (C) 《英法聯軍始末》 (D) 《中法戰爭之源起》。
- () 3. 下列哪個國家在英法聯軍期間，以脅迫中國簽約的方式，奪取了一塊大小相當於法、德兩國面積的領土，和一條同多瑙河一樣長的河流，堪稱是英法聯軍中的最大受益者？ (A) 俄國 (B) 德國 (C) 日本 (D) 美國。
- () 4. 附圖為早期中國人想像的世界地圖，圖中的「中原」指的就是中國所在地。請問：中國人將中原畫在世界的中心，主要的原因為何？ (A) 中國在地理上處於地球的中心 (B) 中國人從未到過其他國家，對外國不了解 (C) 中國人抱持天朝思想，以天下中心自居 (D) 當時亞洲僅有中國一個國家。
- () 5. 一位英國官員說道：「我們跟中國的貿易量十分龐大，如果能取得□□的權利，就可以減少貨物進口到中國時所需繳納的費用。」請問：這位英國官員提到的是什麼權利？ (A) 領事裁判權 (B) 協定關稅 (C) 片面最惠國待遇 (D) 租界。
- () 6. 兩次的英法聯軍之役，對近代中國的政治和社會均有莫大的影響。請問：下列何者不是兩次英法聯軍之役所造成的後果？ (A) 割讓九龍司 (B) 外國公使可以入駐北京 (C) 外國勢力因遊歷、傳教而進入內地 (D) 造成漢人勢力提升，促成地方勢力的興起。
- () 7. 下列何人被認為是中國近代史上最具有影響力的人物之一，一百多年前，他揭起一場轟轟烈烈的禁煙運動，並在廣州虎門銷毀兩萬多箱的鴉片。然而，卻因道光帝的反覆無常，加上主張和談的大臣太多，他終



於在這種無能為力的大環境下功敗垂成，含恨而逝。此人是誰？ (A) 李鴻章 (B) 林則徐 (C) 劉銘傳 (D) 曾國藩。

- () 8. 附圖漫畫描繪的是清末時上海的情景。請問：會有圖中這樣情形，與外國取得哪個權利有關？ (A) 協定關稅 (B) 片面最惠國待遇 (C) 領事裁判權 (D) 租界。
- () 9. 阿強向鄰人阿智吹噓，說他曾參加金田起義，並擔任太平軍將領。可是阿智從他的敘述中找出錯誤，戳破他的牛皮。下列何者是阿強敘述錯誤的地方？ (A) 他們都信奉上帝 (B) 曾經攻占南京 (C) 因戰功獲賜許多田地 (D) 主要對手是曾國藩的湘軍。
- () 10. 幾位清朝的水兵抽著水菸並發出感慨：「咱們北洋艦隊可說是全亞洲最標竿的艦隊了，艦隊進行操練時，旌旗蔽空的景象可真是讓人看了都會害怕，且畏懼三分，可惜那皇太后將練兵的經費全都拿去蓋了頤和園，讓咱們一出師就被殲滅，真是丟了祖宗八輩子的臉了。」水兵口中所談論的皇太后是誰？ (A) 賈南風太后 (B) 承天皇帝太后 (C) 孝莊皇太后 (D) 慈禧太后。
- () 11. 附圖為三國大使的對話，他們的談話內容最可能與哪項史實有關？



俄國大使：這個國家太貪心了，只不過打勝一場小仗，居然連遼東半島也要搶走。
 德國大使：對呀！這個國家會妨礙我國在華利益，必須予以警告。
 法國大使：不錯！我們三國應該出面說說話了。

- (A) 太平天國之亂 (B) 甲午戰爭 (C) 鴉片戰爭 (D) 中法戰爭
- () 12. 當時廣州有十三家最具盛名的行商集團，稱為「十三行」。他們早期的貿易對象，有荷蘭、英國等歐洲國家。十三行受到政府嚴格限制，例如：外商與中國官府交涉，必須由十三行作中介，外商不得在廣東過冬，外國婦人不得來廣州等。請問：這種情形最可能發生在何時？ (A) 唐代 (B) 宋代 (C) 元代 (D) 清代。
- () 13. 歷史這門學科，可以經由對因果關係的分析、歸納，訓練我們的邏輯思考能力。將清末的各項史事按照因果關係順序排列，下列何者正確？(甲) 甲午戰爭

(乙)百日維新(丙)康梁上書皇帝(丁)戊戌政變 (A)甲乙丙丁 (B)乙甲丁丙 (C)乙甲丙丁 (D)甲丙乙丁。

()14. 睿涵在上臺報告歷史專題前，在黑板掛了一張如附圖的地圖，地圖上標示的地名，都是開放對外通商的口岸。請問：根據圖中的內容判斷，下列何者會出現在睿涵的報告中？ (A)開放這些通商口岸與清廷在鴉片戰爭失利有關 (B)這些通商口岸的開放，規定在《天津條約》裡 (C)從圖中可以看出黃河流域沿岸已增開通商口岸 (D)這個條約除了開放通商口岸，也割讓了香港島。



()15. 太平天國與黃巾之亂都是中國歷史上重要的群眾叛亂事件。請問：此兩者有何的共通之處？ (A)兩者都發生在清末時期 (B)兩者都攻進當時政府的首都 (C)兩者都成功地推翻當時的政府 (D)兩者都利用宗教力量吸引群眾。

()16. 右列是有關自強運動與百日維新的比較表，表格的內容何者正確？(A)甲 (B)乙 (C)丙 (D)丁

項目	自強運動	百日維新
(甲)主事者	康有為、梁啟超	曾國藩、李鴻章
(乙)支持者	慈禧太后	光緒帝
(丙)改革方向	制度層面	器物層面
(丁)改革實例	總理各國事務衙門	京師大學堂

()17. 小明自助旅行來到哈薩克共和國，他參觀了世界第十三大的內陸湖——巴爾喀什湖。當地導遊解說，該湖其實原本是中俄的交界湖泊，但是 19 世紀俄國以□為藉口，硬生生將包括巴爾喀什湖的廣大中國西北領土都占為己有……。請問：上述缺空處應該填入何者？ (A)方便貿易 (B)勘定國界 (C)以牙還牙 (D)強行租借。

()18. 張三參與一場招募湘軍與淮軍的聯合說明會。現場主持人帶領著大家呼喊口號。請問：張三會聽到哪句口號？ (A)革命無罪、造反有理 (B)維護傳統、振興儒學 (C)天下一家，共享太平 (D)周公吐哺，天下歸心。

()19. 有「中國鐵路之父」之稱的詹天佑，同時也是中國第一批官方派遣前往外國留學的優秀學生之一。請問：根據史實，詹天佑應該是前往哪個國家留學？ (A)英國 (B)法國 (C)德國 (D)美國。

()20. 約翰為國外醫學系學生，暑假遠赴臺灣的「馬偕紀念醫院」，進行校際交流活動，深感過往馬偕醫生在臺行醫與傳教的偉大。當年馬偕博士得以進入臺灣行醫傳教，與下列哪項歷史事實有關？ (A)鴉片戰爭後，中國領土門戶洞開 (B)鴉片戰爭後，外國醫生來臺協助治療鴉片成癮的患者 (C)英法聯軍之役後，中國與列強訂約，允許外人至各地遊歷傳教 (D)雍正皇帝禁教後，傳教士紛紛往臺灣發展。

()21. 西元 1895 年，某日的號外新聞大肆報導一則事件


如下：「清國所派出的大臣在馬關簽約時遭到日本浪人槍擊，所幸並無大礙……，此案引起諸國關切，紛紛對日本政府發出譴責……。」請問：這位大臣應是何人？ (A)李鴻章 (B)曾國藩 (C)左宗棠 (D)康有為。

()22. 下列清代領土或藩屬喪失的先後順序排列為何？(甲)烏蘇里江以東(乙)香港(丙)琉球(丁)臺灣及澎湖 (A)甲丙丁乙 (B)乙甲丙丁 (C)丙乙甲丁 (D)丁乙甲丙。

()23. 美國對世界各國情勢多以孤立主義的外交政策因應，只要不危及美國利益，盡可能不加以干涉，但是中國於 19 世紀末爆發瓜分危機，美國衡量自身在遠東的利益，決議做出下列何種因應方式？ (A)積極參與瓜分，搶奪領土 (B)默默觀察，保持中立 (C)與中國協議，驅逐所有外國勢力 (D)主張門戶開放政策，保持中國主權完整。

()24. 有篇介紹某位清末歷史人物的文章，其中有段敘述如附圖。根據資料判斷，這篇文章介紹的歷史人物是誰？(A)李鴻章 (B)張之洞 (C)康有為 (D)孫中山。

他跟一批有志之士上書請願、組織學會、辦報紙、鼓吹政治革新的理念，大談救國思想。他得到皇帝支持，推動政治改革，卻因保守派發動政變，使他的理想曇花一現，最後亡命海外。



()25. 1840 年遠東的這場戰爭，導火線是由於來自英國殖民地印度的毒品走私被查禁，經過英國議會激烈辯論，最終以 271 票對 262 票，通過發動戰爭決議案，最後這場報復行動以簽訂不平等條約結束。請問：這場戰爭為何？ (A)鴉片戰爭 (B)英法聯軍 (C)甲午戰爭 (D)中法戰爭。

()26. 日本在《馬關條約》中獲得在中國各通商口岸設立工廠的特權，英、法等國雖未參與簽訂該條約，卻也享有這種權力。英、法等國同樣享有這項特權的原因，與中英、中法條約中訂有下列哪一項規定有關？ (A)五口通商 (B)協定關稅 (C)治外法權 (D)片面最惠國待遇。

()27. 西元 1895 年某一天，太廟裡傳來陣陣哭聲，太廟旁的太監哭成一團，太廟裡的皇帝也哭得唏哩嘩啦，只聽見皇帝哀號說道：「割臺灣……朕無顏見祖宗，天下人心皆去矣……。」請問：上述的皇帝是何人？ (A)道光皇帝 (B)咸豐皇帝 (C)同治皇帝 (D)光緒皇帝。

()28. 清朝末年的數場對外戰爭帶給臺灣許多變化，下列史事的配對，何者**不正確**？ (A)鴉片戰爭→臺灣未受影響 (B)英法聯軍→廢除渡臺禁令 (C)中法戰爭→臺灣建省 (D)甲午戰爭→割讓臺、澎。

()29. 考試成績出爐，阿威興奮的又叫又跳，阿威靠著優異的成績得以進入□就讀，阿威的爺爺開心的說：「我孫子可是進了以前的京師大學堂讀書呀！」請問：阿威應該是錄取哪間學校了？ (A)臺灣大學 (B)臺北大學 (C)中央大學 (D)北京大學。

()30. 學者研究百日維新失敗的原因，歸納出一個論點，百日維新的內容並沒有獲得龐大官僚體系以及知識分子的支持，終究曲高和寡，曇花一現。請問：官僚體系與知識分子不支持的主要原因為何？ (A)百日維新主張廢除皇帝制度 (B)百日維新決定實施君主立憲 (C)百日維新主張廢除八股文 (D)百日維新主張全盤西化的理論。

()31. 1880 年代，發明家愛迪生在美國門洛帕克小鎮的研究所裝設了五百個碳絲電燈，轟動震撼直達歐洲，歐洲各國工程師不惜遠渡重洋，親自去目睹這個如神蹟的發明。五年之後，臺灣居民也首次聚在臺北城內，瞪大眼睛對劉銘傳在衙門、街道裝設的電燈嘖嘖稱奇。雖然只有寥寥幾盞電燈，卻改變了傳統用蠟燭、煤油的照明方式，成為當時清朝數一數二的現代化創設。上文所描寫的情景，正是處於中國近代化過程中的哪一個階段？(A)自強運動 (B)戊戌變法 (C)辛亥革命 (D)新文化運動。

()32. 承上 31 題，下列何者與此階段屬同時進行？(A)中國首次不平等條約 (B)藩屬國不斷喪失 (C)清朝將臺灣割讓 (D)守舊派發動政變終止改革。

()33. 根據附圖的對話判斷，這是發生在哪個位皇帝在位期間的史事？



(A)乾隆皇帝 (B)嘉慶皇帝 (C)道光皇帝 (D)咸豐皇帝。

()34. 清光緒 10 年(西元 1884 年)戰爭爆發，法國海軍提督孤拔率領軍隊攻占基隆，當時主持北臺灣防務的劉銘傳，為了鞏固北臺灣海防，曾建造數座炮臺。請問：這場戰爭的爆發與法國攻打附圖哪個中國藩屬國有關？



(A)甲 (B)乙 (C)丙 (D)丁。

()35. 四位同學在課餘討論清末列強對中國的瓜分風潮，小英：「瓜分風潮發生在《南京條約》簽訂之後。」小安：「當時德、俄、英、法等國均成功劃分中國領土。」小敏：「列強除劃分勢力範圍外，沒有向中國租借港灣。」小菁：「日本並沒有劃分到勢力範圍。」請問：上列哪位同學的說法正確？ (A)小英 (B)小安 (C)小敏 (D)小菁。

二、題組

【題組】清末以來，中國面臨強大的外患威脅，使中國開始轉變對外的態度，開始由「中國的世界」轉變為「世界

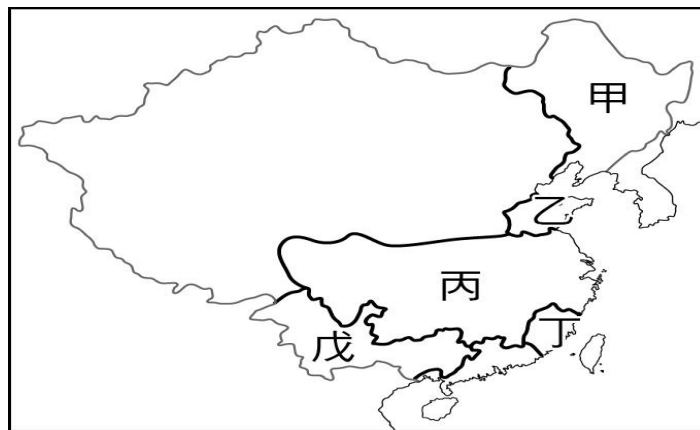
的中國」，並且體認到西方的船堅炮利威力強大不可小覷。因此，開始有知識分子提出「師夷長技以制夷」的主張，試圖推展中國的改革運動。請問：

()36. 由上述可知，中國開始由「中國的世界」轉變為「世界的中國」，並開始推動改革運動，是受到什麼戰爭的刺激？ (A)鴉片戰爭 (B)英法聯軍 (C)中法戰爭 (D)甲午戰爭。

()37. 由上述可知在體認外國船堅炮利的情形下，知識分子開始提出富國強兵的改革主張，下列何人並未主持這場改革運動？ (A)李鴻章 (B)林則徐 (C)左宗棠 (D)奕訢。

()38. 這場改革運動試圖改變中國衰頹的命運，下列有關此改革內容的敘述何者錯誤？ (A)將總理衙門視為是專責的對外機構 (B)已經開始培養外語的翻譯人才 (C)建造中國最早的鐵路與郵政 (D)廢除了中國使用千餘年的科舉制度。

【題組】清末，列強紛紛迫使中國劃分勢力範圍，使得中國的經濟利益和具有戰略價值的地區，幾乎被瓜分殆盡，附圖為清末列強於中國劃分勢力範圍的分布圖。請問：



()39. 這波瓜分風潮主要是起因於下列何者？ (A)俄國以調停英法聯軍有功，要求租借港灣 (B)甲午戰爭後，滿清改革失敗，列強有機可趁 (C)三國干涉歸還遼東半島，以此向清廷邀功 (D)八國聯軍之役後，列強有計畫瓜分中國。

()40. 圖中的乙區、戊區分別為哪兩國的勢力範圍？ (A)德國、俄國 (B)俄國、德國 (C)德國、法國 (D)日本、法國。

()41. 下列哪一國沒有參與此次瓜分中國的事件？ (A)俄國 (B)英國 (C)日本 (D)美國。

()42. 劃分丙區為勢力範圍的國家，也曾在中國取得以下何地為戰利品？ (A)遼東半島 (B)臺灣 (C)香港島 (D)越南。

【題組】在一次變法後，有人說：「雖然國難如此嚴重，反對變法的人仍居大多數。為什麼呢？一句話，打破了他們的飯碗。人人都知道應該廢八股，提倡實學；但數百翰林，數千進士、數萬舉人……全國的讀書人都覺得前功盡棄……。」請問：

()43. 文中的變法指的是清末的哪一變法？ (A)自強運動 (B)百日維新 (C)庚子後新政 (D)訓練新軍。

- ()44. 此次變法失敗的主要原因是下列何者？(A)甲午戰爭失敗 (B)缺乏完整規劃，地方各自為政 (C)戊戌政變的發生 (D)主事者遭到處死。

【題組】看圖說故事，回答問題：




(圖一)



(圖二)



(圖三)



(圖四)

- ()45. (圖一)中描繪的情況，後來造成中國哪一種結果或影響？(A)地方官員發起自強運動 (B)領土主權遭到列強成功瓜分 (C)皇帝也加入變法改革 (D)慈禧太后向各國宣戰。
- ()46. (圖二)所描述的特權是下列哪一種？(A)領事裁判權 (B)片面最惠國 (C)協定關稅 (D)通商口岸設廠。
- ()47. (圖三)是描述清末允許外國人入中國向人民傳教的情況。請問：下列何人最有可能有過此一經歷，並引發思想的轉變？(A)洪秀全 (B)林則徐 (C)奕訢 (D)康有為。
- ()48. 承上 47 題，臺灣在清末也開始進入開港通商期，下列何人最不可能是曾來過臺灣傳播基督教的傳教士？(A)利瑪竇 (B)甘為霖 (C)馬偕 (D)馬雅各。
- ()49. (圖四)描繪的情況，最可能造成下列哪種影響？(A)中國被迫簽訂不平等條約 (B)太平天國內亂發起 (C)自強運動、戊戌變法均失敗 (D)光緒皇帝重新掌權。
- ()50. 承上 49 題，下列何人不符合所謂的改革(革新派)？(A)左宗棠 (B)咸豐皇帝 (C)梁啟超 (D)曾國藩。