

桃園市立大有國民中學 108 學年度第二學期第一次評量試卷

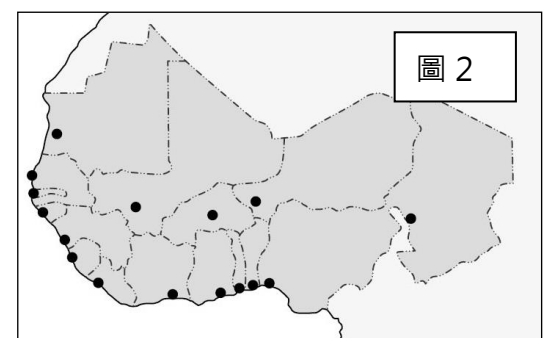
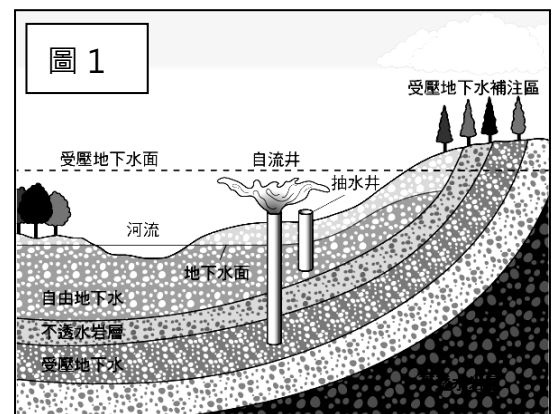
年級	九年級	考試科目	地理			命題範圍	第一章 非洲 第二章 大洋洲 兩極地區	作答時間	45 分
班級		姓名		座號		分數			

◆請將正確答案，塗在答案卡上，並確認答案卡上班級、座號是否塗寫正確。

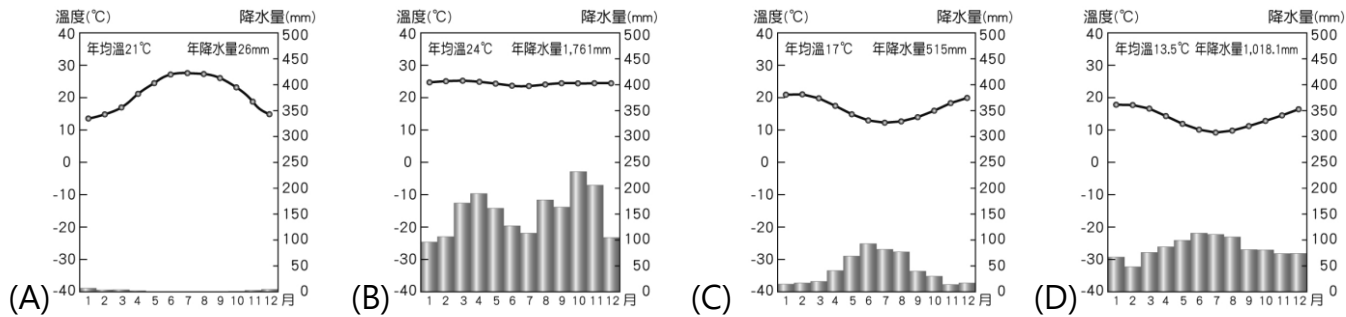
◆單選題，每題2分，共50題，總分100分

第一頁，共四頁

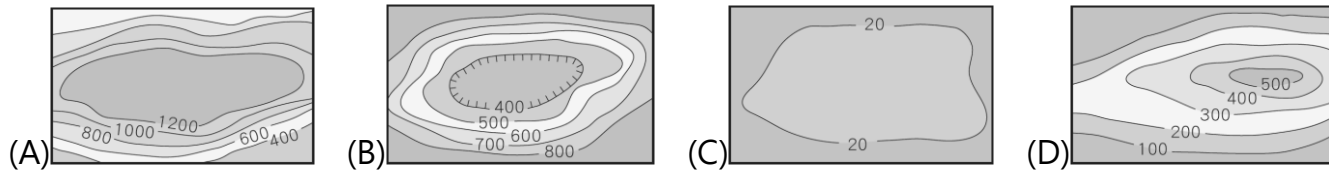
- 東非肯亞雖鄰近赤道，但氣候溫和不至於炎熱。請問：造成其氣候溫和的主要原因為何？
(A)海洋調節 (B)地質古老 (C)季風盛行 (D)海拔較高。
- 紐西蘭「黑衫軍」(All Blacks) 在世界盃橄欖球賽開始之前，依照慣例總會跳一段傳統舞蹈哈卡，以強而有力的肢體動作來威嚇對手並振奮士氣。哈卡如今已成為紐西蘭隊的象徵。請問哈卡起源於紐西蘭哪一族群的文化？
(A)印第安人 (B)貝都因人 (C)毛利人 (D)因紐特人。
- 下列對於南極地區的敘述，何者正確？
(A)以高原地形為主 (B)氣溫較北極高 (C)原住民為因紐特人 (D)各國大規模開採當地礦產
- 澳洲主要貿易往來對象是位於周遭的鄰近國家，故澳洲要積極與鄰近國家發展經貿關係，應參與下列哪個貿易組織？(A)非洲聯盟 (B)歐洲聯盟 (C)北美自由貿易區 (D)亞太經濟合作會議
- 附圖 1 為澳洲某種水資源開發方式示意圖。澳洲何種產業的發展和此項水資源有密切關係？(A)可可種植 (B)牧羊業 (C)酪農業 (D)甘蔗種植
- 紐西蘭若要開發綠色能源，下列何者較不具優勢？
(A)水力 (B)地熱 (C)風力 (D)太陽能。
- 非洲的國家在獨立後，因為下列何種因素的影響，許多國家陷入長期內亂，導致經濟發展較為緩慢？
(A)國土面積太小 (B)缺乏礦產資源 (C)族群組成複雜 (D)外國勢力入侵
- 「非洲沿海地區自古大多海運不興，故外人難窺其貌。」
請問：造成非洲海運不興盛的主要原因為下列何項？
(A)河川稀少 (B)泥沙淤積淺灘多 (C)海岸陡峭平直 (D)政局不穩
- 「搭飛機經過非洲，從高空中往下看，可以發現一條長達數百公里的裂谷以及沿著斷層分布的火山帶。」
請問上述景觀最可能在飛機經過下列何處時看到？ (A)北部非洲 (B)西部非洲 (C)東部非洲 (D)南部非洲
- 附圖 2 是西非各國最大都市的分布情形，關於此處的農業經營敘述何者正確？
(A)農場規模大，機械化程度高 (B)人口密度低，採粗放式經營
(C)大多以種植糧食作物為主 (D)產品以外銷為主，海運發達
- 呈上題，此處主要栽種的作物，最可能為下列何者？
(A)棉花、花生 (B)咖啡、可可 (C)柑橘、葡萄 (D)小麥、甜菜。
- 2016 年發布的人類平均壽命報告中指出：預期平均壽命最短的國家為獅子山、安哥拉、中非共和國、查德和象牙海岸等五個非洲國家，
下列何者並非造成此現象最可能的因素？
(A)非洲疾病問題嚴重 (B)非洲各國內戰頻繁
(C)部分國家連年飢荒 (D)實施種族隔離政策。
- 附圖 3 為南非共和國的氣候分布簡圖。圖中何者為夏雨型暖溫帶氣候區？
(A)甲 (B)乙 (C)丙 (D)丁。
- 非洲與南美洲在自然環境與歷史發展上有許多共通處，關於兩洲的敘述，下列何者錯誤？
(A)皆瀕臨大西洋 (B)皆有溫帶海洋性氣候
(C)出口以農、礦原物料為主 (D)兩地皆曾淪為殖民地，發展熱帶栽培業。
- 從印度洋航向地中海的最短航程，必經之處為下列何者？
(A)麻六甲海峽(B)蘇伊士運河(C)巴拿馬運河(D)京杭大運河。



16、下列四張氣候圖，哪張為紐西蘭的氣候圖？



17、非洲的地形主體，與下列哪張等高線圖的地形相同？



18、瘧疾及伊波拉病毒皆為透過病媒蚊傳播的疾病，降雨不斷的濕熱氣候會為病媒蚊繁衍創造有利條件。依照上述情況，這些疾病疫情在非洲何處會相對嚴重？(A)撒哈拉盆地 (B)剛果盆地 (C)喀拉哈里盆地 (D)東非高原

19、附表 1 為紐西蘭之南島與北島比較，下列何者錯誤？

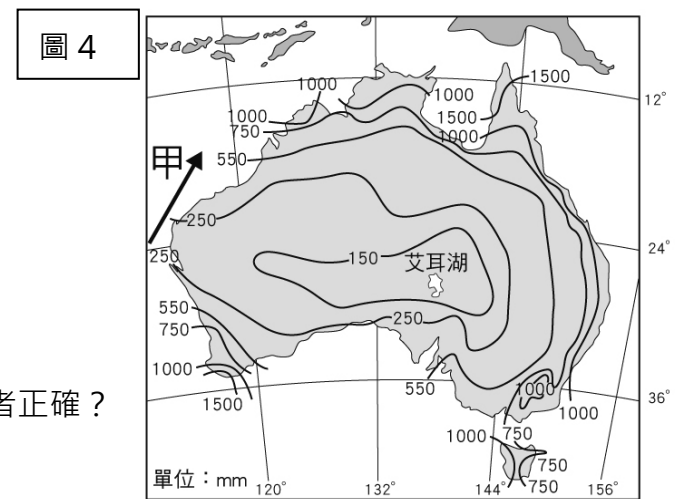
(A)人口 (B)氣溫 (C)緯度 (D)地形特徵。

	北島	南島
人口	較多	較少
氣溫	較高	較低
緯度	較高	較低
地形特徵	火山地形	冰河地形

表 1

20、附圖 4 為澳大利亞的年降水量分布圖。關於「甲」洋流的敘述下列何者正確？

(A)使周圍更濕潤 (B)流經太平洋
(C)屬於涼流性質 (D)由低緯度流向中緯度



21、埃及古文明—金字塔，最有可能出現在附圖 5 中哪種氣候環境中？

(A)甲 (B)乙 (C)丙 (D)丁。

22、根據附圖 6 中的全球盛行風向判斷，

從非洲撒哈拉盆地吹出的沙子，最可能漂移到下列哪個區域？

(A)北美洲 (B)澳洲 (C)南美洲 (D)西亞


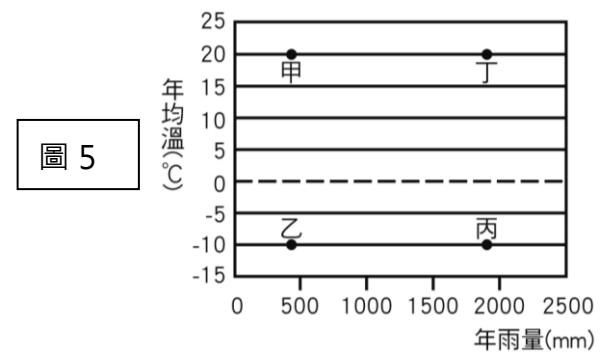


圖 6

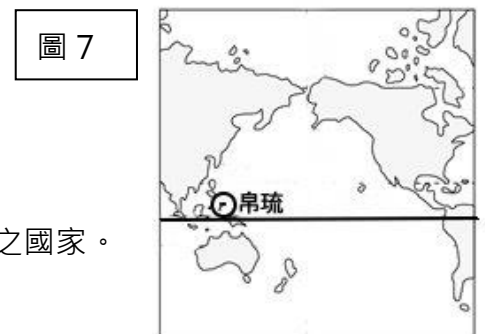


圖 7

23、2020 年起，帛琉成為全球第一個禁止使用對珊瑚和海洋生態有害的防曬乳液之國家。

關於帛琉(參考附圖 7)的敘述，下列何者錯誤？

(A)位於熱帶氣候 (B)屬於珊瑚礁島 (C)島嶼面積有限 (D)土壤肥沃農業發達

24、非洲蝗災從 2019 年開始急遽惡化，據研究指出此次蝗禍始於阿拉伯半島南部的葉門，而後蝗蟲飛越兩側海域，擴及非洲以及南亞地區。根據上述路徑，非洲蝗災是由阿拉伯半島跨越哪一個海域而來？(A)大西洋 (B)紅海 (C)波斯灣 (D)裏海

25、2019 年 10 月 25 日澳洲世界遺產「烏魯汝巨岩」(Uluru)正式啟動攀登禁令，烏魯汝將永遠不准人類攀登，以尊重在地原住民—阿南古人的信仰文化傳統。

根據圖 8 中烏魯汝位置判斷，下列關於該處的敘述何者錯誤？

(A)位於澳洲人口較少處 (B)位於大分水嶺東側 (C)位於熱帶沙漠氣候 (D)背對東南信風



圖 8

26、數千年來，烏魯汝都是澳洲中部原住民的信仰核心；但當歐洲的白人殖民者於 18 世紀末期大批登陸澳洲後，原住民的土地慘遭掠奪，就連烏魯汝也失去原本的名字，改以殖民者名字起名，稱作「艾爾斯岩」(Ayers Rock)。請問上述的歐洲殖民者應為下列哪一個國家？(A)法國 (B)葡萄牙 (C)西班牙 (D)英國

27、新冠病毒在全球傳播，宗教活動方式也有所改變，以防範病毒傳播。非洲某清真寺建議，做完禮拜要避免握手或擁抱，並要求來禮拜的人祈禱時帶上自己的祈禱墊。非洲某地穆斯林表示，有些人已經開始用碰腳問候對方，而不是握手。請問上述的建議，可以提供給圖 9 中哪一個清真寺分布較多的區域做為參考？

(A)甲 (B)乙 (C)丙 (D)丁



圖 9

【題組】附圖 10 為北極地區位置圖。

28、請問：圖 10 中何者為北大西洋暖流？

(A)甲 (B)乙 (C)丙 (D)丁

29、根據經緯線判斷，阿拉斯加位於何處？

(A)東半球，北半球 (B)東半球，南半球
(C)西半球，北半球 (D)西半球，南半球

30、關於阿拉斯加的敘述，下列何者錯誤？

(A)當地少數民族為因紐特人
(B)當地石油開採，提供就業機會
(C)每年 12 月能見到永晝的現象
(D)當地少數民族傳統以漁獵為生

31、北極海海床被發現蘊含石油、天然氣等豐富資源，俄羅斯為首位在海床插上特製國旗，以宣示主權的國家，但此舉引起周圍其他國家不滿。請問：此周圍國家最不可能是下列何者？

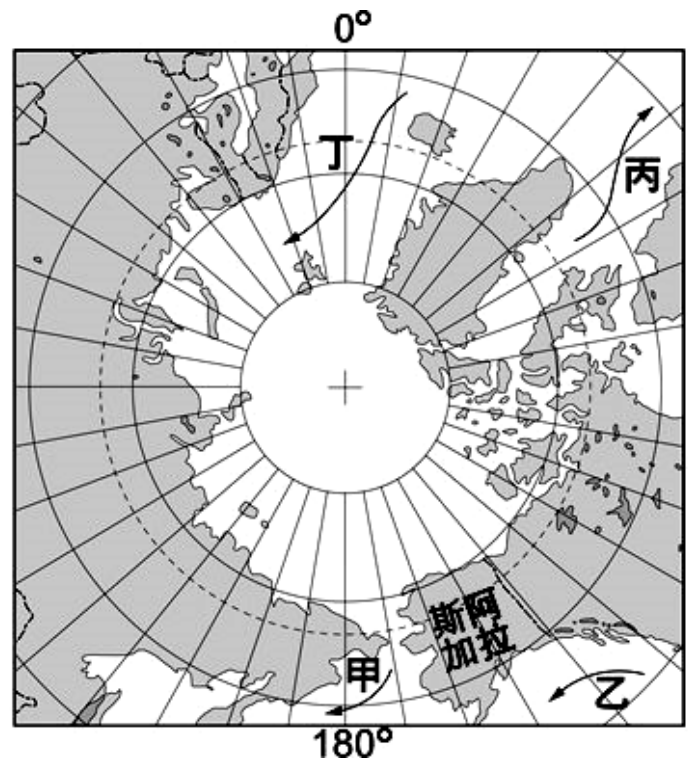
(A)挪威 (B)南韓 (C)美國 (D)加拿大。

32、北極地區是指由大陸包圍的北極海所形成。

包圍北極海的大陸不包括下列哪一洲？

(A)亞洲 (B)歐洲 (C)非洲 (D)北美洲。

圖 10



【題組】衣索比亞打算在與蘇丹接壤地區興建尼羅河水壩，多年來與下游國家磋商，卻未能達成共識。衣索比亞稱該大壩對其經濟發展至關重要，宣稱絕不停止工程，預計 2021 年初部分啟用，2023 年全面竣工。

33、衣索比亞打算興建的尼羅河水壩，位於圖 11 中那一條河川上游？

(A)甲 (B)乙 (C)丙 (D)丁

34、位於下游的國家擔憂完工後將影響其水資源，因此磋商未能達成共識。

請問這個位於尼羅河下游的國家應該是下列何國？(A)南非(B)剛果(C)埃及(D)奈及利亞

35、尼羅河上游至下游氣候，氣候變化為何？

(A)熱帶莽原→熱帶沙漠 (B)熱帶雨林→溫帶地中海
(C)熱帶沙漠→熱帶雨林 (D)熱帶莽原→熱帶雨林

36、尼羅河水壩的興建可能會造成下列何種負面影響？

(A)尼羅河三角洲日漸退縮 (B)尼羅河下游氾濫次數增加
(C)氣候改變水量蒸發大 (D)沙漠面積減少

37、關於尼羅河沿岸的特色，下列何者正確？

(A)河川注入幾內亞灣，沖積成三角洲 (B)下游沿岸以棉花為主要經濟作物
(C)目前下游居民仍依賴河水氾濫，灌溉農作物 (D)已在出海口興建亞斯文高壩，蓄水發電

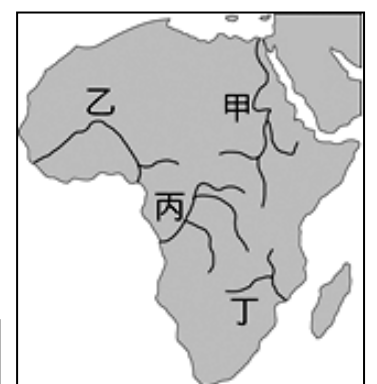


圖 11

【題組】2019-2020 年的澳洲野火蔓延，造成澳洲多處損失。不僅澳洲，南美洲、非洲、印尼近年也歷經嚴重森林大火，英國牛津字典 2019 年選定的年度代表字「climate emergency(氣候緊急狀態)」，正呼應了澳洲及全球正遭遇的極端氣候惡災。請參考圖 12 澳洲氣候圖，回答下列題目。

38、以往每年 12 月份到隔年 2 月，是澳洲袋鼠島 (Kangaroo Island) 的旅遊旺季。袋鼠島賴以維生的觀光產業，也在這波災難中瀕臨破產。請參考袋鼠島的位置，判斷其旅遊旺季氣候狀態為何？

(A)夏季；乾季 (B)夏季；雨季 (C)冬季；乾季 (D)冬季；雨季

39、惡火燒掉袋鼠島 3 分之 1 區域，大量的島上動物——包括袋鼠、無尾熊、長袋鼯，以及各種澳洲特有種的珍貴鳥類、昆蟲、與植物花卉被大火吞噬，可能觸發滅島危機。請問：澳洲多特有種生物的主要原因為何？

(A)地質古老生態較複雜 (B)四面環海與各大陸隔絕
(C)熱帶沙漠面積廣大難以進入 (D)大分水嶺阻隔東西交通

40、大火也吞沒了澳洲阿得雷德山丘 (Adelaide Hills) 的主要農業用地，使該地區三分之一的葡萄酒產業遭到衝擊，請問阿得雷德山丘最可能分布於圖 12 中哪一個氣候區？(A)甲 (B)乙 (C)己 (D)戊

41、澳洲大火被認為是氣候變遷引發極端高溫及植被乾燥易燃所致，因而

使人們更加關注澳洲政府的減碳政策。澳洲是全球最大的煤礦出口國之一，澳洲總理莫里森曾經高調支持煤炭政策，不願將野火與氣候變遷做連結，不願煤礦減產。不只煤礦，澳洲生產數十種礦產，澳洲礦藏豐富，與下列何者關係最密切？(A)地質屬古老的陸塊 (B)地形種類複雜多樣 (C)地層褶曲作用強烈 (D)河川堆積作用旺盛。

42、澳洲對中國有著經濟上的依賴，鐵礦與煤主要輸往中國。總理莫里森也曾批准澳洲最大的乳牛養殖公司出售給中國企業。請問澳洲的酪農帶，多分布於圖 12 中哪個氣候帶中？(A)甲 (B)乙 (C)丁 (D)戊

43、氣候變遷不只造成澳洲大火四起，這幾年的颶風和海水升溫，也使得的澳洲大堡礁的珊瑚遭遇浩劫。若想觀察澳洲大堡礁情況，應前往圖 12 中何處？(A)A (B)B (C)C (D)D

44、2019 年 12 月當澳洲正飽受熱浪與大火肆虐的時候，澳洲總理莫里森總理卻跑到夏威夷去度假，此消息引發了澳洲的批評聲浪。關於夏威夷(參考圖 13)的敘述，下列何者正確？

(A)夏威夷位於南半球，此時正處於夏季
(B)夏威夷位於中緯度，氣候涼爽宜人
(C)夏威夷屬於低矮的珊瑚礁島，具熱帶風情
(D)夏威夷位於玻里尼西亞群島，時間較澳洲晚

45、儘管山林大火在延燒，但擔心影響觀光產業，澳洲雪梨 2019 年底跨年煙火仍如期登場。

雪梨由於地理位置優勢，是全世界第一批迎接新年曙光的國際大城市。由於時差，雪梨跨年煙火比臺北 101 跨年煙火早 2 個小時施放，由此推測雪梨所在的經度最接近下列何者？(A)70°E (B)150°E (C)175°E (D)135°W

46、受林火影響，澳洲多處被煙霾籠罩，首都坎培拉空氣質量一度在全球主要城市中排名墊底，連遠在數千公里外的紐西蘭冰川也不能倖免。紐西蘭法蘭約瑟冰川平常淨白無瑕，受到澳洲煙霾的懸浮微粒污染物影響，被染上了淡淡的茶色。冰河地形的形成條件包括豐富的降雪，請問上述提及的紐西蘭冰川最可能分布於下列何處？

(A)北島東岸 (B)北島西岸 (C)南島東岸 (D)南島西岸

47、呈上題，澳洲的懸浮微粒污染物是透過何者帶到紐西蘭，覆蓋在冰川之上？

(A)西風 (B)東南信風 (C)西北季風 (D)東澳暖流

48、2019 年，不只澳洲，南美洲、非洲雨林區也歷經野火肆虐。請問上述的非洲雨林位於下列哪一個地形區？

(A)撒哈拉盆地 (B)剛果盆地 (C)喀拉哈里盆地 (D)東非裂谷

49、非洲大範圍的野火，被認為是當地農民傳統「刀耕火種」的農耕方式所導致。

關於該區域的傳統農耕形態，下列敘述何者錯誤？

(A)利用機械化耕作 (B)分布在濕潤氣候區
(C)經常遷移耕作地點 (D)藉由焚燒森林以取得土地利用

50、呈上題，上述區域大部分民眾都使用木材來燒火煮飯，或是以火燒田的節省方式開墾。對此，建議改善當地供電與用電狀況，發展具有極大潛力的水力發電，以免境內熱帶雨林，面臨砍伐、燒毀的人為威脅。請問，該處可利用圖 14 哪一條河川發展水力發電？

(A)甲 (B)乙 (C)丙 (D)丁

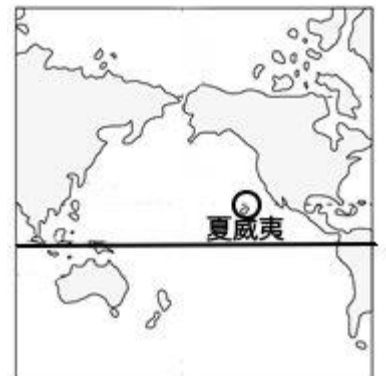
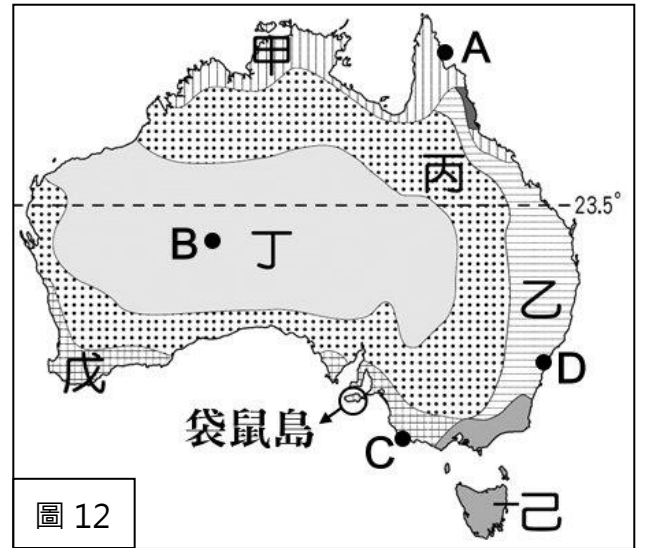


圖 13

圖 14

