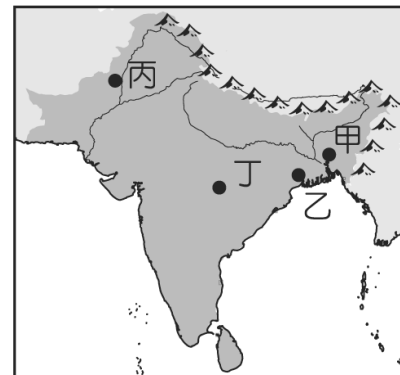


桃園市立大有國民中學 108 學年度第二學期第二次評量試卷

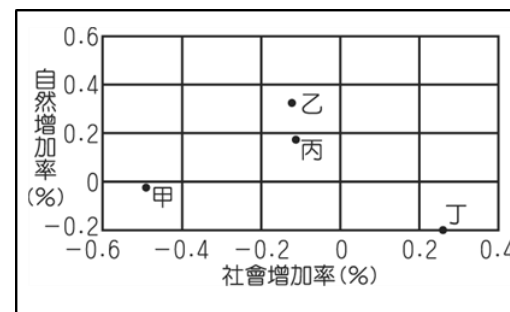
年級	九	考試科目	地 理			命題範圍	會考範圍	作答時間	45 分
班級		姓名		座號		分數			

一、單選題(50 題，一題 2 分，共 100 分)

1. 全球暖化產生了海平面上升、氣候異常、生物棲息地改變等負面影響，但位在中高緯度的國家，卻可能因氣溫上升讓一些原本不利於人居、不適合農牧業發展的地方得以開發而得利。請問下列哪一國家最可能是上述全球暖化的受益國？ (A)中國 (B)印尼 (C)墨西哥 (D)俄羅斯。
2. 水資源短缺已成為全球性的環境問題，人口眾多的南亞諸國水資源不足的狀況更是嚴重。請問：圖中哪一地區最容易出現乾旱缺水的情況？ (A)甲 (B)乙 (C)丙 (D)丁
3. 2018 年 3 月某火力發電廠環評修正通過，因改建計畫包括在鄰近的岬角興建卸煤專用碼頭，被認為將影響當地生態，加上電廠重啟後因冬季盛行風可能連帶造成周邊空氣品質惡化，目前改建工程尚未動工。由以上敘述判斷，此電廠應位於臺灣何處？ (A)北部 (B)中部 (C)南部 (D)東部。

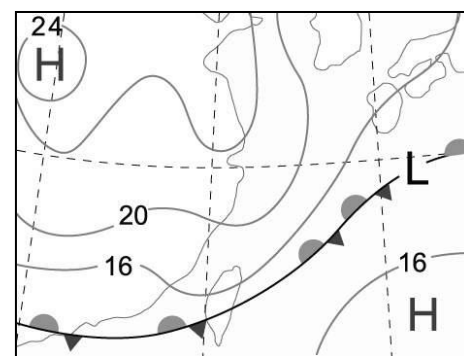


4. 全球化的發展趨勢下，跨國勞工的移動較過去普遍，由右圖的資料判斷，哪一國家最可能是外籍勞工主要的移入國？ (A)甲 (B)乙 (C)丙 (D)丁。
5. 由下列島嶼與其形成原因的配對判斷，何者受全球暖化的影響，國土被淹沒的可能性最大？ (A)臺灣--板塊擠壓 (B)夏威夷--火山島 (C)吉里巴斯--珊瑚礁島 (D)塔斯馬尼亞島--大陸島。



6. 對蹠點為球面上任一點與球心的連線，會交球面於另一點，亦即位於球體直徑兩端的點，這兩點互稱為對蹠點。也就是說，從地球上的某一地點向地心出發，穿過地心後所抵達的另一端，就是該地點的對蹠點。依此定義台灣的對蹠點應該在下列哪一地區？ (A)北美洲 (B)南美洲 (C)澳洲 (D)歐洲。
7. 日本(135°E)明仁天皇因年事已高且健康不佳因此決定退位，於 2019 年 4 月 30 日下午 5 點進行退位儀式，請問若臺灣的新聞台進行現場直播，新聞播放時應是臺灣時間幾點？ (A)下午 4 點 (B)下午 5 點 (C)下午 6 點 (D)晚間 7 點。

8. 附圖為臺灣某日的地面天氣圖，氣象播報員會如何說明此幅天氣圖？(A)臺灣因受颱風影響，所以多強風大雨 (B)臺灣上空晴朗無雲，是一個陽光普照的好天氣 (C)臺灣上午炎熱高溫，下午則出現雷陣雨 (D)臺灣因受滯留鋒面影響，會出現連續降雨。
9. 網路上流傳著調侃記者的一句話「小時候不讀書，長大當記者」，意為新聞報導有時未經查證而出現背離事實的狀況，請問下列新聞標題何者有誤？ (A)火燒巴黎聖母院，百人群聚多瑙河畔關心 (B)雅加達未來恐沉沒！印尼決定遷都 (C)非洲剛果再爆伊波拉病毒 (D)英國脫歐再拖，歐盟同意延期



10. 1990 到 2008 年期間，北韓在「全球飢餓指數」惡化的排名中位居第二。造成北韓糧產不足，常有饑荒的問題，除了政治制度的影響外，與下列何項自然因素關係最密切？(A)颱風侵襲次數多 (B)生長季短、平原少 (C)火山活動與地震頻繁 (D)年雨量少於 500 毫米。
11. 附表是八國隊伍依照「洲別」分組比賽的賽程，勝出者可取得代表該洲參加足球賽的資格。表中哪一組的勝出者可代表南美洲參賽？ (A)甲 (B)乙 (C)丙 (D)丁。

組別	賽程
甲	法國 vs. 德國
乙	賴比瑞亞 vs. 奈及利亞
丙	巴西 vs. 阿根廷
丁	沙烏地阿拉伯 vs. 伊朗

12. 「這條線對我而言，已經不是遙不可及的抽象概念，而是一條真真切切踩在我腳底下的疆界.....，好像越過了這一條線後，連太陽也可以放肆地占有二十四個小時，不留給黑夜任何一秒鐘。」根據上文的描述來推測，「這條線」最可能是下列何者？ (A)赤道 (B)北極圈 (C)南回歸線 (D)本初子午線。

【題組】台塑集團創辦人王永慶先生，有台灣經營之神的稱號，出身為貧窮茶農之子，曾登上台灣首富寶座，創業之路充滿傳奇，請依據下方附圖回答下列問題。

13. 王永慶年輕時就當上了米店老闆，跟碾米工廠進米，再賣給一般消費者，請問此過程是何種商業行為？

- (A)批發 (B)量販 (C)零售 (D)批發兼零售

14. 王永慶在光復之初興建碾米工廠，每天需辛苦的將稻田採收的大量稻穗集中運到工廠，取出稻穀，脫殼，最後剩下米粒，請問碾米工廠設置最需考慮何種工業區位條件？(A)交通 (B)原料 (C)勞力 (D)市場

15. 他後來轉行經營木材生意，不惜進嘉義山區盜伐珍貴林木銷往日本，需仰賴哪條支線鐵路線運送珍貴的木材？

- (A)集集線 (B)平溪線 (C)阿里山鐵路 (D)內灣線

16. 他抓緊了 50 年代政府的政策，投資塑膠工廠，進口塑膠粒、塑膠粉等原料加工成塑膠產品，請問針對此工廠的描述何者錯誤？

- (A)配合政府「出口導向」的工業政策 (B)屬於重工業類型 (C)在加工出口區成立廠房 (D)需要大量的勞力

17. 民國 70 年台灣工業開始轉型，王永慶看準了趨勢進軍電子產業，此時期工業轉型主要的原因不包括何者？(A)環保意識高漲 (B)台灣與美國斷交，退出聯合國 (C)電子產業具有高附加價值 (D)勞工薪資上漲

18. 承上題，王永慶想進入號稱「台灣矽谷」的科學園區設廠，請問位於附圖中何處？

- (A)甲 (B)丙 (C)戊 (D)己

19. 民國 80 年成立的六輕離島式基礎工業區把台塑集團推到了巔峰，為了滿足此工業區的用水需求，將其上游濁水溪攔河堰的水源進行調配。請問這個工業區位於附圖中何處？

- (A)乙 (B)丙 (C)丁 (D)己

20. 承上題，包含六輕工業區，台灣石化工業區的設置選址，最需考量何種區位條件？

- (A)勞力 (B)市場 (C)原料 (D)交通



【題組】英國 BBC 規劃一個非洲的系列專題報導，派遣記者盧卡斯(Lucas)到非洲採訪。

21. 出任務之前盧卡斯蒐集了非洲許多的資料，歸納整理後，發現非洲有許多世界之冠，請問針對非洲的描述何者有誤？(A)世界國家數最多的大洲 (B)人口成長率最高的大洲 (C)人口總數最多的大洲 (D)世界平均壽命最低的大洲

22. 許多非洲國家曾經淪為英國殖民地，獨立之後仍與英國保持良好關係並加入大英國協的組織，盧卡斯上網找到了大英國協成員國的地圖(右圖深色圖示的國家)，請問下列哪個國家屬大英國協會員國？(A)馬達加斯加 (B)埃及 (C)剛果 (D)南非

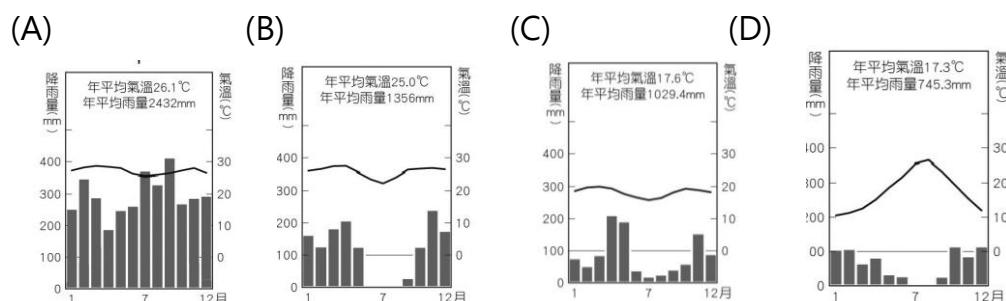
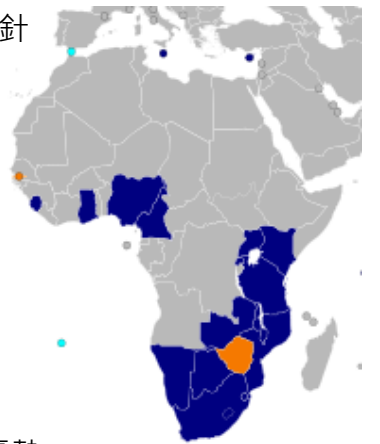
23. 他的第一站是南非，針對這個國家的報導，請問哪個主題較不適宜：

- (A)金礦山背後的娃娃礦工 (B)民主之父—曼德拉 (C)死亡的兇手-愛滋病 (D)尋訪熱帶雨林

24. 2011年金磚四國加入了第五國南非，擠身為全球主要新興工業國家，近年因為自然條件的優勢，開始發展的再生能源，有望成為南非的明日之星產業，文中提到的產業發展條件何者正確？

- (A)南非氣候多屬乾燥與地中海氣候，可發展太陽能發電 (B)終年西風吹拂，可發展風力發電 (C)位於板塊交界，地勢落差大，適合水力發電 (D)火山活動頻繁，可發展地熱發電

25. 離開南非後他想要拍攝非洲最壯觀的動物大遷徙，許多野生動物，如長頸鹿、豹、大象等生活在東非大草原，隨處可見高草原、疏林的景觀，請問當地氣候是哪個氣候圖？



【題組】在中國大陸發展的台商深耕多年，闖出了一番事業，請根據三大經濟帶地圖回答下列問題：

26.頂新企業以食品起家，康師傅泡麵是最成功的商品，看準了當地的飲食習慣與原料產地，就地設置工廠生產泡麵，且位在消費人口眾多的直轄市，因此迅速打開消費市場，請問頂新企業最可能選擇哪個工業集中地帶設廠呢？
(A)ㄅ (B)ㄆ (C)ㄇ (D)ㄎ

27.鴻海企業成為世界最大的電子代工集團，投資涵蓋了整個中國，尤其在深圳的生產基地創造了可觀的產能，以下有關「深圳」的敘述何者有誤？
(A)是中國於2000年後成立的加工出口區 (B)位於靠海的ㄎ區，吸引國外資金、技術 (C)鄰近香港較易吸引外資 (D)勞力充足且廉價

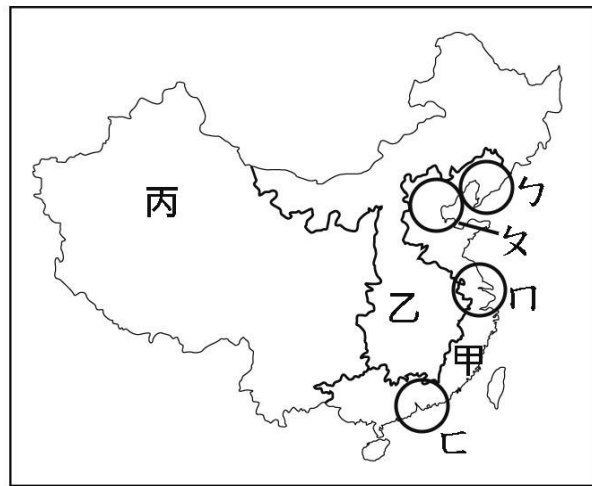
28.位於圖中「甲」的經濟帶吸引了許多台商搶進，其有何重要的發展條件？
(A)工資全國最低廉 (B)礦產能源充足 (C)水陸運交通便利 (D)鄰國眾多

29.統一企業在大陸的第一個工廠，考量當地特有氣候條件，日夜溫差大，水質來自純淨雪水，適合生產番茄汁，且在邊境貿易上具有潛力，加上2010年此地成為經濟特區，請問這個工廠位於圖中哪個經濟帶內？ (A)甲 (B)乙 (C)丙。

30.中國政府近年推動西部大開發的政策，如果你是一位想要到西部發展的台商，下列哪種產業具有投資的潛力呢？
(甲)太陽能產業 (乙)博弈產業 (丙)風力發電產業 (丁)石化產業 (戊)高科技研發中心。
(A)甲乙丙 (B)甲丙丁 (C)乙丙戊 (D)丙丁戊。

31.近日中國連接「哈爾濱」到「上海」的「哈滬高鐵」正式通車，大幅縮短往返兩地的時間，串連多個工業地帶，更加促進此區的工商業發展，請問搭乘此路線由北到南會經過哪三個工業帶？ (A)遼中南→長三角→珠三角 (B)京津唐→遼中南→長三角 (C)京津唐→長三角→珠三角 (D)遼中南→京津唐→長三角

32.過去在中國發展的台商近年逐漸將工廠遷回台灣或是轉移到東南亞，請問最主要的原因為何？
(A)工資上漲，當地勞力不再廉價 (B)移轉到技術較高的地區 (C)這些地區資金較充裕 (D)這些地區市場較大



【題組】聯合國難民署發布報告，指出在近年共有 348,000 名難民透過海路逃離家園。其中，有超過 200,000 人經由地中海逃往歐洲，突然湧入的難民成為歐盟會議中討論的議題。請根據右方地圖回答下列問題

33.歐洲是難民嚮往的樂土，若由西亞越過地中海前往歐洲的主要半島，何者路程最短？
(A)巴爾幹半島 (B)義大利半島 (C)伊比利半島 (D)斯堪地那維亞半島

34.Google 公司統計最近敘利亞人的搜尋關鍵字，大多都是「怎麼到達西歐」、「移民到西歐」，請問與歐洲其他區域相比，關於「西歐」的描述何者有誤？ (A)經濟發展程度最高 (B)人口密度最高 (C)地形起伏平坦 (D)勞力最低廉

35.歐盟決定召集各成員國代表開會協商難民問題，請問下列何國不是歐盟會員國？
(A)捷克 (B)土耳其 (C)比利時 (D)希臘

36.最近一次歐盟會議中將投票表決是否制定各國收容難民人數的配額，由國家的財政狀況、人口數、以及意願，來分配難民人數，由此可見歐盟面對難民的事務發揮了何種功能？ (A)完全交給各國政府決定難民生死 (B)無視難民存在，不管難民的死活 (C)以民主的方式制定統一的政策 (D)政策都由少數強國決定

37.承上題，歐盟內部還是有反對難民配額計劃的國家，這些國家較晚加入歐盟，國內的經濟不穩定，且本國勞力工資低廉，缺乏工作機會，人力流往他國，再加上難民湧入使得他們經濟更雪上加霜。上述可能是歐洲哪一個區域的國家？ (A)甲 (B)乙 (C)丙 (D)丁

38.在歐洲逃難的路途上，因西亞難民多為伊斯蘭教徒，需要遵守伊斯蘭戒律，請問下列行為何者符合教義？
(A)往西南方的聖地朝拜五次 (B)在市集吃豬肉喝葡萄酒 (C)每天抱著聖經默念 (D)齋戒月時日落開始進食

39.德國主動伸出援手，願意接收最大的難民數量，主因是來自國內人口的問題，請問主要原因可能是下列何者？
(A)出生率偏低 (B)死亡率上升 (C)扶養比下降 (D)性別比失衡

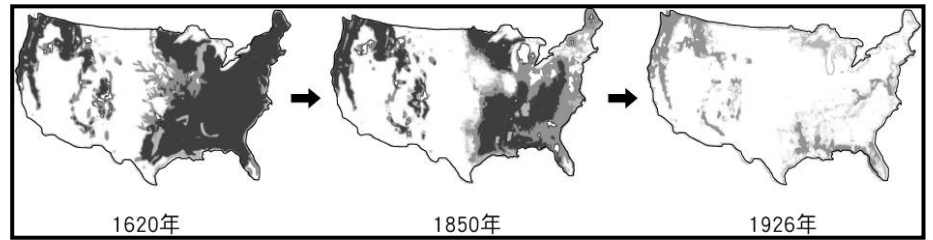
40.若難民在「德國」得到難民庇護許可，可以得到暫時的居留證，在新的土地展開新生活，請問他可能的生活情景如下，何者有誤？ (A)買賣交易以歐元作為貨幣 (B)到簽署申根公約的國家旅遊免簽證 (C)購買進口的產品免除關稅 (D)可以隨意定居任一歐盟國家



41.目前歐盟的單一市場目標已經達成整合，強大的經濟實力也受到全球的肯定，但是在各會員國之間還存在哪個大問題？ (A)區域發展不均衡 (B)政治體制的不同 (C)水源爭奪問題 (D)宗教紛爭不斷

【題組】校內舉辦「認識美國」的展覽活動，小亞經過走廊時看到一幅海報，海報上的插圖如圖所示，插圖下方有一串文字：歐洲人到達之後，由於土地的開墾，使圖中黑點所代表的地理景觀不斷地減少。請回答下列問題：

42. 該幅海報上用黑點來呈現美國地理景觀變遷的地圖，是一種常用的地圖形式。下列何者最可能使用此種形式來加以呈現？ (A)中國地形圖 (B)美國行政區圖 (C)非洲氣候分布圖 (D)臺灣人口分布圖。



43. 圖中黑點分布的變化應是指何種地理景觀的變遷？ (A)小麥種植區 (B)棉花種植區 (C)原始森林區 (D)聚落分布區。

44. 由圖中地理景觀的變遷可知，歐洲移民在上述地區的開發方向主要為下列何者？ (A)由東部到西部 (B)由西北到東南 (C)由內陸向沿海 (D)由低緯到高緯。

【題組】英國生物學家達爾文乘著小獵犬號橫渡太平洋，請根據地圖中的航行路線回答下列問題

45.請問達爾文的路線經過大洋洲中的哪個島群呢？(A)玻里尼西亞 (B)印度尼西亞 (C)美拉尼西亞 (D)密克羅尼西亞

46.航行途中經過了「大溪地」島群(圖中 1 處)，是個位於東太平洋上的火山島，請問可能會看到甚麼景象？(A)當地降雨少，缺乏淡水 (B)島上山脈聳立，地勢崎嶇 (C)土壤層薄，農業發展受限 (D)漁業為主要產業

47.他抵達了紐西蘭「北島」(圖中 2 處)，請問他無法在此地看到哪個景象？(A)降雨量多，全年有雨 (B)火山、地熱發達 (C)壯觀的冰河與峽灣地形(D) 歐洲的英式建築

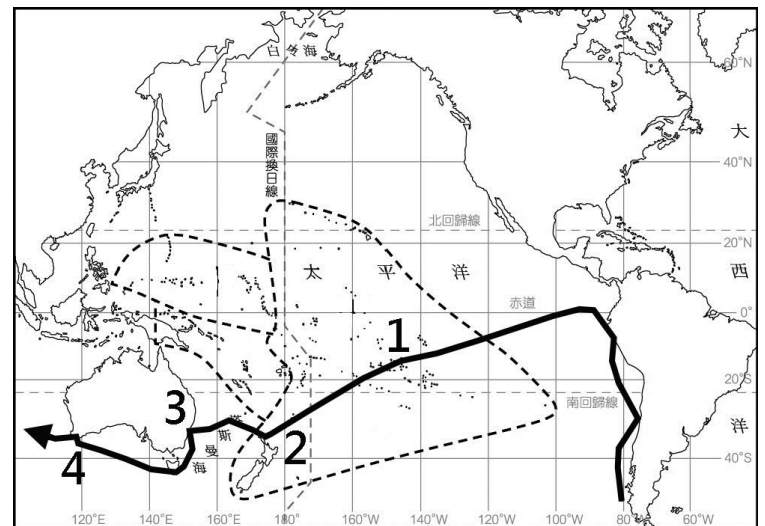
48.他抵達了澳洲的大城「雪梨」(圖中 3 處)，請問當地的氣候類型為下列何者？(A)熱帶莽原氣候 (B)溫帶地中海型氣候 (C)夏雨型暖溫帶氣候 (D)溫帶海洋性氣候

49.他在澳洲最後一站停靠在西南角(圖中 4 處)，當地的氣候類型為下列何者？

(A)熱帶沙漠 (B)溫帶地中海型氣候 (C)夏雨型暖溫帶氣候 (D)溫帶海洋性氣候

50.他在澳洲考察生物時發現了許多其他大陸沒有的特別的物種，如鴨嘴獸、袋鼠，請問澳洲特有種多的原因為何？

(A)生物演化迅速 (B)地形氣候多樣 (C)古老陸塊 (D)長期地理隔絕



【The End，不要忘了最後檢查，最後一關會考加油！！】